



امتحان الصف الخامس الأساسي

للعام الدراسي ١٤٣٦/١٤٣٧هـ – ٢٠١٥/٢٠١٦ م

الفصل الدراسي الثاني – الدور الثاني

* عدد الصفحات : (٤) ورقات

● المادة : الدراسات الاجتماعية

* الإجابة في الورقة نفسها

● زمن الإجابة : ساعة ونصف

		اسم الطالب
الشعبة		المدرسة

(التوقيع بالاسم)		الدرجة بالحروف (بالأحمر)	الدرجة بالأرقام بالأحمر	السؤال
المدقق (بالأخضر)	المصحح (بالأحمر)			
				١
				٢
				٣
				٤
				٥
	مراجعة الجمع والتشطيب (بالأزرق)	جمعه (بالأحمر)		المجموع الكلي

يعتمد ،،،

المعلم الأول

امتحان نهاية الفصل الدراسي الثاني- الدور الثاني - العام الدراسي (٢٠١٦/٢٠١٥)

مادة : الدراسات الاجتماعية

الدرجة الكلية : ٤٠ درجة

الزمن : ساعة ونصف

الصف : الخامس الأساسي

* الاختبار في (٤) والإجابة في نفس الورقة

أجب عن جميع الأسئلة الآتية:

[١٦ درجة]

السؤال الأول: اختر الحرف الدال على الإجابة الصحيحة من بين البدائل المعطاة:



١- المدينة التي يوجد بها المسجد في الصورة التي أمامك:
أ- واسط
ب- الرملة

ج- القيروان
د- دمشق

٢- المصدر الرئيسي للمياه في الوطن العربي :
أ- العيون
ب- الأنهار
ج- الآبار
د- الأمطار

د- الأمطار

ج- الآبار

٣- ديوان يختص بتدقيق الحسابات المالية لكافة دوائر الدولة:
أ- المظالم
ب- الجند
ج- الزكاة
د- الزمام

د- الزمام

ج- الزكاة

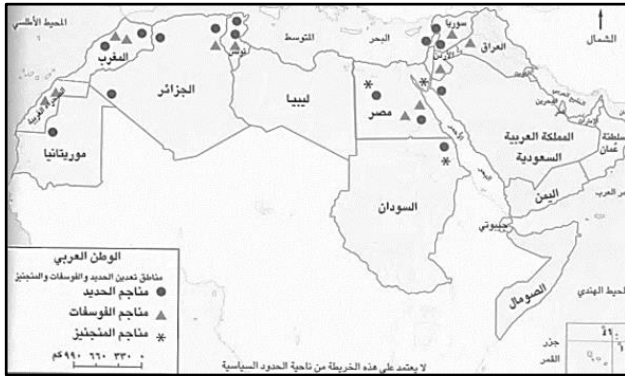
٤- من العوامل البشرية المؤثرة في توزيع السكان:
أ- الحرفة السائدة
ب- المناخ
ج- أشكال السطح
د- التربة

د- التربة

ج- أشكال السطح

٥- من خلال الخريطة المقابلة الدولة المنتجة للحديد:
أ- اليمن
ب- مصر

ج- العراق
د- الصومال



٦- أحد خلفاء العصر العباسي الأول:

د- المستعين

ج- المنتصر


ب- المتوكل

أ- عبدالله المأمون

٧- يقصد به زيادة عدد السكان من سنة إلى أخرى بسبب الزيادة الطبيعية والهجرة:
أ- التعداد السكاني
ب- الانفجار السكاني
ج- النمو السكاني
د- التوزيع السكاني

د- التوزيع السكاني

٨- توضح الصورة التي أمامك إحدى مظاهر العمل الاجتماعي في حياة العمانيين:



ب - العرس العماني

أ- الجداد

د- التعاون

ج- السبلة العمانية

[٨ درجات]

السؤال الثاني : أجب عن الأسئلة الآتية:

(أ) اعط تعريفاً لكل مما يلي :

١- المنطقة النائية :

٢- التكافل الاجتماعي:

(ب) علل ما يلي:

١- ازدهار التجارة في العصر العباسي.

٢- اتخاذ معاوية بن أبي سفيان دمشق عاصمة للدولة الأموية.

(ج) صنف مصادر الطاقة التالية في الجدول أدناه :-

(النفط – الرياح – الفحم – المد والجزر)

الطاقة غير المتجددة	الطاقة المتجددة
_____	_____
_____	_____

(د) أكمل الآتي:

جملة عدد السكان في منطقة ما (نسمة)

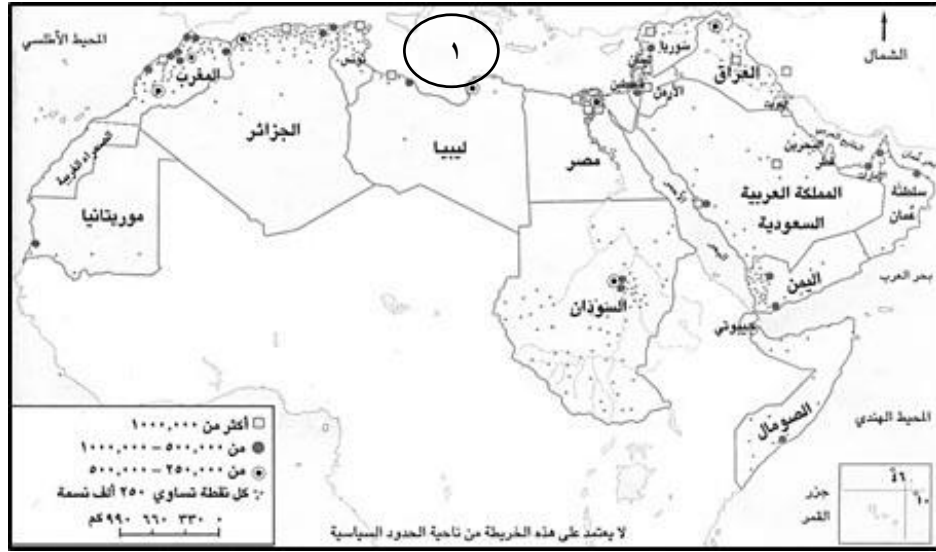
(١) الكثافة السكانية = _____

(٢) قائل العبارة التالية: " والله يا رب لولا هذا البحر لمضيت مجاهداً في سبيلك" _____

[٨ درجات]

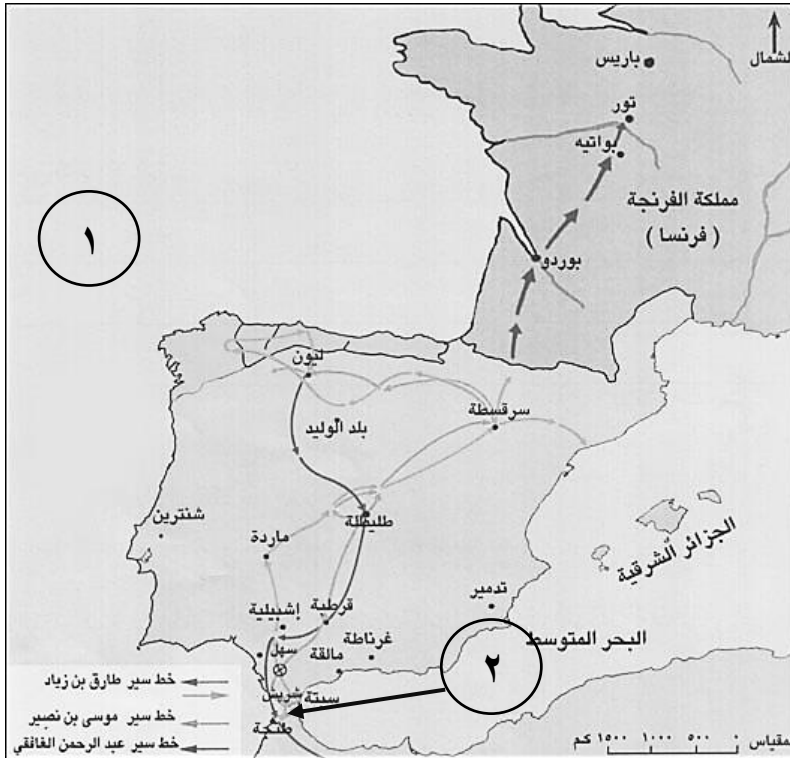
السؤال الثالث: أجب عن الأسئلة التالية :

(أ) انظر إلى الخريطة التي أمامك ثم أجب عن الأسئلة التي تليها:



- ١- يشير الرمز □ في الخريطة على أن عدد السكان أكثر من _____ نسمة.
- ٢- يتركز سكان سلطنة عمان في (سهل الباطنة / الربع الخالي) (اختر الاجابة).
- ٣- ضع دائرة حول اسم إحدى الدول العربية التي يتركز سكانها على ضفاف الانهار.
- ٤- ما اسم البحر المشار إليه بالرقم (١).

(ب) انظر إلى الخريطة التي أمامك ثم أجب عن الأسئلة التي تليها :



١- أكتب ما تشير إليه الأرقام الآتية:

(١) المحيط _____

(٢) المضيق _____

٢- استخرج من الخريطة ما يأتي:

(أ) اسم أحد القادة الذين قاموا بالفتوحات في الأندلس _____

(ب) الدولة التي عرفت قديماً ببلاد الفرنجة _____

٨

[٨ درجات]

السؤال الرابع : أجب عن الأسئلة التالية :

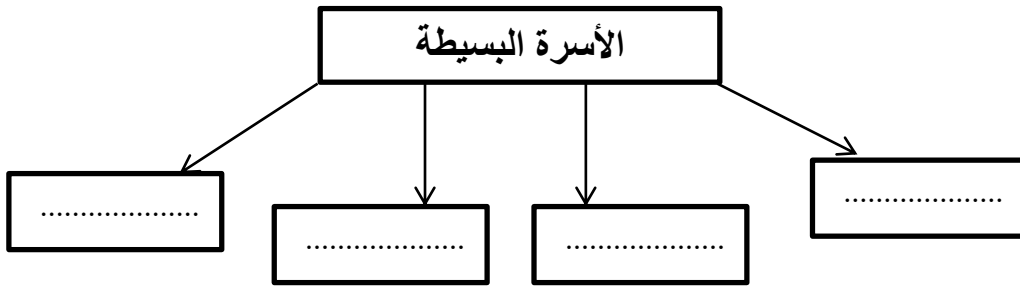
(أ) اقرأ النص التالي قراءة جيدة ثم أجب عن الأسئلة التي تليه:-

،، واجهت الخلافة في دمشق صعوبات في إدارة الدولة، نتيجة اتساع مساحتها، وتعدد شعوبها، وصعوبة الاتصال والمواصلات بين أجزائها، بالإضافة إلى تزايد معارضة الحكم الأموي من العلويين والعباسيين”.

١- ما الدولة الإسلامية التي يشير إليها النص؟ _____

٢- اذكر إحدى الصعوبات التي أدت إلى سقوط هذه الدولة .

(ب) اكتب مثلاً على الأسرة البسيطة في الشكل أدناه:



(ج) اذكر اثنين مما يلي:

١- الخدمات الاجتماعية التي تقدمها وزارة التنمية الاجتماعية للمواطنين بطريق الدعم المالي.

- _____
- _____

١) المقومات السياحية في سلطنة عمان.

- _____
- _____

انتهت الأسئلة مع تمنياتنا لكم بالتوفيق والنجاح



امتحان الصف الخامس الأساسي

للعام الدراسي ١٤٣٦/١٤٣٧هـ – ٢٠١٥/٢٠١٦ م

الفصل الدراسي الثاني – الدور الثاني

* عدد الصفحات : (٤) ورقات

● المادة : الدراسات الاجتماعية

* الإجابة في الورقة نفسها

● زمن الإجابة : ساعة ونصف

اسم الطالب	
المدرسة	الشعبة

(التوقيع بالاسم)		الدرجة بالحروف (بالأحمر)	الدرجة بالأرقام بالأحمر	السؤال
المدقق (بالأخضر)	المصحح (بالأحمر)			
				١
				٢
				٣
				٤
				٥
	مراجعة الجمع والتشطيب (بالأزرق)	جمعه (بالأحمر)		المجموع الكلي

يعتمد ،،،

المعلم الأول

امتحان نهاية الفصل الدراسي الثاني- الدور الثاني - العام الدراسي (٢٠١٦/٢٠١٥)

مادة : الدراسات الاجتماعية

الدرجة الكلية : ٤٠ درجة

الزمن : ساعة ونصف

الصف : الخامس الأساسي

* الاختبار في (٤) والإجابة في نفس الورقة

أجب عن جميع الأسئلة الآتية:

[١٦ درجة]

السؤال الأول: اختر الحرف الدال على الإجابة الصحيحة من بين البدائل المعطاة:



١- المدينة التي يوجد بها المسجد في الصورة التي أمامك:
أ- واسط
ب- الرملة

ج- القيروان
د- دمشق

٢- المصدر الرئيسي للمياه في الوطن العربي :
أ- العيون
ب- الأنهار
ج- الآبار
د- الأمطار

د- الأمطار

ج- الآبار

٣- ديوان يختص بتدقيق الحسابات المالية لكافة دوائر الدولة:
أ- المظالم
ب- الجند
ج- الزكاة
د- الزمام

د- الزمام

ج- الزكاة

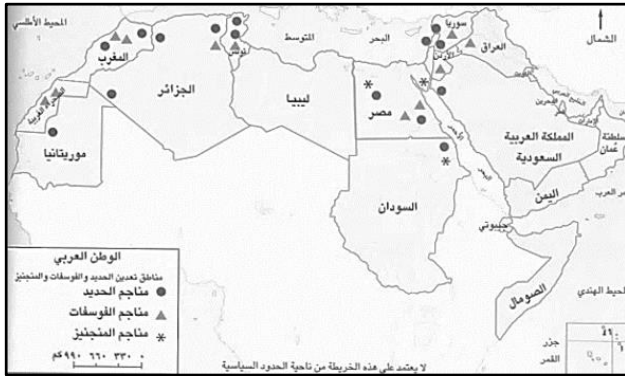
٤- من العوامل البشرية المؤثرة في توزيع السكان:
أ- الحرفة السائدة
ب- المناخ
ج- أشكال السطح
د- التربة

د- التربة

ج- أشكال السطح

٥- من خلال الخريطة المقابلة الدولة المنتجة للحديد:
أ- اليمن
ب- مصر

ج- العراق
د- الصومال



٦- أحد خلفاء العصر العباسي الأول:

د- المستعين

ج- المنتصر


ب- المتوكل

أ- عبدالله المأمون

٧- يقصد به زيادة عدد السكان من سنة إلى أخرى بسبب الزيادة الطبيعية والهجرة:
أ- التعداد السكاني
ب- الانفجار السكاني
ج- النمو السكاني
د- التوزيع السكاني

د- التوزيع السكاني

٨- توضح الصورة التي أمامك إحدى مظاهر العمل الاجتماعي في حياة العمانيين:



ب - العرس العماني

أ- الجداد

د- التعاون

ج- السبلة العمانية

[٨ درجات]

السؤال الثاني : أجب عن الأسئلة الآتية:

(أ) اعط تعريفاً لكل مما يلي :

١- المنطقة النائية :

٢- التكافل الاجتماعي:

(ب) علل ما يلي:

١- ازدهار التجارة في العصر العباسي.

٢- اتخاذ معاوية بن أبي سفيان دمشق عاصمة للدولة الأموية.

(ج) صنف مصادر الطاقة التالية في الجدول أدناه :-

(النفط – الرياح – الفحم – المد والجزر)

الطاقة غير المتجددة	الطاقة المتجددة
_____	_____
_____	_____

(د) أكمل الآتي:

جملة عدد السكان في منطقة ما (نسمة)

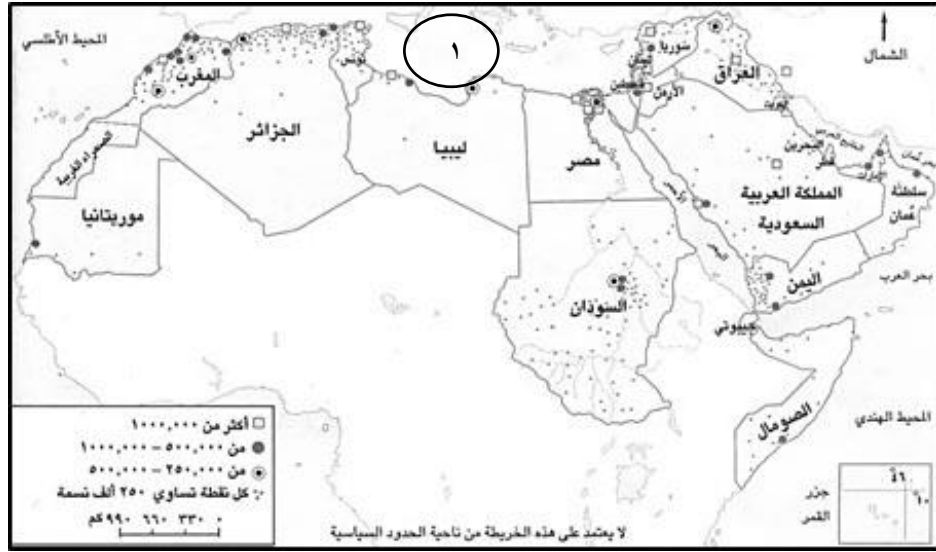
١) الكثافة السكانية = _____

٢) قائل العبارة التالية: " والله يا رب لولا هذا البحر لمضيت مجاهداً في سبيلك" _____

[٨ درجات]

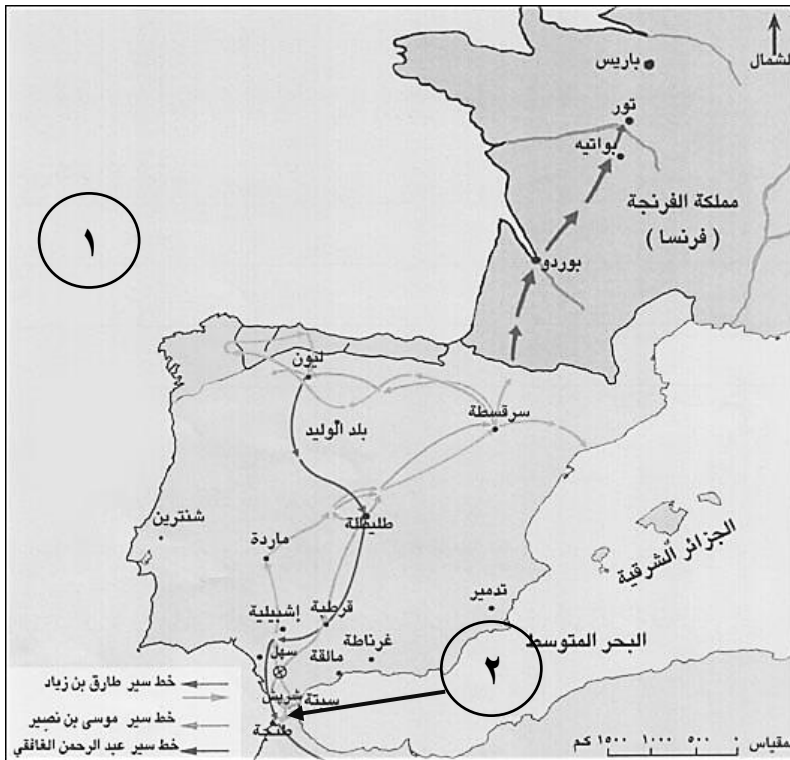
السؤال الثالث: أجب عن الأسئلة التالية :

(أ) انظر إلى الخريطة التي أمامك ثم أجب عن الأسئلة التي تليها:



- ١- يشير الرمز □ في الخريطة على أن عدد السكان أكثر من _____ نسمة.
- ٢- يتركز سكان سلطنة عمان في (سهل الباطنة / الربع الخالي) (اختر الاجابة).
- ٣- ضع دائرة حول اسم إحدى الدول العربية التي يتركز سكانها على ضفاف الانهار.
- ٤- ما اسم البحر المشار إليه بالرقم (١).

(ب) انظر إلى الخريطة التي أمامك ثم أجب عن الأسئلة التي تليها :



١- أكتب ما تشير إليه الأرقام الآتية:

(١) المحيط _____

(٢) المضيق _____

٢- استخرج من الخريطة ما يأتي:

(أ) اسم أحد القادة الذين قاموا بالفتوحات في الأندلس _____

(ب) الدولة التي عرفت قديماً ببلاد الفرنجة _____

٨

[٨ درجات]

السؤال الرابع : أجب عن الأسئلة التالية :

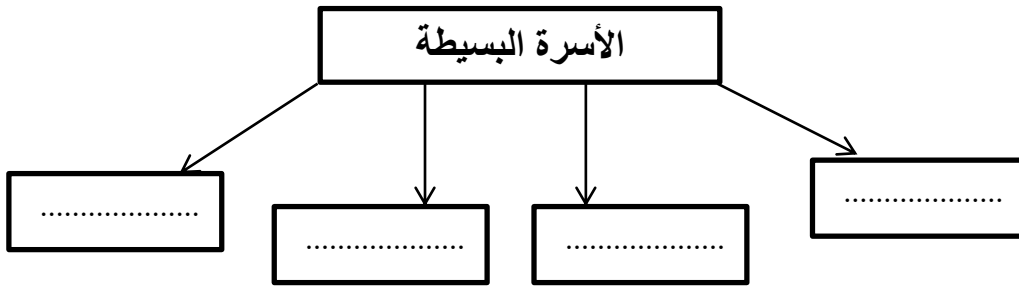
(أ) اقرأ النص التالي قراءة جيدة ثم أجب عن الأسئلة التي تليه:-

،، واجهت الخلافة في دمشق صعوبات في إدارة الدولة، نتيجة اتساع مساحتها، وتعدد شعوبها، وصعوبة الاتصال والمواصلات بين أجزائها، بالإضافة إلى تزايد معارضة الحكم الأموي من العلويين والعباسيين ”.

١- ما الدولة الإسلامية التي يشير إليها النص؟ _____

٢- اذكر إحدى الصعوبات التي أدت إلى سقوط هذه الدولة .

(ب) اكتب مثلاً على الأسرة البسيطة في الشكل أدناه:



(ج) اذكر اثنين مما يلي:

١- الخدمات الاجتماعية التي تقدمها وزارة التنمية الاجتماعية للمواطنين بطريق الدعم المالي.

- _____
- _____

١) المقومات السياحية في سلطنة عمان.

- _____
- _____

انتهت الأسئلة مع تمنياتنا لكم بالتوفيق والنجاح