

امتحان نهاية الفصل الدراسي الأول- الدور الثاني- العام الدراسي (٢٠١٥/٢٠١٦)

مادة : الدراسات الاجتماعية

الدرجة الكلية : ٤٠ درجة

الزمن : ساعة ونصف

الصف : الخامس الأساسي

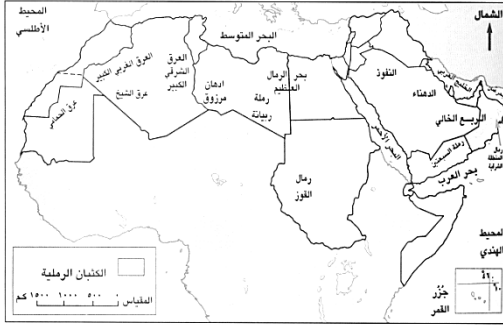
* الاختبار في (٤) ورقات والإجابة في نفس الورقة

أجب عن جميع الأسئلة الآتية:

[١٦ درجة]

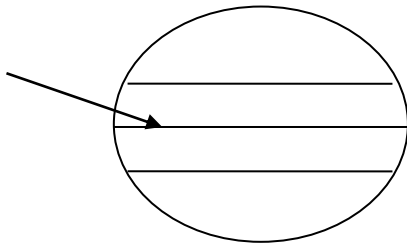
السؤال الأول: اختر الحرف الدال على الإجابة الصحيحة من بين البدائل المعطاة :

- ١- أصغر دولة في الوطن العربي مساحةً:
أ- تونس ب- مصر ج- البحرين د- الإمارات
- ٢- وقعت غزوة بدر في السنة الهجرية:
أ- الثانية ب- الثالثة ج- الرابعة د- الخامسة
- ٣- النشاط الاقتصادي الأكثر ممارسة في السهول الساحلية:
أ- الصناعة ب- الزراعة ج- الرعي د- السياحة



- ٤- من خلال الخريطة التي أمامك تقع رمال القوز في:-
أ- سلطنة عمان ب- الجزائر ج- السعودية د- السودان

- ٥- تحديد ما يؤخذ على الأراضي الزراعية من مهام ديوان :
أ- الجند ب- البريد ج- الخراج د- المظالم



- ٦- تعرف الدائرة المشار إليها بالسهم في الشكل الذي أمامك :
أ- الاستواء ب- الجدي ج- السرطان د- القطب الشمالي

- ٧- يطلق على المجاري المائية مؤقتة الجريان:
أ- الأنهار ب- البحيرات ج- العيون د- الأودية

٨- يظهر المناخ الموسمي بسلطنة عمان في محافظة:

- أ- الظاهرة ب- الشرقية ج- ظفار د- مسقط

[٨ درجات]

السؤال الثاني : أجب عن الأسئلة الآتية :

أولاً:

أ- عرف المفاهيم الآتية :
(١) الهضبة:

(٢) التربة:

ب- علل ما يلي:

(١) تصعب ممارسة الزراعة باستخدام الآلات الزراعية في المناطق الجبلية.

(٢) سميت غزوة الخندق بغزوة الأحزاب.

ثانياً: صنف السهول الآتية في الجدول أدناه:-


(سهل الباطنة – دلتا الرافدين – دلتا النيل – سهل تهامة)

السهول الرسوبية	السهول الساحلية

ثالثاً: أرسم الكثبان الهلالية والكثبان الطولية.



الكثبان الطولية

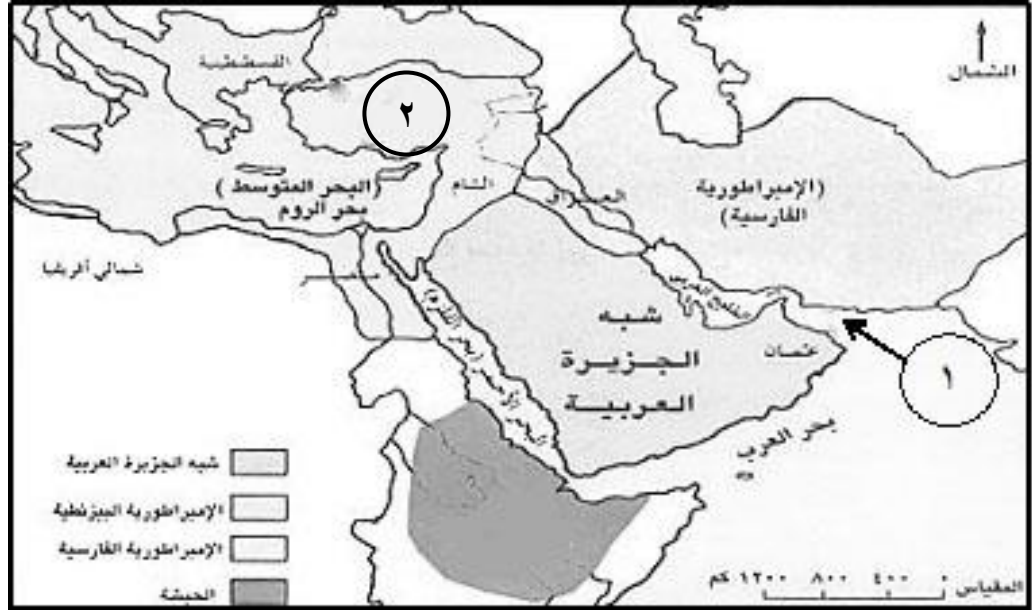


الكثبان الهلالية

[٨ درجات]

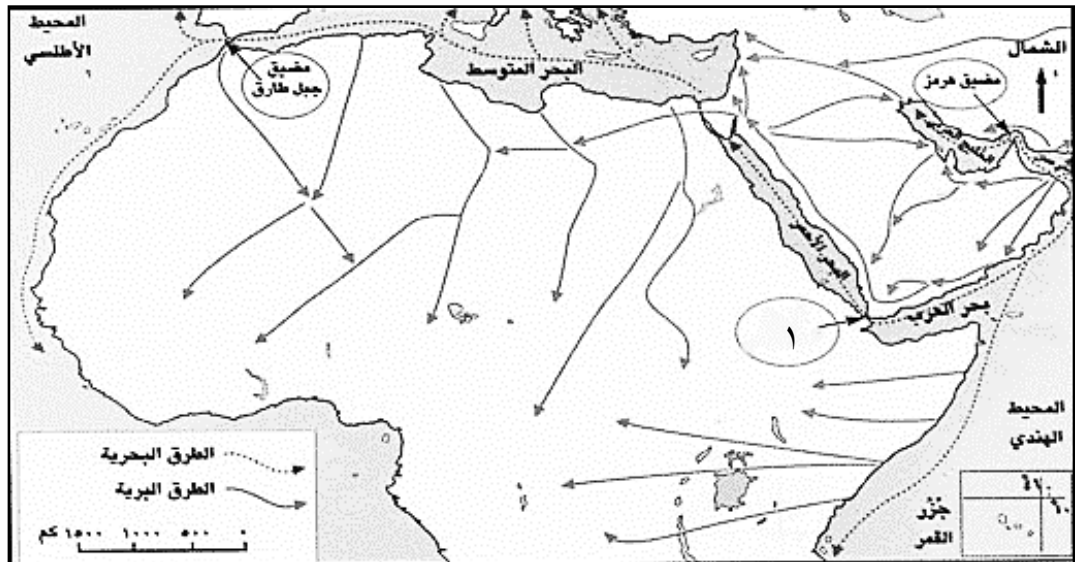
السؤال الثالث: أجب عن الأسئلة الآتية:

أولاً: أنظر إلى الخريطة التي أمامك ثم أجب عن الأسئلة التي تليها:



- أ) ضع دائرة على الإمبراطورية التي تحيط بعمان من جهة الشمال الشرقي.
ب) سم البحر المشار إليه بالرقم (١).
ج) اكتب اسم الحدثة في موقعها الصحيح على الخريطة.
د) لقب الحاكم في الإمبراطورية المشار إليها بالرقم (٢) _____

ثانياً: أنظر إلى الخريطة التي أمامك ثم أجب عن الأسئلة التي تليها:



- أ- المحيطان اللذان يطل عليهما الوطن العربي _____ و _____
ب- يرمز الشكل (→) في الخريطة إلى _____
ج- اسم المضيق المشار إليه بالرقم (١) _____

[٨ درجات]

السؤال الرابع :أجب عن الأسئلة الآتية:

أولاً: انظر إلى الجدول الذي يوضح درجات الحرارة والأمطار الشهرية في (سيق) بالجبل الأخضر ثم أجب عن الأسئلة الآتية:

الشهر	يناير	فبراير	مارس	ابريل	مايو	يونيو	يوليو	أغسطس	سبتمبر	أكتوبر	نوفمبر	ديسمبر
درجات الحرارة (س)	٩,٥	١٢	١٥	١٨	٢٢	٢٥	٢٥	٢٤	٢٢	١٨	١٤	١١
الأمطار (مليمترات)	٢٣	٤٦	٥٨	٣٧	٢٦	١٣	٤٧	٥٩	٢٦	٨	٦	١١

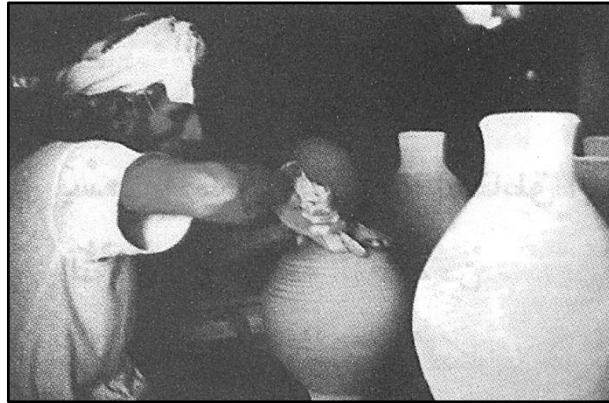
- (أ) أدنى درجة حرارة سجلت في شهر _____
(ب) سجلت أقل كمية أمطار في شهر _____
(ج) بلغت درجة الحرارة في شهر أغسطس _____
(د) المناخ السائد في الجبل الأخضر (الموسمي/ البحر المتوسط) اختر الاجابة الصحيحة .

ثانياً: أذكر واحدة مما يلي:

(أ) مظاهر الحياة الفكرية عند العرب قبيل الإسلام.

(ب) المشكلات التي تتعرض لها التربة في الوطن العربي.

ثالثاً: انظر إلى الصورة التي أمامك ثم أجب على الأسئلة الآتية:



- (أ) ما اسم الصناعة الواضحة في الصورة؟
(ب) ما نوع التربة المستخدمة في صناعتها؟

انتهت الأسئلة مع تمنياتنا لكم بالتوفيق والنجاح



المديرية العامة للتربية والتعليم لمحافظة البريمي
نموذج إجابة امتحان نهاية الفصل الدراسي الأول - الدور الثاني
الصف الخامس
للعام الدراسي (٢٠١٥ / ٢٠١٦ م)

المادة: الدراسات الاجتماعية
الدرجة الكلية: (٤٠) درجة
تنبيه: نموذج الإجابة في (٤) صفحات

أولاً: إجابة السؤال الموضوعي:-

الدرجة الكلية: (١٦) درجة		إجابة السؤال الأول			
ملاحظات	الصفحة	الدرجة	الإجابة	البديل الصحيح	المفردة
	١٤	٢	البحرين	ج	١
	٨٨	٢	الثانية	أ	٢
	٢١	٢	الزراعة	ب	٣
	٣٥	٢	السودان	د	٤
	٩٨	٢	الخراج	ج	٥
	١١	٢	الاستواء	أ	٦
	٥٥	٢	الأودية	د	٧
	٥١	٢	ظفار	ج	٨
١٦ درجة			المجموع		

(٢)
تابع نموذج إجابة امتحان نهاية الفصل الدراسي الأول – الدور الثاني
الصف الخامس

للعام الدراسي ٢٠١٥/٢٠١٦ م

ثانياً: إجابة الأسئلة المقالية:-

الدرجة الكلية : (٨) درجة			إجابة السؤال الثاني			
ملاحظات	الصفحة	الدرجة	الإجابة الصحيحة	المفردة	الجزئية	
	٣١	١	١- الأراضي المنبسطة التي ترتفع عما يجاورها من أراض.	أ	أولاً	
	٥٩	١	٢- هي الطبقة المفتتة من قشرة الأرض وتنمو عليها النباتات.			
	٢٨	١	١- بسبب شدة الانحدار.			
	٨٨	١	٢- لأن كفار قريش واليهود وبعض القبائل العربية اتفقوا على مهاجمة المدينة المنورة للقضاء على الإسلام.	ب		
		٢	السهول الرسوبية		ثانياً	
	١٨		دلتا الرافدين	سهل الباطنة		-
	٢٣		دلتا النيل	سهل تهامة		
	٣٧	٢	الطولية		-	ثالثاً
			الهلالية			
٨ درجة			المجموع			

تابع نموذج إجابة امتحان نهاية الفصل الدراسي الأول – الدور الثاني
الصف الخامس

للعام الدراسي ٢٠١٥/٢٠١٦ م

تابع ثانياً: إجابة الأسئلة المقالية:-

الدرجة الكلية : (٨) درجة			إجابة السؤال الثالث		
ملاحظات	الصفحة	الدرجة	الإجابة الصحيحة	المفردة	الجزئية
	٧٥	١	الإمبراطورية الفارسية	أ	أولاً
	٧٥	١	بحر عمان	ب	
	٧٥	١		ج	
	٧٨	١	قيصر	د	
	١٦	٢	المحيط الهندي و المحيط الأطلسي	أ	ثانياً
	١٦	١	الطرق البرية	ب	
	١٦	١	مضيق باب المندب	ج	

(٤)
تابع نموذج إجابة امتحان نهاية الفصل الدراسي الأول – الدور الثاني
الصف الخامس
للعام الدراسي ٢٠١٥/٢٠١٦ م

تابع ثانياً: إجابة الأسئلة المقالية:-

الدرجة الكلية : (٨) درجة			إجابة السؤال الرابع		
ملاحظات	الصفحة	الدرجة	الإجابة الصحيحة	المفردة	الجزئية
	٤٣	١	يناير	أ	أولاً
	٤٣	١	نوفمبر	ب	
	٤٣	١	٢٤	ج	
	٤١	١	البحر المتوسط	د	
	٧٣	١	١- رفوا بعض العلوم المتعلقة بأحوال الطقس ومواعيد نزول الأمطار. ٢- عرفوا مطالع النجوم والكواكب ٣- نبغ العرب بالشعر والخطابة. ٤- صنعوا الأصنام وأقاموا الأوثان. (يكتفى بذكر واحدة)	أ	ثانياً
	٦١	١	١- الانجراف ٢- الملوحة ٣- تدهور خصوبة التربة (يكتفى بذكر واحدة)	ب	
	٦١	١	صناعة الفخار	أ	ثالثاً
	٦١	١	التربة الطينية	ب	
٨ درجة			المجموع		

نهاية نموذج الإجابة