



امتحان الصف الخامس
للعام الدراسي ١٤٣٦/١٤٣٧ هـ - ٢٠١٥/٢٠١٦ م
الفصل الدراسي الأول - الدور الثاني

- المادة: الدراسات الاجتماعية
- زمن الإجابة: ساعة ونصف
- عدد صفحات اسئلة الامتحان: (٤).
- الإجابة في الورقة نفسها.

اسم الطالب	
المدرسة	
الصف	

السؤال	الدرجة بالأرقام (بالأحمر)		الدرجة بالحروف (بالأحمر)	(التوقيع بالاسم)	
	آحاد	عشرات		المصحح (بالأحمر)	المدقق (بالأخضر)
١					
٢					
٣					
٤					
المجموع			جمعه (بالأحمر)	مراجعة الجمع والتشطيب (بالأزرق)	
المجموع الكلي					

امتحان الصف الخامس

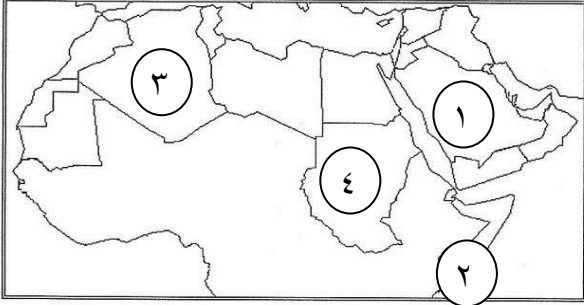
للعام الدراسي ١٤٣٦/١٤٣٧ هـ - ٢٠١٥/٢٠١٦ م

الفصل الدراسي الأول - الدور الثاني

المادة: الدراسات الاجتماعية

أجب عن جميع الأسئلة الآتية

السؤال الأول: ضع دائرة حول رمز الإجابة الصحيحة لكل مفردة من المفردات الآتية:



١- الدولة العربية التي يمر بها خط جرينتش يشار إليها في الخريطة بالرقم:

- أ- ١
ب- ٢
ج- ٣
د- ٤

٢- حدث صلح الحديبية بين المسلمين وقريش سنة:

- أ- ٣هـ
ب- ٤هـ
ج- ٥هـ
د- ٦هـ

٣- من خلال خريطة سلطنة عمان المقابلة فإن المناخ السائد في المنطقة المشار إليها بالسهم هو:

- أ- البحر المتوسط.
ب- الصحراوي.
ج- شبه الصحراوي.
د- الموسمي.



٤- يستخرج من هضاب محافظة الوسطى في سلطنة عمان:

- أ- الألماس.
ب- النفط.
ج- الذهب.
د- الفحم.

٥- الأشكال الرملية التي تكاد تخلو منها شمال شبه الجزيرة العربية تعرف بـ:

- أ- الكثبان الهلالية.
ب- الكثبان الطولية.
ج- العروق.
د- الجروف.

٦- ينخفض عدد السكان والمراكز العمرانية في الوطن العربي في السهول:

- أ- الساحلية.
ب- الداخلية.
ج- الرسوبية.
د- الفيضية.

٧- المشكلة التي تتعرض لها النباتات الطبيعية في الشكل المقابل:

- أ- قطع الأخشاب.
ب- الحرائق.
ج- الرعي الجائر.
د- الزراعة الغير منتظمة.



(٢)

امتحان الصف الخامس

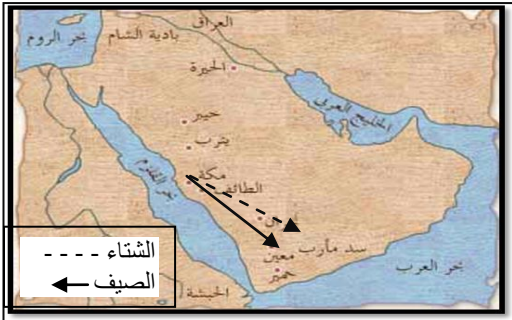
للعام الدراسي ١٤٣٦/١٤٣٧ هـ - ٢٠١٥/٢٠١٦ م

الفصل الدراسي الأول - الدور الثاني

المادة: الدراسات الاجتماعية

تابع السؤال الأول :

٨- الخريطة التي توضح مسار رحلتي الشتاء والصيف لقريش:



رحلة الشتاء ---

السؤال الثاني :

أولاً: اجب عن الأسئلة الآتية:

أ- أكتب المصطلح المناسب للعبارات المدرجة في الجدول الآتي:

المفهوم	العبرة
.....	متوسط حالة الجو خلال فترة زمنية طويلة قد تمتد إلى سنة.
.....	عبرة عن دوائر مكتملة ويبلغ عددها ١٨٠ دائرة.

ب- رتب الأحداث التاريخية التالية من الأقدم إلى الأحدث باستخدام تسلسل الأرقام (١، ٢، ٣، ٤):

(...) أصلح النبي صل الله عليه وسلم بين الأوس والخزرج.

(...) هجرة الرسول صل الله عليه وسلم من مكة إلى يثرب.

(...) فتح مكة.

(...) وفاة الرسول صل الله عليه وسلم.

(٣)

امتحان الصف الخامس

للعام الدراسي ١٤٣٦/١٤٣٧ هـ - ٢٠١٥/٢٠١٦ م


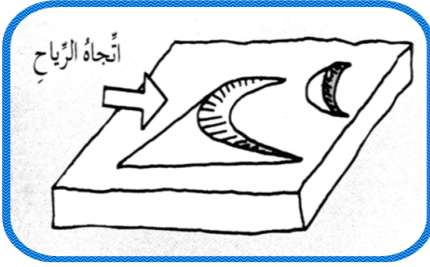
الفصل الدراسي الأول - الدور الثاني

المادة: الدراسات الاجتماعية

تابع السؤال الثاني..

ثانيا- أجب عن الأسئلة الآتية:

أ- أدرس الصور التالية ثم اكتب الاسم الصحيح لها:

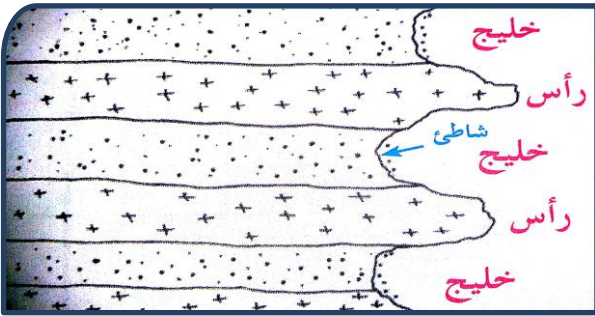


٢-

١-

ب- صنف السهول التي بين القوسين إلى سهول داخلية وسهول ساحلية (سهل الجزيرة ، سهل الباطنة ، سهل البطانة، سهل تهامة).

سهول ساحلية	سهول داخلية



ثالثا: ادرس الشكل المقابل ثم أجب عن الأسئلة التي تليه:

أ- ظلل الصخور الصلبة في الشكل المقابل.
ب- الصخور التي تتأثر أسرع بعوامل النحت

الرؤوس

الخلجان

أختر الإجابة الصحيحة بوضع علامة (✓)

فسر إجابتك؟

السؤال الثالث: أجب عن الأسئلة الآتية:

أولاً: اعط مثالا واحدا على كل من:

أ- الأنشطة الاقتصادية في الدولة الفارسية.

ب- الدواوين التي أنشأها الخليفة عمر بن الخطاب.

(٤)

امتحان الصف الخامس

للعام الدراسي ١٤٣٦/١٤٣٧ هـ - ٢٠١٥/٢٠١٦ م

الفصل الدراسي الأول - الدور الثاني

المادة: الدراسات الاجتماعية

تابع السؤال الثالث

ثانياً: اجب عن الأسئلة الآتية:

أ- قارن بين مناخ البحر المتوسط والمناخ الموسمي في فصل الشتاء من حيث درجة الحرارة والأمطار.

فصل الشتاء		المناخ
الأمطار	درجة الحرارة	
		البحر المتوسط
		الموسمي

ب- أستعن بالخريطة التالية ثم اجب:



١- من خلال الخريطة استنتج الدول الكبرى التي كانت تحيط بشبه الجزيرة العربية قبل الإسلام.

أ-
ب-
٢- ضع حرف " أ " على خريطة الدولة التي قامت على أنقاض مملكة قديمة تدعى "اكسوم".

ثالثاً:- من خلال النص والاستعانة بالصورة الآتية، اجب عن الأسئلة التي تليهما:

"بسبب نقص المياه في بعض المناطق، توجهت بعض الدول العربية وبخاصة دول مجلس التعاون لدول الخليج العربية، إلى بعض البدائل لمواجهة هذا النقص".



أ- ما المشكلة التي تعاني منها معظم الدول العربية؟

ب- من خلال الصور استنتج بعض الحلول التي اتخذتها سلطنة عمان لحل هذه المشكلة؟

ج- ما دورك في الحد من هذه المشكلة؟

(٥)

امتحان الصف الخامس

للعام الدراسي ١٤٣٦/١٤٣٧ هـ - ٢٠١٥/٢٠١٦ م

الفصل الدراسي الأول - الدور الثاني

المادة: الدراسات الاجتماعية

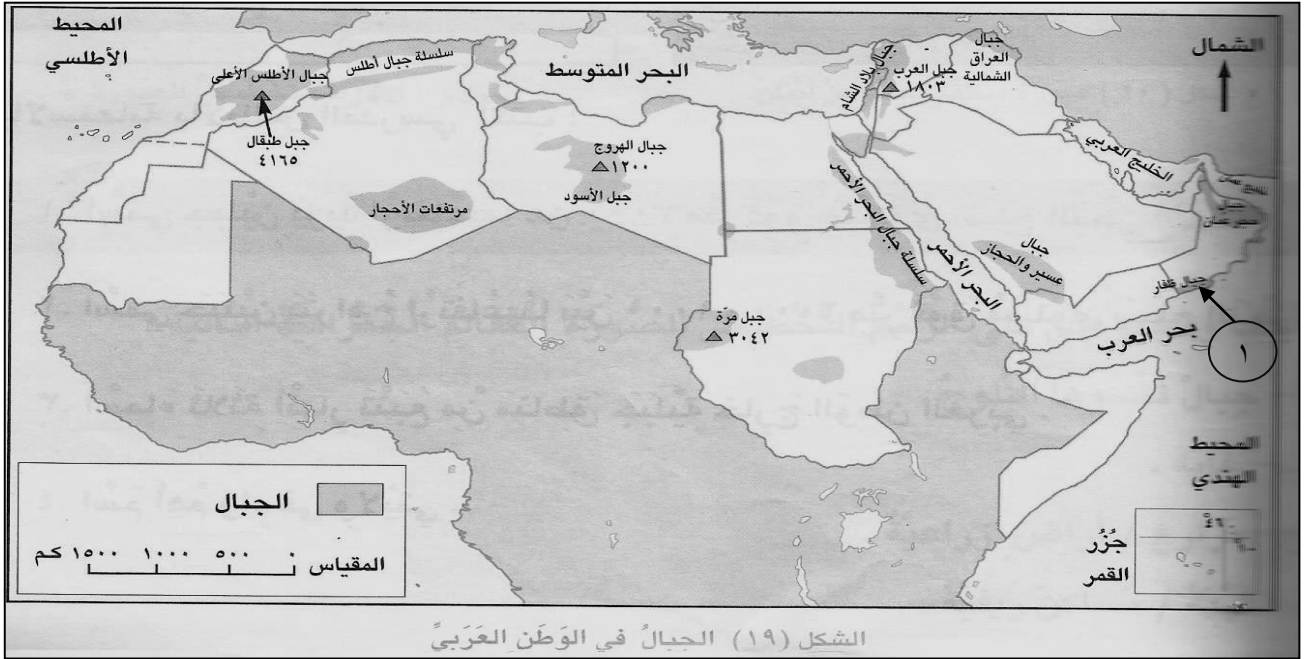
السؤال الرابع:

أولاً: أجب عن الأسئلة التالية:

أ- علل: اختلاف التربة في خصائصها .

ثانياً: "والله لو منعوني عقال بغير كانوا يؤدونه لرسول الله صلى الله عليه وسلم لحاربتم ، أو أهلك دونه"
أ- من قائل العبارة السابقة؟
ب- ما مناسبة قولها

ثالثاً: استعن بالخريطة الآتية ثم أجب عن الأسئلة التي تليها:



- أ- أراد احد المغامرين تسلق أعلى قمة جبلية في الوطن العربي ، وطلب منك معلومة عن ارتفاع هذه القمة فكم يبلغ ارتفاعها.....
- ب- تخيل قيامك برحلة بحرية كانت بدايتها من الإمارات وانتهت بالسواحل السودانية ، فما الممرات المائية التي ستعبرها .
- ١-.....٢-.....
- ج- في أي فصول السنة تسقط الأمطار على الجبال المشار إليها بالرقم (١).....
- د- وقع على الخريطة التي أمامك اسم الدولة التي ينتهي عندها مجرى نهر النيل مكونا دلتا خصبة.

انتهت الأسئلة، مع تمنياتنا لكم بالتوفيق والنجاح.



المديرية العامة للتربية والتعليم

بمحافظة الشرقية جنوب

نموذج إجابة الامتحان النهائي لمادة الدراسات الاجتماعية للصف الخامس

للعام الدراسي ١٤٣٦/١٤٣٧ هـ - ٢٠١٥/٢٠١٦ م

الدور الثاني - الفصل الدراسي الأول

• الدرجة الكلية ٤٠ درجة

• المادة: الدراسات الاجتماعية

• تنبيه: الإجابة في (٤) صفحات.

أولاً:- إجابة السؤال الموضوعي

الدرجة الكلية ١٦ درجة		إجابة السؤال الأول لكل مفردة درجتان	
الصفحة	الدرجة	البديل الصحيح	المفردة
١٣	درجتان	(ج) رقم ٣	١
٨٩	درجتان	(د) ٦ هـ	٢
٤٢	درجتان	(أ) البحر المتوسط	٣
٣١	درجتان	(ب) النفط	٤
٣٥	درجتان	(ج) العروق	٥
١٨	درجتان	(ب) الداخلية	٦
٦٣	درجتان	(أ) قطع الأخشاب	٧
٧٠	درجتان	(ب) ج	٨

مجموع الدرجات ٢ × ٨ = ١٦ درجة

(٢)

تابع نموذج إجابة الامتحان النهائي لمادة الدراسات الاجتماعية للصف الخامس

للعام الدراسي ١٤٣٦/١٤٣٧ هـ - ٢٠١٥/٢٠١٦ م

الدور الثاني - الفصل الدراسي الأول

الدرجة الكلية ٨ درجات

إجابة السؤال الثاني :

الصفحة	الدرجة	الإجابة الصحيحة		المفردة	الجزئية						
١٢ - ٤١	١ <u>لكل مفردة</u> <u>نصف درجة</u>	المفهوم	العبرة	أ	أولاً						
		دوائر العرض	متوسط حالة الجو خلال فترة زمنية طويلة قد تمتد إلى سنة	ب							
٨٥ - ٨٨ ٩٢ - ٩١	٢ <u>لكل مفردة</u> <u>نصف درجة</u>	عبرة عن دوائر مكتملة ويبلغ عددها ١٨٠ دائرة									
		٢) أصلح النبي صل الله عليه وسلم بين الأوس والخزرج . ١) هجرة الرسول صل الله عليه وسلم من مكة إلى يثرب. ٣) فتح مكة. ٤) وفاة الرسول صل الله عليه وسلم.									
٢٤	١ <u>لكل مفردة</u> <u>نصف درجة</u>		١- دللتا الشكل المروحي	أ	ثانياً						
٣٦			٢- الكئبان الهلالية								
١٨	٢ <u>لكل مفردة</u> <u>نصف درجة</u>	<table border="1"> <thead> <tr> <th>سهول ساحلية</th> <th>سهول داخلية</th> </tr> </thead> <tbody> <tr> <td>سهل الباطنة</td> <td>البطانة</td> </tr> <tr> <td>سهل تهامة</td> <td>الجزيرة</td> </tr> </tbody> </table>		سهول ساحلية	سهول داخلية	سهل الباطنة	البطانة	سهل تهامة	الجزيرة	ب	
سهول ساحلية	سهول داخلية										
سهل الباطنة	البطانة										
سهل تهامة	الجزيرة										
٢٠	١	تظليل الرؤوس في الشكل		أ	ثالثاً						
٢٠	١ يشترط اختيار الإجابة الصحيحة مع التعليل	- علامة (√) على الخلجان - لأنها اقل صلابة من الرؤوس		ب							

(٣)

تابع نموذج إجابة الامتحان النهائي لمادة الدراسات الاجتماعية للصف الخامس

للعام الدراسي ١٤٣٦/١٤٣٧ هـ - ٢٠١٥/٢٠١٦ م

الدور الثاني - الفصل الدراسي الأول

الدرجة الكلية ٨ درجات

إجابة السؤال الثالث

الصفحة	الدرجة	الإجابة الصحيحة	المفردة	الجزئية											
٧٧	نصف درجة	زراعة - تجارة - صناعة (يكتفى بمثال واحد فقط)	أ	أولا											
٩٧	نصف درجة	ديوان الجند - ديوان الخراج (يكتفى بمثال واحد فقط)	ب												
٥١-٤١	٢ لكل مفردة نصف درجة	<table border="1"> <thead> <tr> <th colspan="2">فصل الشتاء</th> <th rowspan="2">المناخ</th> </tr> <tr> <th>الأمطار</th> <th>الحرارة</th> </tr> </thead> <tbody> <tr> <td>ممطر - كثيرة</td> <td>معتدلة</td> <td>البحر المتوسط</td> </tr> <tr> <td>جاف - قليلة</td> <td>حار/مرتفعة</td> <td>الموسمي</td> </tr> </tbody> </table>	فصل الشتاء		المناخ	الأمطار	الحرارة	ممطر - كثيرة	معتدلة	البحر المتوسط	جاف - قليلة	حار/مرتفعة	الموسمي	أ	ثانيا
فصل الشتاء		المناخ													
الأمطار	الحرارة														
ممطر - كثيرة	معتدلة	البحر المتوسط													
جاف - قليلة	حار/مرتفعة	الموسمي													
٧٥	١	الأحباش - الإمبراطورية الفارسية - الإمبراطورية البيزنطية (يذكر اثنتين فقط)	ب												
٨١	١	يوقع "أ" على دولة الأحباش													
															
٥٧	١	نقص المياه	أ	ثالثا											
٥٧	١	تحليه المياه	ب												
٥٧	١	حملات توعية - عدم الإسراف في استخدام المياه	ج												

(٤)

تابع نموذج إجابة الامتحان النهائي لمادة الدراسات الاجتماعية للصف الخامس

للعام الدراسي ١٤٣٦/١٤٣٧ هـ - ٢٠١٥/٢٠١٦ م

الدور الثاني - الفصل الدراسي الأول

الدرجة الكلية ٨ درجات

إجابة السؤال الرابع

الجزئية	المفردة	الإجابة الصحيحة	الدرجة	الصفحة
أولاً	أ	بسبب اختلاف المواد الصخرية المفتتة والمواد العضوية التي تدخل في تكوينها	٢	٥٩
ثانياً	أ	أبو بكر الصديق	١	٩٥
	ب	طلب الصحابة من أبو بكر عدم محاربة المرتدين خشية على المسلمين من القتل لكثرة المرتدين	١	٩٥
ثالثاً	أ	٤١٦٥ متر	١	٢٧
	ب	مضيق هرمز - مضيق باب المندب	١ لكل نصف درجة	١٦
	ج	صيفا	١	٥١
	د	يكتب اسم مصر على الخريطة في الموقع الصحيح	١	٢٣

انتهت الإجابة