



امتحان الصف الخامس  
للعام الدراسي ١٤٣٦/١٤٣٧ هـ - ٢٠١٥/٢٠١٦ م  
الفصل الدراسي الثاني - الدور الثاني

- المادة: الدراسات الاجتماعية
- زمن الإجابة: ساعة ونصف
- عدد صفحات اسئلة الامتحان: ( ٥ ) .
- الإجابة في الورقة نفسها.

اسم الطالب	
المدرسة	
الصف	

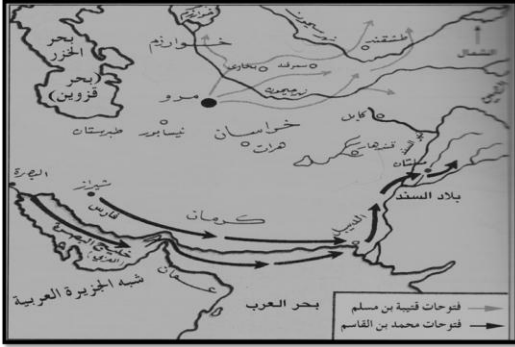
السؤال	الدرجة بالأرقام (بالأحمر)		الدرجة بالحروف (بالأحمر)	(التوقيع بالاسم)	
	آحاد	عشرات		المصحح (بالأحمر)	المدقق (بالأخضر)
١					
٢					
٣					
٤					
المجموع			جمعه (بالأحمر)	مراجعة الجمع والتشطيب (بالأزرق)	
المجموع الكلي					

امتحان الصف الخامس  
للعام الدراسي ١٤٣٦/١٤٣٧ هـ - ٢٠١٥/٢٠١٦ م  
الفصل الدراسي الثاني - الدور الثاني  
المادة: الدراسات الاجتماعية

أجب عن جميع الأسئلة الآتية

السؤال الأول: ضع دائرة حول رمز الإجابة الصحيحة لكل مفردة من المفردات الآتية : ١٦ درجة

- ١- سك أول دينار عربي من الذهب في العام الهجري:  
أ- ٧٥هـ. ب- ٧٧هـ. ج- ٩٠هـ. د- ٩٢هـ.
- ٢- ناصر يتيم ويتلقى راتب شهري من وزارة التنمية الاجتماعية يطلق على هذه الخدمة الاجتماعية:  
أ- مشروع موارد الرزق. ب- تكافل اجتماعي. ج- عمل اجتماعي. د- ضمان اجتماعي.



- ٣- تشير الخريطة التي أمامك إلى فتوحات الدولة الأموية في بلاد:  
أ- ما وراء النهر.  
ب- الأندلس.  
ج- المغرب العربي.  
د- الشام.

٤- العامل الطبيعي المؤثر في توزيع السكان في الوطن العربي:

- أ- المناخ.  
ب- الخدمات.  
ج- الهجرة.  
د- الحرف السائدة.

- ٥- جامعة أنشأها هارون الرشيد حيث نشطت فيها حركة الترجمة لعلوم اليونان والهند والصين هي بيت:  
أ- الرشيد.  
ب- الحكمة.  
ج- العباسيين.  
د- العلوم.

٦- تبلغ نسبة إنتاج الوطن العربي من النفط مقارنة بالعالم حوالي:  
أ- ٢٧% ب- ٢٨% ج- ٢٩% د- ٣١%

- ٧- ناتج قسمة عدد السكان على مساحة معينة بالكيلومتر يمثل:  
أ- النمو السكاني. ب- الكثافة السكانية. ج- التوزيع السكاني. د- الزيادة الطبيعية.

٨- الصورة المقابلة تمثل احد المقومات السياحة في:



- أ- مصر.  
ب- سلطنة عمان.  
ج- فلسطين.  
د- اليمن.

( ٢ )

امتحان الصف الخامس

للعام الدراسي ١٤٣٦/١٤٣٧ هـ - ٢٠١٥/٢٠١٦ م

الفصل الدراسي الثاني - الدور الثاني

المادة: الدراسات الاجتماعية

٨ درجات

السؤال الثاني :

أولاً: أجب عن الأسئلة الآتية :

أ- من وجهة نظرك كيف يمكن تحقيق الأمن الغذائي للوطن العربي.

ب- أكتب المفهوم أو المصطلح الصحيح لكل عبارة مما يأتي:

العبارة	المفهوم أو المصطلح
مؤسسة اجتماعية اقتصادية كان القائمون عليها ينظرون في الأسواق، ويراقبون. الأسعار كما يراقبون الموازين والمكاييل.	.....
مواد طبيعية زراعية ، أو حيوانية ، معدنية ، غير مصنعة ، قابلة للتصنيع	.....

ثانياً: أجب عن الأسئلة التالية:

أ- أعط دليلاً على تقدم النظم الإدارية في العصر العباسي.

ب- كيف أثرت الفتوحات الأموية الواسعة على إدارة الدولة.

ثالثاً: عبدالله احد أعضاء لجنة التعداد السكاني في منطقته أثناء مراجعة الأوراق وجد أن جاره محمد كتب في الإحصائية أن عائلته مكونه من ٥ أفراد ، علماً أن عددهم الفعلي ١٠ أفراد.  
ما رأيك في تصرف محمد؟

أختر الإجابة الصحيحة بوضع علامة (√)

جيد
غير جيد

فسّر ذلك ؟

٨ درجات

السؤال الثالث :

أولاً: اعط مثالا واحداً على كل من :

أ- مظاهر الأعمال الاجتماعية التي يمارسها أفراد المجتمع العماني منذ القدم إلى اليوم.

ب- مقومات سياحية طبيعية وبيئية في عمان .

( ٣ )

امتحان الصف الخامس

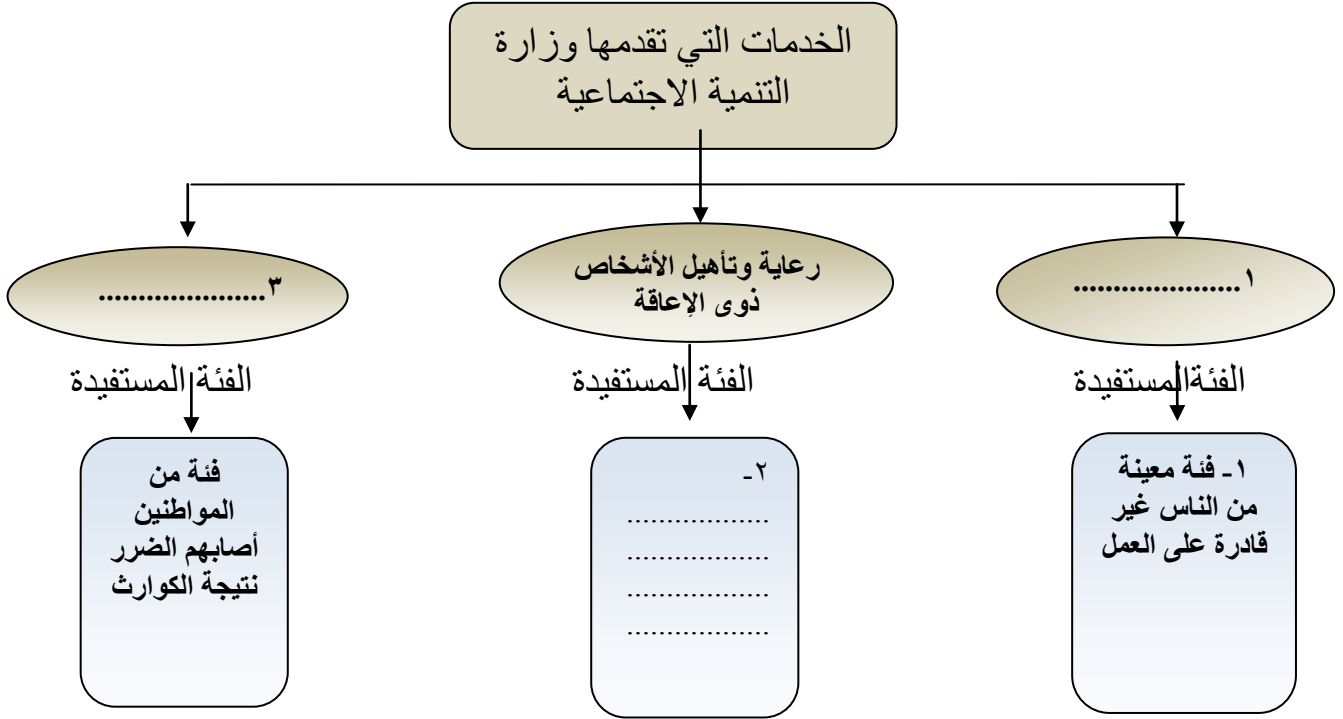
للعام الدراسي ١٤٣٦/١٤٣٧ هـ - ٢٠١٥/٢٠١٦ م

الفصل الدراسي الثاني - الدور الثاني

المادة: الدراسات الاجتماعية

تابع : السؤال الثالث :

ثانياً: أكمل تصميم الخريطة الذهنية للخدمات التي تقدمها وزارة التنمية الاجتماعية:



ثالثاً: صنّف الصناعات التالية إلى صناعة استخراجية أو تحويلية بوضع إشارة ( √ ) كما في المثال الأول.

صناعات تحويلية	صناعات استخراجية	أوجه المقارنة
	√	اللؤلؤ
		صيد الأسماك
		صناعة الزجاج
		المحاجر

(٤)

امتحان الصف الخامس

للعام الدراسي ١٤٣٦/١٤٣٧ هـ - ٢٠١٥/٢٠١٦ م

الفصل الدراسي الثاني - الدور الثاني

المادة: الدراسات الاجتماعية

٨ درجات

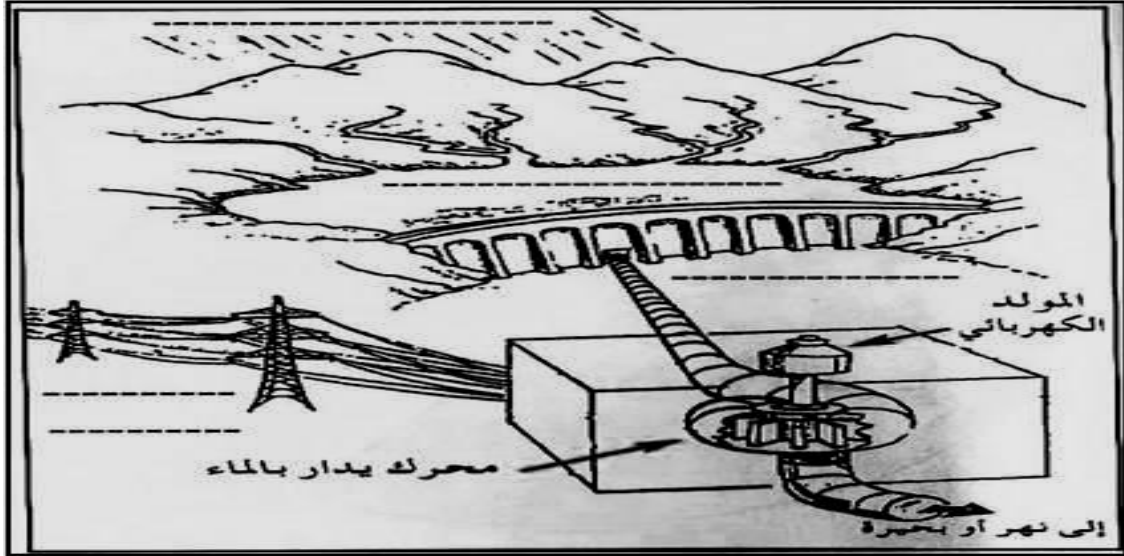
السؤال الرابع :

أولاً: اجب عن الأسئلة الآتية:

أ- قارن بين معركة شريس وبلاط الشهداء من حيث سنة حدوثها - القائد - نتائجها:

وجه المقارنة	معركة شريس	معركة بلاط الشهداء
سنة حدوثها		
اسم القائد		
النتيجة		

ثانياً: انظر إلى الشكل الذي أمامك ثم اجب عن الأسئلة التي تليه:



١- يتم إنتاج الكهرباء في الشكل بالاعتماد على مصادر الطاقة

أ- متجددة ب- غير متجددة

٢- سمّ دولتين في الوطن العربي تعتمد على مياه السدود في إنتاج الكهرباء.

أ- .....

ب- .....

٣- ما إيجابيات استغلال هذه الطاقة.

أ- .....

ب- .....

(٥)

امتحان الصف الخامس

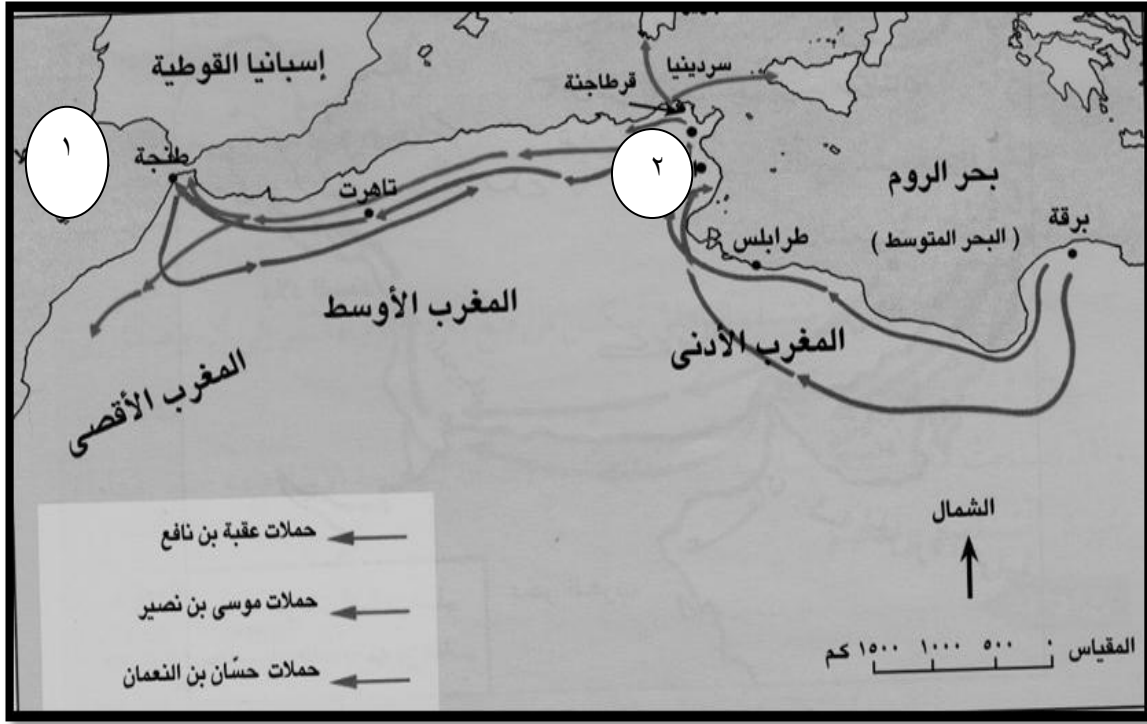
للعام الدراسي ١٤٣٦/١٤٣٧ هـ - ٢٠١٥/٢٠١٦ م

الفصل الدراسي الثاني - الدور الثاني

المادة: الدراسات الاجتماعية

تابع السؤال الرابع :

ثالثاً: أمامك خريطة أدرسها جيداً ثم أجب عما يليها من أسئلة :



١- تحركت الفتوحات الإسلامية زمن الأمويين بالخريطة التي أمامك في اتجاه

٢- المدينة التي بنيت في عهد الخليفة معاوية بن أبي سفيان والمشار إليها بالرقم

٣- المسطح المائي الذي يشير إليه الرقم ١ في الخريطة هو

٤- انطلقت حملات عقبة بن نافع من مدينة

انتهت الأسئلة، مع تمنياتنا لكم بالتوفيق والنجاح



المديرية العامة للتربية والتعليم

بمحافظة الشرقية جنوب

نموذج إجابة الامتحان النهائي لمادة الدراسات الاجتماعية للصف الخامس

للعام الدراسي ١٤٣٦/١٤٣٧ هـ - ٢٠١٥/٢٠١٦ م

الدور الثاني - الفصل الدراسي الثاني

• الدرجة الكلية ٤٠ درجة

• المادة: الدراسات الاجتماعية

• تنبيه: الإجابة في (٤) صفحات.

أولاً: - إجابة السؤال الموضوعي

الدرجة الكلية ١٦ درجة		إجابة السؤال الأول لكل مفردة درجتان	
الصفحة	الدرجة	البديل الصحيح	المفردة
١٩	درجتان	(ب) ٧٧ هـ	١
٨٩	درجتان	(د) ضمان اجتماعي	٢
١٣	درجتان	(أ) ما وراء النهر	٣
٤٥	درجتان	(أ) المناخ	٤
٣٣	درجتان	(ب) الحكمة	٥
٦٧	درجتان	(د) ٣١%	٦
٤٦	درجتان	(ب) الكثافة السكانية	٧
٧٣	درجتان	(أ) مصر	٨

مجموع الدرجات ٨ × ٢ = ١٦ درجة

(٢)

تابع نموذج إجابة الامتحان النهائي لمادة الدراسات الاجتماعية للصف الخامس

للعام الدراسي ١٤٣٦/١٤٣٧ هـ - ٢٠١٥/٢٠١٦ م

الدور الثاني - الفصل الدراسي الثاني

الدرجة الكلية ٨ درجات

إجابة السؤال الثاني

الصفحة	الدرجة	الإجابة الصحيحة	المفردة	الجزئية						
٥٨	٢	إذا ما طور الإنتاج المحلي لينتج معظم حاجته من المواد الغذائية الأساسية كالحبوب والمنتجات الحيوانية	أ-	أولا						
٢٩	٢ لكل مفردة درجة	<table border="1"> <thead> <tr> <th>المفهوم أو المصطلح</th> <th>العبارة</th> </tr> </thead> <tbody> <tr> <td>الحسبة</td> <td>مؤسسة اجتماعية اقتصادية كان القامون عليها ينظرون في الأسواق، ويراقبون الأسعار كما يراقبون الموازين والمكاييل.</td> </tr> <tr> <td>المادة الخام</td> <td>مواد طبيعية زراعية، أو حيوانية، معدنية، غير مصنعة، قابلة للتصنيع.</td> </tr> </tbody> </table>	المفهوم أو المصطلح	العبارة	الحسبة	مؤسسة اجتماعية اقتصادية كان القامون عليها ينظرون في الأسواق، ويراقبون الأسعار كما يراقبون الموازين والمكاييل.	المادة الخام	مواد طبيعية زراعية، أو حيوانية، معدنية، غير مصنعة، قابلة للتصنيع.	ب-	
المفهوم أو المصطلح	العبارة									
الحسبة	مؤسسة اجتماعية اقتصادية كان القامون عليها ينظرون في الأسواق، ويراقبون الأسعار كما يراقبون الموازين والمكاييل.									
المادة الخام	مواد طبيعية زراعية، أو حيوانية، معدنية، غير مصنعة، قابلة للتصنيع.									
٢٨	١	إنشاء العباسيون منصب الوزير وقاضي القضاة - استحداث نظام الحسبة- استحداث عدد جديد من الدواوين (يكتفى بذكر دليل واحد)	أ-	ثانيا						
٢٣	١	اتساع مساحتها، وتعدد شعوبها، وصعوبة الاتصال والمواصلات بين أجزائها	ب-							
٣٨	١		غير جيد	ثالثا						
٣٨	١ (تقبل اجابة الطالب بما يفيد المعنى)	لان الدولة تحتاج إلى المعلومات الدقيقة عن عدد السكان حتى تستطيع توفير الخدمات المختلفة وتقديمها لهم بطريقة مدروسة								



(٣)

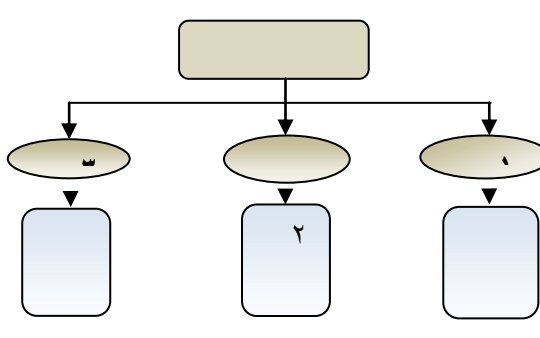
تابع نموذج إجابة الامتحان النهائي لمادة الدراسات الاجتماعية للصف الخامس

للعام الدراسي ١٤٣٦/١٤٣٧ هـ - ٢٠١٥/٢٠١٦ م

الدور الثاني - الفصل الدراسي الثاني

الدرجة الكلية ٨ درجات

إجابة السؤال الثالث:

الصفحة	الدرجة	الإجابة الصحيحة	المفردة	الجزئية															
٩٨	١ (أي أمثلة أخرى صحيحة يذكرها الطالب)	موسم الحصاد جني الثمار (الجداد)	أ	أولا															
٧٤-٧٣	١ (أي أمثلة أخرى صحيحة يذكرها الطالب)	المواقع الأثرية والمدن القديمة، المناظر الطبيعية، المحميات البرية	ب-																
٩٠-٨٩	٣ لكل مفردة درجة	 <p>١- الضمان الاجتماعي ٢- الأشخاص ذوي الإعاقة ٣- مساعدات الإغاثة</p>		ثانيا															
٦٤	٣ لكل مفردة درجة	<table border="1"><thead><tr><th>صناعات تحويلية</th><th>صناعات استخراجية</th><th>أوجه المقارنة</th></tr></thead><tbody><tr><td></td><td>√</td><td>اللؤلؤ</td></tr><tr><td></td><td>√</td><td>صيد الأسماك</td></tr><tr><td>√</td><td></td><td>صناعة الزجاج</td></tr><tr><td></td><td>√</td><td>المحاجر</td></tr></tbody></table>	صناعات تحويلية	صناعات استخراجية	أوجه المقارنة		√	اللؤلؤ		√	صيد الأسماك	√		صناعة الزجاج		√	المحاجر		ثالثا
صناعات تحويلية	صناعات استخراجية	أوجه المقارنة																	
	√	اللؤلؤ																	
	√	صيد الأسماك																	
√		صناعة الزجاج																	
	√	المحاجر																	

(٤)

تابع نموذج إجابة الامتحان النهائي لمادة الدراسات الاجتماعية للصف الخامس

للعام الدراسي ١٤٣٦/١٤٣٧ هـ - ٢٠١٥/٢٠١٦ م

الدور الثاني - الفصل الدراسي الثاني

الدرجة الكلية ٨ درجات

اجابة السؤال الرابع

الجزئية	المفردة	الإجابة الصحيحة	الدرجة	الصفحة												
أولاً	أ	<table border="1"><tr><td>وجه المقارنة</td><td>معركة شريس</td><td>معركة بلاط الشهداء</td></tr><tr><td>سنة حدوثها</td><td>٧١١/٩٢ م</td><td>١١٤ هـ/٧٣٢ م</td></tr><tr><td>اسم القائد</td><td>طارق بن زياد</td><td>عبد الرحمن الغافقي</td></tr><tr><td>النتيجة</td><td>انتصر المسلمون وفتحت مدن قرطبة وغرناطة وأشبيلية وطليلة</td><td>هزيمة المسلمين وتوقفت الفتوحات الإسلامية في أوروبا</td></tr></table>	وجه المقارنة	معركة شريس	معركة بلاط الشهداء	سنة حدوثها	٧١١/٩٢ م	١١٤ هـ/٧٣٢ م	اسم القائد	طارق بن زياد	عبد الرحمن الغافقي	النتيجة	انتصر المسلمون وفتحت مدن قرطبة وغرناطة وأشبيلية وطليلة	هزيمة المسلمين وتوقفت الفتوحات الإسلامية في أوروبا	٣	١٦
وجه المقارنة	معركة شريس	معركة بلاط الشهداء														
سنة حدوثها	٧١١/٩٢ م	١١٤ هـ/٧٣٢ م														
اسم القائد	طارق بن زياد	عبد الرحمن الغافقي														
النتيجة	انتصر المسلمون وفتحت مدن قرطبة وغرناطة وأشبيلية وطليلة	هزيمة المسلمين وتوقفت الفتوحات الإسلامية في أوروبا														
ثانياً	١- متجددة ٢- مصر ، سوريا ٣- متجددة لا تنضب ، نظيفة		٣ لكل مفردة درجة	٦٩												
ثالثاً	١- الغرب ٢- القيروان ٣- المحيط الأطلسي ٤- برقة		٢ لكل مفردة نصف درجة	١٤												

أتمى نموذج الإجابة

