



* زمن الإجابة : ساعة ونصف
* درجة الامتحان : 40 درجة
الصف :

*المادة : الدراسات الإجتماعية
*تنبيه : الأسئلة في (4) صفحات
اسم الطالب :

أجب عن جميع الأسئلة الآتية

السؤال الأول: (16 درجة)

ضع دائرة حول رمز الإجابة الصحيحة لكل مفردة من المفردات الآتية :



1 (مجاري مائية تنتقل فيها المياه من المنابع في المناطق المرتفعة إلى المصببات في البحار أو المحيطات :
أ) الأنهار
ب) البحيرات
ج) المستنقع
د) الينابيع

2 (زادت الحاجة للمياه الصالحة للاستعمال البشري في العالم منذ بداية القرن العشرين بمقدار مرات :
أ) ثلاث
ب) أربع
ج) خمس
د) ست

3 (أخبر خالد جاره أحمد أنه ينوي حفر بئر في فناء بيته ، فما هو التصرف الصحيح الذي يجب أن يقوم به أحمد ؟ :
أ) يحفر لنفسه بئر
ب) يسأل جاره إن كان قد حصل على تصريح للحفر
ج) يشاركه في البئر
د) لا يهتم بالموضوع



4 (المدينة الأوروبية التي تأثرت بتطور ونظافة المدينة الموضحة بالصورة هي :
أ) روما
ب) باريس
ج) لشبونة
د) لندن

5 (أدت الثورة الصناعية إلى هجرة أعداد كبيرة من سكان الريف إلى المدينة للعمل في :
أ) الموانئ
ب) الجامعات
ج) المصانع
د) المزارع



6 (تم اكتشاف أدوات وأواني ترجع إلى الألف الثالثة والألف الثانية قبل الميلاد عام 2003 م بولاية :
أ) مطرح
ب) بوشر

ج) السيب
د) العامرات

7 (نشأت مدينة نزوى على يد عرمان بن عمرو الأزدي قبل سنة :

أ) 2500
ب) 4500
ج) 6500
د) 8500

8 (أهم سلعة كانت مدينة صحار تقوم بتصديرها قبل أربعة آلاف سنة هي :

أ) النحاس
ب) الذهب
ج) الفضة
د) الحديد


16

السؤال الثاني : (8 درجات)

أولاً :

1 - (توجد في البحار والمحيطات موارد معدنية عديدة) ، سم اثنين منها .

2- في أي القارات يتركز العجز المائي ؟

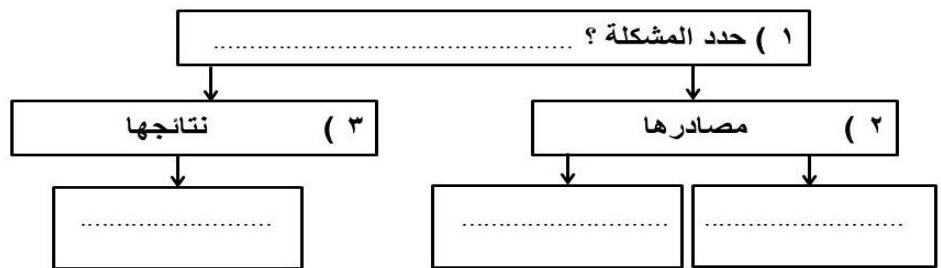


3- ما نوع الطاقة التي استخدمت عام 1779 م ، لإدارة الآلات الموضحة بالصورة ؟

ضع علامة (√)

أ - المياه
ب- الرياح

ثانياً : من خلال الصورة الموضحة أمامك ، أجب عن الأسئلة الآتية :



ثالثاً :

1- : انسب المواقع التالية إلى أماكن تواجدها : (حصن الحزم ، أوبار ، عين جرزيز ، عين الكسفة)

الرسنق	صلالة

8

السؤال الثالث : (8 درجات)**أولا :**

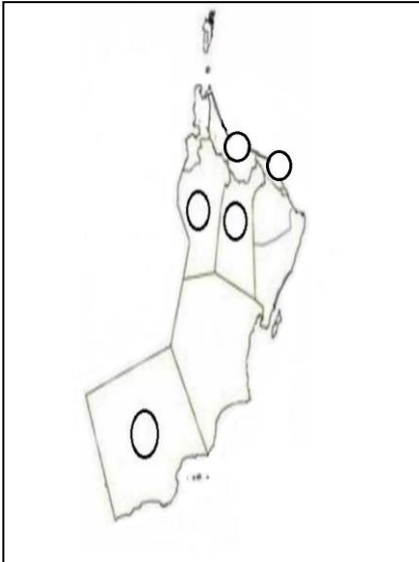
1- أعط مثال واحد على :

أ (المساجد الأثرية في مدينة نزوى .

ب (الرحالة الذين زاروا مدينة صحار .



2- صف مدينة البليد الأثرية .

ثانيا : أمامك خريطة سلطنة عمان ، أدرسها جيدا ثم أجب عن الأسئلة التالية :

- أكتب رقم كل عبارة مما يلي في الدائرة المناسبة على الخريطة :


المعطيات
1- يوجد بها عدد من الأودية مثل وادي ضيقة
2- تحتل المرتبة الأولى في عدد الأفلاج
3- تتميز بوجود عدد من النوافير الطبيعية على شواطئها

ثالثا :

1- (أبحرت السفينة صحار عام 1980 م إلى مدينة كانتون بالصين بناء على أوامر سامية من جلالة السلطان قابوس بن سعيد المعظم (يحفظه الله) . فما مبررات هذه الرحلة ؟

السؤال الرابع : (8 درجات)**أولاً :**

1- أذكر أحد عوامل قيام النهضة الأوروبية .



2- من خلال الصورة الموضحة أمامك ، أجب عن الأسئلة الآتية :

أ – من الذي اخترع هذا الجهاز ؟

ب- وضح تأثيره على عملية الإنتاج في المصانع .

ثانياً :

1- ما اسم المؤرخ العماني الذي ألف كتاب (تحفة الأعيان بسيرة أهل عمان) ؟

2- علل / يوجد بقلعة الرستاق 4 أبراج .

ثالثاً :

1- (من أسباب قيام الاكتشافات الجغرافية : البحث عن طرق تجارية جديدة تعطي الأوروبيين حرية التجارة وتوفر لهم السلع التي يحتاجونها دون وسيط تجاري ..) .

أ – ما أهم سلع الهند التي كان الأوروبيون بأمس الحاجة إليها ؟

ب- باعتقادك / هل نجح الأوروبيون في التخلص من احتكار الوسطاء التجاريين لمنتجات آسيا ؟ دعم إجابتك .

انتهت الأسئلة مع تمنياتنا لكم بالتوفيق والنجاح ، ، ،



مخطط نموذج الإجابة لمادة الدراسات الاجتماعية للصف الثامن

الفصل الدراسي الثاني للعام الدراسي: (٢٠١٥/٢٠١٦م)

الاسئلة الموضوعية (نمط الاختيار من متعدد) :-

السؤال	رقم المفردة	الإجابة الصحيحة	الصفحة	الدرجة
الأول	١	ب - الأفلاج	٣٥	٢
	٢	ج - امريكا الشمالية	٢٣	٢
	٣	٣٤-ا	٣٧	٢
	٤	ج- ٣	٥٨	٢
	٥	ب-صور	٥٦	٢
	٦	ب- الرستاق	٩٣	٢
	٧	١- ١٢ عاما	٨٦	٢
	٨	ب- المغسيل	١١٠	٢

الاسئلة المقالية :-

السؤال	الجزء	رقم المفردة	الإجابة الصحيحة	الصفحة	الدرجة
الثاني	اولاً	١	بسبب الرياح الموسمية الجنوبية الغربية	١١٣	١
		٢	الأفلاج الحية : هي التي تجري فيها المياه وتروي المزارع والمنازل - الأفلاج الميتة : هي التي نفذ منها المياه بسبب الجفاف وقلة الصيانة	٣١	١
	ب	١	ا	٢٤	١
		٢	بسبب مياه الامطار الحمضية وفضلات المصانع السامة	٢٤	١
		ج	كانت حياة الاوروبيين في كل المجالات قبل النهضة تحت سيطرة الكنيسة وفرضت قيود صارمة وبعد النهضة تحولت افكارها نحو التجديد والانفتاح	٤٥	٢
	د	١	امر جلالة السلطان بتسيير رحلة بحرية مشابهة لرحلات العمانيين في القرون الماضية - بناء سفينة صحار ١٩٨٠	١٠٣	١

الاهتمام بالبنية التحتية (طرق - مطارات - فنادق) - ١١٤ - ١ توفير الخدمات الضرورية والاهتمام والدعاية الاعلامية	٢		
--	---	--	--

الاسئلة المقالية :-

<u>الدرجة</u>	<u>الصفحة</u>	<u>الإجابة الصحيحة</u>	<u>رقم المفردة</u>	<u>الجزء</u>	<u>السؤال</u>
١	٦٧	بسبب بداية العرب بالتعامل مع المخترعات كانت متواضعة وكرس العرب جهودهم في هذه الفترة للتحرر من الوجود الاوروبي	١		الثالث
١	١٢	بسبب دورة المياة في الطبيعة وحركة المياها من نطاق الى اخر	ب		
١	٧١	بحر عمان	١	ثانياً	
١	٣٥	محافظة الظاهرة	٢		
١	٣٨	ساحل الباطنة - صلالة - جنوب الشرقية	٣		
١	٨٥	نزوى	٤		
٢ لكل مفردة نصف درجة	٣٢	فلج عيني - الرستاق فلج المعيدن - نزوى		ثالثاً	

الاسئلة المقالية :-

السؤال	الجزء	رقم المفردة	الإجابة الصحيحة	الصفحة	الدرجة
الرابع	ج	أ	يوجد في مسقط عدد من المؤسسات التعليمية والثقافية مثل جامعة السلطان قابوس والكليات الخاصة والمدارس والمعاهد والمتاحف ومكتبات	٨٠	١
		ب	الرحالة الصيني تشان جوركوا	١٠٩	١
		١	لم يعد استخدام المصادر المانية كافيا لتغطية الطلب المتزايد على الملابس – صعوبة بناء مصانع قرب الانهار – صعب ومكلف من الناحية الاقتصادية	٧٠	١
	ج	٢	الايجابية : التواصل بين الحضارات العربية والاسلامية – توجه العرب نحو الاخذ بالعلوم والفنون – تهية العرب من احل استخدام الالات السلبية : خضوع معظم اقطار الوطن العربي للنفوذ والاستعمار الاوروربي	٦٧	٢
	د	١	نظام اجتماعي كان ساندا في اوروبا في العصور الوسطى وقسم المجتمع إلى عدة طبقات مختلفة	٤٤	١
	٢	فاسكو دي جاما- كريستوفر كولمبوس- فيردناند ماجلان – جون كابوت		٢ لكل مفردة نص درجة	

نهاية نموذج الإجابة