



سلطنة عُمان
وزارة التربية والتعليم
المديرية العامة للتربية والتعليم لمحافظة ظفار

المدرسة :

امتحان نهاية الفصل الدراسي للصف التاسع للتعليم (الأساسي/العام)
للعام الدراسي ١٤٣٦/١٤٣٧ هـ - ٢٠١٥/٢٠١٦ م
الفصل الدراسي الثاني - الدور

- زمن الإجابة: ساعة ونصف
- درجة الامتحان: ٤٠ درجة

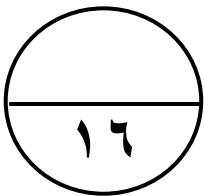
- المادة: الدراسات الاجتماعية
- تنبيه: الأسئلة في (٤) صفحات.

اسم الطالب : الصف :

رقم السؤال	الدرجة الفعلية	الدرجة بالأرقام	الدرجة بالأحرف	توقيع المصحح	توقيع المراجع
السؤال الأول	١٦				
السؤال الثاني	٨				
السؤال الثالث	٨				
السؤال الرابع	٨				
مجموع الدرجات	٤٠ درجة				

أجب عن جميع الأسئلة الآتيةالسؤال الأول: (١٦ درجة)ضع دائرة حول رمز الإجابة الصحيحة لكل مفردة من المفردات الآتية:

- ١) تم وضع أول استراتيجية للتنمية في السلطنة خلال الفترة ما بين ١٩٧٠ و :
 (أ) ١٩٨٠م (ب) ١٩٨٥م (ج) ١٩٩٠م (د) ١٩٩٥م
- ٢) الترتيب السليم للموانئ العُمانية القديمة من الشمال باتجاه الجنوب هو :
 (أ) صحار، مسقط، صور (ب) مسقط، صور، صحار (ج) صحار، صور، مسقط (د) صور، مسقط، صحار
- ٣) أدت شجاعة غاندي وصلابته إلى إعجاب الهنود به ومساندته حتى أطلقوا عليه لقب :
 (أ) المهاتما (ب) البراهما (ج) المهراجا (د) الهودرا
- ٤) تغير الرياح عند رأس الحد من الصعوبات الملاحية التي واجهت عملية الإبحار في :
 (أ) المحيط الهادي (ب) الخليج العربي (ج) المحيط الأطلسي (د) المحيط الهندي
- ٥) يقلل من احتمالية الإصابة بسوء التغذية من فوائد تنظيم الانجاب لـ :
 (أ) الأم (ب) الطفل (ج) الأب (د) للأسرة
- ٦) تنقسم ماليزيا إلى منطقتين هما شبه جزيرة ماليزيا وولايتي صباح و :
 (أ) باجوان (ب) ملقا (ج) سرواك (د) رانجون
- ٧) ساحل هندي مواجه لساحل عمان الشرقي، اشتهر بتصدير نباتات ومحاصيل الهند والثياب المطرزة:
 (أ) ديبيل (ب) دييو (ج) جوادر (د) كجرات
- ٨) اليابان عبارة عن أرخبيل يتكون من أربع جزر كبيرة وتقع عاصمتها طوكيو ضمن جزيرة :
 (أ) هوكايدو (ب) هونشو (ج) شيكوكو (د) كيوشو



السؤال الثاني: (٨ درجات)

أولاً: أجب عن الأسئلة الآتية:

أ) دلل على تطور الأسطول العماني في عهد السيد سعيد بن سلطان.

.....
.....

ب) الجدول الذي أمامك للمقارنة بين مفهومي الانفجار السكاني والنمو السكاني ، أكتب تعريف كل منهما.

النمو السكاني	الانفجار السكاني
.....
.....
.....

ثانياً: علل :

يختلف المناخ في اليابان من منطقة إلى أخرى .

.....
.....

ثالثاً: أ) على ماذا يدل زيارة السفينة صحار لميناء قوانشو (كانتون) في الصين عام ١٩٨١ م .

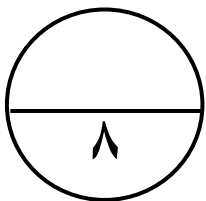
.....
.....
.....

ب) وضح هذه العبارة:

" تدل المكتشفات الأثرية على النشاطات الملاحية العمانية منذ القدم "

.....
.....
.....

ج) اعتمد الصينيون القدماء في حياتهم على الزراعة على أطراف النهر الأصفر، لكنهم عانوا من الآثار التدميرية لفيضانه. أذكر بعض الآثار التدميرية لفيضان النهر الأصفر.

.....
.....
.....

السؤال الثالث: (٨ درجات)

أولاً:

(أ) أين ظهرت الحضارة الهندية القديمة؟

.....

(ب) من منجزات الحضارة الصينية القديمة " استخدام المعادن الصلبة " أذكر دليلاً واحداً على ذلك.

.....

.....

ثانياً: أجب عن ما يلي:

(أ) صنف السفن الآتية حسب نوعها: (الطراد - السنبوق).

القنبارية	المسمارية
١-	١- البتيل
٢- العيكار	٢-

(ب) تشير الدراسات التي أجرتها الأمم المتحدة على الدول النامية إلى أن معدل النمو الاقتصادي للدولة

يزداد بنسبة ٣٩% إذا زاد متوسط التعليم بمعدل سنوات (أكمل).

(ج) ظهرت المجاعات في العديد من الدول الأفريقية مما أدى لموت العديد من البشر يومياً. فسر حدوث هذه الظاهرة.

.....

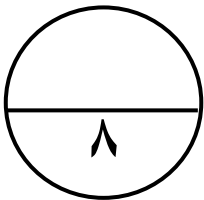
.....

ثالثاً:

(أ) بم تفسر وجود مصطلحات عربية في اللغتين السواحيلية والأوردية ودخول مفردات عربية عديدة إلى لغات شعوب المحيط الهندي.

.....

.....



يتبع/٥

السؤال الرابع : (٨ درجات)

أولاً: (أ) عدد أسباب ارتفاع معدل المواليد . (يكفي بذكر اثنين)

.....

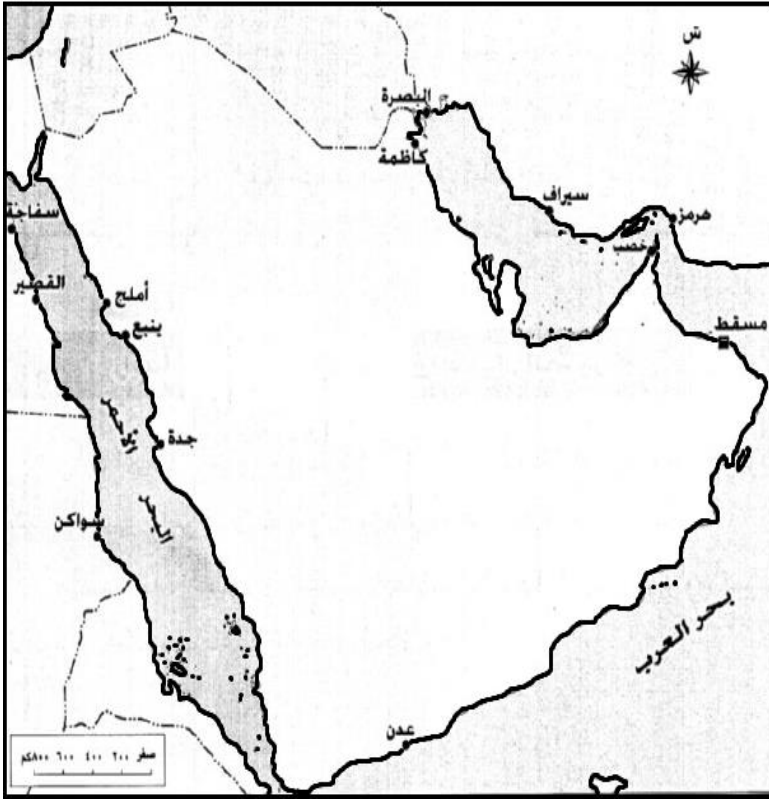
.....

(ب) بين وجه الشبه بين مرضي فقر الدم المنجلي وفقر دم البحر المتوسط (التلاسيميا).

.....

ثانياً: (أ) فيما يلي أحداث بارزة في تاريخ إيران ، رتبها وفق التسلسل التاريخي من الأقدم إلى الأحدث:

- () تعرضت إيران لغزو الإسكندر المقدوني.
 () أصبحت إيران من جزءاً من الدولة العربية الإسلامية.
 () تعرضت إيران لغزو المغول.
 () قيام الدولة الساسانية.



ثالثاً : (أ) أدرس الخريطة التي أمامك ثم أكمل :

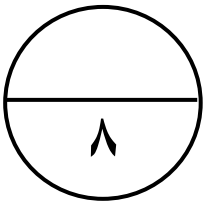
- يقع ميناء سفاجة في دولة
- استخرج من الخريطة ميناء يقع في جمهورية السودان
- حدد على الخريطة موقع الخليج العربي.

(ب) ما المقصود بـ موسم الديمانى ؟

.....

.....

.....



انتهت الأسئلة مع تمنياتنا لكم بالتوفيق والنجاح،،

نموذج إجابة امتحان نهاية الفصل الدراسي للصف التاسع للتعليم (الأساسي / العام)

للعام الدراسي ١٤٣٦هـ / ١٤٣٧هـ - ٢٠١٥/٢٠١٦م

الفصل الدراسي الثاني - الدور

تنبيه : نموذج الإجابة في صفتين


الدرجة الكلية : ٤٠ درجة

المادة : الدراسات الاجتماعية

اجابة السؤال الأول : ١٦ درجة (كل مفردة درجتان)				
المفردة	البديل الصحيح	الدرجة	الصفحة	
١	ج	٢	٣٣	١٩٩٥م
٢	أ	٢	٥٢	صحار، مسقط، صور
٣	أ	٢	٨٢	المهاتما
٤	د	٢	٦٧	المحيط الهندي
٥	ب	٢	٢٢	الطفل
٦	ج	٢	١٠٩	سرواك
٧	د	٢	٥٤	كجرات
٨	ب	٢	٩٥	هونشو
مجموع درجات السؤال الأول		١٦ درجة		

اجابة السؤال الثاني : ٨ درجات							
الجزئية	المفردة	الاجابة الصحيحة	الدرجة	الصفحة			
أولاً	أ	كان الأسطول العماني يأتي في المرتبة الثانية من حيث قوته وتعداده، وكانت له قواعد رئيسية في الخليج العربي والساحل العماني والأفريقي.	٢	٤٨			
	ب	<table border="1" style="width: 100%;"> <tr> <th>النمو السكاني</th> <th>الانفجار السكاني</th> </tr> <tr> <td>زيادة عدد السكان من سنة لأخرى</td> <td>الزيادات الكبيرة في أعداد السكان بالمقارنة مع الموارد المتاحة.</td> </tr> </table>	النمو السكاني	الانفجار السكاني	زيادة عدد السكان من سنة لأخرى	الزيادات الكبيرة في أعداد السكان بالمقارنة مع الموارد المتاحة.	٢ لكل جزئية درجة
النمو السكاني	الانفجار السكاني						
زيادة عدد السكان من سنة لأخرى	الزيادات الكبيرة في أعداد السكان بالمقارنة مع الموارد المتاحة.						
ثانياً	أ	بسبب امتدادها من الشمال إلى الجنوب	١	٩٦			
ثالثاً	أ	على تعميق وتطوير العلاقات بين السلطنة والصين	١	٩٤			
	ب	أشارت الدراسات التاريخية والأثرية الى أن كل الجماعات البشرية التي سكنت السواحل العمانية اضطرت لإستغلال امكانات سواحلها الغنية مقارنة بإمكانياتها البرية.	١	٤٢			
	ج	كثيراً ما تضررت الأراضي الزراعية وتهدمت المدن والقرى.	١	٨٦			
مجموع درجات السؤال الثاني		٨ درجات					

اجابة السؤال الثالث: ٨ درجات								
الصفحة	الدرجة	الاجابة الصحيحة	المفردة	الجزئية				
٧٩	١	في وادي السند حوالي ٢٥٠٠ ق.م	أ	أولاً				
٨٩	١	صناعة الأدوات الحربية والزراعية	ب					
٦١ ٦٣	٢ لكل نقطة درجة واحدة	<table border="1"> <tr> <td>المسمارية</td> <td>القنبارية</td> </tr> <tr> <td>٢- السنيوق</td> <td>١- الطراد</td> </tr> </table>	المسمارية	القنبارية	٢- السنيوق	١- الطراد	أ	ثانياً
المسمارية	القنبارية							
٢- السنيوق	١- الطراد							
٣٠	١	ست سنوات	ب					
١٣	١	زيادة عدد السكان وزيادة الاحتياجات البشرية	ج					
٥٧	٢	دليل على دور العمانيين في نشر اللغة العربية وتأثيرهم الحضاري على البر الأفريقي والبر الهندي.	أ	ثالثاً				
٨ درجات			مجموع درجات السؤال الثالث					

اجابة السؤال الرابع:- ٨ درجات				
الصفحة	الدرجة	الاجابة الصحيحة	المفردة	الجزئية
١١	٢ لكل سبب درجة واحدة	انخفاض الوعي السكاني والاقتصادي ، انخفاض المستوى التعليمي ، انخفاض مستوى الدخل ، الزواج المبكر [يُكتفى بذكر اثنين فقط]	أ	أولاً
٢٥	١	أنها أمراض وراثية.	ب	
٧٤	٢ لكل نقطة نصف درجة	الترتيب وفق التسلسل التاريخي من الأقدم إلى الأحدث: (٤) تعرضت ايران لغزو الألكسندر المقدوني. (٣) أصبحت ايران من جزءا من الدولة العربية الاسلامية. (١) تعرضت إيران لغزو المغول. (٢) قيام الدولة الساسانية.	أ	ثانياً
٥٦	(٢) - نصف درجة - نصف درجة - درجة واحدة	 <ul style="list-style-type: none"> يقع ميناء سقاجة في دولة مصر..... استخرج من الخريطة ميناء يقع في جمهورية السودانسبواكن..... حدد على الخريطة موقع الخليج العربي. 	أ	ثالثاً
٦٥	١	هو الوقت الذي تسافر فيه المواكب من سواحل عمان إلى الهند ومن سواحل شرقي أفريقيا إلى عمان - ويعرف أيضاً بالمفتاح.	ب	
٨ درجات			مجموع درجات السؤال الرابع	

انتهى نموذج الاختبار