



سَلْطَنَةُ عُمَانِ  
وَزَارَةُ التَّرْبِيَةِ وَالتَّعْلِيمِ  
المديرية العامة للتربية والتعليم بمحافظة مسقط  
دائرة التقييم التربوي  
قسم الاختبارات والمقاييس

امتحان الصف السادس  
للعام الدراسي ١٤٣٦/١٤٣٧ هـ - ٢٠١٥/٢٠١٦ م  
الدور الأول - الفصل الدراسي الثاني

- عدد صفحات أسئلة الامتحان: (٦).
- الإجابة في الورقة نفسها.

- المادة: الدراسات الاجتماعية
- زمن الإجابة: ساعة ونصف

اسم الطالب	
المدرسة	
الصف	

السؤال	الدرجة بالأرقام (بالأحمر)		الدرجة بالحروف (بالأحمر)	(التوقيع بالاسم)	
	آحاد	عشرات		المصحح (بالأحمر)	المدقق (بالأخضر)
١					
٢					
٣					
٤					
المجموع			جمعه (بالأحمر)	مراجعة الجمع والتشطيب (بالأزرق)	
المجموع الكلي					

( ١ )

## امتحان الصف السادس

للعام الدراسي ١٤٣٦/١٤٣٧ هـ - ٢٠١٥/٢٠١٦ م

الدور الأول - الفصل الدراسي الثاني

المادة: الدراسات الاجتماعية

**السؤال الأول:** ضع دائرة حول الرمز الدال على الإجابة الصحيحة من بين البدائل المعطاة :

١٦

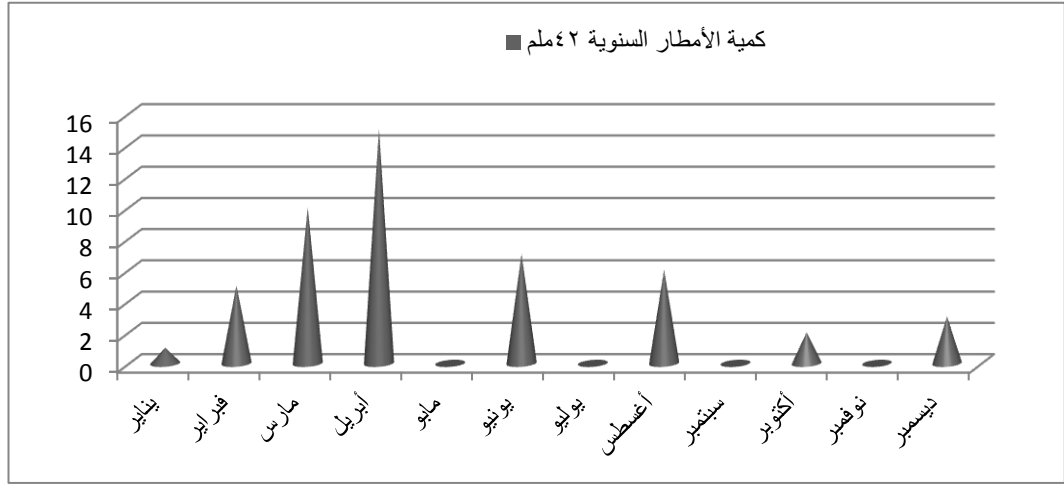
١- الغاز الذي تقوم النباتات الطبيعية بإطلاقه أثناء عملية التمثيل الضوئي :-

أ- أول أكسيد الكربون    ب- الأوكسجين    ج- ثاني أكسيد الكربون    د- الهيدروجين

٢- أفضل درجة حرارة سيليزية لنمو النباتات الطبيعية تلك التي تتراوح بين:-

أ- ( ٣٥ - ٠ )    ب- ( ٣٥ - ٥ )    ج- ( ٣٥ - ١٠ )    د- ( ٣٥ - ١٥ )

٣- أكثر الأشهر مطراً في محطة ثمريت بسلطنة عمان من خلال الشكل البياني هو:



أ- يناير    ب- أبريل    ج- يونيو    د- نوفمبر.

٤- القارة الوحيدة التي لا توجد فيها صحراء :

أ- آسيا    ب- أفريقيا    ج- أوروبا    د- أستراليا.

( ٢ )

امتحان الصف السادس

للعام الدراسي ١٤٣٦/١٤٣٧ هـ - ٢٠١٥/٢٠١٦ م

الدور الأول - الفصل الدراسي الثاني

المادة: الدراسات الاجتماعية

تابع السؤال الأول :



٥- بيئة الحيوان في الصورة التي أمامك:

أ- الغابات المدارية

ب- حشائش السافانا

ج- الصحاري

د- التندرا.

٦- العمل الذي لا يحتاج إلى خبرة و تأهيل دراسي:

أ- النظافة

ب- صناعة السيارات

ج- النجارة

د- صناعة الطائرات.

٧- الأهمية التي تؤكد عليها الآية الكريمة ( والعصر إن الإنسان لفي خسر ):

أ- الصدق

ب- تقدير العمل

ج- الأمانة

د- احترام الوقت.

٨- المهنة التي عمل النبي إدريس عليه السلام فيها:

أ- النجارة

ب- صنع الدروع

ج- الخياطة

د- رعي الغنم.

السؤال الثاني : أجب عن الأسئلة التالية :

أولاً- قارن بين الغابات المدارية والصحاري من حيث :-

أوجه المقارنة	الغابات المدارية	الصحاري
درجة الحرارة		
الأمطار		

(٣)

امتحان الصف السادس

للعام الدراسي ١٤٣٦/١٤٣٧ هـ - ٢٠١٥/٢٠١٦ م

الدور الأول - الفصل الدراسي الثاني

المادة: الدراسات الاجتماعية

تابع السؤال الثاني :

٨

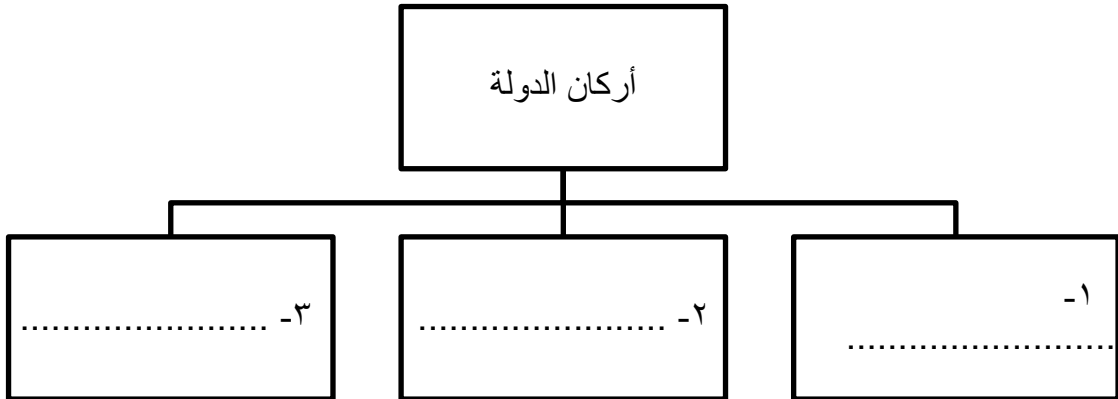
ثانيا: - ١ - أذكر اثنين من أهمية النخيل في حياة سكان الصحراء.

٢-علل :-

أ - تقديم ميدالية جون فيليبس التذكارية الى جلالة السلطان قابوس المعظم.

ب- يتم الحراثة حول المنحدر بدلا من الحراثة من الأعلى إلى الأسفل.

ثالثا: - اكمل مخطط أركان الدولة التالي بما يناسبه:-



(٤)

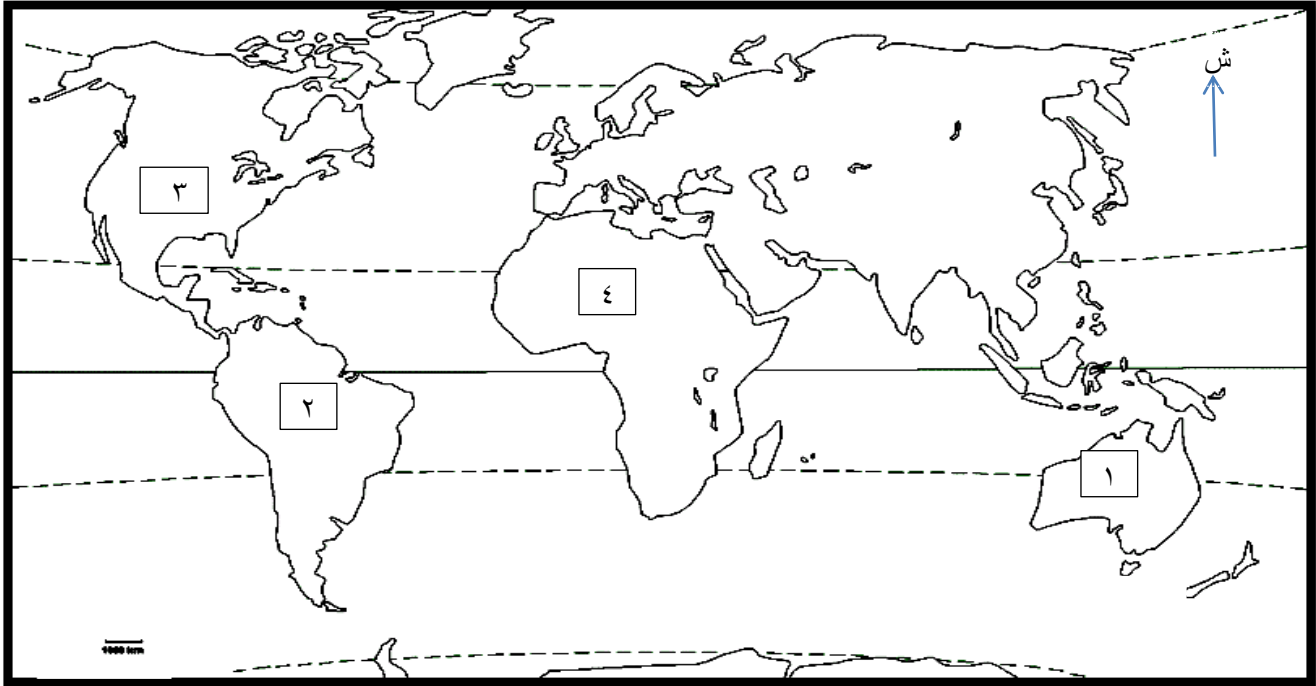
امتحان الصف السادس

للعام الدراسي ١٤٣٦/١٤٣٧ هـ - ٢٠١٥/٢٠١٦ م

الدور الأول - الفصل الدراسي الثاني

المادة: الدراسات الاجتماعية

أولا : أمامك خريطة العالم الصماء ادرسها جيدا ثم أجب عن الأسئلة التالية:-



- ١ - حدد على الخريطة بكتابة اسم الدائرة العرضية التي درجة عرضها (صفر<sup>٥</sup>).
- ٢ - القارة التي توجد فيها الصحراء المشار إليها بالرقم ٤ .....
- ٣ - الرقم الذي يشير الى الدولة التي عقد فيها مؤتمر (قمة الأرض) عام ١٩٩٢م .....

ثانيا: - انسب العبارات التالية الى البيانات التي تنتمي إليها بالاستعانة بما بين القوسين ( الغابات المدارية - حشائش السافانا - الصحاري الحارة )

تظهر في وسط القارات

تقع بين درجتي عرض (١٥° و ٣٠°) شمالي وجنوبي دائرة الاستواء

تنتج حوالي ٤٠% من الأدوية

-٣

-٢

-١

يتبع/٥

(٥)

امتحان الصف السادس

للعام الدراسي ١٤٣٦/١٤٣٧ هـ - ٢٠١٥/٢٠١٦ م

الدور الأول - الفصل الدراسي الثاني

المادة: الدراسات الاجتماعية

تابع السؤال الثالث :-

ثالثا:- اكتب اسم المصطلح الصحيح أمام العبارات الآتية :-

١- بقعة الأرض التي ننتمي إليها، وعاش عليها أبؤنا وأجدادنا (.....).

2- وثيقة رسمية تُعرّف بالدولة، وبنظام الحكم فيها، وتحدد المبادئ الموجهة لسياستها ، وتبين الحقوق والواجبات العامة (.....).

السؤال الرابع :-

أولا : ١ - صنف العبارتين في الجدول الذي أمامك إلى ( حقوق و واجبات):

	- { المهم هو التعليم حتى تحت ظل الشجر } .
	- الاهتمام بالدراسة ، لخدمة البلد .

٢- عدد اثنتين من صور وأشكال الأمانة.

.....

.....

ثانيا: اكتب لفظ ( مرغوب ) أو ( غير مرغوب ) أمام العبارات والسلوكيات التالية:

١-	معاملة الفرد للآخرين بما يحبه لنفسه.
٢-	تنفيذ الأعمال في مواعيدها.
٣-	اللامبالاة في تأدية العمل.
٤-	ترفع الشباب عن الأعمال اليدوية

يتبع/٦

(٦)

امتحان الصف السادس

للعام الدراسي ١٤٣٦/١٤٣٧ هـ - ٢٠١٥/٢٠١٦ م

الدور الأول- الفصل الدراسي الثاني

المادة: الدراسات الاجتماعية

تابع السؤال الرابع :

ثالثا : - أمامك شكل يعبر عن إحدى مشكلات التربة أدرسه جيدا ثم أجب عما يلي :-



١- ما المشكلة التي يعبر عنها الشكل ؟

.....

٢- اقترح حولا لهذه المشكلة.

.....

.....

انتهت الأسئلة مع الدعاء للجميع بالتوفيق والنجاح





المديرية العامة للتربية والتعليم بمحافظة مسقط

حائزة التقويم التربوي

قسم الاختبارات والمقاييس  
نموذج إجابة امتحان الصف السادس

للعام الدراسي ١٤٣٦/١٤٣٧ هـ - ٢٠١٥/٢٠١٦ م

الفصل الدراسي الثاني - الدور الأول

الدرجة الكلية: ( ٤٠ ) درجة

المادة: الدراسات الاجتماعية

تنبيهه: نموذج الإجابة في (٧) صفحات

أولاً: إجابة السؤال الموضوعي:-

الدرجة الكلية: ( ١٦ ) درجة				إجابة السؤال الأول	
المخرج التعليمي	الصفحة	الدرجة	الإجابة	البديل الصحيح	المفردة
	١٤	٢	ثاني أكسيد الكربون	ج	١
	١٧	٢	( ١٠ - ٣٥ )	ج	٢
	٣٢	٢	أبريل	ب	٣
	٣١	٢	أوروبا	ج	٤
	٢٦	٢	حشائش السافانا	ب	٥
	٧٥	٢	النظافة	أ	٦
	٦٣	٢	احترام الوقت	د	٧
	٧٢	٢	الخيطة	ج	٨
١٦			المجموع		

(٢)

تابع نموذج إجابة امتحان الصف السادس

للعام الدراسي ١٤٣٦/١٤٣٧ هـ - ٢٠١٥/٢٠١٦ م

الفصل الدراسي الثاني - الدور الأول

المادة: الدراسات الاجتماعية

ثانياً: إجابة الأسئلة المقالية:-.

إجابة السؤال الثاني		الدرجة الكلية : ( ٨ ) درجة				
الجزئية	المفردة	الإجابة الصحيحة				
الدرجة	الصفحة	المخرج التعليمي				
أولاً	المقارنة	الغابات المدارية	الصحاري	درجتان ١٩،		
	درجة الحرارة	ارتفاع درجات الحرارة (حار)	ترتفع نهاراً تزيد عن (٥٠س)، وتنخفض ليلاً الى الصفر في الشتاء.	لكل نصف درجة ٣٠، ٢٢		
	الأمطار	سقوط كميات كبيرة طوال العام على شكل زخات قوية وتزيد عن ٢٥٠٠ ملم.	نادرة، تقل كميتها سنوياً عن ٢٠٠ ملم.			
ثانياً	١	<ul style="list-style-type: none"> <li>- يستخدم السعف في صناعة السلال والحصر والعرشان والوقود.</li> <li>- تستخدم الأوراق علفاً للحيوانات.</li> <li>- لإنتاج الرطب.</li> <li>- أكل التمر والدبس.</li> <li>- يستفاد من جذع النخلة في بناء سقوف المنازل.</li> <li>- يساعد ظل النخلة على تلطيف الجو. <u>يكتفى ب ٢ فقط</u></li> </ul>			درجة لكل نصف درجة ٣٥	
	٢	أ- تقديراً واعترافاً من الاتحاد الدولي بدور جللته في حماية البيئة العمانية والعالمية وصون مواردها الطبيعية لصالح البشر.			٤٨	
		ب- صيانة التربة وحمايتها من الانجراف.			٤٠	

المخرج التعليمي	الدرجة	الإجابة الصحيحة	الجزئية
٥٠	٣ درجات لكل مفردة درجة	<p style="text-align: center;">أركان الدولة</p> <pre> graph TD     A[أركان الدولة] --- B[١- الأرض]     A --- C[٢- المواطن]     A --- D[٣- الحكومة]           </pre>	ثالثا

(٥)

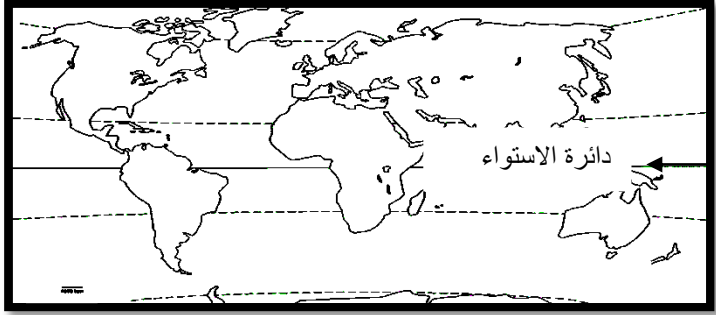
تابع نموذج إجابة امتحان الصف السادس

للعام الدراسي ١٤٣٦/١٤٣٧ هـ - ٢٠١٥/٢٠١٦ م

الفصل الدراسي الثاني - الدور الأول

المادة: الدراسات الاجتماعية

ثانياً: إجابة الأسئلة المقالية:-.

الدرجة الكلية: ( ٨ ) درجة			إجابة السؤال الثالث:		
الجزئية	المفردة	الإجابة الصحيحة	الدرجة	الصفحة	المخرج التعليمي
أولاً	-١		١	٣٠	
	-٢	أفريقيا.	١	٣٠	
	-٣	( ٢ ) .	١	٤٧	
ثانياً	-١	- الغابات المدارية.	١	٢٤	
	-٢	- الصحاري الحارة.	١	٣٠	
	-٣	- حشائش السافانا.	١	٢٥	

## إجابة السؤال الثالث:

## الدرجة الكلية: ( ٨ ) درجة

الجزئية	المفردة	الإجابة الصحيحة	الدرجة	الصفحة	المخرج التعليمي
ثالثا	١	- الوطن.	١	٥٠	
	٢	- النظام الأساسي.	١	٥١	

(٦)

تابع نموذج إجابة امتحان الصف السادس

للعام الدراسي ١٤٣٦/١٤٣٧ هـ - ٢٠١٥/٢٠١٦ م

الفصل الدراسي الثاني - الدور الأول

المادة: الدراسات الاجتماعية

تابع ثانياً: إجابة الأسئلة المقالية:-

الدرجة الكلية : ( ٨ ) درجة		تابع: إجابة السؤال الرابع			
المخرج التعليمي	الصفحة	الدرجة	الإجابة الصحيحة	المفردة	الجزئية
	٥٨	١	- حقوق.	-١	
	٥٣	١	- واجبات.		
	٦٢	درجتان لكل درجة واحدة فقط	- أداء ما فرضه الله علينا مثل : الصلاة والصوم والزكاة. - المحافظة على أسرار الأسرة وأموالها وممتلكاتها. - المحافظة على خدمات الدولة. - المحافظة على ما في مدرستنا من أثاث وأجهزة وكتب. - المحافظة على الودائع والأمانات وردها الى أصحابها. <u>يكتفى ب ٢ فقط.</u>	-٢	أولاً
	٦٠	درجتان لكل نصف درجة.	- مرغوب.	-١	
	٦٦		- مرغوب.	-٢	
	٧٠		- غير مرغوب.	-٣	ثانياً
	٧٤		- غير مرغوب.	-٤	
	٣٩،٤٥	١	- الرعي الجائر.	١	ثالثاً

الجزئية	المفردة	الإجابة الصحيحة	الدرجة	الصفحة	المخرج التعليمي
	٢	- <u>الرعي المنظم</u> ، بحيث تتناسب أعداد حيوانات الرعي مع كمية النباتات الرعوية التي تنمو في المرعى سنويا.	١	٤٠، ٤٥	

نهاية نموذج الإجابة