



سَلْطَنَةُ عُمَانِ
وَزَارَةُ التَّرْبِيَةِ وَالتَّحْلِيمِ

المديرية العامة للتربية والتعليم بمحافظة مسقط
دائرة التقويم التربوي
قسم الاختبارات والمقائيس

امتحان الصف الثامن

للعام الدراسي ١٤٣٦/١٤٣٧ هـ - ٢٠١٥/٢٠١٦ م
الدور الأول - الفصل الدراسي الثاني

- عدد صفحات أسئلة الامتحان: (٨).
- الإجابة في الورقة نفسها.

- المادة: الدراسات الاجتماعية
- زمن الإجابة: ساعة ونصف

اسم الطالب	
المدرسة	
الصف	

السؤال	الدرجة بالأرقام (بالأحمر)		الدرجة بالحروف (بالأحمر)	(التوقيع بالاسم)	
	آحاد	عشرات		المصحح (بالأحمر)	المدقق (بالأخضر)
١					
٢					
٣					
٤					
المجموع			جمعه (بالأحمر)	مراجعة الجمع والتشطيب (بالأزرق)	
المجموع الكلّي					

(١)
امتحان الصف الثامن
للعام الدراسي ١٤٣٦/١٤٣٧ هـ - ٢٠١٥/٢٠١٦ م
الدور الأول - الفصل الدراسي الثاني
المادة: الدراسات الاجتماعية

السؤال الأول: ضع دائرة حول الرمز الدال على الإجابة الصحيحة من بين البدائل المعطاة:

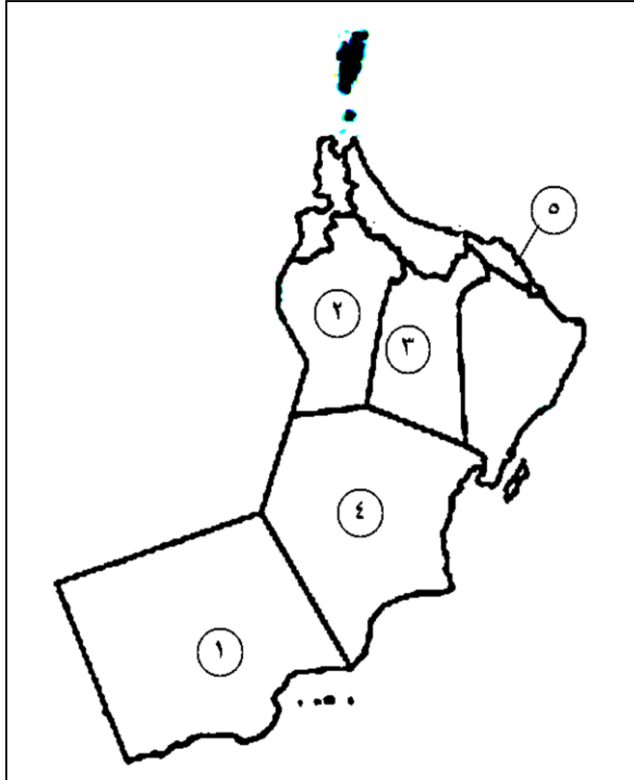
١- القطاع الذي يستهلك أكثر من ثلثي المياه مقارنة مع الاستخدامات المختلفة:
أ- الصناعة. ب- التجارة. ج- الزراعة. د- الاستخدام المنزلي.

٢- أحواض مائية داخلية محدودة المساحة محاطة باليابس من جميع الجهات:
أ- المستنقعات. ب- البحيرات. ج- الآبار. د- الينابيع.

٣- مؤلف كتاب (الامير) الذي ضمنه كل أفكاره عن أصول الحكم وفن السياسة:
أ- دانتي. ب- مايكل انجلو. ج- كوبرنيكس. د- ميكافيلي .

٤- العام الميلادي الذي تمكن فيه البريطانيون من صناعة (آلة الغزل):
أ- ١٧٦٤ ب- ١٧٦٥ ج- ١٧٦٦ د- ١٧٦٧

٥- الجدول الصحيح الذي يمثل محافظتي مسقط والداخلية حسب الموقع من خلال خريطة سلطنة عمان التي
أمامك:



المحافظة	الرقم الدال عليها
مسقط	٥
الداخلية	٢

المحافظة	الرقم الدال عليها
مسقط	٤
الداخلية	٢

المحافظة	الرقم الدال عليها
مسقط	٥
الداخلية	٣

المحافظة	الرقم الدال عليها
مسقط	١
الداخلية	٤

(٢)

امتحان الصف الثامن

للعام الدراسي ١٤٣٦/١٤٣٧ هـ - ٢٠١٥/٢٠١٦ م

الدور الأول-الفصل الدراسي الثاني

المادة: الدراسات الاجتماعية

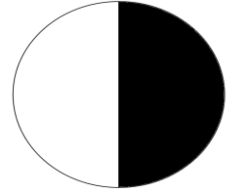
تابع السؤال الأول:

٦- أي الأشكال التالية التي تعبر عن النسبة المئوية للمياه المالحة؟



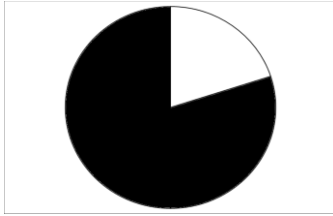
ب -

مياه مالحة



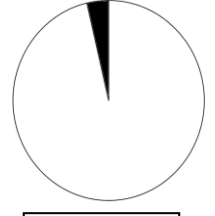
أ -

مياه مالحة



د -

مياه مالحة



ج -

مياه مالحة

٧- تتميز مدينة صلالة في فصل الصيف بما يُسمى محليا "بالخريف" ، ويمتد من:

أ - أواخر يوليو إلى أواخر سبتمبر.

ب - أواخر يونيو إلى أواخر أكتوبر.

ج - أواخر يوليو إلى أواخر أكتوبر.

د - أواخر يونيو إلى أواخر سبتمبر.

٨- الصورة التي امامك تمثل أحد إنجازات عصر النهضة المباركة ويقع في احدى المدن التالية:

أ-نزوى.

ب- صحار.

ج- مسقط.

د- الرستاق.



(٣)

امتحان الصف الثامن

للعام الدراسي ١٤٣٦/١٤٣٧ هـ - ٢٠١٥/٢٠١٦ م

الدور الأول-الفصل الدراسي الثاني

المادة: الدراسات الاجتماعية

السؤال الثاني: أجب عن الأسئلة الآتية:

أولاً: اذكر واحداً مما يأتي:

أ- مميزات النقل البحري.

.....

ب- بوابات أو مداخل مدينة مسقط.

.....

ثانياً: ١- ارسم (دورة المياه في الطبيعة) موضحاً مراحل الدورة المائية.



الرسم

(٤)
امتحان الصف الثامن
للعام الدراسي ١٤٣٦/١٤٣٧هـ - ٢٠١٥/٢٠١٦م
الدور الأول-الفصل الدراسي الثاني
المادة: الدراسات الاجتماعية

تابع السؤال الثاني:

٢- فسر مما يأتي:

أ- بدأت النهضة في ايطاليا قبل غيرها من الدول الأوروبية.

.....
.....


ب - بناء سدود التغذية الجوفية في سلطنة عمان.

.....
.....

ثالثاً:

ادرس الشكل المقابل ثم أجب عن الأسئلة الآتية:

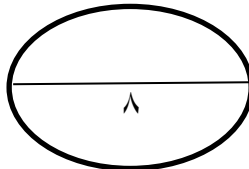
١- ما اسم الآلة الظاهرة في الصورة؟



.....

٢ - اذكر نتيجة واحدة ترتبت على استخدام الآلة الظاهرة في الصورة.

.....
.....
.....



(٥)

امتحان الصف الثامن

للعام الدراسي ١٤٣٦/١٤٣٧ هـ - ٢٠١٥/٢٠١٦ م

الدور الأول- الفصل الدراسي الثاني

المادة: الدراسات الاجتماعية

السؤال الثالث: أجب عن الأسئلة الآتية:

أولاً: أعط دليلاً واحداً لكلاً مما يأتي:

أ- وجود نشاط تجاري واسع للتصدير والاستيراد منذ القديم في مدينة صلالة.

ب- أهمية الأثواب الصحارية وجودتها.

ج- التأثير السلبي للثورة الصناعية على الوطن العربي.


ثانياً: - "تؤدي كثرة استنزاف المياه الجوفية الى انخفاض منسوبها" في ضوء هذه العبارة أجب عن الآتي:
أ- اذكر سبباً واحداً أدى إلى ظهور المشكلة التي نتحدث عنها العبارة في سلطنة عمان.

ب - ما الجهد الأمثل الذي أتبعته حكومة سلطنة عمان في كيفية حل المشكلة التي نتحدث عنها العبارة؟

ج- اقترح حلاً للمشكلة التي نتحدث عنها العبارة.

ثالثاً:

قارن بين المعلم رقم (١) والمعلم (٢) في الجدول التالي:

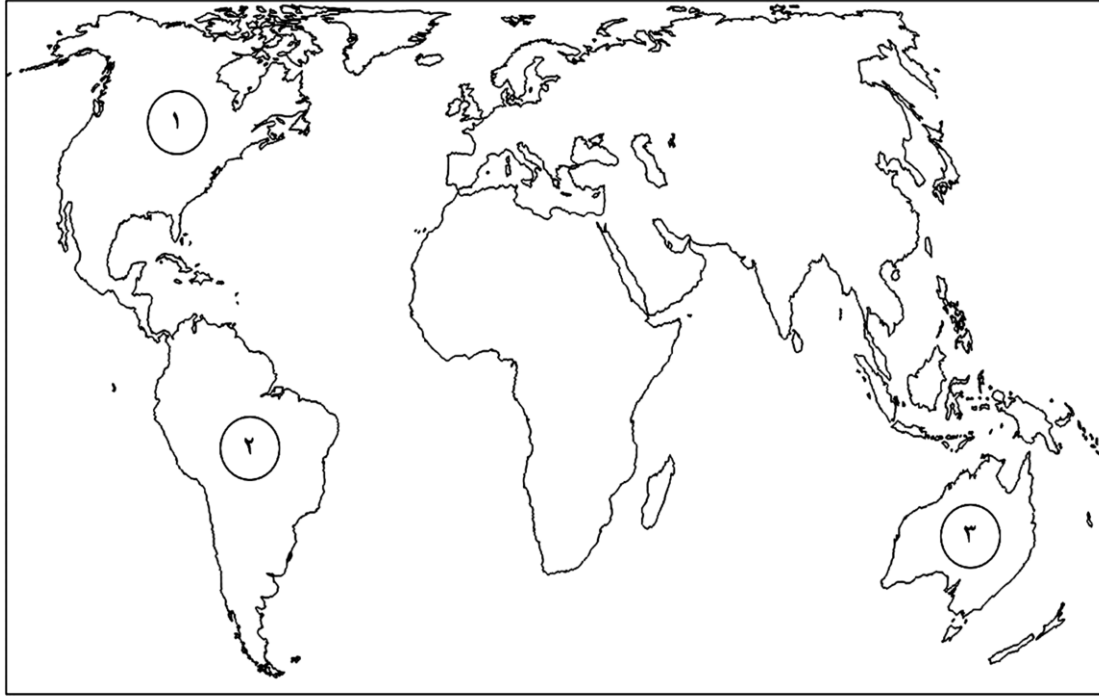


وجه المقارنة	اسم المعلم	الولاية التي يقع فيها
رقم المعلم		
(١)
(٢)

(٦)
امتحان الصف الثامن
للعام الدراسي ١٤٣٦/١٤٣٧هـ - ٢٠١٥/٢٠١٦م
الدور الأول- الفصل الدراسي الثاني
المادة: الدراسات الاجتماعية

السؤال الرابع:

أولاً: مستعيناً بخريطة العالم التي امامك اجب عن الاسئلة التالية:



١- حدد على الخريطة الدولتين اللتين انطلق منهما الاكتشافات الجغرافية باستخدام الرمز (●)

٢- ما الرقم الذي يشير في الخريطة إلى القارة التي اكتشفها كولومبس وأطلق عليها اسم "العالم الجديد"؟

٣- ارسم على الخريطة طريق الحرير البري الممتد من شمال غرب الصين إلى سواحل البحر المتوسط باستخدام الرمز (—)

٤ - ظلل المنطقة التي وصل إليها (فاسكودي جاما) ثم عاد منها إلى البرتغال بالتوابل والبهارات باستخدام الرمز ■

(٧)

امتحان الصف الثامن

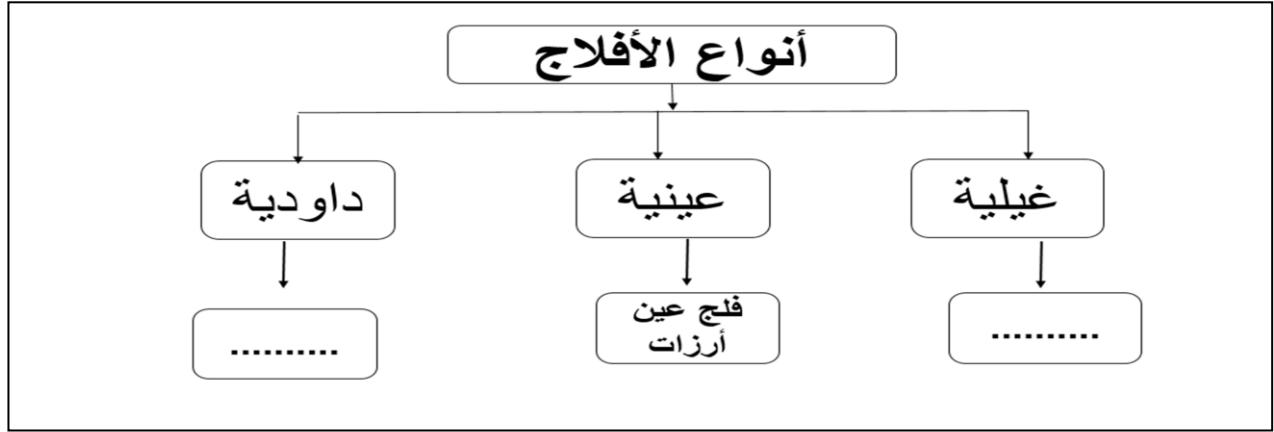
للعام الدراسي ١٤٣٦/١٤٣٧ هـ - ٢٠١٥/٢٠١٦ م

الدور الأول- الفصل الدراسي الثاني

المادة: الدراسات الاجتماعية

تابع : السؤال الرابع :

ثانياً: أ- صنف الأفلاج التالية حسب الشكل الآتي:
(فلج الملكي- فلج المزارع)



ب- " تتمتع مدينة الرستاق بالعديد من المقومات السياحية تتمثل في المعالم التراثية والأودية والعيون والينابيع المائية" في ضوء هذه العبارة أجب عن الأسئلة الآتية:
١- أعط مثلاً واحداً على العيون المائية الحارة في مدينة الرستاق.

.....

٢- ما الهدف من زيارة السياح للعيون المائية في سلطنة عمان؟

.....

.....

.....

(٨)

امتحان الصف الثامن


للعام الدراسي ١٤٣٦/١٤٣٧ هـ - ٢٠١٥/٢٠١٦ م

الدور الأول- الفصل الدراسي الثاني

المادة: الدراسات الاجتماعية

تابع : السؤال الرابع :

ثالثاً: ادرس الصورة المقابلة ثم أجب عن الأسئلة الآتية:



١- ما اسم السفينة الظاهرة في الصورة؟

.....

٢- استخرج من الصورة ما يدل على أن الرحلة التي انطلقت من خلالها السفينة عام ١٩٨٠ تشبه رحلات العمانيين في الزمن القديم.

.....

.....

.....

.....

.....

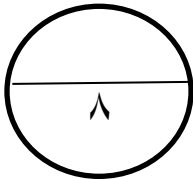
.....

٣- إلى أين أبحرت هذه السفينة؟

.....

.....

.....



انتهت الأسئلة مع تمنياتنا لكم بالتوفيق والنجاح



سَلْطَنَةُ عُمَانِ
وَزَارَةُ التَّعْلِيمِ وَالتَّحْقِيقِ

المديرية العامة للتربية والتعليم بمحافظة مسقط
دائرة التقويم التربوي
قسم الاختبارات والمقاييس

نموذج إجابة امتحان الصف الثامن
للعام الدراسي ١٤٣٦/١٤٣٧ هـ - ٢٠١٥/٢٠١٦ م
الفصل الدراسي الثاني - الدور الأول

المادة: الدراسات الاجتماعية
تبنيه: نموذج الإجابة في (٥) صفحات
الدرجة الكلية: (٤٠) درجة

أولاً: إجابة السؤال الموضوعي:-

الدرجة الكلية: (١٦) درجة			إجابة السؤال الأول								
المخرج التعليمي	الصفحة	الدرجة	الإجابة	البديل الصحيح	المفردة						
تذكر	١٩	٢	الزراعة	ج	١						
تذكر	١٥	٢	البحيرات	ب	٢						
تذكر	٤٧	٢	ميكافيلي	د	٣						
تذكر	٦٤	٢	١٧٦٤	أ	٤						
قدرات عليا	٨٤ و٧١	٢	<table border="1"><thead><tr><th>المحافظة</th><th>الرقم الدال عليها</th></tr></thead><tbody><tr><td>مسقط</td><td>٥</td></tr><tr><td>الداخلية</td><td>٣</td></tr></tbody></table>	المحافظة	الرقم الدال عليها	مسقط	٥	الداخلية	٣	ج	٥
المحافظة	الرقم الدال عليها										
مسقط	٥										
الداخلية	٣										
فهم وتطبيق	١٠	٢		ب	٦						
تذكر	١١٣	٢	أواخر يونيو الى أواخر سبتمبر	د	٧						
تذكر	٩١	٢	نزوى	أ	٨						
١٦ درجة			المجموع								

(٢)
تابع نموذج إجابة امتحان الصف الثامن
للعام الدراسي ١٤٣٦/١٤٣٧ هـ - ٢٠١٥/٢٠١٦ م
الفصل الدراسي الثاني - الدور الأول
المادة: الدراسات الاجتماعية

ثانياً: إجابة الأسئلة المقالية:-

إجابة السؤال الثاني				
الدرجة الكلية : (٨) درجات				
الجزئية	المفردة	الإجابة الصحيحة	الدرجة	الصفحة
أولاً	أ	أرخص أنواع النقل/ الأقل خطورة/ الأكثر اقتصاداً. يكتفى بوحدة.	١	٢٢
	ب	باب المتاعيب /الباب الكبير/ الباب الصغير. يكتفى بواحد.	١	٧٤
	١	 <p>يُعطى الطالب نصف درجة على الرسم ونصف درجة لكل مرحلة من المراحل الموضحة على الرسم مثل: تكاثف السحب أو سقوط الأمطار أو التسرب وهكذا. يُكتفى بثلاث مراحل.</p>	٢	١٢
ثانياً	٢-أ	<ul style="list-style-type: none"> - موقعها التجاري بين أوروبا وقارتي آسيا وأفريقيا. - تحوّل الكنيسة في أفكارها نحو التجديد والانفتاح. - ظهور طبقة من الأغنياء الذين أسهموا بأموالهم في تشجيع العلوم و الآداب والفنون والترجمة. <p>يكتفى بواحد</p>	١	٤٥
	٢-ب	زيادة مخزون المياه الجوفية.	١	٢٩
ثالثاً	١	المحرك البخاري.	١	
	٢	تطورت عملية الإنتاج/ أصبح العمل أسرع وأكثر إنتاجاً/ تم الاستغناء تدريجياً عن الآلات التي تدار بواسطة المساقط المائية. يكتفى بوحدة.	١	٦٥

(٣)
تابع نموذج إجابة امتحان الصف الثامن
للعام الدراسي ١٤٣٦/١٤٣٧ هـ - ٢٠١٥/٢٠١٦ م
الفصل الدراسي الثاني - الدور الأول
المادة: الدراسات الاجتماعية

تابع :ثانياً: إجابة الأسئلة المقالية:-.

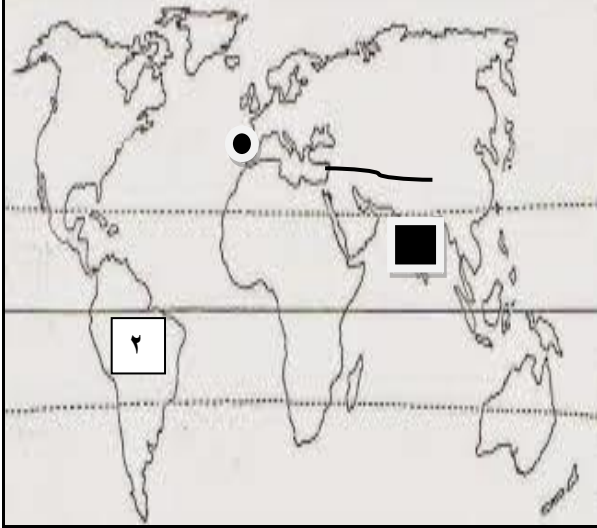
إجابة السؤال الثالث :					
الدرجة الكلية : (٨) درجات					
المخرج التعليمي	الصفحة	الدرجة	الإجابة الصحيحة	المفردة	الجزئية
فهم وتطبيق	١٠٩	١	<p>الأثار المختلفة من كتابات ونقوش ومعالم في المواقع الأثرية والتي من بينها منطقة البليد / يعد اللبان والخيول الأصيلة والتوابل والمنتجات الزراعية كانت من أهم الصادرات إلى الأسواق العالمية القديمة/ ما ذكر في كتابات الرحالة والمؤرخين مثل "ماركو بولو" و"ابن بطوطة" والرحالة الصيني "تشان جوركوا". يكتفى بوحدة فقط .</p>	أ	
فهم وتطبيق	١٠١	١	<p>ما ذكره ابن هشام " أن الرسول الله صل الله عليه وسلم كُفّن في ثلاثة أثواب، ثوبين صحاريين (نسبة إلى صحار)، وبُرِدِ حبرة".</p>	ب	أولا
فهم وتطبيق	٦٧	١	<p>كان الوطن العربي، الغني بموارده، ضحية التنافس بين الدول الأوروبية الكبرى في البحث عن المواد الطبيعية، فقد خضعت معظم أقطار الوطن العربي للنفوذ الأوروبي الذي قادتته بريطانيا وفرنسا وإيطاليا. يراعى اسلوب الطالب.</p>	ج	

(٤)
تابع نموذج إجابة امتحان الصف الثامن
للعام الدراسي ١٤٣٦/١٤٣٧ هـ - ٢٠١٥/٢٠١٦ م
الفصل الدراسي الثاني - الدور الأول
المادة: الدراسات الاجتماعية

تابع: ثانياً: إجابة الأسئلة المقالية:

إجابة السؤال الثالث :														
الدرجة الكلية : (٨) درجات														
الجزئية	المفردة	الإجابة الصحيحة	الدرجة	الصفحة	المخرج التعليمي									
ثانياً	أ-	زيادة عدد السكان وزيادة الآبار المحفورة/ استخدام أدوات الحفر الحديثة التي تصل الى أعماق بعيدة/ عدم قدرة الامطار المتساقطة على تعويض الكميات المستنزفة/ الإسراف في استخدام المياه للأغراض الحياتية المختلفة سواء داخل المنزل أم في المصانع والمزارع. يكتفى بواحد.	١	٣٦	فهم									
	ب	تحلية مياه البحر/ إنشاء محطات تحلية المياه في مختلف محافظات السلطنة.	١	٣٧	تذكر									
	ج-	عمل برامج توعوية عن ترشيد استهلاك المياه/ استخدام التقنيات الحديثة في الري/ معالجة مياه الصرف الصحي واستخدامه في مجال الصناعة والبستنة وغسيل السيارات. يكتفى بواحدة كما يراعى أسلوب الطالب بما يفيد المعنى الصحيح.	١	٣٧	قدرات عليا									
ثالثاً		<table border="1"> <thead> <tr> <th>وجه المقارنة رقم المعلم</th> <th>اسم المعلم</th> <th>الولاية التي يقع فيها</th> </tr> </thead> <tbody> <tr> <td>١</td> <td>قلعة نزوى</td> <td>نزوى</td> </tr> <tr> <td>٢</td> <td>قلعة الميراني</td> <td>مسقط</td> </tr> </tbody> </table>	وجه المقارنة رقم المعلم	اسم المعلم	الولاية التي يقع فيها	١	قلعة نزوى	نزوى	٢	قلعة الميراني	مسقط	٢	٨٦ ٧٥	فهم وتطبيق
وجه المقارنة رقم المعلم	اسم المعلم	الولاية التي يقع فيها												
١	قلعة نزوى	نزوى												
٢	قلعة الميراني	مسقط												

(٥)
 تابع نموذج إجابة امتحان الصف الثامن
 للعام الدراسي ١٤٣٦/١٤٣٧ هـ - ٢٠١٥/٢٠١٦ م
 الفصل الدراسي الثاني - الدور الأول
 المادة: الدراسات الاجتماعية

إجابة السؤال الرابع :							
الدرجة الكلية: (٨) درجات							
المخرج التعليمي	الصفحة	الدرجة	الإجابة الصحيحة	الجزئية			
قدرات عليا	٥٣	نصف		أولا			
	٥٨	نصف					
	٥٦	نصف					
	٥٧	نصف					
تذكر	٣٢	١	<p>أنواع الأفلاج</p> <pre> graph TD A[أنواع الأفلاج] --> B[داودية] A --> C[عينية] A --> D[غيلية] B --> E[فلج المعنى] C --> F[فلج عين أرزات] D --> G[فلج المزارع] </pre>	<p>أ- درجة لكل مفردة نصف</p> <p>ب-</p>			
			٩٨		١	١- عين الكسفة/ عين الخضراء عين الصَّانغي. يكتفى بوحدة	ثانيا
			٩٨		١	٢- الاستحمام/ الاستشفاء/ النزهة. يكتفى بوحدة	
تطبيق	١٠٣	١	١- السفينة صحار	ثالثا			
		١	٢- السفينة شراعية / مصنوعة من الخشب يراعى اسلوب الطالب.				
		١	٣- ابحرت الى الصين / كانتون				

نهاية نموذج الاجابة