



امتحان الصف الحادي عشر
للعام الدراسي ١٤٣٦/١٤٣٧هـ - ٢٠١٥/٢٠١٦م
الدور الأول - الفصل الدراسي الثاني

- المادة: الدراسات الاجتماعية (هذا وطني في السيرة الحضارية لعمان) • عدد صفحات أسئلة الامتحان: (٨).
- زمن الإجابة: ساعتان.
- الإجابة في الورقة نفسها.

اسم الطالب	
المدسة	
الصف	

السؤال	الدرجة بالأرقام (بالأحمر)		الدرجة بالحروف (بالأحمر)	(التوقيع بالاسم)	
	آحاد	عشرات		المصحح (بالأحمر)	المدقق (بالأخضر)
١					
٢					
٣					
٤					
المجموع				جمعه (بالأحمر)	مراجعة الجمع والتشطيب (بالأزرق)
المجموع الكل	٦٠				

امتحان الصف الحادي عشر
 للعام الدراسي ١٤٣٦/١٤٣٧ هـ - ٢٠١٥/٢٠١٦ م
 الدور الأول - الفصل الدراسي الثاني


- المادة: الدراسات الاجتماعية (هذا وطني في السيرة الحضارية لعمان) • زمن الإجابة: ساعتان .
- الأسئلة في (٨) صفحات.
- الإجابة في الورقة نفسها.

أجب عن جميع الأسئلة الآتية
السؤال الأول : ضع دائرة حول رمز الإجابة الصحيحة من بين البدائل المعطاة:

(١) النشاط الاقتصادي الذي اعتمد عليه سكان الداخل في عُمان:

- أ - الملاحة. ب - بناء السفن. ج - التعدين. د - التجارة الخارجية.

(٢) تمثل الصورة التي أمامك مؤسسة من مؤسسات الثقافة العمانية تعرف باسم :



أ - المكتبات. ب - الكتاتيب.

ج - المجالس. د - المدراس.


(٣) أداة قديمة استخدمها العُمانيون لتقطيع الأخشاب وعمل منحوتات متعددة الأشكال:

- أ - الفؤوس. ب - الخناجر. ج - الرماح. د - الأزاميل.

(٤) المدرسة التي ظهرت زمن السلطان فيصل بن تركي في مسقط:

- أ - الوكيل. ب - الزواوي. ج - الخور. د - جبرين.

(٥) المادة المحلية المستخدمة في البناء في الصورة التي أمامك:



أ - الطين. ب - الحجارة.

ج - الجص. د - الصاروج.

(٦) السلطان الذي أنشئت في عهده أول جمعية عربية في زنجبار سنة ١٩٠٨ م:

- أ - ماجد بن سعيد. ب - سعيد بن سلطان. ج - برغش بن سعيد. د - علي بن حمود.

(٢)

تابع :امتحان الصف الحادي عشر
للعام الدراسي ١٤٣٦/١٤٣٧ هـ — ٢٠١٥ / ٢٠١٦ م
الدور الأول - الفصل الدراسي الثاني
المادة : الدراسات الاجتماعية (هذا وطني)

تابع السؤال الأول: ضع دائرة حول رمز الإجابة الصحيحة من بين البدائل المعطاة :



٧) تمثل الصورة التي أمامك ميزة من مميزات النمط المعماري للمساجد العمانية :

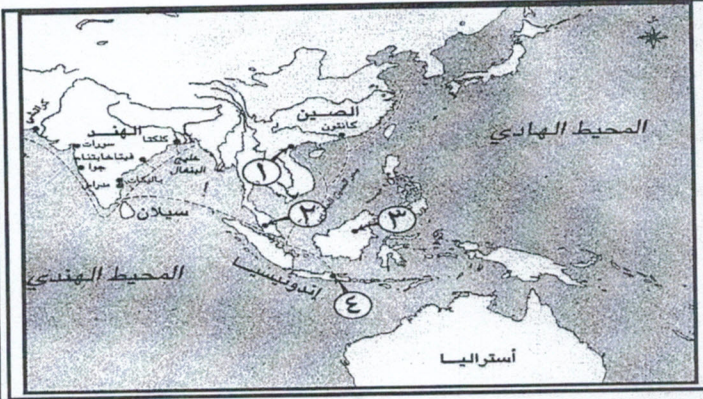
أ - البساطة. ب - التعقيد.

ج - الزخرفة. د - التمازج.

٨) الطريقة التي يتم بها تعيين أصحاب السعادة المُكرمين في مجلس الدولة :

أ - مرسوم سلطاني. ب - قرار وزاري. ج - الانتخاب. د - التزكية.

٩) الرقم الذي يمثل السلطنة التي أسسها عبدالله بن القاسم في شبه جزيرة الملايو:



أ - ١ ب - ٢

ج - ٣ د - ٤

١٠) الحدث الذي تمثله الصورة التي أمامك عام ١٩٧٠م:

أ	أول جولة سامية لجلالة السلطان قابوس بن سعيد.
ب	أول وصول لجلاله السلطان إلى مسقط بعد توليه الحكم.
ج	أول احتفالية بالعيد الوطني.
د	أول استقبال لجلالة السلطان للوفود الخارجية.



١١) عدد الأبواب التي يتكون منها النظام الأساسي لسلطنة عُمان:

د - ٩

ج - ٨

ب - ٧

أ - ٦

(٣)

تابع: امتحان الصف الحادي عشر
للعام الدراسي ١٤٣٦/١٤٣٧ هـ — ٢٠١٥/٢٠١٦ م
الدور الأول - الفصل الدراسي الثاني
المادة: الدراسات الاجتماعية (هذا وطني)

تابع السؤال الأول: ضع دائرة حول رمز الإجابة الصحيحة من بين البدائل المعطاة:

١٢) الخط الزمني الذي يبيّن مراحل تطور تنظيم القضاء في سلطنة عُمان:

١٩٧١ م	١٩٧٥ م	١٩٩٩ م	أ -
وزارة العدل	ديوان التشريع	المجلس الأعلى للقضاء	
١٩٧١ م	١٩٧٥ م	١٩٩٩ م	ب -
وزارة العدل	المجلس الأعلى للقضاء	ديوان التشريع	
١٩٧١ م	١٩٧٥ م	١٩٩٩ م	ج -
ديوان التشريع	وزارة العدل	المجلس الأعلى للقضاء	
١٩٧١ م	١٩٧٥ م	١٩٩٩ م	د -
المجلس الأعلى للقضاء	ديوان التشريع	وزارة العدل	

السؤال الثاني:

١) اذكر اثنين فقط من:

أ - عوامل توجه النشاط العماني التجاري إلى شرق أفريقيا.

.....

.....

ب - أسماء العُمانيات اللاتي أسهمن في التاريخ الثقافي العماني.

.....

.....

٢ - عرّف المفاهيم والمصطلحات الآتية:

أ - القمريات.

.....

.....

ب - الأقاليم الغبارية.

.....

.....

(٤)
تابع : امتحان الصف الحادي عشر
للعام الدراسي ١٤٣٦/١٤٣٧ هـ — ٢٠١٥ / ٢٠١٦ م
الدور الأول - الفصل الدراسي الثاني
المادة : الدراسات الاجتماعية (هذا وطني)

تابع السؤال الثاني :

ب) انظر الجدول الذي أمامك، ثم قم بتكلمته حسب ما درست سابقا في موضوع "النشاط الاقتصادي لعُمان":

اسم النشاط	أمثلة	المدن العُمانية التي اشتهرت به
التجارة في الموارد الزراعية	١ - ٢ -	- المدن الساحلية العمانية
العطريات والبخور	- اللبان - المر	٣ - ٤ -

ج) فسّر العبارات الآتية:

١ - اختلاف توزيع الموارد الاقتصادية في إقليم عُمان.

.....
.....
.....
.....

٢- أهمية تأسيس مجلس الدولة.

.....
.....
.....

السؤال الثالث:

أ) ١ - "استمر الاهتمام بإنشاء المكتبات عند العُمانيين وأصبحت ظاهرة ثقافية متجددة، وشملت أقسامًا مختلفة" في ضوء هذه العبارة أجب عما يلي:

أ - ما أقسام المكتبات في عُمان؟

.....
.....

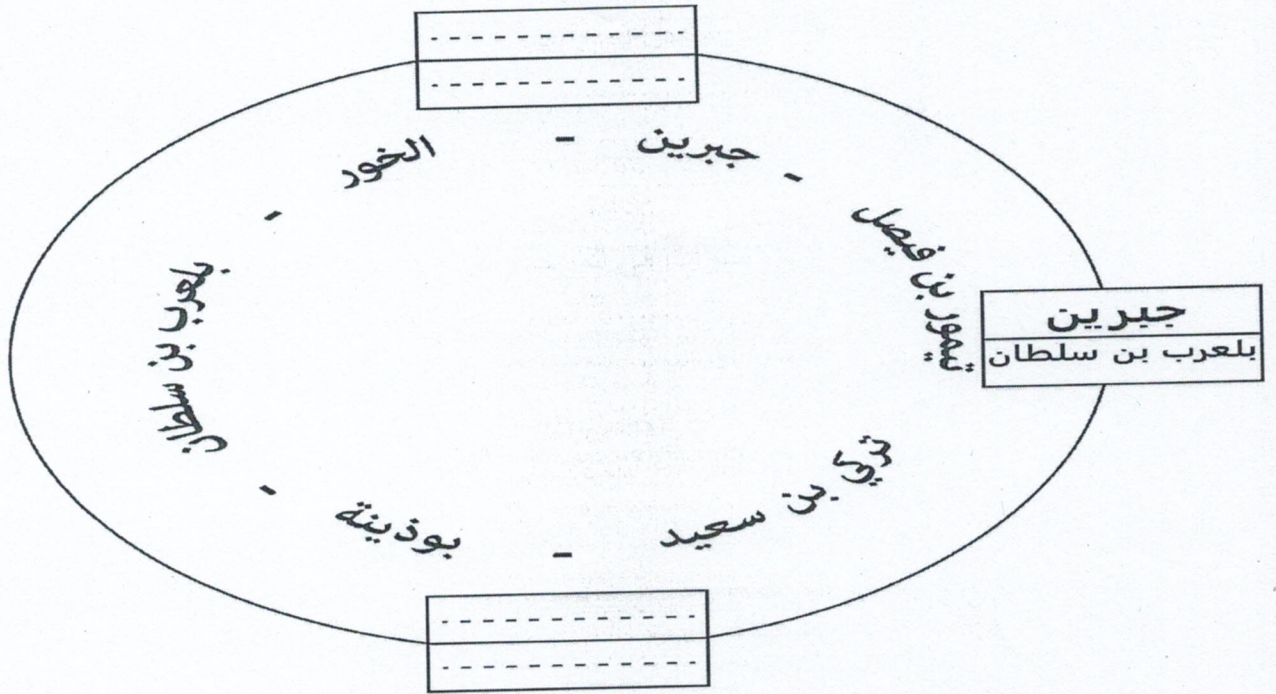
ب - اعط مثالا واحدا لكل قسم.

.....
.....

(٥)
تابع : امتحان الصف الحادي عشر
للعام الدراسي ١٤٣٦/١٤٣٧ هـ — ٢٠١٥ / ٢٠١٦ م
الدور الأول - الفصل الدراسي الثاني
المادة : الدراسات الاجتماعية (هذا وطني)

تابع السؤال الثالث:

٢- من خلال دراستك لموضوع تطور المؤسسات الثقافية العُمانية، صنّف المدارس حسب الشخصية التي ظهرت في عهده كما في المثال الموضح في الشكل :



ب) عّلل العبارات الآتية:

١ - وجود فتحات في الشرفة الصندوقية على مدخل قصر جبرين.

.....
.....
.....

٢ - إدخال سلطة القضاء في عملية فرز الأصوات في المرحلة الثالثة من مراحل مجلس الشورى.

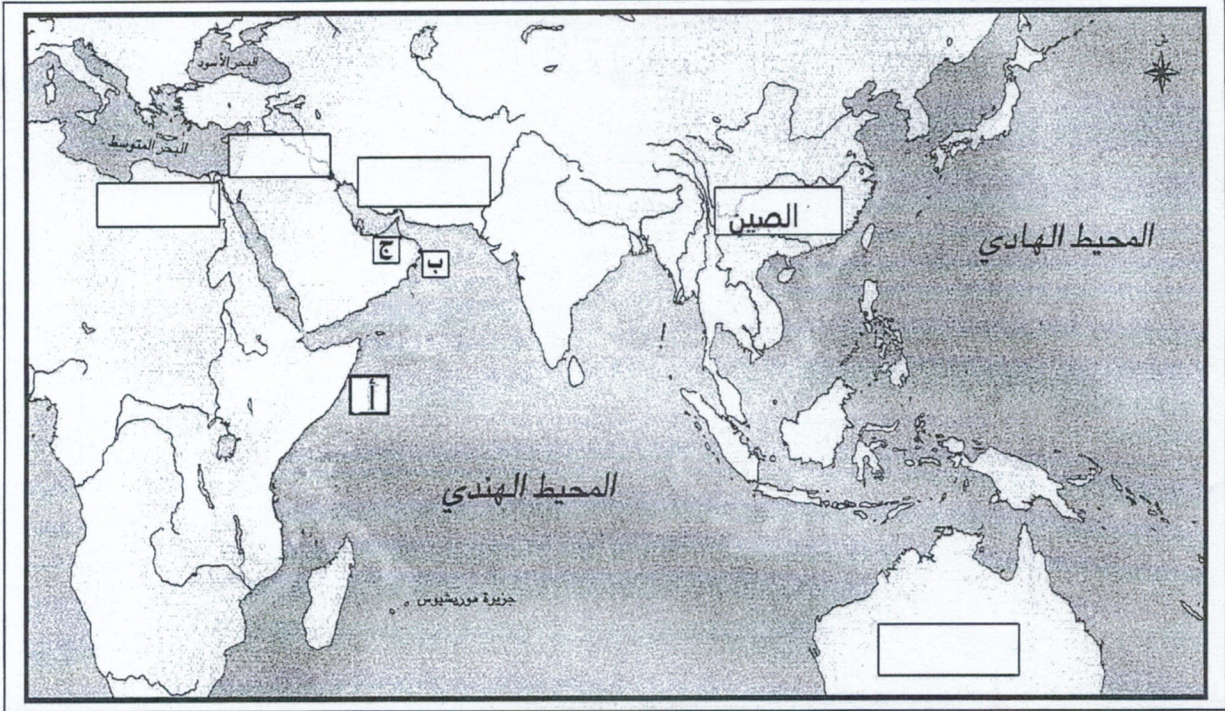
.....
.....
.....

(٦)

تابع :امتحان الصف الحادي عشر
للعام الدراسي ١٤٣٦/١٤٣٧ هـ — ٢٠١٥ / ٢٠١٦ م
الدور الأول – الفصل الدراسي الثاني
المادة : الدراسات الاجتماعية (هذا وطني)

تابع السؤال الثالث:

ج (أمامك خريطة ادرسها جيداً، ثم أجب عن الأسئلة التي تليها:



١- في أي جهة رئيسية تقع الصين بالنسبة لسلطنة عُمان.....

٢- وقّع علي الخريطة اسم الدولة التي كانت تصدر فيها مجلة الهلال، والتي نشر فيها الشيخ ناصر بن سليمان مقالاً له عام ١٩٠٦م.

٣- ما الرمز الدال على المدينة التي ظهرت فيها إحدى المدارس السعيدية في بداية عصر النهضة.....

٤- ظلّ علي الخريطة الدولة التي جلب منها التجار العرب " نظام الترقيم".

(٧)

تابع : امتحان الصف الحادي عشر
للعام الدراسي ١٤٣٦/١٤٣٧ هـ — ٢٠١٥ / ٢٠١٦ م
الدور الأول - الفصل الدراسي الثاني
المادة : الدراسات الاجتماعية (هذا وطني)

السؤال الرابع :

أ (قارن بين البناء المعماري العُماني قديمًا وحديثًا وفق الجدول الموضح أدناه:

وجه المقارنة	قديمًا	حديثًا
المواد المستخدمة في البناء	١-	- الإسمنت والحديد
الزخرفة والنقوش	- بسيطة ومحدده. - أشكال هندسية ونباتية	٢-
أمثلة	٣- ٤-	- الجامع الأكبر

ب (أجب عن الأسئلة الآتية بعد قراءتها جيدًا:

١ - " أصدر جلاله السلطان النظام الأساسي للدولة الذي يوطد كل الأنظمة والتشريعات المتصلة بالحكم وأجهزة الدولة ومؤسساتها ومسؤولياتها، وواجبات المواطنين وحقوقهم" في ضوء العبارة السابقة أجب عما يأتي:

- ما أول وثيقة قانونية متكاملة في التاريخ العُماني؟

.....

.....

- متى صدرت هذه الوثيقة؟

.....

.....

٢ - قال جلالتة في أحد خطباته :

" سوف نعمل على تثبيت حكم ديمقراطي عادل في بلادنا في إطار واقعنا العُماني، وحسب عادات وتقاليد مجتمعنا، جاعلين نصب أعيننا تعاليم الإسلام الذي ينير لنا السبيل دائما"

-استنبط من خلال الخطاب السامي الأسس التي بنى عليها جلاله السلطان الحكم في عُمان؟

.....

.....

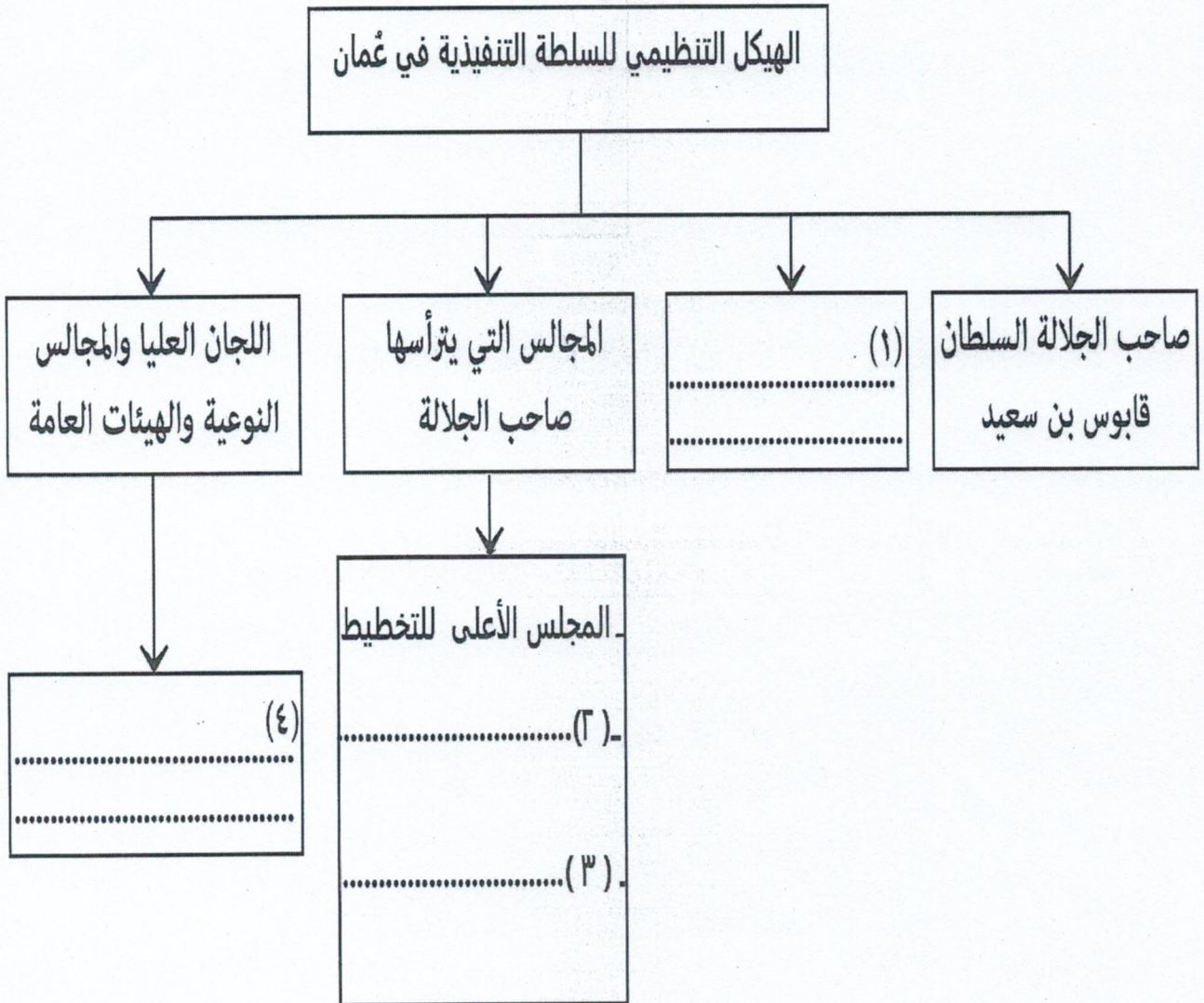
.....

(٨)

تابع : امتحان الصف الحادي عشر
للعام الدراسي ١٤٣٦/١٤٣٧ هـ — ٢٠١٥ / ٢٠١٦ م
الدور الأول - الفصل الدراسي الثاني
المادة : الدراسات الاجتماعية (هذا وطني)

تابع السؤال الرابع :

ج (تأمل المخطط الذي أمامك وادرسه جيداً، ثم قُم بتكملة الفراغات بداخله بما يناسبها:

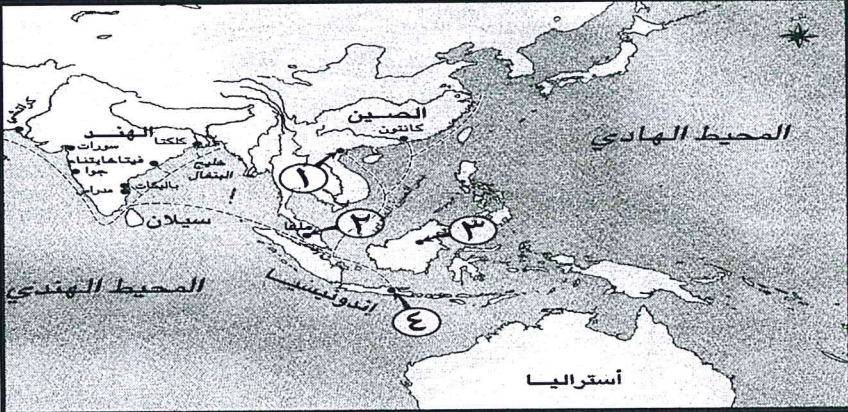


انتهت الأسئلة مع تمنياتنا لكم بالتوفيق والنجاح

نموذج إجابة امتحان الصف الحادي عشر
للعام الدراسي ١٤٣٧/١٤٣٦ هـ — ٢٠١٦/٢٠١٥ م
الدور الأول - الفصل الدراسي الثاني

المادة: الدراسات الاجتماعية (هذا وطني في السيرة الحضارية لعمان)
الدرجة الكلية: (٦٠) درجة.
تنبيهه: نموذج الإجابة في (٥) صفحات

أولاً: إجابة السؤال الموضوعي (٢٤ درجة):-

المفردة	الرمز	الإجابة	الدرجة	الصفحة
١	ج	التعدين.	٢	٨٨
٢	ج	المجالس	٢	١١٩
٣	د	الأزميل.	٢	٩٤
٤	أ	الوكيل.	٢	١١٦
٥	ب	الحجارة.	٢	١٢٥
٦	د	علي بن حمود.	٢	١٣٢
٧	أ	البساطة.	٢	١٢٧
٨	أ	مرسوم سلطاني.	٢	١٥٠
٩	ب		٢	١٣١-١٢٨
١٠	ب	أول وصول لجلالة السلطان إلى مسقط بعد توليه الحكم.	٢	١٣٨
١١	ب	٧	٢	١٤٢
١٢	أ	<p>١٩٧١م وزارة العدل (أ)</p> <p>١٩٧٥م ديوان التشريع</p> <p>١٩٩٩م المجلس الأعلى للقضاء</p>	٢	١٥٢ ١٥٣

(٢)
تابع: نموذج إجابة امتحان الصف الحادي عشر
العام الدراسي ١٤٣٦/١٤٣٧ هـ — ٢٠١٥/٢٠١٦ م
الدور الأول - الفصل الدراسي الثاني
الدراسات الاجتماعية (هذا وطني)



إجابة السؤال الثاني : (١٢) درجة :

الصفحة	الدرجة	الإجابة الصحيحة	المفردة	الجزئية									
٩٢	درجة لكل مفردة نصف درجة	أ - خبرة العمانيين البحرية التي مكنتهم من إخضاع المحيط الهندي بين عُمان وشرقي أفريقيا لجولاتهم البحرية. (معرفتهم بالرياح الموسمية، توافر السلع في أفريقيا). - الموقع والجوار الجغرافي بين عُمان وشرقي أفريقيا . - العلاقات الدينية والثقافية . <u>(يكتفي بذكر اثنين لكل مفردة نصف درجة، وبما يفيد المعنى)</u>	١	أ									
١٢٤	درجة لكل مفردة نصف درجة	ب - عائشة بنت راشد بن خصيب الريامية. - السيدة ثريا بنت محمد بن عزان البوسعيدية. - نصراء بنت راشد بن حميد الحبسية. <u>(يكتفي بذكر اثنين لكل مفردة نصف درجة)</u>											
١٢٦	١	أ - هي المشريبات المصنوعة من مواد أكثر متانة كالحجار أو الرخام أو الجص وتوجد غالبا في الحصون والمساجد. <u>(بما يفيد المعنى)</u>	٢										
١٢٩	١	ب - هو أحدث الأرقام الحسابية عند الهنود، ويقوم على أساس حساب الزوايا، فرقم (1) يحتوي على زاوية واحدة والرقم (2) يحتوي على زاويتين. <u>(وبما يفيد المعنى)</u>											
٩٢	٤ درجات لكل مفردة درجة	<table border="1"> <thead> <tr> <th>اسم النشاط</th> <th>أمثلة</th> <th>المدن العُمانية التي اشتهرت به</th> </tr> </thead> <tbody> <tr> <td>التجارة في المواد الزراعية</td> <td>١- التمور ٢- الفواكه (او الحنطة أو الشعير ، والزعفران واللبنان) (لا يشترط الترتيب في إجابة ١ و ٢ يكتفي بذكر اثنين لكل مفردة درجة)</td> <td>- المدن الساحلية العمانية.</td> </tr> <tr> <td>العطريات والبخور</td> <td>- اللبان. - المر.</td> <td>٣- سمهرهم. ٤- خور روري. (ظفار) (لا يشترط الترتيب ٣ و ٤، لكل مفردة درجة)</td> </tr> </tbody> </table>	اسم النشاط	أمثلة	المدن العُمانية التي اشتهرت به	التجارة في المواد الزراعية	١- التمور ٢- الفواكه (او الحنطة أو الشعير ، والزعفران واللبنان) (لا يشترط الترتيب في إجابة ١ و ٢ يكتفي بذكر اثنين لكل مفردة درجة)	- المدن الساحلية العمانية.	العطريات والبخور	- اللبان. - المر.	٣- سمهرهم. ٤- خور روري. (ظفار) (لا يشترط الترتيب ٣ و ٤، لكل مفردة درجة)		ب
اسم النشاط	أمثلة	المدن العُمانية التي اشتهرت به											
التجارة في المواد الزراعية	١- التمور ٢- الفواكه (او الحنطة أو الشعير ، والزعفران واللبنان) (لا يشترط الترتيب في إجابة ١ و ٢ يكتفي بذكر اثنين لكل مفردة درجة)	- المدن الساحلية العمانية.											
العطريات والبخور	- اللبان. - المر.	٣- سمهرهم. ٤- خور روري. (ظفار) (لا يشترط الترتيب ٣ و ٤، لكل مفردة درجة)											

(٣)

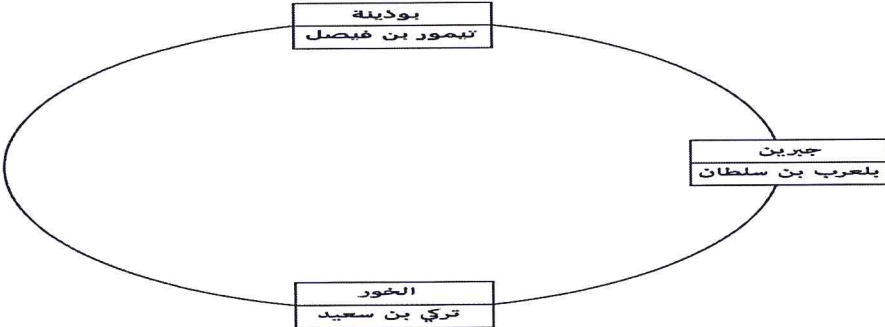
تابع: نموذج إجابة امتحان الصف الحادي عشر
للعام الدراسي ١٤٣٦/١٤٣٧ هـ — ٢٠١٥/٢٠١٦ م

الدور الأول - الفصل الدراسي الثاني
الدراسات الاجتماعية (هذا وطني)


تابع إجابة السؤال الثاني : (١٢) درجة :

الصفحة	الدرجة	الإجابة الصحيحة	المفردة	الجزئية
٩٠	٢	- الارتفاع والانخفاض. - البعد والقرب من الساحل. - الاختلاف في المناطق بين الصحراء والجبل والساحل. - (أي عامل من العوامل الطبيعية يعتبر صحيح) (يكتفى بذكر واحدة ، وبما يفيد المعنى)	١	ج
١٥٠	٢	- استكمال مراحل البناء المؤسسي للدولة. - حاجة البلاد لها عبر مراحل نموها وتطورها. - مؤازرة الدولة لصياغة سياسات تنموية أكثر نضجاً لبناء عُمان المستقبل. - المساهمة بالرأي والمشورة فيما يعرض عليه من موضوعات. (يكتفى بذكر واحدة ، وبما يفيد المعنى)	٢	

إجابة السؤال الثالث : (١٢) درجة :

الصفحة	الدرجة	الإجابة الصحيحة	المفردة	الجزئية
١١٨	١ لكل مفردة نصف درجة	أ - المكتبات العامة التابعة للدولة (مكتبات عامة أو مكتبات تابعة للدولة). - المكتبات الخاصة (مكتبات أنشأها العلماء والوجهاء والأغنياء).	١	أ
١١٨	١ لكل مفردة نصف درجة	ب - مثال المكتبات العامة: (مكتبة الدولة اليعربية بحصن الرستاق ، مكتبة قصر جبرين التي أسسها بلعرب بن سلطان ، مكتبة وزارة التراث والثقافة ، المكتبة الإسلامية). - مثال على المكتبات الخاصة: (مكتبة آل الرحيل بصحار ، مكتبة أحمد بن النظر في سمائل ، مكتبة الشيخ خلف بن سنان الغافري بالرستاق ، مكتبة العلامة محمد بن مسعود البوسعيدي في منح ، مكتبة السيد محمد بن أحمد البوسعيدي في السيب ، مكتبة الشيخ سالم بن حمد الحارثي في المضيرب). (يكتفى بذكر مثال واحد لكل مكتبة)		
١١٦ ١١٧	٢ لكل مفردة درجة	 <p>(ملاحظة يعطى الطالب درجة في حالة التصنيف الصحيح فقط)</p>	٢	

(٤)
تابع: نموذج إجابة امتحان الصف الحادي عشر
للعام الدراسي ١٤٣٦/١٤٣٧ هـ — ٢٠١٥/٢٠١٦ م
الدور الأول - الفصل الدراسي الثاني
الدراسات الاجتماعية (هذا وطني)
تابع إجابة السؤال الثالث: (١٢) درجة :



الصفحة	الدرجة	الإجابة الصحيحة	المفردة	الجزئية
١٢٦	٢	- لصب الدبس أو الزيت المغلي. - لإطلاق النار من البنادق نحو الأسفل على الأعداء الداخلين. (يكتفى بذكر واحدة ، وبما يفيد المعنى)	١	ب
١٤٩	٢	- لضمان استقلالية الانتخابات. - تكفل نزاهة الانتخابات. (يكتفى بذكر واحدة ، وبما يفيد المعنى)	٢	
١٢٨	١		١ - الشرق.	ج
١٣٢	١		٢ - يضلل أو يكتب موقع مصر الصحيح على الخريطة.	
١١٧	١		٣ - ب.	
١٢٩	١		٤ - يظل الهند أو جزء منها.	

(٥)
تابع: نموذج إجابة امتحان الصف الحادي عشر
للعام الدراسي ١٤٣٦/١٤٣٧ هـ — ٢٠١٥ / ٢٠١٦ م
الدور الأول - الفصل الدراسي الثاني
الدراسات الاجتماعية (هذا وطني)



إجابة السؤال الرابع : (١٢) درجة :

الصفحة	الدرجة	الإجابة الصحيحة	المفردة	الجزئية												
١٢٤ ١٢٧	٤ درجات لكل مفردة درجة	<table border="1"> <thead> <tr> <th>وجه المقارنة</th> <th>قديمًا</th> <th>حديثًا</th> </tr> </thead> <tbody> <tr> <td>المواد المستخدمة في البناء</td> <td>١- (الجبس أو الطين أو الحجارة أو الصاروج و الجذوع و الجذوع محلية الصنع أو السعف)</td> <td>- الإسمنت والحديد.</td> </tr> <tr> <td>الزخرفة والنقوش</td> <td>- بسيطة ومحدده. - أشكال هندسية ونباتية.</td> <td>٢- (معقدة - منوعة - متداخلة - ممتزجة)</td> </tr> <tr> <td>أمثلة</td> <td>٣- مقابر بات. ٤- حصن جبرين. (حصن الحزم ، وقلعة بهلاء أو أي معلم قديم)</td> <td>- الجامع الأكبر.</td> </tr> </tbody> </table> <p>(يكتفى بذكر واحدة في ١ - ٢ ، ولا يشترط الترتيب في ٣ - ٤)</p>	وجه المقارنة	قديمًا	حديثًا	المواد المستخدمة في البناء	١- (الجبس أو الطين أو الحجارة أو الصاروج و الجذوع و الجذوع محلية الصنع أو السعف)	- الإسمنت والحديد.	الزخرفة والنقوش	- بسيطة ومحدده. - أشكال هندسية ونباتية.	٢- (معقدة - منوعة - متداخلة - ممتزجة)	أمثلة	٣- مقابر بات. ٤- حصن جبرين. (حصن الحزم ، وقلعة بهلاء أو أي معلم قديم)	- الجامع الأكبر.	١	أ
وجه المقارنة	قديمًا	حديثًا														
المواد المستخدمة في البناء	١- (الجبس أو الطين أو الحجارة أو الصاروج و الجذوع و الجذوع محلية الصنع أو السعف)	- الإسمنت والحديد.														
الزخرفة والنقوش	- بسيطة ومحدده. - أشكال هندسية ونباتية.	٢- (معقدة - منوعة - متداخلة - ممتزجة)														
أمثلة	٣- مقابر بات. ٤- حصن جبرين. (حصن الحزم ، وقلعة بهلاء أو أي معلم قديم)	- الجامع الأكبر.														
١٤٢	١	- النظام الأساسي للدولة.	١	ب												
١٤٢	١	- ١٩٩٦م (العيد الوطني السادس والعشرين)														
١٤٦	٢	- الديمقراطية. - العدالة. - الأصالة والمعاصرة. - مراعاة الواقع العماني. - المحافظة على العادات والتقاليد. - تعاليم الدين الإسلامي. (يكتفى باثنين فقط ، وبما يفيد المعنى)	٢													
١٤٥	١	- مجلس الوزراء.	١	ج												
١٤٥ ١٤٦	١	- مجلس الدفاع أو مجلس الأمن الوطني أو مجلس الشؤون المالية وموارد الطاقة أو المجلس الأعلى للقضاء (يكتفى بذكر واحد وعدم تكراره في ٣)	٢													
١٤٥ ١٤٦	١	- مجلس الدفاع أو مجلس الأمن الوطني أو مجلس الشؤون المالية وموارد الطاقة أو المجلس الأعلى للقضاء (يكتفى بذكر واحد وعدم تكراره في ٢)	٣													
١٤٦	١	- اللجنة العليا للمؤتمرات - مجلس الخدمة المدنية - اللجنة العليا لتخطيط المدن - مجلس التعليم العالي - مجلس التنسيق الاقتصادي - مجلس جامعة السلطان قابوس - مجلس المناقصات - الهيئة العامة لسوق المال - الهيئة العمانية للأعمال الخيرية - جهاز الرقابة المالية للدولة. (يكتفى بذكر واحدة)	٤													

نهاية نموذج الإجابة.