



امتحان الصف الثامن

الفصل الدراسي الثاني / الدور الاول

للعام الدراسي ١٤٣٦/١٤٣٧ هـ - ٢٠١٥/٢٠١٦ م

اسم الطالب : الصف :

المادة : الدراسات الاجتماعية

الزمن : ساعة ونصف

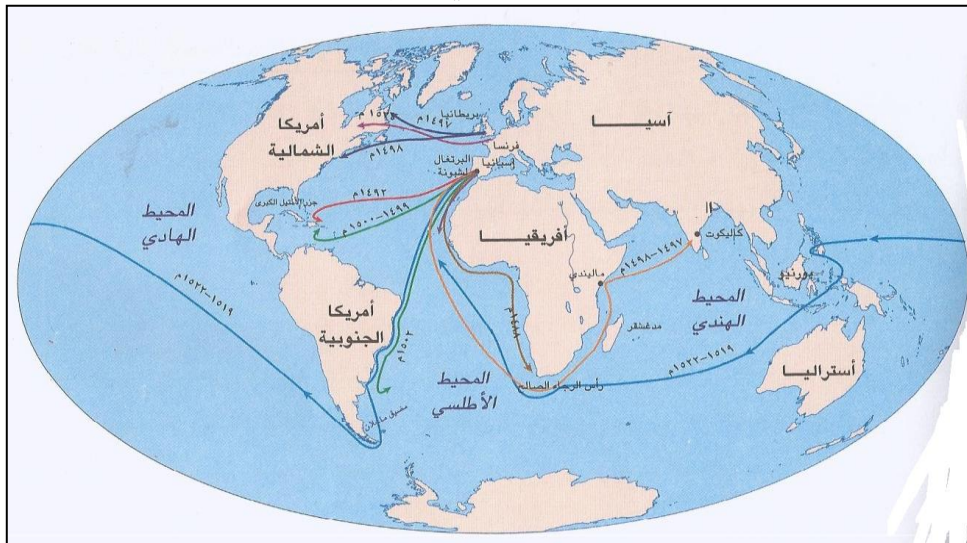
الدرجة الكلية : ٤٠ درجة

تنبيه : الأسئلة في أربع صفحات

أجب عن جميع الأسئلة الآتية

السؤال الأول : ضع دائرة حول رمز الإجابة الصحيحة من بين البدائل المعطاة :-

- (١) تبلغ نسبة المياه العذبة من مجمل المياه التي تغطي سطح الأرض:
- (أ) ١% (ب) ٣% (ج) ٢٠% (د) ٣٨%
- (٢) أحد الأمراض التي يسببها تلوث المياه :
- (أ) الربو (ب) الإسهال (ج) الحصبة (د) السكري
- (٣) أصبحت مسقط عاصمة للبلاد منذ عهد :
- (أ) أحمد بن سعيد (ب) سعيد بن أحمد (ج) حمد بن سعيد (د) سلطان بن أحمد
- (٤) بدأت النهضة الأوروبية منذ مطلع القرن :
- (أ) ١١م (ب) ١٢م (ج) ١٣م (د) ١٤م
- (٥) وصل فاسكو دي جاما بعد دورانه حول أفريقيا إلى الهند في عام :



(أ) ١٤٨٨م

(ب) ١٤٩٢م

(ج) ١٤٩٨م


(د) ١٥٠٠م

(٦) أنشئ بهدف زيادة مخزون المياه الجوفية :

- (أ) سد وادي الأنصب (ب) سد وادي الفليج (ج) سد وادي الجزي (د) سد وادي الحواسنة

تابع السؤال الاول :

٧) أشهر الجوامع الأثرية القديمة في مدينة الرستاق:
 (أ) البيضاء (ب) الشيخ (ج) النصر (د) اليعاربة



٨) القلعة الواضحة في الصورة
 المقابلة من معالم مدينة :

(أ) مسقط

(ب) صلالة

(ج) صحار

(د) نزوى

السؤال الثاني :

(أ) عرف ما يلي :

١- المستشرقون:

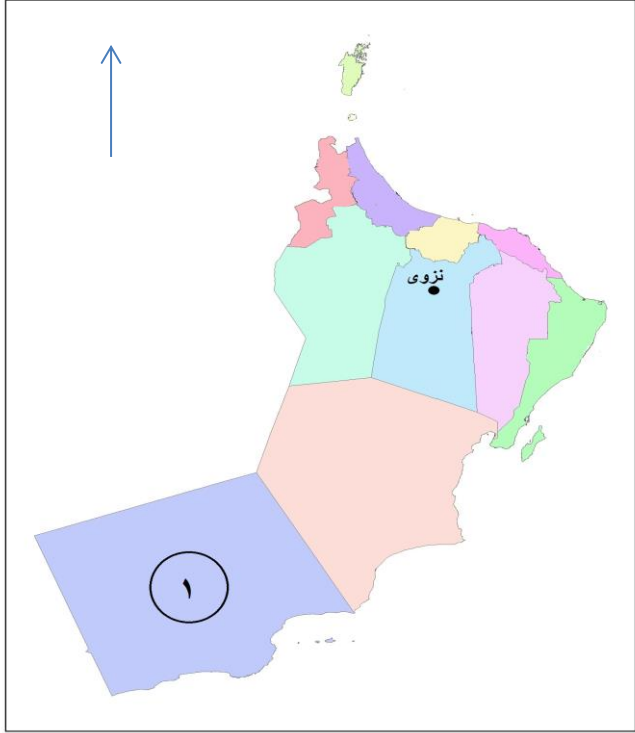
.....

٢- السفينة صحار:

.....

(ب) صنف العوامل الآتية إلى عوامل قيام الاكتشافات الجغرافية وعوامل قيام النهضة الأوروبية.
 (ظهور مجتمعات جديدة ومتطورة / اختراع آلة طباعة / البحث عن طرق تجارية جديدة /
 نشر الديانة المسيحية / تطور حركة التجارة والصناعة / التنافس بين الدول لزيادة الأراضي)

عوامل قيام النهضة الأوروبية	عوامل قيام الاكتشافات الجغرافية

تابع السؤال الثاني :

ج) أمامك خريطة التقسيم الإداري لسلطنة عمان
ادرسها جيدا ثم أجب عن الآتي:

١- وقّع على الخريطة محافظة شمال الباطنة .

٢- في أي جهة تقع المحافظة المشار إليها
بالرقم (١) بالنسبة للسلطنة ؟

.....

٣- استنتج من الخريطة أهمية موقع مدينة نزوى.

.....

.....

.....

السؤال الثالث :

أ) اعط مثلاً واحداً على كل من :

١- اختراعات الثورة الصناعية في مجال الزراعة.

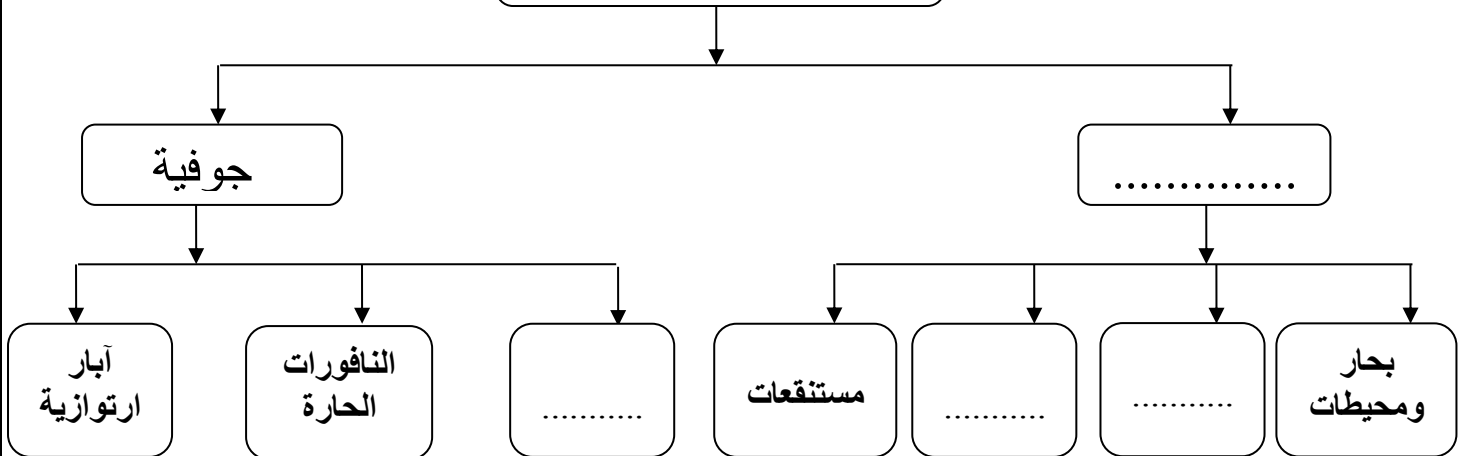
.....

٢- الأودية في مدينة صلالة.

.....

ب) أكمل تصميم الخريطة الذهنية الآتية :

أشكال المياه في الطبيعة



(تابع) امتحان الدراسات الاجتماعية للصف الثامن للعام ٢٠١٥/٢٠١٦م الدور الاول - الفصل الدراسي الثاني

تابع السؤال الثالث:

(ج) ١- دَلِّ على أن محافظة مسقط سكنها الإنسان منذ فجر التاريخ.

٢- من وجهة نظرك: ما الآثار الإيجابية للثورة الصناعية على الوطن العربي؟

السؤال الرابع:

(أ) علل :

١- الاستغلال المحدود للموارد المعدنية الموجودة في البحار والمحيطات.

٢- تعتبر العيون المائية الساخنة في مدينة الرستاق مناطق جذب سياحي مهمه.

(ب) قارن بين مدينتي صحار ونزوى وفق الجدول الآتي :

نزوى	صحار	أوجه المقارنة
		لقب عُرفت به (تخت العرب/ قسبة عمان)
		بعدها عن العاصمة مسقط (٤٠ كم / ٢٣٠ كم)
		طبيعة البيئة (ساحلية/ داخلية)

(ج) أمامك شكل يوضح إحدى مشكلات الموارد المائية في السلطنة ادرسه جيدا ثم اجب عن الأسئلة الآتية :



١ - سمّ المشكلة المائية.

٢ - بين أحد أسباب المشكلة.

٣- استخلص نتيجة مترتبة على هذه المشكلة.

انتهت الاسئلة مع تمنياتنا للجميع بالتوفيق والنجاح ،،،

[نموذج إجابة امتحان الصف الثامن لمادة الدراسات الاجتماعية]
العام الدراسي ٢٠١٥ / ٢٠١٦ م الفصل الدراسي الثاني - الدور الأول

الدرجة الكلية ٤٠ درجة نموذج الإجابة في (٣) صفحات

إجابة السؤال الأول: ١٦ درجة $١٦ = ٢ \times ٨$

رقم المفردة	١	٢	٣	٤	٥	٦	٧	٨
رمز الإجابة	ب	ب	ج	ج	ج	د	أ	د
الإجابة	٣%	الاسهال	حمد بن سعيد	١٣م	١٤٩٨م	سد وادي الحواسنة	البياضة	نزوى
الوحدة	الرابعة	الرابعة	السادسة	الخامسة	الخامسة	الرابعة	السادسة	السادسة
الصفحة	١٠	٢٥	٧٣	٤٤	٥٣	٢٩	٩٦	٨٦
الدرجة	٢	٢	٢	٢	٢	٢	٢	٢


إجابة السؤال الثاني: ٨ درجات

الوحدة	الصفحة	الدرجة	الإجابة	الجزئية
الخامسة	٥٠	١	١- المستشرقون : فئة من الباحثين الغربيين ، تخصصوا في دراسة التراث العربي ، لغة وتاريخا وواقعا، وقاموا بتحقيق الكثير من المخطوطات النفيسة ونشرها ، وكانت لهم دوافع شتى في دراساتهم . (او ما يفيد المعنى)	أ
السادسة	١٠٣	١	٢- السفينة صحار : سفينة شراعية تم بناءها لتسيير رحلة مشابهة لرحلات العمانيين في القرون الماضية ، أبحرت من صحار في عام ١٩٨٠م الى مدينة كانتون بالصين واستغرقت الرحلة عاماً كاملاً ، وكانت بأمر من جلالة السلطان قابوس بن سعيد المعظم . (او ما يفيد المعنى)	
الخامسة	٤٦ ٤٧ ٥٥	٣	عوامل قيام الاكتشافات الجغرافية	ب
			عوامل قيام النهضة الأوروبية	
			البحث عن طرق تجارية جديدة	
			ظهور مجتمعات جديدة ومتطورة	
			نشر الديانة المسيحية	
التنافس بين الدول لزيادة الأراضي	تطور حركة التجارة والصناعة	اختراع آلة طباعة		
"ثلاث درجات لكل نصف درجة"				

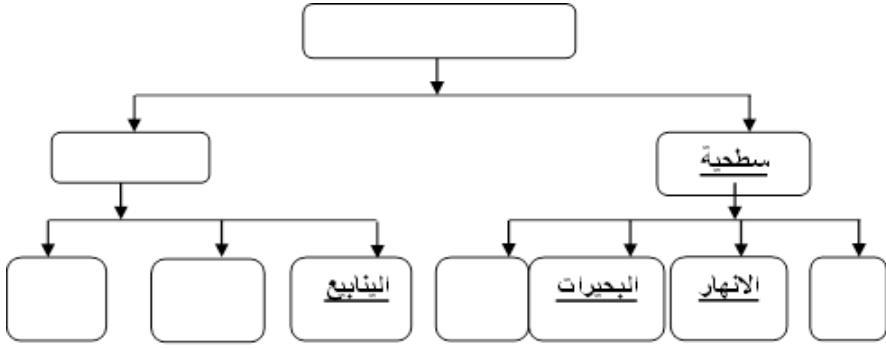
(٢)

[تابع / نموذج إجابة امتحان الصف الثامن لمادة الدراسات الاجتماعية]
 العام الدراسي ٢٠١٥ / ٢٠١٦ م الفصل الدراسي الثاني - الدور الاول

تابع إجابة السؤال الثاني: ٨ درجات

الوحدة	الصفحة	الدرجة	الإجابة	الجزئية
	١٠٠	١	١- 	ج
السادسة	١٠٨	١	٢- الجنوب أو الجنوب الغربي.	
	٨٣	١	٣- تتوسط شمال السلطنة ويسهل الوصول إليها من ثلاث جهات ، الشرق والغرب والجنوب بحيث كانت ملتقى القوافل. (يراعى أسلوب في التعبير)	

إجابة السؤال الثالث: ٨ درجات

الوحدة	الصفحة	الدرجة	الإجابة	الجزئية
الخامسة	٦٣	١	١- آلة بذر الحبوب / آلة الحصاد (يكتفى بواحد)	أ
السادسة	١١٤	١	٢- وادي جرزيز / وادي صحلنوت / وادي نحيز. (يكتفى بواحد)	
الرابعة	١٤ ١٥ ١٦	٢	 <p>(أربع لكل نصف درجة ولا يشترط الترتيب بين الانهار والبحيرات وفي حالة كتب الطالب العيون بدل الينابيع تعتبر الاجابة صحيحة)</p>	ب
السادسة	٧٢	٢	١- دلت الاثار المكتشفة بحي الوطية على ان الانسان عاش فيها منذ العصر الحجر الاول / كما ان الادوات والأواني التي تم اكتشافها بولاية بوشر ترجع الى الألف الثالثة والأف الثانية قبل الميلاد / وتشير الاثار المكتشفة في رأس الحمراء أن الانسان العماني مارس مهنة الصيد منذ الالف الثالثة قبل الميلاد (يكتفى بواحد)	ج
الخامسة	٦٧	٢	٢- تشكل نوع من الاتصال بين أوروبا والوطن العربي / التواصل بين الحضارة العربية الاسلامية والمنجزات العلمية حتى وقتنا الحاضر / توجه العرب نحو الأخذ بالعلوم والفنون والصناعات الجديدة في أوروبا / تهيئة المختصين والفنيين من أجل استخدام الآلات والادوات . (يكتفى بواحد ويراعى أسلوب الطالب في التعبير عن رأيه وبما يفيد المعنى)	

(٣)

[تابع / نموذج إجابة امتحان الصف الثامن لمادة الدراسات الاجتماعية]
العام الدراسي ٢٠١٥ / ٢٠١٦ م الفصل الدراسي الثاني - الدور الاول

إجابة السؤال الرابع: ٨ درجات

الوحدة	الصفحة	الدرجة	الإجابة	الجزئية												
الرابعة	٢٠	١	١- بسبب التكلفة العالية التي تصرف على الدراسات والأبحاث المتعلقة بكيفية استخراجها . (يكتفى بواحد)	أ												
السادسة	٩٨	١	٢ - يستخدمها العديد من الزوار للاستحمام / الاستشفاء / النزهة / وهناك إمكانية كبيرة لتطويرها واستغلالها في مجال السياحة . (يكتفى بواحد)													
السادسة	٨٣+٨٥ ٩١ +٨٣ ٩٠+٨٣	٣	<table border="1"> <thead> <tr> <th>أوجه المقارنة</th> <th>صحار</th> <th>نزوى</th> </tr> </thead> <tbody> <tr> <td>لقب عرفت به (تخت العرب/ قصبه عمان)</td> <td>قصبه عمان</td> <td>تخت العرب</td> </tr> <tr> <td>بعدها عن العاصمة مسقط (٤٠ كم/ ٢٣٠ كم)</td> <td>٢٣٠ كم</td> <td>٤٠ كم</td> </tr> <tr> <td>طبيعة البيئة (ساحلية/ جبلية)</td> <td>ساحلية</td> <td>جبلية</td> </tr> </tbody> </table> <p>(ثلاث درجات لكل نصف درجة)</p>	أوجه المقارنة	صحار	نزوى	لقب عرفت به (تخت العرب/ قصبه عمان)	قصبه عمان	تخت العرب	بعدها عن العاصمة مسقط (٤٠ كم/ ٢٣٠ كم)	٢٣٠ كم	٤٠ كم	طبيعة البيئة (ساحلية/ جبلية)	ساحلية	جبلية	ب
أوجه المقارنة	صحار	نزوى														
لقب عرفت به (تخت العرب/ قصبه عمان)	قصبه عمان	تخت العرب														
بعدها عن العاصمة مسقط (٤٠ كم/ ٢٣٠ كم)	٢٣٠ كم	٤٠ كم														
طبيعة البيئة (ساحلية/ جبلية)	ساحلية	جبلية														
الرابعة	٤٠	١	١- تملح المياه أو تسرب المياه المالحة الى الابار الساحلية .	ج												
الرابعة	٣٨	١	٢ - استخدام المضخات الحديثة في سحب المياه الجوفية مما ادى الى زيادة السحب / تزايد عدد السكان واحتياجاتهم المائية / سوء استخدام المياه في الري . (يكتفى بواحد)													
الرابعة	٣٢	١	٣ - موت الاشجار مثل النخيل / انخفاض إنتاجية المزروعات / عدم صلاحية المياه للاستخدامات البشرية . (يكتفى بواحد ويراعى اسلوب الطالب بما يفيد المعنى)													

مجموع الدرجات ٤٠ درجة

انتهى نموذج الإجابة