



## امتحان الصف: التاسع

للعام الدراسي ٢٠١٥/٢٠١٦ م

سلطنة عمان

وزارة التربية والتعليم

الفصل الدراسي الثاني - الدور الثاني

إدارة التربية والتعليم بمحافظة الوسطى

المادة : دراسات إجتماعية	العام الدراسي : ٢٠١٥ / ٢٠١٦ م
الزمن : ساعة و نصف	تنبيه الأسئلة في ( ٥ ) ورقات

**السؤال الأول :-** اختار الإجابة الصحيحة من بين البدائل المعطاة:-

١- يتحدد النمو السكاني في العالم بعالمي

(أ) التحضر و الهجرة (ب) التحضر و الزيادة الطبيعية (ج) الزيادة الطبيعية و الهجرة (د) أمد الحياة و الهجرة

٢- الدولة التي تقع في شمال شرق الهند واشتهرت قديما بصناعة الحرير :

(أ) تايلاند (ب) كمبوديا (ج) فيتنام (د) الصين

٣- ميناء وصفه الرحالة بأنها أعمر مكان في دار الإسلام و قسبة عمان

(أ) صحار (ب) ظفار (ج) صور (د) مسقط

٤- الدولة المشار إليها بالرمز (١) هي

(أ) الهند (ب) إيران

(ج) الصين (د) اليابان

٥- الشخص المسئول عن ميرة السفينة و تموينها

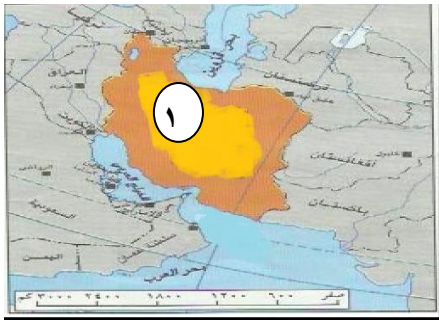
(أ) النوخذة (ب) المعلم (ج) الوكيل (د) السكوتي

٦- جميع ما يلي من العوامل المؤدية إلي ارتفاع معدل المواليد ماعدا

(أ) الزواج المبكر (ب) توافر الغذاء السليم (ج) انخفاض الوعي السكاني (د) انخفاض الدخل

٧- احتل الأسطول العماني المرتبة الثانية بعد بريطانيا في عهد السيد

(أ) أحمد بن سعيد (ب) سعيد بن تيمور (ج) سلطان بن أحمد (د) سعيد بن سلطان



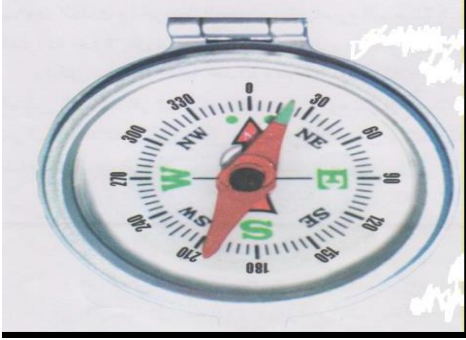
٨- ارتفع النمو السنوي للناتج المحلي الاجمالي بالسلطنة عام ٢٠٠٣ م إلي

٨,٩% (د)

٩,٦% (ج)

٦,٩% (ب)

٤,٩% (أ)



### السؤال الثاني :-

أولاً:- (أ) من الشكل المقابل أكمل ما يأتي :

١- اسم الأداة .....

٢- الشخص الذي يحمل هذه الأداة في السفينة يسمى

.....

(ب) "يعد المستوى التعليمي للسكان مرتكزا مهما في بناء القوة الإقتصادية للدولة"

فسر هذه العبارة

.....  
.....  
.....

ثانيا :- أكتب نتيجة واحدة مترتبة علي الأحداث الآتية:

١- استقرار المغول في المناطق الشمالية من الهند.

.....

٢- وضع دستور جديد لليابان عام ١٩٤٧ م.

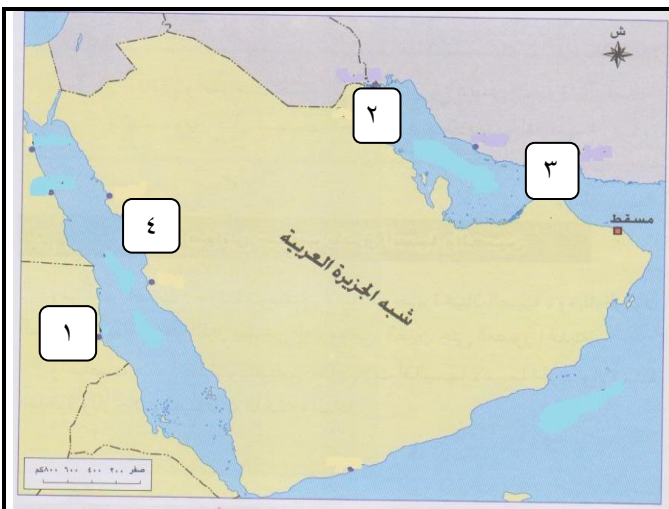
.....

٣- تكسر كريات الدم الحمراء و تحولها إلى الشكل المنجلي.

.....

٤- اختراع الصينيون للورق.

.....



ثالثا : ادرس الخريطة المقابلة ثم أجب عن الأسئلة التالية :

- ١- الرقم الصحيح الذي يشير إلي ميناء هرمز .....
  - ٢- اسم الميناء المشار إليه بالرقم ١ هو.....
  - ٣- حدد علي الخريطة المسطحات المائية التالية
- بحر العرب - البحر الأحمر

### السؤال الثالث:-



أولاً:- الصورة المقابلة توضح إحدى السفن التقليدية العمانية أجب عما يلي:

- ١- ماذا تسمى هذه السفينة؟.....
- ٢- ما اسم السفينة الأخرى التي تم تطويرها لتنافس هذه السفينة في السرعة والسعة : .....
- ٣- الغاطس من الأجزاء المكونة للسفينة صف شكله و بين أهميته؟

ثانيا : ادرس الجدول التالي ثم أجب عن الأسئلة :

وضع الطرق	عدد المستشفيات	عدد المدارس	عدد السكان	
مرصوفة و معبدة	٣	٢٨	١٠٠٠٠٠	المدينة (أ)
مرصوفة و معبدة	٥	٢٨	٣٠٠٠٠٠	المدينة (ب)

١- في رأيك أي المدينتين يمكن أن تقدم حياة أفضل لمواطنيها ؟

٢- كيف تتوقع حالة الطرق في المدينة (ب)؟

٣- استنتج من الجدول أعلاه أحد الآثار الإقتصادية و الإجتماعية للإنفجار السكاني ؟


ثالثاً:- ١- فيما يلي أحداث بارزة في تاريخ اليابان رتبها وفق التسلسل التاريخي من الأقدم إلي الأحدث

هجوم اليابان على ميناء بيرل هاربر- تسلم الامبراطور هينو العرش – إستسلام اليابان للحلفاء

– دخول اليابان الحرب العالمية الثانية

.....  
.....

٢- من الصور الآتية أكمل ما يأتي



اسم الدولة .....

اسم الدولة .....

اسم المعلم السياحي.....

اسم المعلم السياحي.....

### السؤال الرابع :-

اولاً:- قارن بين الجمهورية الإيرانية و ماليزيا

ماليزيا	الجمهورية الإيرانية	وجه المقارنة
		العاصمة
		اللغة الرسمية
		نظام الحكم
		العملة

ثانياً:- دلل باتنين علي كل مما يأتي :

١- مظاهر التعاون بين السلطنة و الصين.

.....

٢- أهمية التدريب فى برامج التنمية البشرية .

٣- فوائد تنظيم الإنجاب للأمم .

ثالثاً:- أ- أجب عن الاسئلة الآتية :١- بين الشخصية بالعبارة :

- تولى رئاسة حزب الاستقلال الوطنى وطالب باستقلال الهند .

٢- "تعمل سلطنة عمان جاهدة على تنمية مواردها البشرية "

من العبارة السابقة اذكر الأهداف التي تسعى السلطنة إلى تحقيقها؟


ب: أجب عما يأتى :

١- تمكن الامام سلطان بن سيف بنشاطه البحرى المتميز بصنع قلق كبير للانجليز.وضح ذلك .

٣- إذا علمت أن مجموع عدد الأفراد القادرين على العمل في دولة ما ٢٠٠٠٠٠٠٠ نسمة و مجموع العاملين

فعلا منهم حوالي ٧٠٠٠٠٠٠ نسمة في ضوء ذلك

احسب حجم الباحثين عن عمل في هذه الدولة ؟




( ٢ )

العام الدراسي : ٢٠١٥/٢٠١٦ م

الدور الأول

تابع / امتحان مادة



تابع / امتحان مادة

الدور الأول

العام الدراسي : ٢٠١٥/٢٠١٦ م

( ٣ )

( ٤ )

العام الدراسي : ٢٠١٥/٢٠١٦ م

الدور الأول

تابع / امتحان مادة



تابع / امتحان مادة

الدور الأول

العام الدراسي : ٢٠١٥/٢٠١٦ م

( ٥ )

( ٦ )

العام الدراسي : ٢٠١٥/٢٠١٦ م

الدور الأول

تابع / امتحان مادة

( ٧ )

العام الدراسي : ٢٠١٥/٢٠١٦ م

الدور الأول

تابع / امتحان مادة

( ٨ )

العام الدراسي : ٢٠١٥/٢٠١٦ م

الدور الأول

تابع / امتحان مادة

" انتهت الأسئلة مع تمنياتنا للجميع بالتوفيق والنجاح "



سلطنة عمان  
وزارة التربية والتعليم  
ادارة التربية والتعليم بمحافظة  
الوسطى

## نموذج الإجابة لاختبار مادة الدراسات الاجتماعية

للفصل التاسع الدراسي الثاني (الدور الثاني) العام ٢٠١٥/ ٢٠١٦ م

أ - الأسئلة الموضوعية ( نمط الاختيار من متعدد ) :

إجابة السؤال الأول				
الصفحة	الدرجة	البديل الصحيح	الرمز	المفردة
٨	٢	الزيادة الطبيعية و الهجرة	ج	١
٧٨	٢	الصين	د	٢
٥٢	٢	صحار	أ	٣
٧٢	٢	إيران	ب	٤
٦٥	٢	الوكيل	ج	٥
١١	٢	توافر الغذاء السليم	ب	٦
٤٨	٢	سعيد بن سلطان	د	٧
٣٢	٢	٦,٩%	ب	٨
	١٦			المجموع

الأسئلة المقالية :

إجابات السؤال / الثاني				
الصفحة	الدرجة	الإجابات الصحيحة	المفردة	الجزئية
٦٦ ٦٥	درجة لكل تكملة نصف	١- البوصلة ٢- المعلم	أ	أولا
٣٠	درجة	١- لان التعليم يساعد على توفير الخبرات العلمية والفنية للسكان ٢- يساعد على توسيع مدارك المتعلمين وزيادة براتهم ٣- يساعد على زيادة الناتج المحلي . (يعطي الطالب الدرجة إذا كتب ما يفيد المعنى)	ب	
٨١	درجة ونصف	١- أقاموا إمبراطورية كبيرة و أعطي المغول سكان البلاد لغتهم و حضارتهم ٢- امتزاج الحضارة المغولية بالهندية		ثانيا
٩٨	درجة ونصف	٢- فقد الامبراطور كل السلطات العسكرية والسياسية واصبح رمز للدولة فقط - نص الدستور على حق الانتخاب العام و حقوق الانسان و التعاون بين المواطن و الدولة - يتولى مجلس الوزراء السلطات التنفيذية		
٢٥	نصف درجة	٣- يؤدي إلى صعوبة جريان الدم بحرية و سهولة في الأوعية و يقل توريد الغذاء و الاكسجين إلى خلايا الجسم و يؤدي الى احساس قوى بالالام و يؤدي إلى مرض فقر الدم المنجلي.		
٨٩	نصف درجة	٤- ساعد على تطور الجهاز الإداري و انتشار التعليم.		
٥٦	درجتان على كل جزئية نصف	١- الرقم ٣ ٢- سواكن ٣- يكتب الطالب المسطحات على الخريطة		ثالثا
المجموع ٨ درجات				
إجابات السؤال / الثالث				
الصفحة	الدرجة	الإجابات الصحيحة	المفردة	الجزئية
٦٢ ٦٠	درجتان لكل تكملة نصف		١- البقعة ٢- اليوم ٣- حادا - لحماية السفينة	اولا
١٧	درجتان	١- المدينة (أ) # <u>نصف درجة</u> # ٢- في حالة سينة لزيادة عدد السكان و زيادة عدد السيارات و المارة # <u>نصف درجة</u> # ٣- الضغط على الخدمات ، ضعف تقديم الخدمات و سرعة الاستهلاك # <u>درجة واحدة</u> #		ثانيا

٩٧،٩٨	درجتان	١- الترتيب الصحيح تسلم الامبراطور هينو العرش - دخول اليابان الحرب العالمية الثانية - هجوم اليابان على ميناء بيرل هاربر - استسلام اليابان للحلفاء	ثالثا
٨١ ٨٨	درجتان لكل تكلمة نصف درجة	# الهند - تاج محل # الصين - سور الصين العظيم	
٨ درجات			المجموع

إجابات السؤال / الرابع

الصفحة	الدرجة	الإجابات الصحيحة	المفردة	الجزئية
٧٢، ١٠٢	درجتان لكل تكلمة ربع درجة	وجه المقارنة العاصمة اللغة الرسمية نظام الحكم العملة		اولا
		ماليزيا كوالامبور المالايوية ملكي دستوري دولار ماليزي		
٩٣	درجة	١- تعد الصين شريك استراتيجي للسلطنة في مجال الطاقة والتجارة والاستثمار . ٢- تنفيذ شركات صينية منصصة مشروعات خاصة بالماء والكهرباء . ٣- وجود علاقات ثقافية بين البلدين . ٤- توقيع اتفاقية تعاون اعلامي بين وكالة الانباء الصينية والعمانية . ٥- انشاء استثمارات نفطية ضخمة لشركة النفط الصينية في سلطنة عمان . ٦- وجود تعاون سياحي بين البلدين .	١	ثانيا
٣١	نصف درجة	١- حتى يواكب الافراد التطورات التي يمر بها العلم . ٢- تلبي حاجات السوق المحلي . ٣- تحسين وتطوير مهارات وقدرات الافراد . ٤- تحسين نوعية الحياة لدى الافراد .	٢	
٢٢	نصف درجة	يقلل من احتمالات التعرض لمخاطر الولادة يقيها من التعرض للضغوط النفسية الشديدة تستعيد تناسق جسمها و يمنع تراكم السمنة في بعض أجزائه	٣	
٨٢	درجة	١- غاندى	١	
٢٩	نصف درجة	٢- تنمية القدرات الإدارية و التقنية للعمانيين زيادة علاقتهم و كفاءاتهم مع الاقتصاد العالمي منح الثقافة و التراث اهتماما خاصا تشجيع التوظيف الذاتي والمنشآت من خلال المناهج الدراسية دعم البرامج التي تهدف الى تعزيز أنشطة الشباب رفع عدد الذين تم قبولهم في التعليم العالي	١	ثالثا
٤٦	درجتان	١- لان الامام سلطان بن سيف اعتمد على السفن الحديثة التي بناها بالهند واشترها من هولندا والتي حصل عليها بعد طرد البرتغاليين واستدام المدافع الحديثة المتطورة		
١٦	نصف درجة	٢- حجم الباحثين عن العمل = مجموع قوة العمل - مجموع العاملين فعلا ٧٠٠٠٠٠ = ٢٠٠٠٠٠٠ = ١٣٠٠٠٠ =	ب	

٨ درجات

المجموع



