

امتحان الصف السادس

للعام الدراسي ٢٠١٥/٢٠١٦

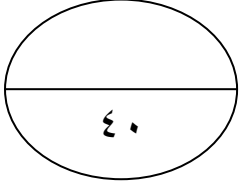


سلطنة عمان

الفصل الدراسي الثاني - الدور الاول

وزارة التربية والتعليم

ادارة التربية والتعليم بمحافظة

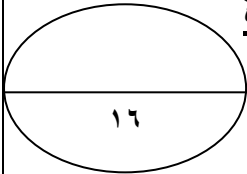


الدرجة الكلية

اسم الطالب:

المادة الدراسات الاجتماعية	العام الدراسي: ٢٠١٥/٢٠١٦ م
الزمن / ساعة ونصف	تنبيه: الأسئلة في (٦) ورقات

السؤال الاول: ضع دائرة حول رمز الاجابة الصحيحة من بين البدائل المعطاة



١. أصدر النظام الأساسي للدولة في العام الميلادي:

أ. ١٩٩٣ م ب. ١٩٩٤ م ج. ١٩٩٥ م د. ١٩٩٦ م

٢. الشكل الذي أمامك يشير إلى إحدى المشكلات والأخطار التي تتعرض لها بيئة الغابات المدارية:



أ. الرعي الجائر ب. انجراف التربة

ج. الزراعة د. الاحتطاب

٣. يتكون غطاء التربة على سطح الأرض:

أ. ببطء ب. ببطء شديد ج. بسرعة د. بسرعة شديدة

٤. جميع الحيوانات التالية تعيش في بيئة الحشائش الطويلة ما عدا:



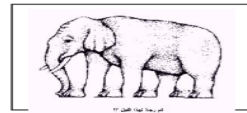
د



ج



ب



أ

٥. المصدر الأساسي لكسب الرزق الحلال في الإسلام:

أ. الميراث ب. العمل ج. الصدقة د. الزكاة

٦. تغطي الغابات بأنواعها المختلفة من مساحة الأرض :

أ- الثلث ب- الربع ج- الخمس د- النصف

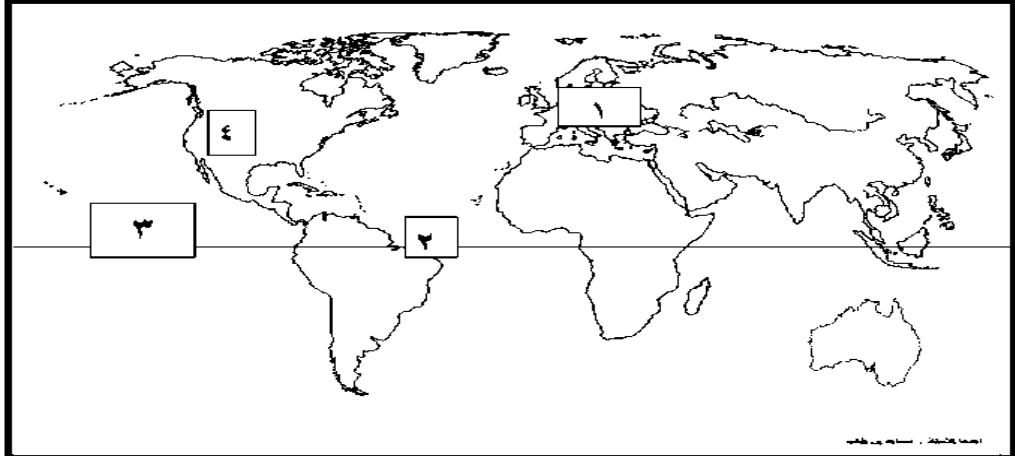
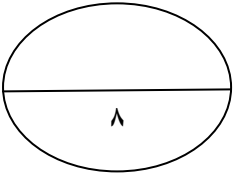
٧. سحب محمد مبلغ ٣٠٠ ريال عماني ، فأخطأ المحاسب فأعطاه ٥٠٠ ريال
ريال عماني ، برأئك كيف يتصرف محمد اتجاه هذا الخطأ :

أ. يصرف النقود ب. يتسوق بالنقود ج. إرجاع النقود د. يتصدق بالنقود

٨. الشكل الذي يمثل تكيف النبات الصحراوي بالجذور القصيرة الأفقية :



السؤال الثاني : أجب عن جميع الأسئلة الآتية :



اولاً : أ- أمامك خريطة العالم (صماء) ادرسها جيداً ، ثم أجب عن
الأسئلة التي تليها

١. اذكر اسم القارة التي لا تظهر فيها مشكلة انجراف التربة ومشار
إليها بالرقم (١)

٢. سم دائرة العرض الرئيسية والتي يرمز لها بالرقم (٣)
.....

٣. اكتب على الخريطة (الصحراء الكبرى) في موقعها الصحيح.

ب- صنف العوامل المؤدية إلى انجراف التربة بوضع اشارة (✓) لتدل على نوعها المناسب :

م	العوامل	النوع		
		مناخي	تضاريسي	بشري
١ -	الرياح			
٢ -	إزالة الغابات			

ثانيا:

هناك العديد من الحقوق التي يتمتع بها المواطن داخل السلطنة. أذكر اثنين منها ؟

أ-

ب-

ثالثا : أنسب المهن الآتية إلى الأنبياء عليهم السلام في الجدول أدناه :

(نجار - رعي الغنم والتجارة - صنع الدروع - خياط)

النبي	المهنة التي عمل بها
▪ داود (عليه السلام)	
▪ إدريس (عليه السلام)	
▪ نوح (عليه السلام)	
▪ الرسول محمد صلى الله عليه وسلم	

السؤال الثالث : أجب عن جميع الاسئلة الآتية : أولا :

١. عرف ما يلي :


أ - المحمية :

.....

ب - إدارة الوقت :

.....

٢. تأمل الصورة التالية جيدا ، ثم أجب عن الآتي :



أ. تمثل الصورة أحد أساليب صيانة التربة وهو :

ب. أين يوجد مثل هذا الأسلوب (حسب الصورة) في سلطنة عمان؟

ثانيا :

١- اذكر اثنين من أركان الدولة الأساسية ؟

أ-

ب-

٢ - علل : قدرة نبات الصبار على التكيف مع الجفاف ونقص المياه والحرارة في البنية الصحراوية ؟

.....

.....

ثالثا:

١. اكتب كلمة (مرغوب) أو (غير مرغوب) في المكان المناسب للعبارات

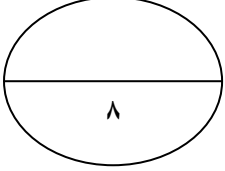
الآتية :.

أ - صرف معظم الوقت في مشاهدة التلفاز واللعب (.....) .

ب - الالتزام بالهدوء والسكينة أثناء دخول المسجد (.....) .


٢. " سمعت زميلك (سعيد) يسخر من عمال النظافة أثناء توجيهكم للمدرسة صباحا ... ما النصيحة التي تقدمها له ؟

.....
.....
.....



السؤال الرابع : أجب عن جميع الأسئلة الآتية :

اولا : اقرأ النص التالي قراءة جيدة ، ثم أجب عن الأسئلة الآتية:



(لن يعيب المواطن أبدا أن يؤدي واجبه
لخدمه بلاده من خلال أي من الأعمال
الشريفة النافعة له ولمجتمعة)

" من خطاب صاحب الجلالة (حفظه الله ورعاه)
بمناسبة العيد الوطني التاسع عشر المجيد)

١٨ / ١١ / ١٩٨٩ م "

١ - إلام يدعو إليه صاحب الجلالة السلطان قابوس المواطنين في هذا الخطاب


.....
.....

٢ - اذكر أمثلة على العمل اليدوي ؟ (يكتفى بذكر اثنين فقط) .

أ -
ب -

ثانياً : " هناك العديد من المشاريع الرائدة لحفز الشباب العماني على العمل في القطاع الخاص " ، عدد اثنين منها؟

أ -
ب -



ثالثاً: انظر إلى الصورتين الموضحة أمامك وأكمل الجدول التالي:

ب

أ

الصورة (ب)	الصورة (أ)	الصورة المقارنة
.....	١) اسم النبات
.....	٢) طرق تكيفه مع الجفاف في الصحراء

انتهت الأسئلة مع تمنياتنا لكم بالنجاح والتوفيق ،،

سلطنة عمان
وزارة التربية والتعليم
إدارة التربية والتعليم بمحافظة الوسطى
نموذج الإجابة لامتحان الدراسات الاجتماعية للصف السادس الفصل الدراسي الثاني الدور الاول ٢٠١٥/٢٠١٦ م

السؤال الأول : اختيار من متعدد ١٦ درجة (لكل مفردة درجتان)

المفردة	الرمز الصحيح	الكلمة الصحيحة	رقم الصفحة	الدرجة
١	د	١٩٩٦	٥١	٢
٢	د	الاحتطاب	٢٨	٢
٣	ب	ببطء شديد	٣٦	٢
٤	ب	الصورة (ب)	٢٦	٢
٥	ب	العمل	٧٢	٢
٦	أ	الثلاث	١٩	٢
٧	ج	إرجاع النقود	٦٢	٢
٨	أ	الصورة (أ)	٣٣	٢

نموذج اجابة السؤال الثاني : (٨ درجات)

الجزئية	المفردة	الإجابة الصحيحة	الدرجة	الصفحة																				
<u>أولاً:</u>	/١	أوروبا	درجة	٣٦																				
	/٢	دائرة الاستواء	درجة	٣٠																				
	/٣	كتابة (الصحراء الكبرى) في الموقع الصحيح	درجة	٣٠																				
	/٤		درجتان لكل مفردة درجة	٣٨																				
		<table border="1"> <thead> <tr> <th colspan="3">العوامل</th> <th>م</th> </tr> <tr> <th colspan="3">النوع</th> <th></th> </tr> <tr> <th>بشري</th> <th>تضاريسي</th> <th>مناخي</th> <th></th> </tr> </thead> <tbody> <tr> <td></td> <td></td> <td>✓</td> <td>١</td> </tr> <tr> <td>✓</td> <td></td> <td></td> <td>٢</td> </tr> </tbody> </table>	العوامل			م	النوع				بشري	تضاريسي	مناخي				✓	١	✓			٢		
العوامل			م																					
النوع																								
بشري	تضاريسي	مناخي																						
		✓	١																					
✓			٢																					
<u>ثانياً:</u>	/١	الجنسية / العدل والمساواة/ التعليم / الأمن / الرعاية الصحية / الملكية الخاصة (يكتبي بذكر اثنين فقط)	درجة لكل مفردة 1/2	٥٤																				
<u>ثالثاً:</u>	/١	<table border="1"> <tbody> <tr> <td>النبي</td> <td>المهنة التي عمل بها</td> </tr> <tr> <td>داود (عليه السلام)</td> <td>صنع الدروع</td> </tr> <tr> <td>إدريس (عليه السلام)</td> <td>خياط</td> </tr> <tr> <td>نوح (عليه السلام)</td> <td>نجار</td> </tr> <tr> <td>الرسول محمد صلى الله عليه وسلم</td> <td>رعي الغنم والتجارة</td> </tr> </tbody> </table>	النبي	المهنة التي عمل بها	داود (عليه السلام)	صنع الدروع	إدريس (عليه السلام)	خياط	نوح (عليه السلام)	نجار	الرسول محمد صلى الله عليه وسلم	رعي الغنم والتجارة	درجتان لكل مفردة 1/2	٧٢										
النبي	المهنة التي عمل بها																							
داود (عليه السلام)	صنع الدروع																							
إدريس (عليه السلام)	خياط																							
نوح (عليه السلام)	نجار																							
الرسول محمد صلى الله عليه وسلم	رعي الغنم والتجارة																							

نموذج اجابة السؤال الثالث : (٨ درجات)

الصفحة	الدرجة	الإجابة الصحيحة	المفردة	الجزئية
١٥	درجتان لكل مفردة درجة	المحمية: هي منطقة محدده جغرافيا بهدف حماية ما تشمل عليه من حيوانات أونباتات معرضه للانقراض قد تكون بريه أو بحريه إدارة الوقت : هي عملية تنظيم الوقت و استغلاله في الأعمال الصحيحه والنافعه.	/١	<u>أولا:</u>
٦٤	درجتان لكل مفردة درجة	أ. بناء المدرجات الحجرية ب. الجبل الأخضر	/٢	
٤١	درجتان لكل مفردة درجة	الأرض،المواطن، الحكومة (<u>يكتفى بذكر اثنين فقط</u>)	/١	<u>ثانيا:</u>
٥٠	درجة لكل مفردة 1/2	بسبب تميزه بسيقان ضخمة شمعية وأوراق ابرية تمنع النتح أي تبخر الماء من النباتات	/٢	
٣٢	درجة	أ/ غير مرغوب ب/ مرغوب	/١	<u>ثالثا:</u>
٦٠	درجة لكل مفردة نصف درجة	عدم السخرية من عمال النظافه أو غيرهم لأن هذا العامل البسيط يؤدي خدمة كبيرة للمجتمع والوطن. (تعطى الدرجة حسب تعبير الطالب)	/٢	
٧٧-٧٦	درجة			

نموذج اجابة السؤال الرابع : (٨ درجات)

الصفحة	الدرجة	الإجابة الصحيحة	المفردة	الجزئية									
٧٤	درجة	تقبل المواطن العمل اليدوي البسيط والوظائف المساعدة والعمل في الأعمال الشريفة النافعة لخدمه بلده ووطنه .	/١	<u>أولا:</u>									
٧٥-٧٤	درجة لكل مفردة 1/2	أعمال الحفر، النظافة، وتقليم الأشجار وغيرها (<u>يكتفى بذكر اثنين فقط</u>)	/٢										
٧٨	درجتان لكل مفردة درجة	صندوق الرfid ، مشروع انطلاقه	/١	<u>ثانيا:</u>									
٣٣	أربع درجات لكل جزئية درجة	<table border="1"> <thead> <tr> <th>الصورة (ب)</th> <th>الصورة (أ)</th> <th>الصورة وجه المقارنه</th> </tr> </thead> <tbody> <tr> <td>الصبار</td> <td>الاكسيا او السمر</td> <td>اسم النبات</td> </tr> <tr> <td>سيقان شمعية واوراق ابريه (شوقيه)</td> <td>جذور طويلة تمتد الى اعماق كبيرة لتصل الي المياه</td> <td>طرق تكيفه مع الجفاف في الصحراء</td> </tr> </tbody> </table>	الصورة (ب)	الصورة (أ)	الصورة وجه المقارنه	الصبار	الاكسيا او السمر	اسم النبات	سيقان شمعية واوراق ابريه (شوقيه)	جذور طويلة تمتد الى اعماق كبيرة لتصل الي المياه	طرق تكيفه مع الجفاف في الصحراء	/١	<u>ثالثا:</u>
الصورة (ب)	الصورة (أ)	الصورة وجه المقارنه											
الصبار	الاكسيا او السمر	اسم النبات											
سيقان شمعية واوراق ابريه (شوقيه)	جذور طويلة تمتد الى اعماق كبيرة لتصل الي المياه	طرق تكيفه مع الجفاف في الصحراء											

انتهى نموذج الإجابة