



امتحان الصف السادس

العام الدراسي ٢٠١٥ / ٢٠١٦

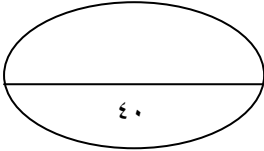
الفصل الدراسي الثاني – الدور الثاني

سلطنة عمان

وزارة التربية والتعليم

ادارة التربية والتعليم بمحافظة الوسطى

الدرجة الكلية



اسم الطالب:

المادة : الدراسات الاجتماعية	العام الدراسي ٢٠١٥ / ٢٠١٦
الزمن : ساعة ونصف	تنبيه الاسئلة في (٥) ورقات

السؤال الاول : اختر الاجابة الصحيحة من بين البدائل المعطاة:

١٦

١- تمنح جائزة جلالة السلطان قابوس لحماية البيئة وصون الموارد الطبيعية كل

أ- عام ب- عامين ج- ثلاثة أعوام د- أربعة أعوام



٢- الصورة المقابلة تمثل حيوانات بيئة :-

أ- الغابات المدارية ب- الغابات الصحراوية

ج- بيئة السافانا د- البيئة شبه الصحراوية

٣- النظام الأساسي للدولة صدر بموجب المرسوم السلطاني رقم ١٠١ في عام :-

أ- ١٩٩٠ ب- ١٩٨٠ ج- ١٩٩٢ د- ١٩٩٦ م

٤- تشكل بيئة الصحارى الحارة من اليابسة حوالي :-

أ- ثلث المساحة ب- ربع المساحة ج- نصف المساحة د- ثمن المساحة



٥- العمل اليدوي الذي تعبر عنه

الصورة فلشكل المقابل هو :-

أ- النجارة ب- الحلاقة

ج- الزراعة د- الصناعة

٦- تتم صيانة الغابات من خلال القيام بعمليات :-

أ- التمثيل الضوئي ب- قطع الأشجار ج- التحريج د- حرق الغابات

٧- الشخص الذي يحفظ حقوق الناس من أقوال وأسرار وودائع وأموال يمتاز بصفة

أ- الشجاعة ب- الأمانة ج- الإبداع د- المعرفة

٨- يطلق على المنطقة المحددة جغرافيا بهدف حماية ما تشتمل عليه من حيوانات أو نباتات معرضة للانقراض اسم :-

أ- المحمية ب- السياحية ج- الصناعية د- المعرفة

السؤال الثاني: أجب عن الاسئلة الآتية :-

٨

أولا :- اكتب مقابل عامل من العوامل المؤثرة على النظم البيئية طبيعة التأثير ونوعيته.

العوامل التي تؤثر على النظم البيئية	طبيعة التأثير ونوعيته
المناخ	المطر
	درجة الحرارة (س)
التضاريس وأشكال سطح الأرض	الارتفاع بالأمتار
	درجة ميل السفوح (الانحدار)

ثانيا :- أ- أذكر اثنين من الحقوق التي يتمتع بها المواطن داخل السلطنة:

١-

٢-

ب- ادرس الشكل المقابل وأجب عن الأسئلة الآتية .

1- فيما تستخدم الأوراق الجديدة لهذه الشجرة

:-

2- ما فائدة جزع هذه الشجرة :-

.....



ثالثا : أما المقصود بالواجبات ؟

.....
.....

ب- اذكر اثنين من أركان الدولة .

١- ٢-

٨

السؤال الثالث :- أجب عن الاسئلة الاتية

أولا :- ادرس الجدول أدناه واجب على الأسئلة التي تليه .

الشهر	يناير	فبراير	مارس	ابريل	مايو	يونيو	يوليو	أغسطس	سبتمبر	أكتوبر
درجة الحرارة	27	27	29	31	33	29	27	28	29	32
الأمطار (مليمتر)	00	10	30	80	120	150	185	230	155	100

١- في أى شهر تسقط أكبر كمية من الامطار :

.....

٢- في اى شهر تم تسجيل أعلى درجة حرارة ؟

.....

ثانيا :-

أ- اذكر فوائد المحافظة على الغابات المدارية المطيرة.

١-

٢-

٣-

ب- علل :- اقسام الله عز وجل بالعصر:

.....

.....

ثالثا :- أقرأ النص التالي ثم اجب على الأسئلة التي تليه.

فإننا نشدد بصفة خاصة على الأهمية الكبرى لتجاوب المواطنين أنفسهم وتقبلهم لجميع الأعمال التي تقوم بها العمالة الوافدة مهما كان نوعها بما فيها العمل اليدوي البسيط والوظائف المساعدة ولن يعيب المواطن أبدا أن يؤدي واجبه لخدمة بلاده من خلال أي من هذه الأعمال الشريفة النافعة له ولمجتمعه .

١- ما رأيك في الشباب الذين يترفعون عن الأعمال اليدوية وينتظرون الأعمال المكتبية ؟

.....
.....

٢- ماذا تقول للذين يعدون الأعمال اليدوية البسيطة عيبا ؟

.....
.....

السؤال الرابع :- أجب عن الاسئلة الاتية :-

أولا :- أكمل الفراغات بما يناسبها .

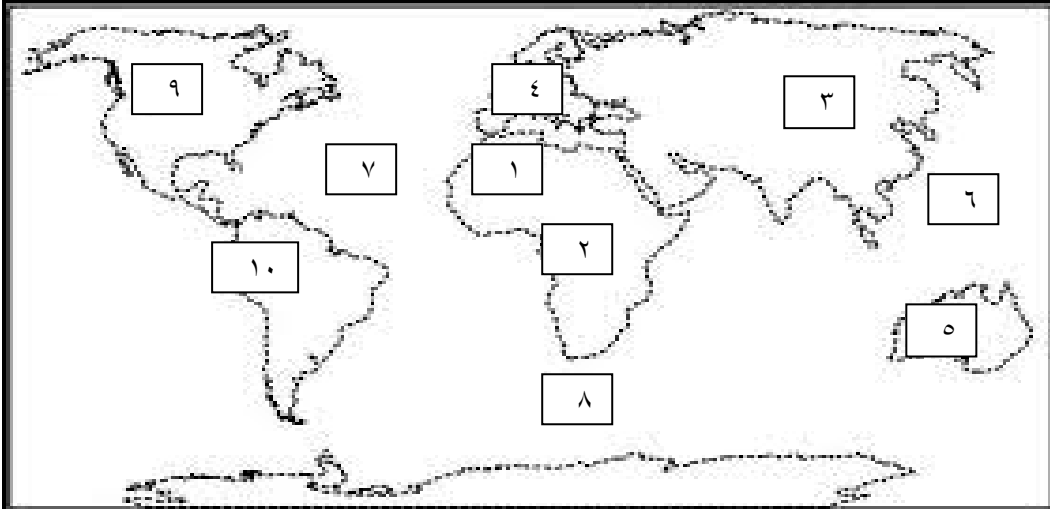
١- معظم صحارى العالم حجرية وحصوية وليست

٢- تقع صحراء كلهارى فى

ثانيا :- أضع علامة صواب أسفل نوع التأهيل الذي تتطلبه الأعمال الواردة في الجدول أدناه :-

م	التأهيل	لا تحتاج إلى تأهيل دراسي	تحتاج إلى تأهيل دراسي متوسط	تحتاج إلى تأهيل دراسي عال
١	الاعمال النظافة			
٢	هندسة طائرات			
٣	الطب			
٤	الحدادة			

ثالثاً:- ادرس خريطة العالم أدناه جيدا ثم أجب على الاسئلة التي تليه :-



١- اكتب اسم القارة المشار اليها بالرقم ٥

.....

٢- اكتب رقم القارة التي لا توجد بها صحارى

.....


٣- اكتب المسطح المائى المشار اليه بالرقم ٧

.....

٤- سم الصحراء المشار اليها بالرقم ١

.....

انتهت الاسئلة مع أطيب الامنيات بالتوفيق





سلطنة عمان

وزارة التربية والتعليم

إدارة التربية والتعليم بمحافظة الوسطى

نموذج الإجابة لامتحان مادة الدراسات الاجتماعية للصف السادس ، الدور الثاني للفصل الدراسي الثاني
للعام الدراسي ٢٠١٥ - ٢٠١٦ م .

السؤال الأول الاختيار من متعدد :-١٦ درجة

المفردة	الرمز الصحيح	الكلمة الصحيحة	رقم الصفحة	الدرجة
١	ب	عامين	٤٨	٢
٢	ج	بيئة السافانا	٢٦	٢
٣	د	١٩٩٦م	٥١	٢
٤	أ	ثلث	٣٠	٢
٥	ج	الزراعة	٧٥	٢
٦	ج	التحريج	٤٣	٢
٧	ب	الأمانة	٦١	٢
٨	أ	المحمية	١٥	٢

السؤال الثاني (٨) درجات :-

الصفحة	الدرجة	الإجابة الصحيحة	المفردة	الجزئية
١٧	درجتان لكل مفردة نصف درجة	تحدد كمية الأمطار وطول فترة الجفاف نوعية النباتات.	١-	أولاً
١٧	درجة	يرتبط موسم نمو النباتات بارتفاع درجات الحرارة.	٢-	
١٧	درجة	تتناقص كثافة النباتات الطبيعية وارتفاعها مع تزايد ارتفاع السطح .	٣-	
١٧	درجة	كلما زاد ميل السفوح تصبح التربة قليلة السمك .	٤-	
٥٤	درجتان لكل مفردة	الجنسية – العدل والمساواة – التعليم – الرعاية الصحية – الملكية الخاصة .(يكتفي بذكر اثنين من الحقوق)	أ- ب-	ثانياً
٣٥	درجتان لكل مفردة	١- يستخدم علفا للحيوانات . ٢- يستفاد منها في بناء سقوف المنازل		
٥١	درجة	هو كل ما يجب على المواطن أن يقوم به تجاه الدولة وفق الأنظمة والقوانين .	أ-	ثالثاً
٥٠	درجة لكل مفردة نصف درجة	الأرض – المواطن – الحكومة .(يكتفي بذكر اثنين من أركان الدولة)	ب-	

السؤال الثالث (٨) درجات :

الصفحة	الدرجة	الإجابة الصحيحة	المفردة	الجزئية
٢٧	درجة	١- أغسطس	أ	أولاً
	درجة	٢- مايو		
٦٤	درجة	استخلاص الادوية – انتاج الاكسجين – لايحرم السكان الاصلين من مقومات حياتهم.	أ	ثانياً
٢٤	ثلاثة درجات لكل مفردة درجة	الدلالة على أهمية الوقت .	ب	
٧٤	درجة	١- عدم الترفع عن الأعمال اليدوية وتنفيذ توجيهات جلالة السلطان .(اي إجابة في هذا الإطار)	أ	ثالثاً
	درجة	٢- عدم إضاعة الوقت والعمل عبادة . (اي إجابة في هذا الإطار)		

السؤال الرابع (٨) درجات:-

الصفحة	الدرجة	الإجابة الصحيحة				المفردة	الجزئية
٣١	درجة	رملية جنوب افريقيا				١	أولا
٦٧	درجة						
٧٦	درجتان لكل اجابة نصف درجة	تحتاج إلى تأهيل دراسي عال	تحتاج إلى تأهيل دراسي متوسط	لا تحتاج إلى تأهيل	م		ثانيا
				صح	١		
		صح			٢		
		صح			٣		
			صح		٤		
٣٠	درجة درجة درجة درجة	استراليا. أوربا. المحيط الاطلسي. الصحراء الكبرى				١	ثالثا
						٢	
						٣	
						٤	