

سلطنة عُمان
وزارة التربية والتعليم

المديرية العامة للتربية والتعليم محافظة مسندم
امتحان الصف السادس
للعام الدراسي ١٤٣٦/١٤٣٧ هـ - ٢٠١٥/٢٠١٦ م
الفصل الدراسي الثاني - الدور الأول

- المادة : الدراسات الاجتماعية
- زمن الإجابة : ساعة ونصف
- عدد صفحات أسئلة الامتحان : (٤)
- الإجابة في الورقة نفسها

اسم الطالب	
المدرسة	
الشعبة	

التوقيع بالاسم		الدرجة بالحروف (بالأحمر)	الدرجة بالأرقام (بالأحمر)		السؤال
المصحح (بالأحمر)	المدقق (بالأخضر)		عشرات	آحاد	
					١
					٢
					٣
					٤
					٥
مراجعة الجمع والتشطيب (بالأزرق)	جمعه (بالأحمر)				المجموع
				٤٠	المجموع الكلي



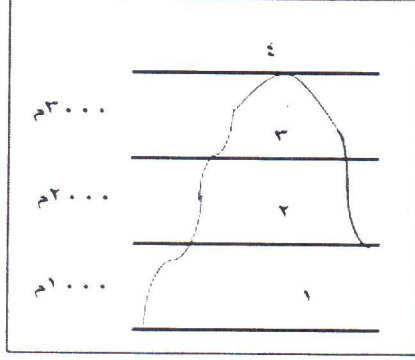
امتحان الصف السادس لمادة الدراسات الاجتماعية

للعام الدراسي ١٤٣٦/١٤٣٧ هـ - ٢٠١٥/٢٠١٦ م

الفصل الدراسي الثاني - الدور الأول

أجب عن جميع الأسئلة.

السؤال الأول: ضع دائرة على رمز الإجابة الصحيحة من بين البدائل المعطاة



(١) من خلال الشكل الذي أمامك تظهر التندرا الجبلية والشجيرات المتفرقة حسب تأثير عامل الارتفاع في المنطقة المشار إليها بالرقم :

(أ) ١ (ب) ٢ (ج) ٣ (د) ٤

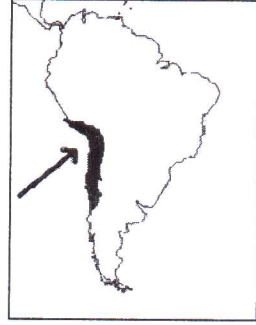
(٢) تنتج النباتات في الغابات المدارية المطيرة نسبة كبيرة من الأدوية المعروفة حاليا تقدر بحوالي :

(أ) ٤٠% (ب) ٥٠% (ج) ٦٠% (د) ٧٠%

(٣) تسمى الصحراء المشار إليها في الخريطة التي أمامك :

(أ) صحراء ثار (ب) صحراء كلهاري

(ج) صحراء موجاف (د) صحراء أتكاما



(٤) من الأساليب المتبعة في المناطق الجبلية لصيانة التربة والتي تعمل

على تخفيف الانحدار وتسوية السطح لجعل الماء يتسرب داخل التربة بدلا من جريانه سطحيا :

(أ) المدرجات الزراعية (ب) مصدات الرياح (ج) الحرثة السليمة (د) التحريج

(٥) عقد أول مؤتمر عالمي للبيئة تحت رعاية الأمم المتحدة عام ١٩٧٢ في مدينة :

(أ) ريو دي جانيرو (ب) استكهولم (ج) باريس (د) مونتريال

(٦) صدر النظام الأساسي للدولة في نوفمبر من العام الميلادي :

(أ) ١٩٩٤ (ب) ١٩٩٥ (ج) ١٩٩٦ (د) ١٩٩٧



(٧) نوع التأهيل الذي تحتاجه المهنة في الصورة التي أمامك :

(أ) لا تحتاج إلى تأهيل دراسي (ب) تحتاج تأهيل دراسي متوسط

(ج) تحتاج تأهيل دراسي عالي (د) تحتاج تأهيل دراسي عالي جدا


(٨) جميع ما يلي من الممارسات المرغوبة في حياة الإنسان عدا :

(أ) ممارسة رياضة السباحة

(ب) زيارة أقاربي وأصدقائي أسبوعيا

(ج) تخصيص وقت كاف يوميا للقراءة والاطلاع

(د) قضاء وقت طويل في السهر ومشاهدة التلفاز





امتحان الصف السادس لمادة الدراسات الاجتماعية
للعام الدراسي ١٤٣٦/١٤٣٧ هـ - ٢٠١٥/٢٠١٦ م
الفصل الدراسي الثاني - الدور الأول

السؤال الثاني : أجب عن الاسئلة

(١) عدد اثنين في كل مما يلي

(أ) النظم البيئية التي تظهر في الوطن العربي (١)

.....(٢)

(ب) النتائج المترتبة على الرعي الجائر (١)

.....(٢)

(ج) المشاريع الرائدة لحفز الشباب العماني للعمل في القطاع الخاص

(١) (٢)

(٢) أنظر إلى الصورة ثم أجب عن الأسئلة التالية :

(أ) ما اسم البيئة التي ينتمي لها هذا الحيوان؟

.....

(ب) ما خصائص المناخ في هذه البيئة ؟

.....

.....




(٣) أقرأ أقوال صاحب الجلالة السلطان قابوس المعظم التالية وصنفها إلى حقوق، واجبات

(أ) "إنه ليسعدنا أن نرى المواطن العماني متمتعاً بالرعاية الصحية الكاملة "

(ب) " على الإنسان أينما كان أن يساهم في الحفاظ على البيئة "

(ج) "على كل مواطن ان يكون حارساً أميناً على مكتسبات الوطن ومنجزاته"





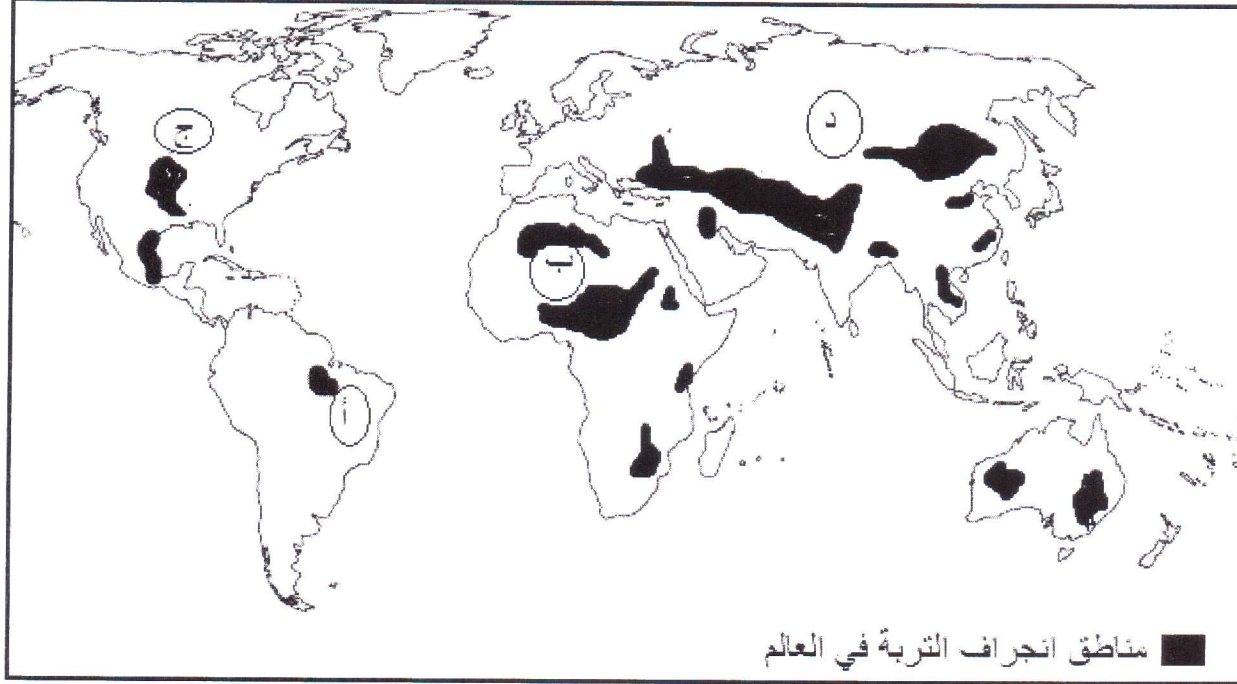
امتحان الصف السادس لمادة الدراسات الاجتماعية

للعام الدراسي ١٤٣٦/١٤٣٧ هـ - ٢٠١٥/٢٠١٦ م

الفصل الدراسي الثاني - الدور الأول

السؤال الثالث : أجب عن الاسئلة

١ (أدرس الخريطة جيدا ثم أجب على الأسئلة التي تليها



- (أ) ما اسم القارة التي لا تظهر فيها مشكلة انجراف التربة؟
- (ب) تظهر بيئة الغابات المدارية المطيرة في مدينة بلم في القارة المشار إليها بالرمز
- (ج) توجد أكبر صحراء حارة في العالم في المنطقة المشار إليها بالرمز
- (٢) أقرأ الجدول التالي الذي يبين الطلبة المتدربين في مراكز التدريب المهني ثم أجب عن الأسئلة التي تليه

المجموع	أعداد الطلبة				المركز التخصص	القسم
	عبري	صور	صحم	السيب		
٤٤٢	١٢١	١٠٧	٧٩	١١٥	تركيبات	اعمال الميكانيكا
					لحام	
					تشغيل	
٣١١	٨٣	٧٣	٧٠	٨٥	ميكانيكي	اعمال السيارات
					كهربائي	
					ديزل وبنزين	
٢٧١	٣١	٣٩	٧٣	١٢٨	البناء	اعمال الإنشاءات
					الخرسانة	
					البلاط	

- (أ) كم يبلغ عدد المتدربين في قسم الميكانيكا في مركز ولاية صور؟
- (ب) أذكر اثنين من أسماء التخصصات في قسم الإنشاءات
- (١)
- (ج) كم يبلغ العدد الإجمالي العام لطلبة قسم أعمال السيارات ؟



امتحان الصف السادس لمادة الدراسات الاجتماعية
للعام الدراسي ١٤٣٦/١٤٣٧ هـ - ٢٠١٥/٢٠١٦ م
الفصل الدراسي الثاني - الدور الأول

٣) عرف ما يلي :

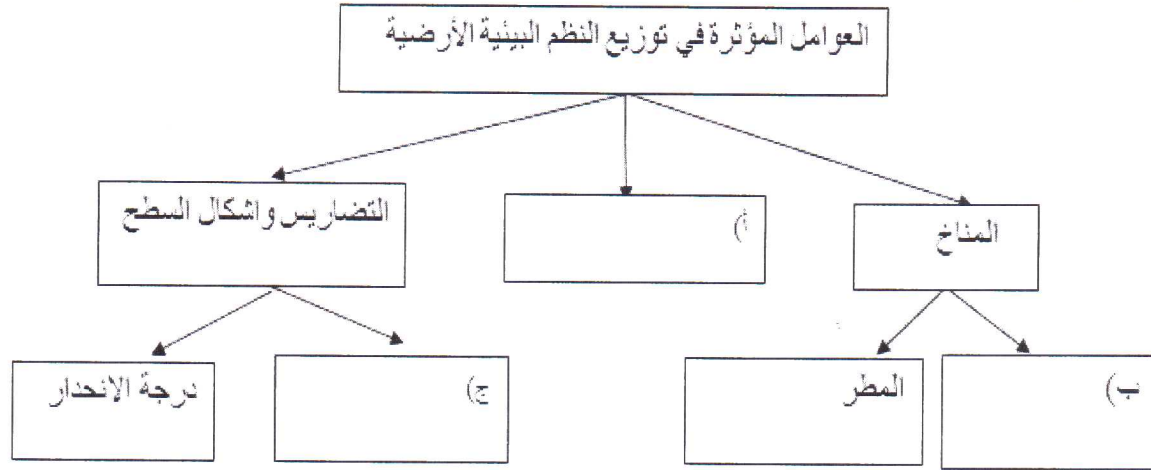
أ) النظام الأساسي

٨

ب) المحمية

السؤال الرابع : أجب عن الاسئلة :

١) أكمل المخطط التالي بالاستعانة بما بين القوسين (المطر ، الارتفاع ، التربة ، درجة الحرارة ، الأملاح)



٢) علل لما يلي (اذكر السبب):

أ) زيادة نمو النباتات الطبيعية وتنوعها وعظم كثافتها في الغابات المدارية المطيرة الاستوائية

ب) قدرة نبات الصبار على التكيف مع الجفاف ونقص المياه والحرارة في البيئة الصحراوية

٣) صنف السلوكيات الآتية كلاً حسب القيم التي تنتمي إليها (إدارة الوقت، الأمانة، احترام العمل، الصدق)

القيم	السلوك
	أ) يفتخر عبدالله بين أصدقائه أن والده يمارس مهنة الخياطة
	ب) أصدر راشد صوت داخل الصف وعندما سأله الأستاذ من فعل ذلك قال أنا
	ج) أنجز سالم الواجب المدرسي في الوقت المحدد

٨

((انتهت الأسئلة مع تمنياتنا لكم بالتوفيق والنجاح))



سلطنة عُمان
وزارة التربية والتعليم

المديرية العامة للتربية والتعليم محافظة مسندم

نموذج إجابة امتحان الصف السادس

للعام الدراسي ٣٦ ١٤٣٧/١٤هـ - ٢٠١٥/٢٠١٦م

الدور الأول - الفصل الدراسي الثاني

المادة: الدراسات الاجتماعية

إجابة السؤال الأول الموضوعي

الدرجة الكلية (١٦) درجة

المفردة	١	٢	٣	٤	٥	٦	٧	٨
البديل الصحيح	ج	أ	د	أ	ب	ج	ب	د
الدرجة	٢	٢	٢	٢	٢	٢	٢	٢
الصفحة	١٨	٢٤	٣٠	٤٠	٤٧	٥١	٧٥	٦٩

إجابة السؤال الثاني

الدرجة الكلية (٨) درجة

الجزئية	المفردة	الإجابة	الدرجة	الصفحة
١	أ	بيئة الصحاري - بيئة الحشائش السافانا بيئة غابات البحر المتوسط - بيئة الحشائش المعتدلة (مطلوب اثنين فقط لكل نصف درجة)	١	١٢
	ب	- تموت الأعشاب - يمنع تجدد النباتات - نمو نباتات غير صالحة للرعي - زيادة انجراف التربة - زيادة الجريان السطحي - تدمير موطن الحيوانات البرية (مطلوب اثنين فقط لكل نصف درجة)	١	٤٤
	ج	صندوق الرfid - مشروع انطلاقة لكل نصف درجة	١	٧٨
٢	أ	بيئة الحشائش المدارية الطويلة (السافانا)	١	٢٦
	ب	- حار طوال السنة - تتكون السنة منفصلين أحدهما ماطر والآخر جاف . (مطلوب اثنين فقط لكل نصف درجة)	١	٢٦
٣	أ	حقوق	١	٥٨
	ب	واجبات	١	٥٨
	ج	واجبات	١	٥٨



الدرجة الكلية (٨) درجات

إجابة السؤال الثالث :

الصفحة	الدرجة	الإجابة	المفردة	الجزئية
٣٦	١	أوروبا	أ	١
٢٠	١	أ	ب	
٣٠	١	ب	ج	
٨٠	١	١٠٧	أ	٢
٨٠	١	(١) البناء (٢) الخرسانة (٣) البلاط (مطلوب اثنين فقط لكل نصف درجة	ب	
٨٠	١	٣١١	ج	
٥١	١	النظام الأساسي هو وثيقة رسمية تعرف بالدولة وبنظام الحكم فيها وتحدد المبادئ الموجهة لسياساتها في المجالات المختلفة كما تبين الحقوق والواجبات العامة	أ	٣
١٥	١	المحمية هي منطقة محددة جغرافياً بهدف حماية ما تشمل عليه من حيوانات أو نباتات معرضة للانقراض وقد تكون المحمية برية مثل محمية المها العربي في جدة الحراسيس او بحرية مثل محمية السلاحف في راس الحد	ب	

إجابة السؤال الرابع

الدرجة الكلية (٨) درجات

الصفحة	الدرجة	الإجابة	المفردة	الجزئية
١٧	١	التربة	أ	١
١٧	١	درجة الحرارة	ب	
١٧	١	الارتفاع	ج	
١٩	١	بسبب ارتفاع درجات الحرارة وكميات الامطار طوال العام	أ	٢
٣٢	١	بسبب السيقان الضخمة الشمعية والأوراق الإبرية التي تمنع النتح (التبخر) منها	ب	
٧١	١	احترام العمل	أ	٣
٦٠	١	الصدق	ب	
٦٩	١	إدارة الوقت	ج	