



سلطنة عمان  
وزارة التربية والتعليم

الدرجة النهائية

المديرية العامة للتربية والتعليم بمحافظة شمال الشرقية

دائرة التقويم التربوي

قسم الاختبارات والمقاييس

امتحان مادة الدراسات الاجتماعية للصف السابع للفصل الدراسي الثاني - الدور الثاني للعام الدراسي ١٤٣٦/١٤٣٧ هـ - ٢٠١٥/٢٠١٦ م

• عدد صفحات أسئلة الامتحان: ٥

• زمن الإجابة : ساعة ونصف

• تنبيه هام : ( الإجابة في نفس الورقة )

### بيانات الممتحن

اسم الطالب:

اسم المدرسة:

الصف:


### تصحيح الورقة الامتحانية

السؤال	الدرجة بالأرقام		الدرجة بالحروف	التوقيع (بالاسم)	
	آحاد	عشرات		المصحح (اللون الاحمر)	المدقق (باللون الاخضر)
١					
٢					
٣					
٤					
المجموع			جمعه (باللون الأحمر)	مراجعة الجمع والتشطيب (باللون الأزرق)	



**السؤال الأول : ضع دائرة حول رمز الإجابة الصحيحة فيما يلي :**

١- تمثل الصورة التالية من ابرز انجازات الحضارة:



أ / السومرية

ب/ الآشورية

ج/ المصرية

د/ البابلية

٢- عقدت ندوة التصحر في سلطنة عمان عام ٢٠٠٢ ميلادي بمحافظة :

د/ ظفار

ج/ مسقط

ب/ الداخلية

أ/ البريمي

٣- المرحلة التي أستأنس فيها الإنسان الحيوانات وقام بتربيتها هي :

د/ الصناعة

ج/ التجارة

ب/ الصيد والرعي

أ/ الجمع والالتقاط

٤- الرقم الذي يشير إلى أكبر مدن العالم من حيث عدد السكان هو :



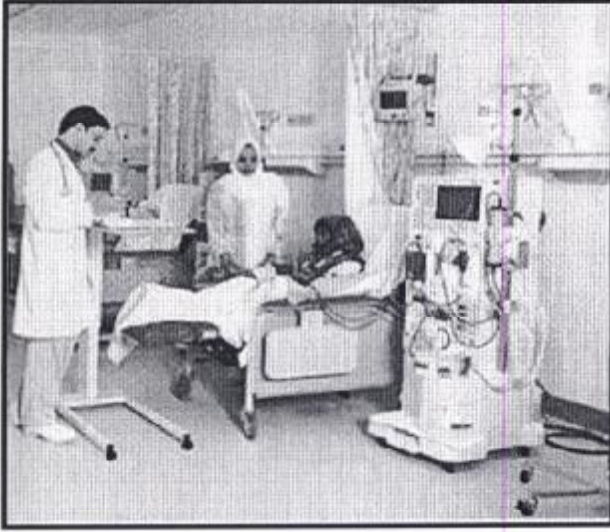
أ / 1

ب / 2

ج / 3

د / 4

تابع /السؤال الأول : ضع دائرة حول رمز الإجابة الصحيحة فيما يلي :



٥- الاحتياج السكاني الواضح في الصورة هو :

أ/ الصحة

ب/ التعليم

ج/ الاتصالات

د/ الإسكان

٦- تسمى الخطط التي تهدف إلى تطوير الحياة الاقتصادية والاجتماعية لسكان الريف اسم :

أ/ التراجع الحضري      ب/ التنمية الريفية      ج/ التنمية الاقتصادية      د/ التحضر

٧- الحضارة التي قامت في بلاد الشام وعاصمتها مدينة ماري هي :

أ/ الأمورية      ب/ الأرامية      ج/ السومرية      د/ الفينيقية

٨- تمثل الصورة التالية نموذج للكتابة :

أ/ اللاتينية

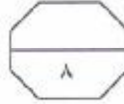
ب/ الفينيقية

ج/ المسمارية

د/ الهيروغليفية







السؤال الثاني : اجب عن الأسئلة التالية :


١- ( سكن الفينيقيون في المنطقة الساحلية من بلاد الشام وأصبحوا أول أمة بحرية في التاريخ ، وتمكنوا من تكوين عدة مستعمرات مثل قرطاجة ) :

أ/ المسطح المائي ( البحر ) الذي مارس فيه الفينيقيون تجارتهم هو .....

ب/ ما اسم الدولة الحالية التي تقع فيها مستعمرة قرطاجة .....

ج/ بما تفسر اتجاه الفينيقيون للتجارة البحرية.

٢- انظر إلى الصورة التالية ثم اجب عن الأسئلة التي تليها :



أ/ المشكلة التي تعاني منها المدن من خلال الصورة هي .....

ب/ انكر نتيجة واحدة تترتب على هذه المشكلة .

ج/ كيف يمكن التغلب على هذه المشكلة .

٣- علل لما يلي :

أ/ حرص المصريون القدماء على تحنيط جثث موتاهم وتزويد المقبرة بكل ما يحتاج إليه الميت من أدوات وأثاث وطعام .

ب/ ازدياد حركة الهجرة من الريف إلى الحضر ( المدينة ) .



**السؤال الثالث : اجب عن الأسئلة التالية :**

١- أدرس الخريطة التالية ثم اجب عن الأسئلة التي تليها .



- أ/ استخرج من الخريطة عاصمة الآشوريين الجديدة في عهد آشور باتيبال .  
ب/ من خلال الخريطة ؛ ما اسم المدينة التي بناها السومريون على نهر الفرات .  
ج/ ضع علامة ( √ ) على الإجابة الصحيحة .

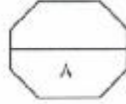
الاتجاه الذي يسلكه نهري دجلة والفرات : ( ) من الشمال للجنوب ( ) من الجنوب للشمال  
٢- أكتب اسم الملك في المكان الصحيح للإنجاز الذي تم في عصره :

( رمسيس الثاني - حمورابي - نبوخذ نصر الثاني )


الملك صاحب الانجاز	المنجز hj
	بنى برج بابل والحدائق المعلقة
	اشتهر المسلات والتمائيل الضخمة أشهرها معبد في الصخر أبو سمبل .
	من أشهر من ملوك الدولة البابلية الثانية ، اشتهر بقوانينه وتشريعاته

- ٣- ( تحرص حكومة السلطنة على دعم القطاع الزراعي تلافياً لحدوث أي مشكلات تؤثر عليه ) .  
في ضوء ذلك عدد اثنين من جهود حكومة سلطنة عمان في دعم القطاع الزراعي .

.....  
.....  
.....



السؤال الرابع: اجب عن الأسئلة التالية :



١- تمعن في الصورة التالية ثم اجب عن الأسئلة التي تليها :

أ/ ما الاحتياج السكاني الذي توفره السلطنة للمجتمع.

ب/ ما أهمية هذا الاحتياج السكاني للمجتمع .

٢- صنف في الجدول أدناه العبارات التالية إلى خصائص الريف أو المدينة .  
( \*انتشار نمط الأسرة الكبيرة \* التوسط والمركزية \* ارتفاع قيمة الأراضي \* توفر الخامات الزراعية \*توفر الخدمات الأساسية \*قوة العلاقات الأسرية )

ب/ المدينة	أ/ الريف

٣- رتب أحداث الحضارة المصرية القديمة من الأقدم إلى الأحدث وذلك بوضع الرقم بين القوسين :

أ/ ( ..... ) بناء تمثال أبو الهول .

ب/ ( ..... ) حفر قناة تربط بين البحر الأحمر والبحر المتوسط عن طريق نهر النيل .

ج/ ( ..... ) الملك مينا يوحد مصر .

انتهت الأسئلة، مع أطيب التمنيات بالتوفيق



نموذج إجابة امتحان الصف السابع  
للعام الدراسي ١٤٣٦/١٤٣٧هـ - ٢٠١٥ - ٢٠١٦م  
الدور الثاني - الفصل الدراسي الثاني

• الدرجة الكلية: ( ٤٠ )  
درجة

• المادة : الدراسات الاجتماعية

تنبيه : نموذج الإجابة في : ٤ صفحات

إجابة السؤال الأول :

الدرجة : ( ١٦ ) درجة		إجابة السؤال الأول		
الصفحة	الدرجة	الإجابة	رمز الاجابة الصحيح	المفردة
٤٣	٢	المصرية	ج	١
٢٢	٢	ظفار	د	٢
١١	٢	الصيد والرعي	ب	٣
٢٥	٢	٤	د	٤
٣٢	٢	الصحة	أ	٥
١٨	٢	التنمية الريفية	ب	٦
٦٢	٢	الأمورية	أ	٧
٥٣	٢	المسمارية	ج	٨
١٦ درجة		المجموع		

## - إجابة السؤال الثاني

الدرجة : ( ٨ ) درجة		إجابة السؤال الثاني		
الصفحة	الدرجة	الإجابة	المفردة	الجزئية
٦٨-٦٦	١	البحر المتوسط	أ	١
٦٨	١	تونس	ب	
٦٦	١	١-جبال لبنان كانت تعيق التجارة مع الداخل السوري ٢-وفرة الأخشاب لصناعة السفن ٣- سكنوا منطقة ساحلية ( ما يفيد المعنى ، يكتفى بإجابة واحدة )	ج	
٢٨	١	التلوث	أ	٢
٢٨	١	ظهور الأمراض والأوبئة ( ما يفيد المعنى )	ب	
٢٨	١	عن طريق رمي القمامة في الأماكن المخصصة ( ما يفيد المعنى )	ج	
٤٣	١	لاعتقاد المصريون بالبعث بعد الموت	أ	٣
١٨	١	١-تركز الخدمات والصناعات في المدن ٢- توفر فرص العمل ٣- ارتفاع الدخل ( ما يفيد المعنى ، يكتفى بإجابة واحدة )	ب	
٨ درجات		المجموع		



إجابة السؤال الثالث

الدرجة : ( ٨ ) درجة		إجابة السؤال الثالث		
الصفحة	الدرجة	الإجابة		المفردة
٥٧ ، ٥١	١	نينوى		أ
٥١ - ٥٢	١	أور		ب
٥١	١	( √ ) من الشمال للجنوب		
٥٩ ٤٩ ٥٥	٣ درجات لكل مفردة درجة	الملك صاحب لانجاز	المنجز	٢
		نبوخذ نصر الثاني	بنى برج بابل والحدائق المعلقة	
		رمسيس الثاني	اشتهر المسلات والتماثيل الضخمة أشهرها معبدان في الصخر أبو سمبل .	
		حمورابي	من أشهر من ملوك الدولة البابلية الثانية ، اشتهر بقوانينه وتشريعاته	
٢٢	٢ لكل إجابة صحيحة درجة	١- تقديم البذور ٢- تقديم أجهزة الري الحديثة ٣- تقديم الإرشاد الزراعي ٤- تقديم القروض		٣
٨ درجات		المجموع		

( ما يفيد المعنى )

## - إجابة السؤال الرابع -

الدرجة : ( ٨ ) درجة		إجابة السؤال الرابع											
الصفحة	الدرجة	الإجابة	المفردة	الجزئية									
٣٣	١	التعليم	أ	١									
٣٣	١	*تزويد المتعلمين بالمعرفة * غرس الشعور بحب الوطن والدفاع عنه * تزويد المجتمع بالمهارات الضرورية للحياة *إعداد الفرد ليكون عنصر فاعل في المجتمع ( ما يفيد المعنى في أهمية التعليم للفرد او المجتمع )	ب										
١٥-١٤	٣ درجات لكل مفردة نصف درجة	<table border="1"> <thead> <tr> <th>ب/ المدينة</th> <th>أ/ الريف</th> </tr> </thead> <tbody> <tr> <td>التوسط والمركزية</td> <td>توافر الخامات الزراعية</td> </tr> <tr> <td>ارتفاع قيمة الأراضي</td> <td>انتشار نمط الأسرة الكبيرة</td> </tr> <tr> <td>توفر الخدمات الاساسية</td> <td>قوة العلاقات الأسرية</td> </tr> </tbody> </table>		ب/ المدينة	أ/ الريف	التوسط والمركزية	توافر الخامات الزراعية	ارتفاع قيمة الأراضي	انتشار نمط الأسرة الكبيرة	توفر الخدمات الاساسية	قوة العلاقات الأسرية	٢	٣
		ب/ المدينة	أ/ الريف										
		التوسط والمركزية	توافر الخامات الزراعية										
		ارتفاع قيمة الأراضي	انتشار نمط الأسرة الكبيرة										
توفر الخدمات الاساسية	قوة العلاقات الأسرية												
<p>أ/ ( ٢ ) بناء تمثال أبو الهول .</p> <p>ب/ ( ٣ ) حفر قناة تربط بين البحر الأحمر والحر المتوسط عن طريق نهر النيل .</p> <p>ج/ ( ١ ) الملك مينا يوحد مصر .</p>													
٨	درجات	المجموع											

انتهى نموذج الإجابة