



المديرية العامة للتربية والتعليم بمحافظة شمال الشرقية
دائرة التقويم التربوي
قسم الاختبارات والمقاييس

الدرجة النهائية

امتحان الصف الخامس
للعام الدراسي ١٤٣٦/١٤٣٧هـ - ٢٠١٥ - ٢٠١٦م
الدور الثاني - الفصل الدراسي الأول

- عدد صفحات أسئلة الامتحان : ٧ صفحات
- الإجابة في نفس الورقة

- المادة : الدراسات الاجتماعية
- زمن الاجابة : ساعة ونصف

بيانات الممتحن

اسم الطالب :

الصف :

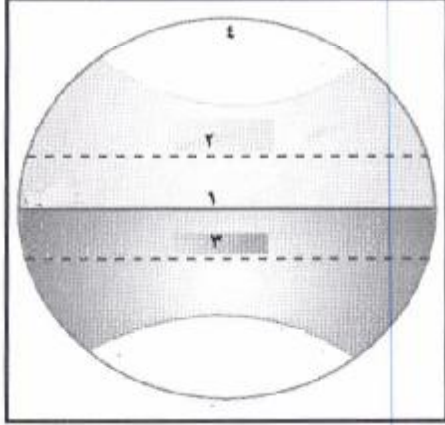
اسم المدرسة :

تصحيح الورقة الامتحانية

السؤال	الدرجة بالارقام		الدرجة بالحروف	التوقيع (بالاسم)	
	آحاد	عشرات		المصحح (اللون الاحمر)	المدقق (باللون الاخضر)
١					
٢					
٣					
٤					
٥					
٦					
٧					
المجموع			جمعه (باللون الاحمر)	مراجعة الجمع والنشاطيب (باللون الازرق)	

السؤال الأول : (١٦ درجة)
اختر الإجابة الصحيحة من بين البدائل المعطاة بوضع دائرة حول رمز الإجابة الصحيحة:

١- الرقم الذي يشير إلى دائرة العرض "مدار السرطان":



أ - ١

ب - ٢

د - ٤

ج - ٣

٢- الديانة التي تعد مصدر القوانين في دولة الحبشة:

د- الإسلام.

ج- المجوسية.

ب- اليهودية.

أ- النصرانية.

٣- السهل الذي يشير إليه السهم في الخريطة التي أمامك:



أ) جريبب.

ب) الجفارة.

ج) تهامة.

د) الباطنة.

٤- الدولة التي توجد بها رمال آل وهيبة :

د- الإمارات.

ج- السعودية.

ب- اليمن.

أ- عمان.

٥- الاسم الذي يطلق على المياه مؤقتة الجريان:


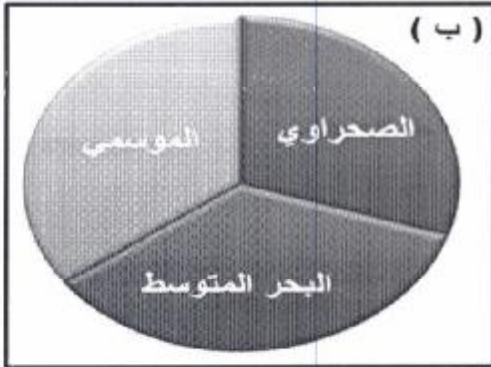
د- ينابيع.

ج- أنهار.

ب- بحار.

أ- أودية.

٦- الشكل الممثل لتوزيع المناخ في سلطنة عمان:



٧- الخليفة الذي قام بأكبر الفتوحات الإسلامية :

ب- أبو بكر الصديق. ب- عمر بن الخطاب. ج- عثمان بن عفان. د- علي بن أبي طالب.

٨- المشكلة البيئية التي توضحها الصورة أمامك :



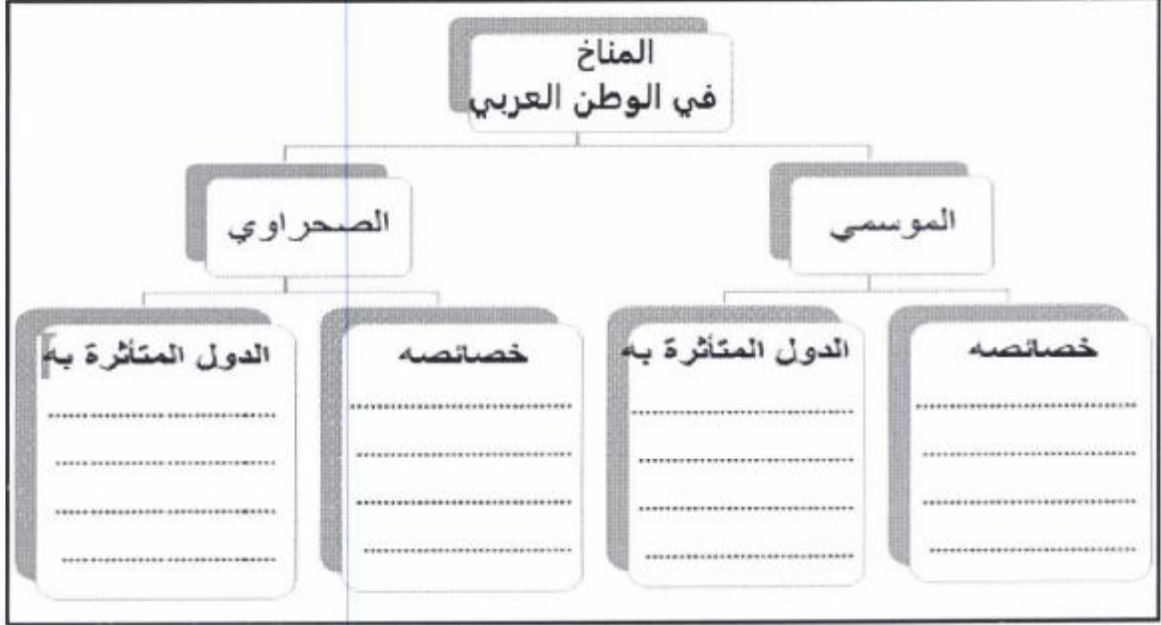
أ- قطع الأشجار. ب- زحف الرمال.

ج- حرائق الغابات. د- انجراف التربة.

امتحان الصف الخامس
للعام الدراسي ١٤٣٦/١٤٣٧هـ - ٢٠١٥ - ٢٠١٦م
المور الثاني - الفصل الدراسي الأول
المادة : الدراسات الاجتماعية

السؤال الثاني :

أولاً: أكمل خريطة المفاهيم التالية:



ثانياً: أجب عما يأتي:

أ- اكتب المصطلح المناسب أمام العبارة.

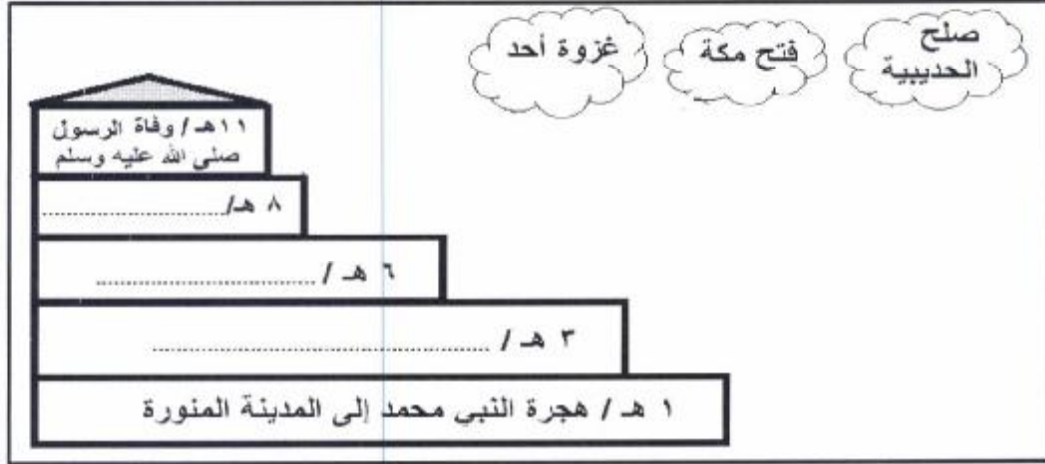
- ١ - مكان لكتاب وموظفين الدولة أول من أنشئها عمر بن الخطاب
- ٢ - طائفة هاجرت من مكة المكرمة إلى المدينة المنورة في زمن النبي صلى الله عليه وسلم

ب - عرف التربة:

امتحان الصف الخامس
للعام الدراسي ١٤٣٦/١٤٣٧هـ - ٢٠١٥ - ٢٠١٦م
المور الثاني - الفصل الدراسي الأول
المادة : الدراسات الاجتماعية

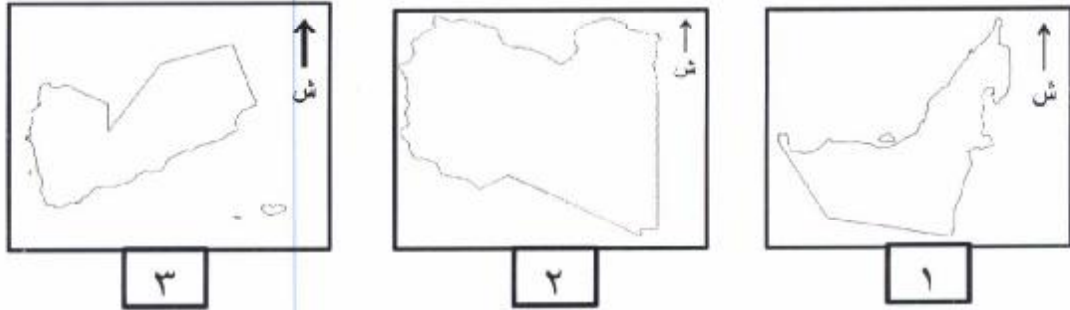
تابع السؤال الثاني:

ثالثا : . استعن بالغيّات الثلاث في إكمال السلم التاريخي حسب الترتيب الصحيح:



السؤال الثالث:

أولا: أمامك ثلاث خرائط تمثل دولا عربية ادرسها ثم أجب عن الأسئلة التي تليها:



أ- اكمل الجدول التالي:

رقم الخريطة	١	٢
اسم الدولة		
البحار التي تشرف عليها		

ب - رقم الدولة التي تحد سلطنة عمان من الجهة الجنوبية.....

امتحان الصف الخامس
للعام الدراسي ١٤٣٦/١٤٣٧ هـ - ٢٠١٥ - ٢٠١٦ م
المور الثاني - الفصل الدراسي الأول
المادة : الدراسات الاجتماعية

ثانيا :

أ - اذكر اثنين مما يلي:

- ١- الطوائف التي تعيش في المدينة عند الهجرة النبوية:
- ٢- الجبال في الوطن العربي:

ب- كيف استفاد الانسان من المياه الجوفية؟


ثالثا: أمامك ثلاث صور ادرسها ثم أجب عن الأسئلة التي تليها:



٣



٢



١

- ١- يشير الرقم (١) إلى الشكل التضاريسي المسمى بـ.....
- ب- ما الفرق بين الشكل رقم (٢) والشكل رقم (٣) من حيث السطح ؟

أوجه الفروق	٢	٣
السطح		

امتحان الصف الخامس
للعام الدراسي ١٤٣٦/١٤٣٧هـ - ٢٠١٥ - ٢٠١٦م
المور الثاني - الفصل الدراسي الأول
المادة : الدراسات الاجتماعية

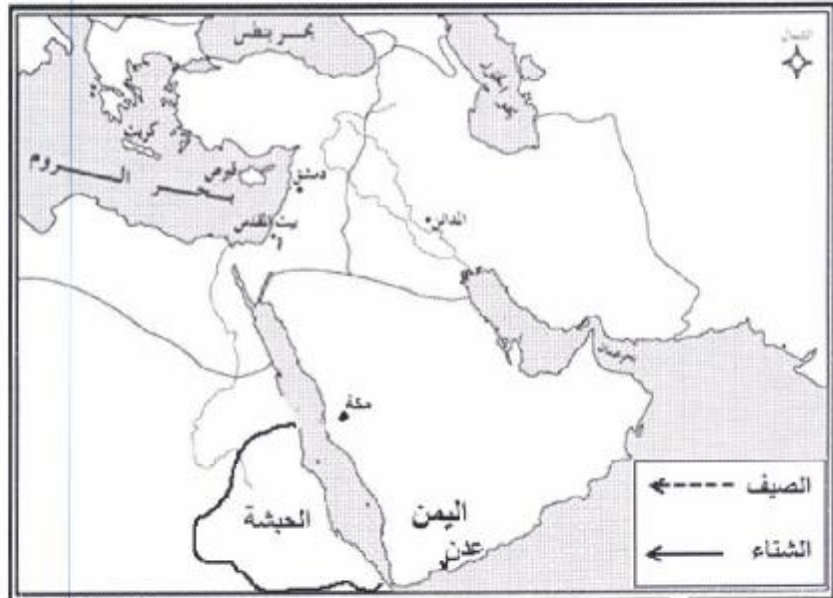
السؤال الرابع:

أولا : أجب عما يأتي:

أ- قارن بين البدو والحضر من حيث المسكن والمهن داخل الجدول الذي أمامك:

الحضر	البدو	أوجه المقارنة
		مساكنهم
		مهنهم

ثانيا: ادرس الخريطة التي أمامك ثم أجب عن الأسئلة التي تليها:



أ- استعن بمفتاح الرسم وارسم على الخريطة مسار رحلتي الشتاء والصيف.

ب - اكتب على الخريطة اسم البحر الفاصل بين مملكة الحبشة وشبه الجزيرة العربية.

امتحان الصف الخامس
للعام الدراسي ١٤٣٦/١٤٣٧هـ - ٢٠١٥ - ٢٠١٦م
الدور الثاني - الفصل الدراسي الأول
المادة : الدراسات الاجتماعية

ثالثاً: أمامك صورة تبين مشكلة بيئية تعاني منها بعض الدول العربية ادرسها ثم أجب عن الأسئلة التالية:



أ - اسم المشكلة

ب- اسم المناخ الذي تظهر فيه هذه المشكلة

ج - اقترح حلولاً لمعالجة هذه المشكلة:

.....
.....
.....

نموذج اجابة امتحان الصف الخامس

للعام الدراسي: ١٤٣٥ / ١٤٣٦ هـ - ٢٠١٥ / ٢٠١٦ م

الدور الثاني - الفصل الدراسي الأول

الدرجة الكلية : ٤٠ درجة

المادة: الدراسات الاجتماعية
تنبيه: نموذج الاجابة في (٤) صفحات

السؤال الأول:

نموذج اجابة السؤال الأول : ١٦ درجة

المفردة	الإجابة	الدرجة	الصفحة
١	ب - ٢	٢	١١ - ١٣
٢	أ- النصرانية.	٢	٨٣
٣	د-الباطنة.	٢	٢٣
٤	أ- عمان.	٢	٣٥
٥	أ- أودية.	٢	٥٥-٥٦
٦	(أ) البحر المتوسط الموسمي تصحر اوي	٢	٤١ - ٥٤
٧	ب- عمر بن الخطاب.	٢	٩٨
٨	أ - قطع الأشجار.	٢	٦٣
المجموع		١٦	

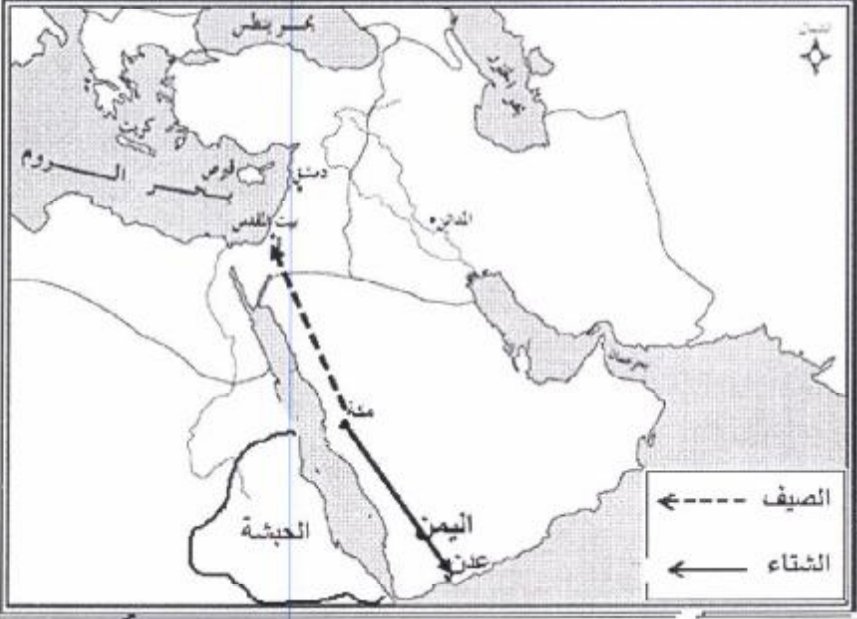
نموذج إجابة السؤال الثاني: (٨) درجات

الصفحة	الدرجة	الإجابة الصحيحة	المفردة	الجزئية
٥٦ - ٥١	٢	<p style="text-align: center;">المناخ</p> <div style="display: flex; justify-content: space-around;"> <div style="text-align: center;"> <p>الصحراوي</p> <p>الدول المتأثرة به</p> <p>معظم الدول العربية (إذا ذكر أي دولة عربية فالإجابة صحيحة)</p> </div> <div style="text-align: center;"> <p>خصائصه</p> <p>ارتفاع شديد في درجة الحرارة صيفا وفي النهار. انخفاضها شتاء وفي الليل قلة الأمطار / الجفاف</p> </div> <div style="text-align: center;"> <p>الموسمي</p> <p>الدول المتأثرة به</p> <p>سلطنة عمان اليمن السعودية الصه ما .</p> </div> <div style="text-align: center;"> <p>خصائصه</p> <p>صيفا: معتدل درجة الحرارة تسقط الأمطار هبوب الرياح الموسمية</p> </div> </div>	١	أولا: أ
يعطى الطالب الدرجة كاملة على المفردة إذا ذكر إجابة واحدة من الخصائص أو الدول / لكل مفردة نصف درجة				
٩٧	١	الدواوين.	١	ثانيا: أ
٨٦	١	المهاجرين	٢	ثانيا: أ
٥٩	١	الطبقة المفتتة من قشرة الأرض.	-	ثانيا: ب
٩٢ - ٨٥	٣	<div style="text-align: center;"> <p>١١هـ / وفاة الرسول صلى الله عليه وسلم</p> <p>٨هـ / فتح مكة</p> <p>٦هـ / صلح الحديبية</p> <p>٣هـ / غزوة أحد</p> <p>١هـ / هجرة النبي محمد إلى المدينة المنورة</p> </div>	-	ثالثا:
المعيار لكل مفردة درجة /				
المجموع				
٨				

نموذج إجابة السؤال الثالث: (٨) درجات

الصفحة	الدرجة	الإجابة الصحيحة			المفرد ة	الجزئية							
١٧-١٣	٢	٢	١		-	أولاً :							
		ليبيا	الإمارات العربية المتحدة	اسم الدولة									
		البحر المتوسط	بحر عمان / الخليج العربي	البحار التي تشرف عليها									
لكل مفردة نصف درجة						المعيار							
١٧ - ١٣	١	(١)			-	أولاً: ب							
يشترط ذكر الرقم وليس اسم الدولة						المعيار							
٨٦	١	- الأنصار/ الأوس / الخزرج - المهاجرين - اليهود / بنو قينقاع / بنو النضير / بنو قريضة			١	ثانياً: أ							
٢٧	١	- جبال حجر عمان / شمس/ الأخضر/ سمحان/ القمر - جبال عسير - جبال بلاد الشام - جبال مرة - جبال الهروج - جبل الأسود - جبال أطلس - جبل طبقال - مرتفعات الأحجار - جبال البحر الأحمر			٢	ثانياً: أ							
لكل مفردة نصف درجة/ يكتفى باثنتين						المعيار							
٥٦	١	- بحفر الأبار - شق الأفلاج -				ثانياً: ب							
درجة يكتفى بإجابة واحدة						المعيار							
٣١	١	- الهضبة			-	ثالثاً: أ							
٢٧- ١٨	١	<table border="1" style="width: 100%; text-align: center;"> <tr> <td>٣</td> <td>٢</td> <td>أوجه الفروق</td> </tr> <tr> <td>شديد الانحدار/ قمة مدببة/ مرتفع/ جبال</td> <td>مستوي/ منبسط/ سهل</td> <td>السطح</td> </tr> </table>			٣	٢	أوجه الفروق	شديد الانحدار/ قمة مدببة/ مرتفع/ جبال	مستوي/ منبسط/ سهل	السطح		-	ثالثاً: ب
٣	٢	أوجه الفروق											
شديد الانحدار/ قمة مدببة/ مرتفع/ جبال	مستوي/ منبسط/ سهل	السطح											
يكتفى بفرق واحد بينهما													
٨		المجموع											

نموذج إجابة السؤال الرابع: (٨) درجات

الصفحة	الدرجة	الإجابة الصحيحة			المفردة	الجزئية
+ ٤٩ - ٦٨ ٧٠	٢	الحضر ثابتة / من الطين والحجارة/ إقامة المدن	البدو الخيام تصنع من شعر أو صوف	أوجه المقارنة مساكنهم		أولا
		الزراعة والتجارة الصناعات	تربية الماعز والأغنام ورعي الجمال	مهنهم		
		لكل مفردة نصف درجة/ يكفي بذكر مهنة واحدة				المعيار
- ٧٠ ٧١	٢				١ +	ثانيا
				٢ +		
				٣		
		لكل مفردة درجة واحدة / يشترط أن تكون الأسهم وفق مفتاح الرسم أي متقطعا رحلة الصيف ومتصلا لرحلة الشتاء				المعيار
	١	البحر الأحمر/ القلزم			-	ثانيا: ب
٣٩	١	التصحّر/ زحف الرمال			-	ثالثا: أ
+ ٣٥ ٤٦	١	- المناخ الصحراوي			-	ثالثا: ب
٣٩	١	- تثبيتها بالزراعة أو التشجير / عمل مصدات/ فرشها بالصخور أو الاسمنت			-	ثالثا:ج
		يكتفى باقتراح واحد / تراعى إجابات الطلاب حسب تعبيرهم				المعيار
	٨	المجموع				