



المديرية العامة للتربية والتعليم بمحافظة شمال الشرقية
دائرة التقويم التربوي
قسم الاختبارات والمقاييس

الدرجة النهائية

٤٠

امتحان مادة الدراسات الاجتماعية للصف التاسع الأساسي للفصل الدراسي الثاني - الدور الأول للعام الدراسي ١٤٣٦/١٤٣٧ هـ - ٢٠١٥/٢٠١٦ م

• عدد صفحات أسئلة الامتحان: ٦

• زمن الإجابة: ساعة ونصف

• تنبيه هام: «الإجابة في نفس الورقة»

| بيانات الممتحن | |
|----------------|-------|
| اسم الطالب: | |
| اسم المدرسة: | الصف: |

| تصحيح الورقة الامتحانية | | | | | |
|---------------------------------------|------------------------|----------------------|-----------------|------|---------|
| التوقيع (بالاسم) | | الدرجة بالحروف | الدرجة بالأرقام | | السؤال |
| المصحح (اللون الأحمر) | المدقق (باللون الأخضر) | | عشرات | آحاد | |
| | | | | | ١ |
| | | | | | ٢ |
| | | | | | ٣ |
| | | | | | ٤ |
| | | | | | ٥ |
| | | | | | ٦ |
| | | | | | ٧ |
| | | | | | ٨ |
| | | | | | ٩ |
| مراجعة الجمع والتشطيب (باللون الأزرق) | | جمعه (باللون الأحمر) | | | المجموع |
| | | | | | |

السؤال الأول : ١٦ درجة

ضع دائرة حول رمز الإجابة الصحيحة فيما يلي :

١- من خلال الجدول الذي أمامك اختر القارة الأولى من حيث عدد السكان :

| القارة | إفريقيا | آسيا | أوروبا | أمريكا الشمالية |
|---------------------|---------|------|--------|-----------------|
| عدد السكان بالمليون | ٨٣٢ | ٣٧٧٦ | ٧٢٧ | ٣٢٢ |

أ- آسيا ب- إفريقيا ج- أوروبا د- أمريكا الشمالية

٢- مدة الرضاعة الطبيعية للطفل :

أ- سنة واحدة ب- سنتان ج- ثلاث سنوات د- أربع سنوات

٣- مجموعة الأنشطة التي يمارسها السكان بهدف الحصول على العائد المادي :


أ- الناتج المحلي ب- مستوى الدخل ج- المستوى المعيشي د- الاقتصاد

٤- قائد السفينة الحربية سلطنة التي أرسلت إلى ميناء نيويورك عام ١٨٤٠ م :

أ- سلطان بن سيف ب- سلطان بن أحمد ج- أحمد بن النعمان د- سعيد بن سلطان

٥- ميناء الجنوب العماني الذي ارتبط بتجارة الذهب واللبن والبخور منذ القدم :

أ- مسقط ب- ظفار ج- صور د- صحار



٦ - يستخدم الشراع الظاهر في الصورة التالية في حالة:

- أ- الرياح العرضية للتحكم في مسار السفينة
- ب- الرياح الطولية للتحكم في مسار السفينة
- ج- الأعاصير للتحكم في مسار السفينة
- د- الأمطار القوية للتحكم في مسار السفينة

٧- أطلق عليه الهنود المهاتما (النفس الكبيرة) :



-د




-ج



-ب



-أ



-د اليابان

٨- العلم الذي أمامك في الصورة لدولة :
أ- إيران ب- الهند ج - الصين

| |
|----|
| |
| ١٦ |

السؤال الثاني : ٨ درجات

١- عرف مايلي :

أ- التحضر

.....

.....

ب- الفرقاطة

.....

.....


٢- علل : قيام مظاهرات ضد رضا شاه بهلوي في إيران عام ١٩٧٨ م .

.....

.....

.....

٣- فسر : سميت الأرقام الغبارية بهذا الاسم .



السؤال الثالث : ٨ درجات

- ١- دولة يبلغ عدد سكانها ٢٠٠٠٠٠٠٠ نسمة وتبلغ قوة العمل (القادرون على العمل) بها حوالي (١٢٠٠٠٠٠٠) نسمة إلا أن عدد العاملين فعلاً منهم حوالي (١٠٠٠٠٠٠٠) نسمة
أ- أحسب حجم الباحثين عن عمل في هذه الدولة مع كتابة القانون . (يسمح باستخدام الحاسبة)

- ب- احسب نسبة الباحثين عن عمل في هذه الدولة مع كتابة القانون . (يسمح باستخدام الحاسبة)

٢- أكمل البطاقة التعريفية للدولة المشار إليها برقم (١) في الخريطة التي أمامك :

| | |
|-------------------|--|
| ١- اسم هذه الدولة | |
| ب- العاصمة | |
| ج- نظام الحكم | |
| د- العملة | |

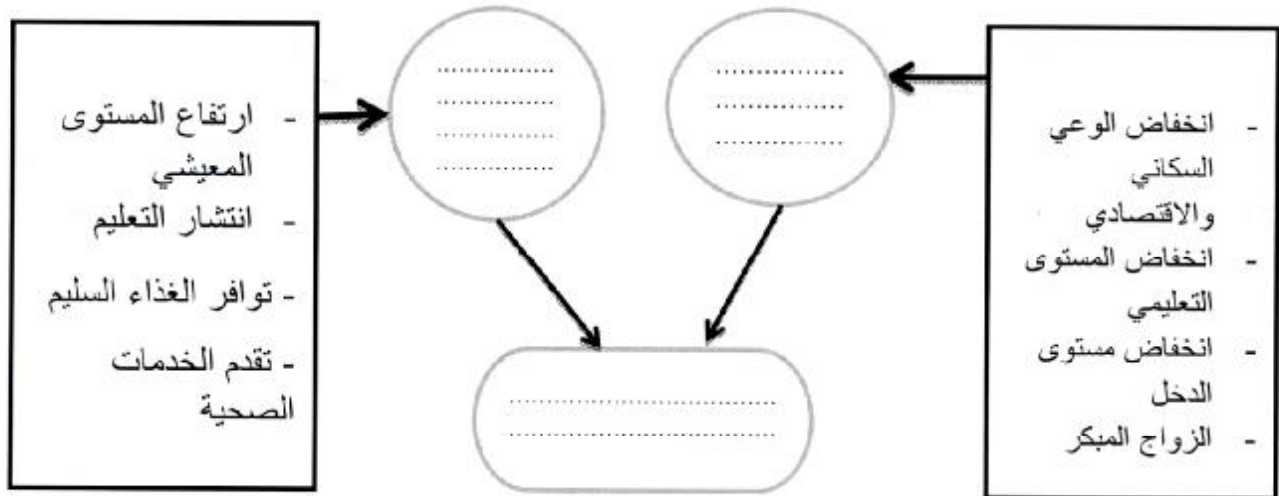
٣- قارن بين كل من الديرة البحرية والديرة المطلقة من حيث مسار الإبحار والموانئ والسواحل التي تصل إليها :

| أوجه المقارنة | مسار الإبحار | الموانئ والسواحل التي تصل إليها |
|----------------|--------------|---------------------------------|
| الديرة البحرية | | |
| الديرة المطلقة | | |

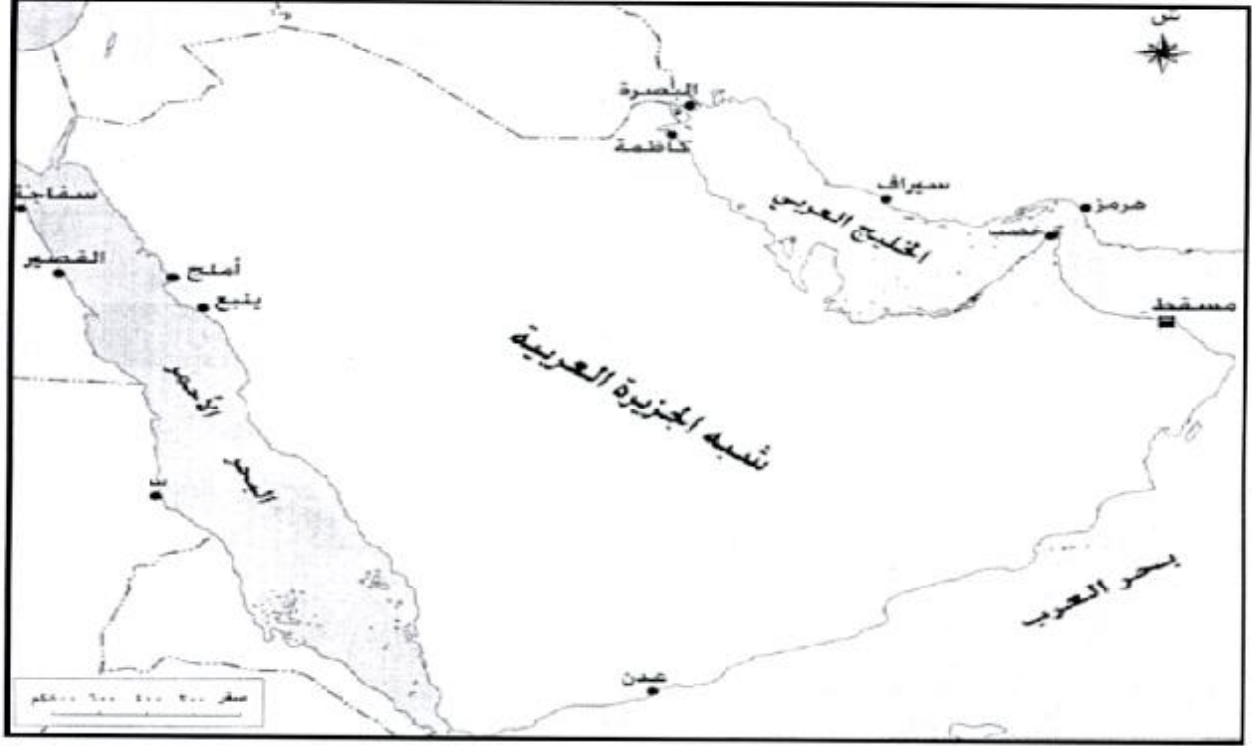
| |
|---|
| |
| ٨ |

السؤال الرابع : ٨ درجات

١- أكمل الشكل الذي أمامك والذي يوضح أسباب الانفجار السكاني :



٢- أمامك خريطة الموانئ في الخليج العربي والبحر الأحمر أدرسها ثم أجب عن الأسئلة التي تليها :




- أ-الميناء الذي يعتبر منفذا للعراق وكان له الدور المهم في التجارة
- ب-الميناء العماني الذي يعد محطة تجارية للتزود بالمياه وراحة المسافرين هو
- ج- اكتب على الخريطة الموانئ التالية ميناء جدة - ميناء سواكن

٣- أكمل الجدول التالي الذي يبين بعض المعالم الحضارية لبعض دول آسيا :



ب



أ

| رمز الصورة | اسم المعلم | الدولة التي ينتمي إليها |
|------------|------------|-------------------------|
| أ | | |
| ب | | |

| |
|---|
| |
| ٨ |

انتهت الأسئلة مع التمنيات للجميع بالنجاح ،،،،،،،

الدرجة الكلية

المديرية العامة للتربية والتعليم بمحافظة شمال
دائرة التقويم التربوي
قسم الاختبارات والمقاييس



نموذج إجابة امتحان مادة الدراسات الاجتماعية للصف التاسع
للفصل الدراسي الثاني - الدور الأول - للعام الدراسي
٢٠١٦/٢٠١٥ هـ - ١٤٣٧/١٤٣٦ م

تنبيه: نموذج الإجابة في: ٤ صفحات
أولاً: الأسئلة الموضوعية:

• إجابة السؤال الأول: (١٦ درجة)

| المستوى | الهدف | الصفحة | الوحدة | الدرجة | الإجابة | الرمز | المفردة |
|---------|-------|--------|---------|--------|--|-------|---------|
| - | - | ١١ | الرابعة | ٢ | آسيا | أ | ١ |
| - | - | ٢٢ | الرابعة | ٢ | سنتان | ب | ٢ |
| - | - | ٢٨ | الرابعة | ٢ | الاقتصاد | د | ٣ |
| - | - | ٤٨ | الخامسة | ٢ | احمد بن النعمان | ج | ٤ |
| - | - | ٥١ | الخامسة | ٢ | ظفار | ب | ٥ |
| - | - | ٦١ | الخامسة | ٢ | الرياح العرضية للتحكم في مسار السفينة | أ | ٦ |
| - | - | ٨٢ | السادسة | ٢ |  | أ | ٧ |
| - | - | ٩٥ | السادسة | ٢ |  | د | ٨ |
| | | | | ١٦ | | | المجموع |

ثانياً: الأسئلة المقالية:

● إجابة السؤال الثاني:

| المستوى | الصفحة | الوحدة | الدرجة | الإجابة | المفردة |
|---------|--------|--------|---------|--|---------|
| - | ٢٩ | ٤ | ٢ | تحول سكان منطقة معينة من الأرياف أو البادية إلى حياة المدن . | ١- أ |
| - | ٤٩ | ٥ | ٢ | سفينة حربية صغيرة الحجم سريعة تستخدم للمناورة . | ب |
| - | ٧٤ | ٦ | ٢ | بسبب توسعه في إدخال الحضارة الغربية من وجهة نظر المتظاهرين | ٢ |
| - | ٨٠ | ٦ | ٢ | لان الهنود كانوا يأخذون غبارا خفيفا ويبسطونه على لوح من الخشب ويرسمون عليه الأرقام | ٣ |
| | | | ٨ درجات | مجموع الدرجات | |

• إجابة السؤال الثالث:

| المفردة | الإجابة | الدرجة | الوحدة | الصفحة | ملاحظات | | | | | | | | | |
|----------------|---|---|--------------|---------------------------------|---------------------------------|-----------|-------------------------------------|----------------|--|---|---|---|----|--------------------------|
| أ - ١ | حجم الباحثين عن العمل = مجموع قوة العمل - مجموع العاملين فعلا = ١٢٠٠٠٠٠ - ١٠٠٠٠٠٠ = ٢٠٠٠٠٠ | ١ | ٤ | ١٦ | نصف درجة للقانون ونصف درجة للحل | | | | | | | | | |
| ب | نسبة الباحثين عن عمل = $\frac{\text{حجم الباحثين عن عمل}}{\text{إجمالي قوة العمل}} \times ١٠٠$ $\frac{٢٠٠٠٠٠}{١٢٠٠٠٠٠} \times ١٠٠ = ١٦,٦\%$ | ١ | ٤ | ١٦ | نصف درجة للقانون ونصف درجة للحل | | | | | | | | | |
| ٢ - أ | جمهورية الهند أو الهند | ١ | ٦ | ٧٨ | | | | | | | | | | |
| ب | نيو دلهي | ١ | ٦ | ٧٨ | | | | | | | | | | |
| ج | جمهوري | ١ | ٦ | ٧٨ | | | | | | | | | | |
| د | الروبية | ١ | ٦ | ٧٨ | | | | | | | | | | |
| ٣ | <table border="1"> <tr> <td>اوجة المقارنة</td> <td>مسار الإبحار</td> <td>الموانئ والسواحل التي تصل إليها</td> </tr> <tr> <td>الديرة البحرية</td> <td>خط الساحل</td> <td>بين موانئ عمان وموانئ الخليج العربي</td> </tr> <tr> <td>الديرة المطلقة</td> <td>من بر الى بر آخر عبر عرض البحر الفاصل بينهما</td> <td>الإبحار الى سواحل المحيط الهندي الشرقية</td> </tr> </table> | اوجة المقارنة | مسار الإبحار | الموانئ والسواحل التي تصل إليها | الديرة البحرية | خط الساحل | بين موانئ عمان وموانئ الخليج العربي | الديرة المطلقة | من بر الى بر آخر عبر عرض البحر الفاصل بينهما | الإبحار الى سواحل المحيط الهندي الشرقية | ٢ | ٥ | ٦٥ | لكل إجابة صحيحة نصف درجة |
| اوجة المقارنة | مسار الإبحار | الموانئ والسواحل التي تصل إليها | | | | | | | | | | | | |
| الديرة البحرية | خط الساحل | بين موانئ عمان وموانئ الخليج العربي | | | | | | | | | | | | |
| الديرة المطلقة | من بر الى بر آخر عبر عرض البحر الفاصل بينهما | الإبحار الى سواحل المحيط الهندي الشرقية | | | | | | | | | | | | |
| | مجموع الدرجات | ٨ درجات | | | | | | | | | | | | |

