

اختبار نهاية الفصل الدراسي الأول - الدور الأول للصفوف من (٥-٩) للعام الدراسي ١٤٣٦ / ١٤٣٧ هـ - ٢٠١٥ / ٢٠١٦ م

- المادة: الدراسات الإجتماعية
- زمن الإجابة: ساعة ونصف
- عدد صفحات أسئلة الاختبار: (٥) .
- الإجابة في الورقة نفسها.

	اسم الطالب
الصف	المدرسة

درجة السؤال		السؤال
عشرات	آحاد	
		١
		٢
		٣
		٤
		٥
		٦
		٧
		٨
		المجموع
	٤٠	المجموع الكلي

/ التوقيع

/ اسم المصحح

/ التوقيع

/ اسم المراجع

الإجابة في الورقة نفسها



المديرية العامة للتربية والتعليم لمحافظة شمال الباطنة

الامتحان النهائي للصف الخامس للفصل الدراسي الأول/الدور الأول للعام الدراسي ٢٠١٥/٢٠١٦ م

الزمن: ساعة ونصف

المادة: الدراسات الاجتماعية

تنبيه: الأسئلة في (٥) صفحات

الدرجة الكلية: (٤٠) درجة

الشعبة:

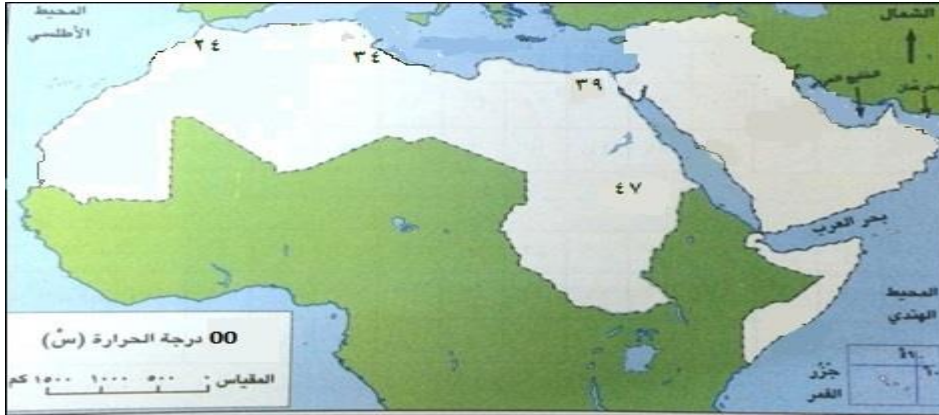
اسم الطالب/ة:

أجب عن جميع الأسئلة الآتية:

السؤال الأول: ضع دائرة حول رمز الإجابة الصحيحة من بين البدائل المعطاة:

- (١) يقع الوطن العربي بالنسبة لخط غرينش بين خطي طول :
أ) ١٢ غ / ٣٧,٥ ش
ب) ١٢ ش / ٣٧,٥ غ
ج) ١٧ غ / ٦٠ ش
د) ١٧ ش / ٦٠ غ

(٢) تبلغ درجة الحرارة في مدينة القاهرة في الخريطة المقابلة :



- أ) ٣٤
ب) ٣٩
ج) ٤٢
د) ٤٧

(٣) تقع صحراء الدهناء في:
أ) ليبيا
ب) تونس
ج) مصر
د) السعودية

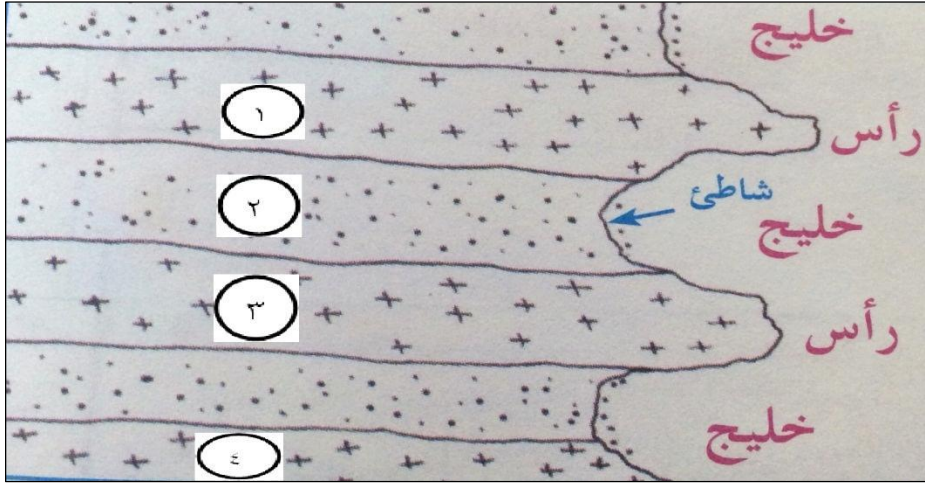
(٤) يحكم الإمبراطورية الفارسية ملك يلقب بـ :
أ) قيصر
ب) نجاشي
ج) كسرى
د) المقوقس

(٥) تتأثر منطقة قيرون حيريتي في محافظة ظفار بالمناخ :
أ) الموسمي
ب) الصحراوي
ج) الاستوائي
د) المتوسطي

(٦) عاصمة الدولة الإسلامية في عهد الرسول صلى الله عليه وسلم :
أ) مكة المكرمة
ب) المدينة المنورة
ج) دمشق
د) بغداد

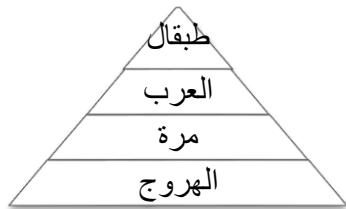
تابع السؤال الأول:

٧) الرقم الذي يشير إلى الصخور اللينة في الشكل المقابل :

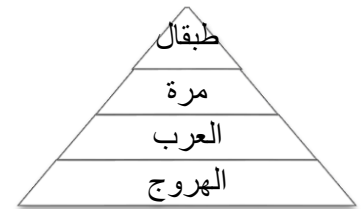


- أ) ١
ب) ٢
ج) ٣
د) ٤

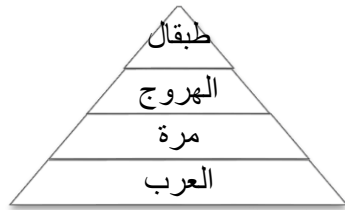
٨) الترتيب الصحيح للجبال الآتية من الأدنى إلى الأعلى ارتفاعا :



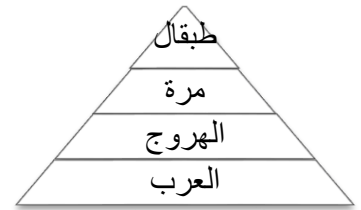
(ب)



(أ)



(د)



(ج)

السؤال الثاني:

أ) عرف ما يلي :
١- الطقس .

.....

٢- السلسلة الجبلية .

.....

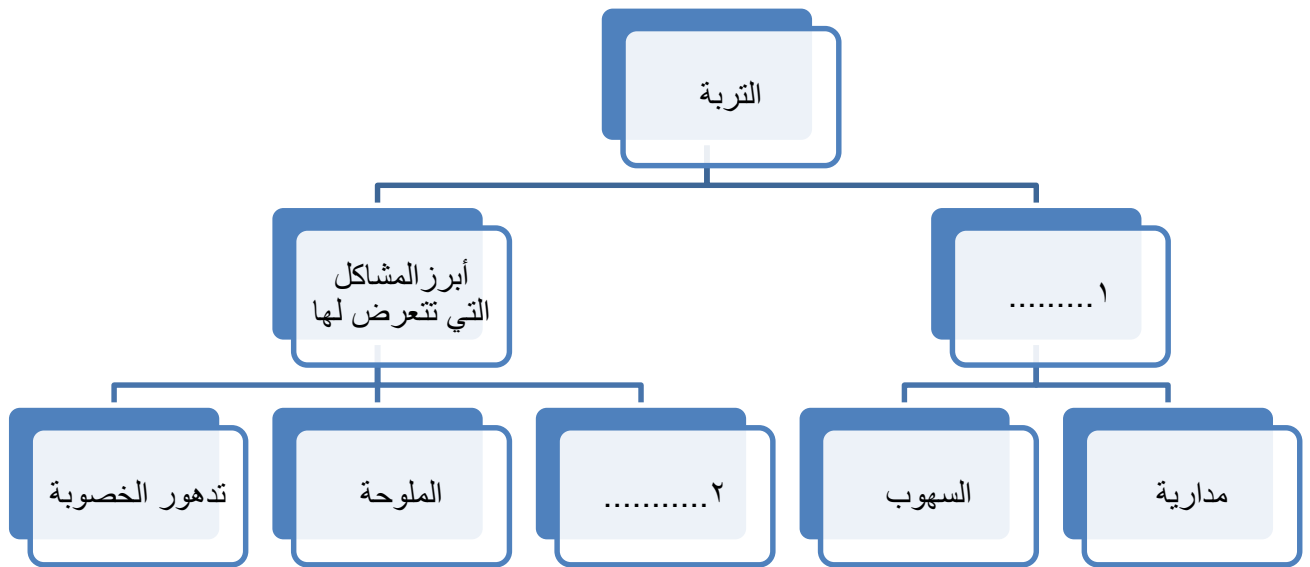
.....

تابع السؤال الثاني:

أ) صنف الدول العربية التالية (اليمن/ مصر / الكويت/ السودان/ قطر/ المغرب) إلى دول تقع في قارة آسيا و أخرى تقع في قارة أفريقيا.

قارة أفريقيا	قارة آسيا
.....
.....
.....

ج) اكمل تصميم الخريطة الذهنية التالية بما يناسبها :

**السؤال الثالث:**

أ) كان اليهود في عهد الرسول صلى الله عليه وسلم ثلاث طوائف رئيسية، اذكرها.

.....

.....

.....

تابع السؤال الثالث:

ب) رتب الأحداث التاريخية التالية من الأقدم الى الأحدث باستخدام الأرقام التالية (١ / ٢ / ٣ / ٤) .

- (.....) صلح الحديبية.

- (.....) عام الوفود.

- (.....) فتح مكة.

- (.....) غزوة الخندق.

ج) أمامك خريطة توزيع الكثبان الرملية في الوطن العربي، أدرسها جيداً ثم أجب على الأسئلة التي تليها :



١ - سم الرملة المشار اليه بالرقم (١) .

.....

٢ - ما الجهة الرئيسية التي يقع فيها البحر المتوسط بالنسبة لبحر الرمال العظيم؟

.....

٣ - ما الدولة التي تقع فيها الرملة المشار اليها بالرقم (٢) ؟

.....

السؤال الرابع:

أ) أمامك شكل من الأشكال الرملية التي تظهر في الصحاري العربية، أدرسه جيداً، ثم أجب على الأسئلة التي تليه.



١- ما اسم هذا الشكل؟

٢- ما العامل الطبيعي الذي يتحكم في تحديد حجمه؟

ب) "يعاني الوطن العربي من العجز المائي" هل هذه العبارة صحيحة أم خاطئة؟ مِعلاً إجابتك.

ج) أمامك خريطة شبه الجزيرة العربية والدول المحيطة بها قبيل الإسلام. أدرسها جيداً، ثم أجب عن الأسئلة التي تليها:



١- سمّ الإمبراطورية المشار إليها بالرقم (١).

٢- أكتب اسم بحر الروم في موقعه الصحيح في الخريطة.

٣- ما الرقم الذي يشير إلى المدينة التي هاجر منها الرسول صلى الله عليه وسلم؟

انتهت الأسئلة، مع الأمنيات لكم بالنجاح والتفوق




نموذج الإجابة امتحان الصف الخامس للعام الدراسي ٢٠١٥/٢٠١٦م

الدور الأول - الفصل الدراسي الأول

المادة الدراسات الاجتماعية - الدرجة الكلية ٤٠ درجة

عدد أوراق الإجابة (٣)

إجابة السؤال الأول : (٦ درجة) لكل مفردة درجتان

رقم المفردة	١	٢	٣	٤	٥	٦	٧	٨
رمز الإجابة	ج	ب	د	ج	أ	ب	ب	أ
الإجابة	١٧ غ/٦٠ ش	٣٩	السعودية	كسرى	الموسمي	المدينة المنورة	٢	
الصفحة	١١	٤٤	٣٥	٧٦	٥٣-٥١	٨٥	٢٠	٢٧
الدرجة	٢	٢	٢	٢	٢	٢	٢	٢

إجابة السؤال الثاني (٨ درجات)

المفردة	الإجابة	الدرجة	الصفحة
أ	١-الطقس: حالة الجو لفترة زمنية قصيرة لا تتجاوز عدة أيام فقط. وهو ما نلاحظه من مطر أو سحب أو ما نحس به من برودة أو حرارة أو رياح.	١,٥	٤١
	٢- السلسلة الجبلية: الجبال المتصلة ببعضها البعض.	١,٥	٢٧
ب	- مصر / السودان / المغرب في قارة افريقيا - اليمن / الكويت / قطر في قارة آسيا	٣	١٣
	(لكل نصف درجة)		
ج	١- انواعها. ٢- الانجراف .	١	٥٩
		١	٦١

إجابة السؤال الثالث (٨ درجات)

الصفحة	الدرجة	الإجابة	المفردة
٨٦	٣	- يهود بني قينقاع - يهود بني النضير - يهود بني قريظة. (لكل درجة واحدة)	
٨٩ ٩٢ ٩١ ٨٨	٢	- (٢) صلح الحديبية. - (٤) عام الوفود. - (٣) فتح مكة. - (١) غزوة الخندق. (لكل نصف درجة)	ب
٣٥	١ ١ ١	١- رمال النفوذ. ٢- الشمال. ٣- موريتانيا.	ج

إجابة السؤال الرابع (٨ درجات)

الصفحة	الدرجة	الإجابة	المفردة
٣٧-٣٦	١ ١	١ - الكثبان الطولية. ٢- الرياح.	أ
٥٦ ٥٧/٥٦/٥٥	١ ٢	العبارة صحيحة لان معظم المجاري المائية في الوطن العربي مؤقتة الجريان/ سيادة المناخ الصحراوي/ قلة الامطار وشدة التبخر/ زيادة عدد السكان / عمليات التنمية.	ب
		(يكتفى بتعليين ولكل درجة)	
٦٧	١ ١ ١	١- الامبراطورية الفارسية. ٢- كتابة موقع بحر الروم على الخريطة	ج
			٣- (٥)

نهاية نموذج الإجابة ،،،