

**اختبار نهاية الفصل الدراسي الثاني - الدور الثاني للصفوف من (٥-٩)
للعام الدراسي ١٤٣٦ / ١٤٣٧ هـ - ٢٠١٥ / ٢٠١٦ م**

- المادة: الدراسات الاجتماعية الصف الخامس
- عدد صفحات أسئلة الاختبار: (٦).

- زمن الإجابة: ساعة ونصف
- الإجابة في الورقة نفسها.

	اسم الطالب
الصف	المدرسة

درجة السؤال		السؤال
عشرات	آحاد	
		١
		٢
		٣
		٤
		المجموع
	٤٠	المجموع الكلي

/ التوقيع

/ اسم المصحح

/ التوقيع

/ اسم المراجع

الإجابة في الورقة نفسها



المديرية العامة للتربية والتعليم لمحافظة شمال الباطنة

الامتحان النهائي للصف الخامس للفصل الدراسي الثاني/الدور الثاني للعام الدراسي ٢٠١٥-٢٠١٦ م

الزمن: ساعة ونصف

المادة: الدراسات الاجتماعية

تنبيه: الأسئلة في (٦) صفحات

الدرجة الكلية: (٤٠) درجة

اسم الطالب/ة: الشعبة:

أجب عن جميع الأسئلة الآتية

السؤال الأول: ضع دائرة حول رمز الإجابة الصحيحة من بين البدائل المعطاة.

١- القائد المسلم الذي بنى مدينة القيروان:

أ- المهلب بن أبي صفرة ب- عقبة بن نافع الفهري ج- محمد بن القاسم الثقفي د- موسى بن نصير

٢- يوضح الشكل الذي أمامك توليد الطاقة الكهربائية باستخدام:



أ- طاقة الرياح

ب- طاقة الأمواج

ج- المساقط المائية

د- الطاقة الشمسية

٣- يوجد مركز رعاية وتأهيل المعوقين المعني بتأهيل الأشخاص ذوي الإعاقة السمعية والحركية في:

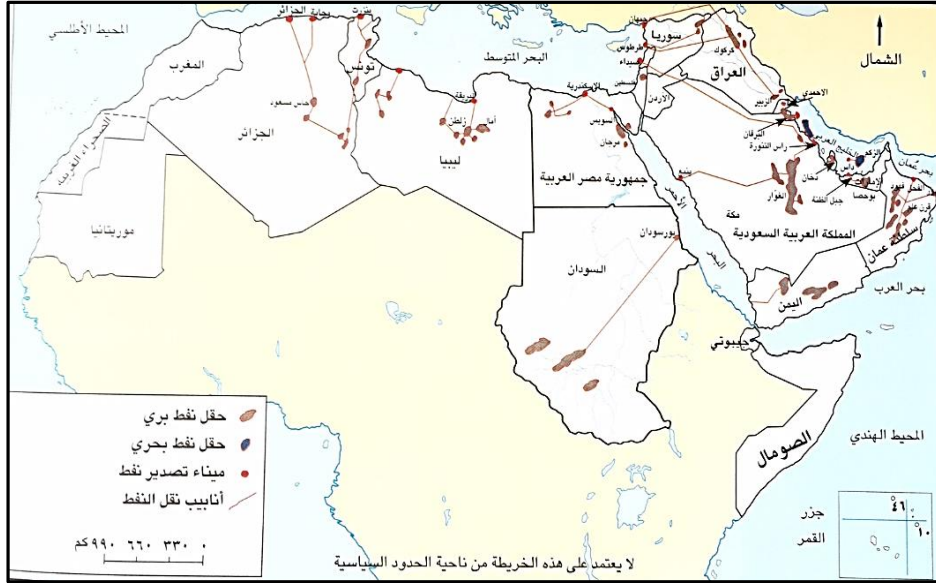
أ- الخوض ب- الموالح ج- روي د- دارسيت

٤- سقطت الدولة العباسية عام ٦٥٦ هـ نتيجة غزو:

أ- الأتراك ب- الفرس ج- المغول د- السلاجقة

تابع/ السؤال الأول: أجب عن الأسئلة التالية.

٥- حقل نفطي بري يوجد في العراق. مستعينا بالخريطة التي أمامك:



- أ- كركوك
ب- الغوار
ج- آمال
د- مرجان

٦- يتولى جمع الضرائب والصدقات في عهد الدولة الأموية:

- أ- صاحب الشرطة
ب- صاحب الخراج
ج- الوالي
د- القاضي

٧- تحتفل السلطنة بيوم المرأة العمانية من كل عام بتاريخ:

- أ- ١٧ أكتوبر
ب- ١٧ نوفمبر
ج- ١٧ ديسمبر
د- ١٧ يناير

٨- الدولتان العربيتان اللتان تعتمدان على السدود الكبرى في إنتاج الكهرباء:

- أ- العراق ولبنان
ب- الأردن والمغرب
ج- الجزائر وتونس
د- مصر وسوريا

السؤال الثاني: أجب عن الأسئلة التالية.

أ) من خلال دراستك لموضوع "النمو السكاني في الوطن العربي". أجب عما يلي:

١- اذكر مصدرًا واحدًا تعتمد عليه الدول للحصول على معلومات عن السكان؟

٢- ما المقصود بالزيادة الطبيعية؟

ب) ١- صنف الصناعات التالية الى صناعات استخرافية و صناعات تحويلية في الجدول التالي:

(النسيج - المعادن - الإسمنت - الرخام)

صناعات تحويلية	صناعات استخرافية
١-	١-
٢-	٢-

٢- عدد اثنين من العوامل الطبيعية المؤثرة في توزيع السكان.

ج) "من مظاهر العمل الاجتماعي في حياة العمانيين حرصهم على تقوية الروابط فيما بينهم فقد اعتاد العمانيون على الالتقاء والتشاور في كل ما يهم أمور حياتهم" من خلال العبارة السابقة أجب عما يلي.

١- ماذا يطلق على المكان الذي يلتقي فيه أهل البلدة في مختلف المناسبات؟

٢- ما المقصود بالمناشدة؟

(٤)

المادة: الدراسات الاجتماعية الصف: الخامس الفصل الدراسي الثاني - الدور: الثاني العام الدراسي: ٢٠١٥-٢٠١٦ م

السؤال الثالث: أجب عن الأسئلة التالية.

أ) ١- فرق بين ديوان البريد وديوان الجند من حيث وظيفة كل منها.


ديوان البريد
ديوان الجند

٢- فسر ما يلي:

١- هجرة السكان من الريف والبادية إلى المدن.

٢- كانت بداية الدولة الأموية قوية.

ب) اكتب اسم الموقع السياحي (الاثري) الواضح في الصورة.



٢-



١-

(٥)

المادة: الدراسات الاجتماعية الصف: الخامس الفصل الدراسي الثاني -الدور: الثاني العام الدراسي: ٢٠١٥-٢٠١٦ م

تابع/ السؤال الثالث: أجب عن الأسئلة التالية.

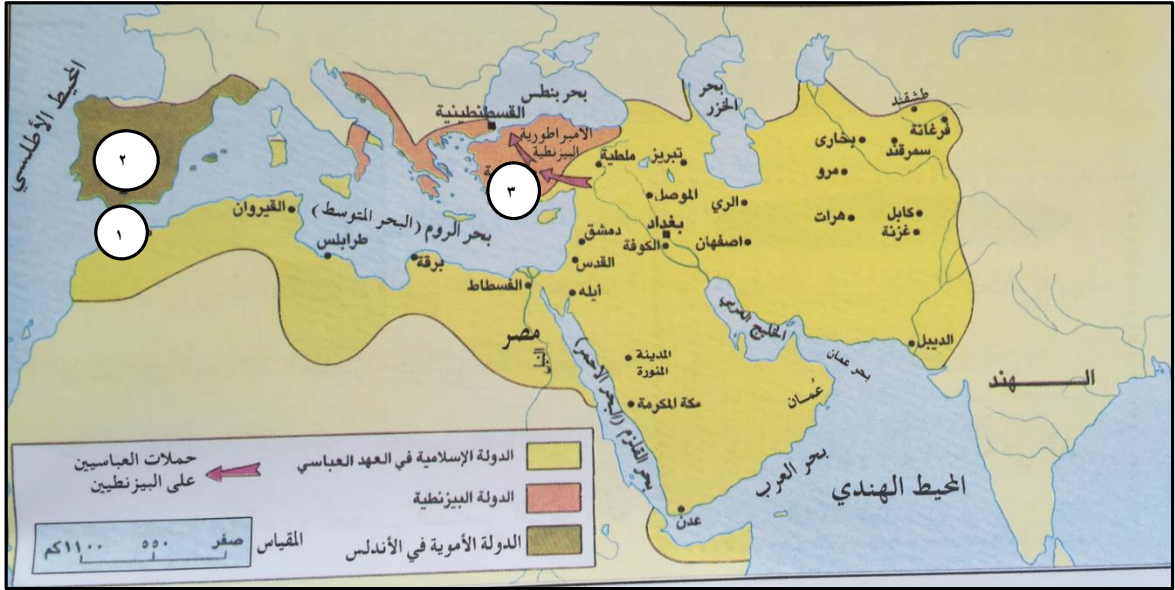
(ج) اعط سببا واحدا لما يلي:

١- انتقال البدو من مكان إلى آخر.

٢ - إنشاء جائزة السلطان قابوس للعمل التطوعي.

السؤال الرابع: أجب عن الأسئلة التالية.

أ- أمامك خريطة الدولة العباسية في أقصى اتساع لها. ادرسها جيدا ثم أجب عن الأسئلة التالية:



١- اسم المنطقة التي لم تتبع الدولة العباسية والمشار إليها بالرقم (٢). (.....)

٢- ما اسم المضيق المشار إليه بالرقم (١). (.....)

٣- بالاستعانة بمفتاح الخريطة. ما الذي تشير إليه الأسهم المشار إليها بالرقم (٣).

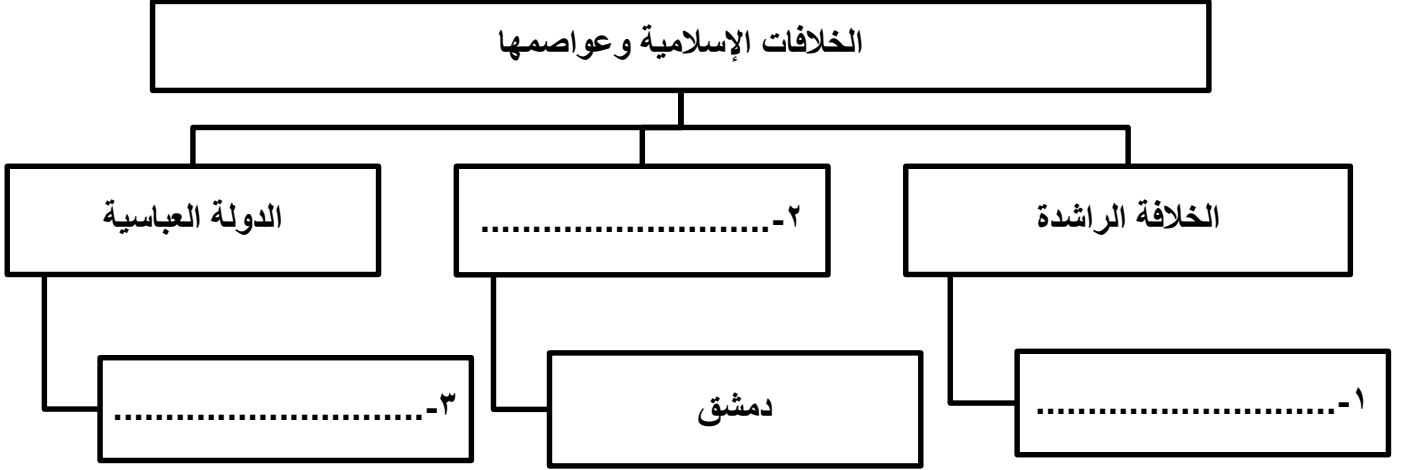
(.....)

(٦)

المادة: الدراسات الاجتماعية الصف: الخامس الفصل الدراسي الثاني -الدور: الثاني العام الدراسي: ٢٠١٥-٢٠١٦ م

تابع: السؤال الرابع: أجب عن الأسئلة التالية.

(ب) أكمل خريطة المفاهيم التالية:



(ج) ١- علل: تسمية الدولة الأموية بهذا الاسم.

٢- اذكر اثنين من أسس قيام الأسرة في الإسلام.

٨

انتهت الأسئلة، مع الأمنيات لكم بالنجاح والتفوق



عدد أوراق الإجابة (٤)

المديرية العامة للتربية والتعليم لمحافظة شمال الباطنة
[نموذج إجابة امتحان الصف الخامس الأساسي لمادة الدراسات الاجتماعية]
العام الدراسي ٢٠١٥ / ٢٠١٦ م - الفصل الدراسي الثاني / الدور الثاني

الدرجة الكلية ٤٠ درجة

إجابة السؤال الأول: ١٦ درجة $١٦ = ٢ \times ٨$ العلامة (/) تعتبر إجابة ثانية

رقم المفردة	١	٢	٣	٤	٥	٦	٧	٨
رمز الإجابة	ب	د	أ	ج	أ	ب	أ	د
الإجابة	عقبة بن نافع الفهري	الطاقة الشمسية	الخوض	المغول	كركوك	صاحب الخراج	١٧ أكتوبر	مصر وسوريا
الوحدة	٣	٤	٥	٣	٤	٣	٥	٤
الصفحة	١٤	٦٦	٩٠	٢٦	٦٨	٢٠	٩٣	٦٩
الدرجة	٢	٢	٢	٢	٢	٢	٢	٢

إجابة السؤال الثاني: ٨ درجات

الجزئية	الإجابة	الدرجة	الصفحة	الوحدة
أ	(١) - التعداد (الإحصاء). - السجلات المتعلقة بعدد المواليد والوفيات وعدد حالات الزواج والطلاق وأعداد المهاجرين. (يكتفى بواحد)	١	٣٨	الرابعة
	٢- هو الفارق بين معدل المواليد ومعدل الوفيات.	١	٤٠	الرابعة
ب	١- صناعات استخراجية ١- المعادن ٢- الرخام	درجتان لكل نصف	٦٤	الرابعة
	صناعات تحويلية ١- النسيج ٢- الإسمنت			
(٢)	- المناخ - التربة - المياه - الموارد الطبيعية - أشكال السطح (يكتفى باثنين)	درجتان لكل درجة	٤٥	الرابعة

تابع إجابة السؤال الثانى:

الوحدة	الصفحة	الدرجة	الإجابة	الجزئية
الخامسة	١٠٠	١	١- المجلس / السبلة	ج
الخامسة	١٠١	١	٢- هو سؤال الضيف عن الأخبار. (أو ما يفيد المعنى)	

إجابة السؤال الثالث : ٨ درجات

الوحدة	الصفحة	الدرجة	الإجابة	الجزئية	
الثالثة	٢٠	درجتان لكل درجة	(١)	أ	
			ديوان البريد		تأمين إيصال الرسائل إلى أصحابها.
			ديوان الجند		تسجيل أسماء الجند وتحديد رواتبهم
الرابعة	٤٨	١	(٢) ١- بسبب توفر فرص العمل وارتفاع مستوى الخدمات.	ب	
الثالثة	١٢	١	٢- بسبب وحدة المسلمين وظهور قادة عسكريين ماهرين.		
الرابعة	٧٣	٢ لكل درجة	١- الاهرامات ٢- مقابر بات		

تابع/ إجابة السؤال الثالث : ٨ درجات

الوحدة	الصفحة	الدرجة	الإجابة	الجزئية
الرابعة	٥٣	١	(١) طلبا للموارد المعيشية مثل المياه والمراعي.	ج
الخامسة	٩٥	١	(٢) - تشجيع ونشر ثقافة العمل التطوعي. - إبراز أهميته في خدمة الأسرة والمجتمع. - إبراز دور الجمعيات والمؤسسات الأهلية والتطوعية. (يكتفى بسبب واحد)	

إجابة السؤال الرابع : ٨ درجات

الوحدة	الصفحة	الدرجة	الإجابة	الجزئية
الثالثة	٢٦/٢٤	١	١- الأندلس / الدولة الأموية في الأندلس	أ
الثالثة	٢٦/١٦	١	(٢) مضيق جبل طارق	
الثالثة	٢٦	١	٣- حملات العباسيين على البيزنطيين.	
الثالثة	١٠	١	١- المدينة المنورة	ب
الثالثة	١٠	١	٢- الدولة الأموية	
الثالثة	٢٩	١	٣- بغداد	

الوحدة	الصفحة	الدرجة	الإجابة	الجزئية
الثالثة	١٠	١	١ - نسبة إلى جدها أمية بن عبد شمس بن عبد مناف.	ج
الخامسة	٨١	١	(٢) - المودة - الرحمة - التعاون - التكافل (يكتفى باثنين)	

*** انتهى نموذج الإجابة ***