

**اختبار نهاية الفصل الدراسي الثاني- الدور الأول للصفوف من (٥-٩)
للعام الدراسي ١٤٣٦ / ١٤٣٧ هـ - ٢٠١٥ / ٢٠١٦ م**

- المادة: الدراسات الاجتماعية
- زمن الإجابة: ساعة ونصف
- عدد صفحات أسئلة الاختبار: (٥) .
- الإجابة في الورقة نفسها.

	اسم الطالب
الصف	المدرسة

درجة السؤال		السؤال
عشرات	آحاد	
		١
		٢
		٣
		٤
		٥
		٦
		٧
		٨
		المجموع
	٤٠	المجموع الكلي

/ التوقيع

/ اسم المصحح

/ التوقيع

/ اسم المراجع

الإجابة في الورقة نفسها



المديرية العامة للتربية والتعليم لمحافظة شمال الباطنة

الامتحان النهائي للصف السادس للفصل الدراسي الثاني/الدور الأول للعام الدراسي ٢٠١٥-٢٠١٦ م

الزمن: ساعة ونصف

المادة: الدراسات الاجتماعية

تنبيه: الأسئلة في (٥) صفحات

الدرجة الكلية: (٤٠) درجة

الشعبة:

اسم الطالب/ة:

أجب عن جميع الأسئلة الآتية

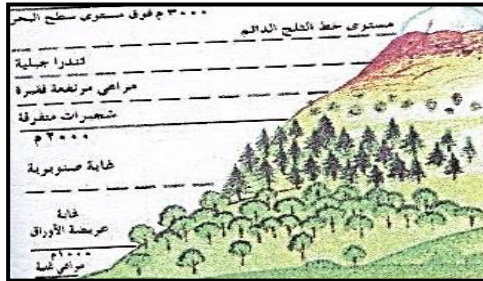
السؤال الأول: ضع دائرة حول رمز الإجابة الصحيحة من بين البدائل المعطاة:

(١) وقعت السلطنة اتفاقية التنوع الحيائي في العام الميلادي :

(أ) ١٩٩٠ (ب) ١٩٩١ (ج) ١٩٩٢ (د) ١٩٩٣

(٢) تنحصر بيئة الحشائش المدارية الطويلة (السافانا) بين دائرتي عرض :

أ- (٥-٥) ب- (١٠-٥) ج- (١٥-٥) د- (٢٠-٥)



(٣) سبب تناقص الغطاء النباتي في الشكل عامل:

(أ) الامطار (ب) خصوبة التربة

(ج) الانحدار (د) الارتفاع

(٤) تحت الآية الكريمة ((هو الذي جعل لكم الارض ذلولا فامشوا في مناكبها وكلوا من رزقه واليه النشور)) على:

(أ) العمل (ب) التحلي بالصدق (ج) الامانة (د) استغلال وقت الفراغ

(٥) الشهر التي ترتفع فيه كمية الامطار الى الحد الاقصى في مدينة واو بالسودان:

الشهر	يناير	فبراير	مارس	أبريل	مايو	يونيو	يوليو	أغسطس	سبتمبر	أكتوبر	نوفمبر	ديسمبر
درجة الحرارة (س)	٢٧	٢٧	٢٩	٣١	٣٣	٢٩	٢٧	٢٨	٢٩	٣٢	٢٨	٢٦
الأمطار (مليمتر)	١٠	٣٠	٨٠	١٢٠	١٥٠	١٨٥	٢٣٠	١٥٥	١٠٠	٨	٠٠	٠٠

(أ) مايو (ب) يونيو

(ج) يوليو (د) اغسطس

تابع- السؤال الأول:

٦) جميع الصور التي امامك تعتبر من السلوكيات المرغوبة ماعدا:




(ب)




(أ)



(د)



(ج)



٧) تكيف النبات الصحراوي في الصورة التي امامك من خلال :

- (أ) اوراق ابرية (ب) جذور عميقة
(ج) جذور قصيرة متفرعة (د) سيقان شمعية

٨) المفهوم الدال على حفظ حقوق الناس من اقوال واسرار واموال وودائع :

- (أ) العدل (ب) المساواة (ج) التكافل (د) الأمانة

١٦

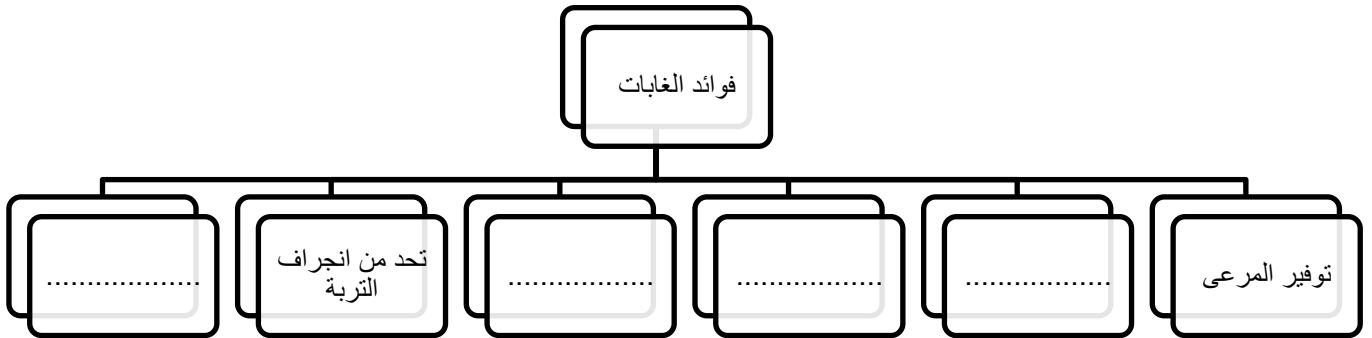
السؤال الثاني:

(أ) عرفي المفاهيم التالية :

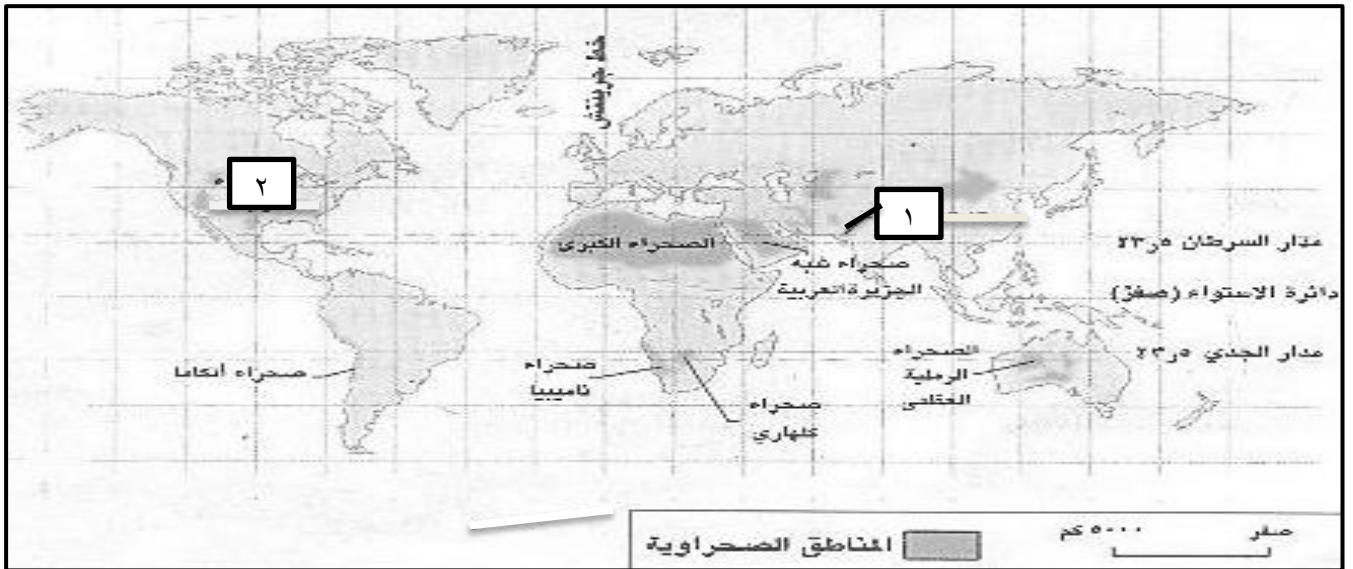
- (١) النظام البيئي.....
.....
(٢) الصدق.....

تابع- السؤال الثاني:

ب) اكمل بناء الخريطة المفاهيمية التالية :



ج) أمامك خريطة (الصحاري الحارة في العالم) ادرسها جيدا ثم اجب عن الاسئلة التي تليها:



١) اكتب أسماء الصحاري المشار إليها بالأرقام التالية:

.....(١)

.....(٢)

٢ - استخرج من الخريطة اسم صحراء توجد في قارة افريقيا.....

٣ - سم القارة التي توجد فيها صحراء اتكاما.....

٨

(٤)

المادة: الدراسات الاجتماعية الصف: السادس الفصل الدراسي: الأول - الدور: الأول العام الدراسي: ٢٠١٥-٢٠١٦ م

السؤال الثالث:

أ) اذكر اثنين لكل من :

١) خصائص بيئة الغابات المدارية المطيرة.

.....و.....

٢) صفات المواطن الصالحو.....

ب) ١) فسر / زيادة نمو النباتات الطبيعية وكثافتها في بيئة الغابات المدارية المطيرة.

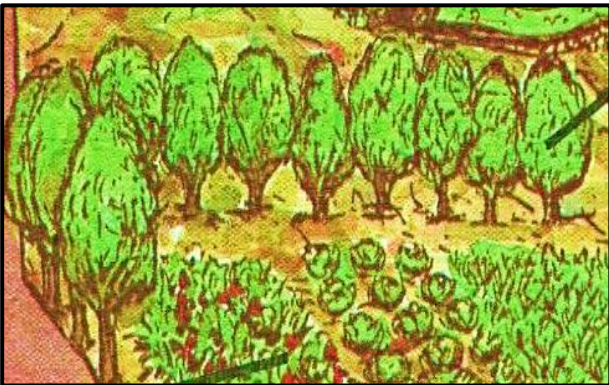
.....

٢) صنف عوامل انجراف التربة التالية في الجدول الذي امامك.

(الأمطار الغزيرة - الرعي الجائر - ميل السفوح - الحراثة الخاطئة)

عوامل بشرية	عوامل طبيعية

ج) أمامك صورة انظر اليها جيدا ثم اجب عن الاسئلة التي تليها:



١) استنتج من الصورة احد اساليب صيانة التربة

.....

٢) وضح فائدة هذا الاسلوب لصيانة التربة

.....

٨

السؤال الرابع:

(أ) اكتب نتيجة واحدة لكل من :

(١) الرعي المنظم.....

(٢) اتقان العمل.....

(٣) انشاء مراكز التدريب المهني.....

(ب) انظر الى الصورة التي امامك جيدا ثم اجب عن الأسئلة التي تليها:



(١) سم العمل اليدوي البسيط الواضح في الصورة.....

(٢) اعط مثال لعمل يدوي بسيط آخر.....

(٣) ما رأيك في بعض الشباب الذين يترفعون عن الأعمال اليدوية البسيطة.

.....

.....

(ج)- اقترح اثنين من الواجبات التي ينبغي ان يقوم بها الطالب تجاه وطنه (يكتفى بذكر اثنين فقط).

.....

.....



{نموذج اجابة امتحان الصف السادس لمادة الدراسات الاجتماعية}
العام الدراسي ٢٠١٥/٢٠١٦م الفصل الدراسي الثاني / الدور الاول
الدرجة الكلية ٤٠ درجة ملاحظة: النموذج في (٤) صفحات

$$١٦ = ٢ \times ٨$$

اجابة السؤال الاول : ١٦ درجة

رقم المفردة	١	٢	٣	٤	٥	٦	٧	٨
الاجابة	١٩٩٢	(١٥-٥)	الارتفاع	العمل	اغسطس	الصورة الأولى	جذور عميقة	الامانة
رمز الاجابة	ج	ج	د	أ	د	أ	ب	د
الوحدة	الرابعة	الرابعة	الرابعة	الخامسة	الرابعة	الخامسة	الرابعة	الخامسة
الصفحة	١٥	٢٥	١٨	٧٢	٢٧	٥٧	٣٥	٦١
الدرجة	٢	٢	٢	٢	٢	٢	٢	٢

{نموذج اجابة امتحان الصف السادس لمادة الدراسات الاجتماعية }

العام الدراسي ٢٠١٥/٢٠١٦م الفصل الدراسي الثاني / الدور الاول

اجابة السؤال الثاني : ٨ درجات

الجزئية	الاجابة	الدرجة	الصفحة	الوحدة
أ	(١) المكان الذي يضم انواعا محددة من النباتات الطبيعية والحيوانات البرية والكائنات الحية الاخرى التي ترتبط مع بعضها بعلاقات محددة وواضحة.	٢	١٢	الرابعة
	(٢) ان يتطابق القول مع الفعل والواقع.	١	٥٩	الخامسة
ب	<p style="text-align: center;">فوائد الغابات</p> 	٢ (لكل نصف درجة فقط)	٤٢	الرابعة
ج	(١) (١) ثار	نصف درجة	٣٠	الرابعة
	(٢) موجاف	نصف درجة		
	(٢) الصحراء الكبرى - كلهاري - ناميبيا (يكتفى بذكر واحدة فقط)	١	٣٠	الرابعة
	(٣) قارة أمريكا الجنوبية	١	٣٠	الرابعة

{نموذج اجابة امتحان الصف السادس لمادة الدراسات الاجتماعية }

العام الدراسي ٢٠١٥/٢٠١٦م الفصل الدراسي الثاني / الدور الاول

اجابة السؤال الثالث : ٨ درجات

الوحدة	الصفحة	الدرجة	الاجابة	الجزئية						
الرابعة	٣٠	١ (لكل اجابة نصف درجة فقط)	(١) -ارتفاع درجات الحرارة وكميات الأمطار والرطوبة – نمو النباتات الطبيعية وعظم كثافتها – سقوط الأمطار بعد الظهر – يصل ارتفاع الأشجار ٤٠ مترا – تمتد بين درجتي عرض (٥)شمال وجنوب دائرة الاستواء.	أ						
الخامسة	٥٦	٢ (لكل اجابة نصف درجة فقط)	(٢) يتميز بروح وطنية عالية - يشعر بقوة الارتباط بوطنه - يحب وطنه - لديه استعداد يدافع عن وطنه - العمل على الارتقاء بوطنه (يراعى أسلوب الطالب في التعبير).							
الرابعة	٣٧ - ٣٨	٢	<table border="1"> <thead> <tr> <th>عوامل طبيعية</th> <th>عوامل بشرية</th> </tr> </thead> <tbody> <tr> <td>الأمطار الغزيرة</td> <td>الرعي الجائر</td> </tr> <tr> <td>- ميل السفوح</td> <td>الحراثة الخاطئة</td> </tr> </tbody> </table>	عوامل طبيعية	عوامل بشرية	الأمطار الغزيرة	الرعي الجائر	- ميل السفوح	الحراثة الخاطئة	ب
عوامل طبيعية	عوامل بشرية									
الأمطار الغزيرة	الرعي الجائر									
- ميل السفوح	الحراثة الخاطئة									
الرابعة	١٩	١	(١) بسبب غزارة الامطار وارتفاع درجات الحرارة طوال العام.	ج						
الرابعة	٤٠	١	(٢) أ) اسلوب مصدات الرياح.							
الرابعة	٤٠	١	ب) حماية التربة من التعرية الريحية .							

{نموذج اجابة امتحان الصف السادس لمادة الدراسات الاجتماعية }

العام الدراسي ٢٠١٥/٢٠١٦م الفصل الدراسي الثاني / الدور الاول

اجابة السؤال الرابع : ٨ درجات

الوحدة	الصفحة	الدرجة	الاجابة	الجزئية
الرابعة	٤٥	١	(١) يسمح بتجدد نباتات المرعى - يحمي التربة من الانجراف.	أ
الخامسة	٧١	١	(٢) بواسطة العمل يكسب الفرد رزقه - يسهم في تقدم مجتمعه وتطوره - من المقومات الأساسية في تقدم الحضارات وتطورها.. (يراعى أسلوب الطالب في التعبير)	
الخامسة	٧٩	١	(٣) من اجل توفير الايدي العاملة المدربة والمؤهلة.	
الخامسة	٧٤	١ ٢	(١) الحلاقة (٢) المزارع - النجارة - الحدادة - الميكانيكا - السباكة - أعمال الكهرباء (تراعى الأعمال اليدوية الأخرى التي يذكرها الطالب) (٣) تعتبر وجهة نظر غير صحيحة تجاه العمل اليدوي البسيط لأنه من الأعمال الشريفة النافعة له ولمجتمعه ويجب أن لا يترفع عنها - (يراعى أسلوب الطالب في التعبير)	ب
الخامسة	٥٥ - ٥٦	١ لكل واحدة نصف درجة فقط	الدفاع عن الوطن - المحافظة على ممتلكات الوطن بالعمل على خدمة الوطن - ان يذاكر ويجد ويجتهد من اجل خدمة وطنه - المحافظة على امن ويامة الوطن - (يراعى أسلوب الطالب في التعبير)	ج

انتهت الاجابة،،،،

