



امتحان الصف الثامن

الفصل الدراسي الثاني / الدور الثاني

للعام الدراسي ١٤٣٦/١٤٣٧ هـ - ٢٠١٥/٢٠١٦ م

اسم الطالب : الصف :

الزمن : ساعة ونصف

المادة : الدراسات الاجتماعية

تنبيه : الأسئلة في اربع صفحات

الدرجة الكلية : ٤٠ درجة

أجب عن جميع الأسئلة الآتية

السؤال الأول: ضع دائرة حول رمز الإجابة الصحيحة من بين البدائل المعطاه :-

(١) أرخص أنواع النقل و أقلها خطورة:
(أ) الجوي (ب) البحري (ج) النهري (د) البري



(٢) المَعْلَم الواضح في الصورة

المقابلة من أبرز معالم مدينة:

(أ) صحار

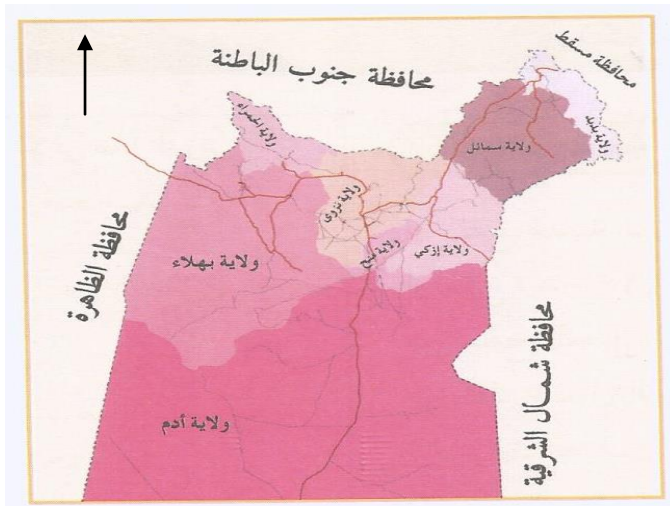
(ب) نزوى

(ج) صلالة

(د) مسقط

(٣) يبلغ عدد حالات المياه الموجودة في الطبيعة:

(أ) ثلاث (ب) أربع (ج) خمس (د) ست



(٤) تحد محافظة الظاهرة محافظة الداخلية

من جهة :

(أ) الشمال

(ب) الجنوب

(ج) الشرق

(د) الغرب

تابع) امتحان الدراسات الاجتماعية للصف الثامن للعام ٢٠١٥/٢٠١٦م الدور الثاني الفصل الدراسي الثاني

تابع السؤال الاول:

٥) تؤكد الشواهد الأثرية على أن صحار اشتهرت بتصدير النحاس منذ أكثر من:

- أ) ثلاثة الاف سنة ب) أربعة الاف سنة ج) خمسة الاف سنة د) ستة الاف سنة

٦) تمكن الإنجليزي " جيمس واظ " في عام ١٧٦٩م من اختراع:

- أ) المغزل الآلي ب) آلة بذر الحبوب ج) آلة الحصاد د) المحرك البخاري

٧) سد أنشئ بهدف حماية المناطق المجاورة من أخطار فيضانات الأودية:

- أ) وادي الفليج ب) وادي الخوض ج) وادي غول د) وادي تنوف

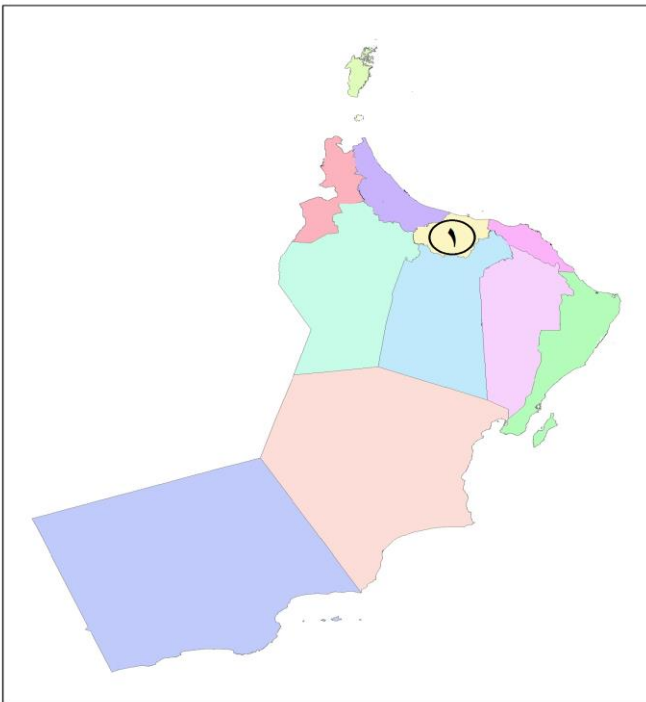
٨) أول من أطلق مصطلح العالم الجديد على أمريكا الجنوبية:

- أ) فيردناند ماجلان ب) فاسكو دي جاما ج) كريستوفر كولمبس د) بوت كابوت

السؤال الثاني:

أ) ١ - عرف المقصود بمشكلة تملح المياه.

٢ - اذكر اثنتين من ولايات محافظة ظفار.



ب) أمامك خريطة التقسيم الإداري لسلطنة عمان ادرسها جيدا ثم أجب عن الآتي:

١- كم يبلغ عدد محافظات السلطنة؟

٢- سمّ المدينة التي تعتبر المركز الاقليمي للمحافظة المشار اليها بالرقم (١).

٣- ظلل على الخريطة المحافظة التي توجد فيها قلعتي الجلالي والميراني.

تابع امتحان الدراسات الاجتماعية للصف الثامن للعام ٢٠١٥/٢٠١٦م الدور الثاني الفصل الدراسي الثاني

تابع السؤال الثاني:

ج (صنف أسباب قيام الاكتشافات الجغرافية التالية إلى المجال الذي تنتمي إليه (اقتصادي / سياسي / ديني)

المجال	الأسباب
	التنافس بين الدول الأوروبية على امتلاك الأراضي
	البحث عن طرق تجارية جديدة
	الرغبة في الإثراء السريع
	نشر الديانة المسيحية

السؤال الثالث:

أ (قارن بين ولاية صحار وولاية نزوى وفق الجدول الآتي :

أوجه المقارنة	صحار	نزوى
المحافظة التي تقع فيها الولاية		
مثال واحد على الأودية بالولاية		

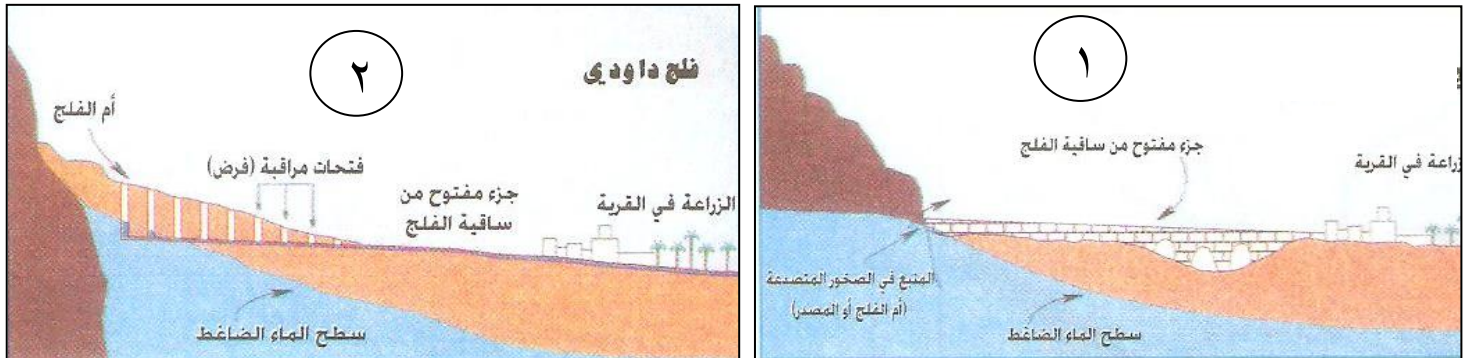
ب (رتب الأحداث التاريخية التالية من الأقدم إلى الأحدث بكتابة الأرقام من ١ إلى ٣ في الأقواس :

() الثورة الصناعية .

() بداية النهضة الأوروبية .

() حركة الاكتشافات الجغرافية .

ج (من خلال الأشكال التي أمامك أجب عما يلي :



١- ما نوع الفلج في الشكل المشار إليه بالرقم (١) ؟

٢ - أعط مثال واحد على نوع الفلج المشار إليه بالرقم (٢) .

٣ - حدد مصدر المياه للفلج المشار إليه بالرقم (٢) .

السؤال الرابع:

(أ) علل :

١ - بدء الثورة الصناعية في بريطانيا قبل غيرها من الدول الأوروبية .

.....

.....

٢ - تُعد حركة الاكتشافات الجغرافية من أبرز عوامل قيام النهضة الأوروبية.

.....

.....

(ب)

١ - دلل بآية من القرآن الكريم على أهمية الماء للحياة.

.....


.....

٢ - بم تفسر: سقوط الأمطار على مدينة صلالة في فصل الصيف؟

.....

.....

(ج) صف طريقة توليد الطاقة الكهربائية من مياه الأنهار من خلال الاستعانة بالشكل الآتي.



.....

.....

.....

.....

.....

.....

.....

.....

انتهت الاسئلة مع تمنياتنا للجميع بالتوفيق والنجاح ،،،

[نموذج إجابة امتحان الصف الثامن لمادة الدراسات الاجتماعية]
العام الدراسي ٢٠١٥ / ٢٠١٦ م الفصل الدراسي الثاني - الدور الثاني

الدرجة الكلية ٤٠ درجة نموذج الإجابة في (٣) صفحات

إجابة السؤال الأول: ١٦ درجة $١٦ = ٢ \times ٨$

رقم المفردة	١	٢	٣	٤	٥	٦	٧	٨
رمز الإجابة	ب	د	أ	د	ب	د	أ	ج
الإجابة	البحري	مسقط	ثلاث	الغرب	اربعة الاف سنة	المحرك البخاري	وادي الفليج	كريستوفر كولومبس
الوحدة	الرابعة	السادسة	الرابعة	السادسة	السادسة	الخامسة	الرابعة	الخامسة
الصفحة	٢٢	٧٥	١٠	٨٤	١٠١	٦٥	٣٠	٥٨
الدرجة	٢	٢	٢	٢	٢	٢	٢	٢

إجابة السؤال الثاني ٨ درجات

الجزئية	الإجابة	الدرجة	الصفحة	الوحدة										
أ	١ - انخفاض منسوب المياه العذبة لتحل محلها المياه المالحة ، بحيث تصبح غير صالحة للاستخدام البشري . ٢ - صلالة / ثمرية / طاقة / مرباط / سدح / رخيوت / ضلكوت / مقشن / شليم وجزر الحلايبات / المزيونة . (يكتفى باثنين لكل درجة)	١ ٢	٢٧ ١٠٧	الرابعة السادسة										
ب	١ - ١١ ٢ - الرستاق ٣ - تظليل محافظة مسقط على الخريطة	١ ١ ١	الخريطة ٩٣ ٧١	السادسة										
ج	<table border="1"> <thead> <tr> <th>المجال</th> <th>الاسباب</th> </tr> </thead> <tbody> <tr> <td>سياسي</td> <td>التنافس بين الدول الأوروبية في امتلاك الاراضي</td> </tr> <tr> <td>اقتصادي</td> <td>البحث عن طرق تجارية جديدة</td> </tr> <tr> <td>اقتصادي</td> <td>الرغبة في الثراء السريع</td> </tr> <tr> <td>ديني</td> <td>نشر الديانة المسيحية</td> </tr> </tbody> </table>	المجال	الاسباب	سياسي	التنافس بين الدول الأوروبية في امتلاك الاراضي	اقتصادي	البحث عن طرق تجارية جديدة	اقتصادي	الرغبة في الثراء السريع	ديني	نشر الديانة المسيحية	٢	٥٥-٥٤	الخامسة
المجال	الاسباب													
سياسي	التنافس بين الدول الأوروبية في امتلاك الاراضي													
اقتصادي	البحث عن طرق تجارية جديدة													
اقتصادي	الرغبة في الثراء السريع													
ديني	نشر الديانة المسيحية													
(اربع لكل نصف درجة)														

(٢)
 [تابع / نموذج إجابة امتحان الصف الثامن لمادة الدراسات الاجتماعية]
 العام الدراسي ٢٠١٥ / ٢٠١٦ م الفصل الدراسي الثاني - الدور الثاني

إجابة السؤال الثالث: ٨ درجات

الوحدة	الصفحة	الدرجة	الإجابة	الجزئية									
السادسة	٨٣	١	<table border="1" style="width: 100%;"> <tr> <td>أوجه المقارنة</td> <td>صحار</td> <td>نزوى</td> </tr> <tr> <td>المحافظة التي تقع فيها الولاية</td> <td>شمال الباطنة أو الباطنة</td> <td>الداخلية</td> </tr> <tr> <td>مثال واحد على الأودية في الولاية</td> <td>حبيبي / عاهن / الجزري</td> <td>المعیدن / تنوف (يكتفى بواحد)</td> </tr> </table>	أوجه المقارنة	صحار	نزوى	المحافظة التي تقع فيها الولاية	شمال الباطنة أو الباطنة	الداخلية	مثال واحد على الأودية في الولاية	حبيبي / عاهن / الجزري	المعیدن / تنوف (يكتفى بواحد)	أ
	أوجه المقارنة	صحار	نزوى										
	المحافظة التي تقع فيها الولاية	شمال الباطنة أو الباطنة	الداخلية										
مثال واحد على الأودية في الولاية	حبيبي / عاهن / الجزري	المعیدن / تنوف (يكتفى بواحد)											
٩٩	١												
٩١		(اربع لكل نصف درجة)											
الخامسة	٦١	١	(٣) الثورة الصناعية.	ب									
	٤٥	١	(١) بداية النهضة الاوروبية.										
	٥٢	١	(٢) حركة الاكتشافات الجغرافية .										
الرابعة	٣٢	١	١- عيني	ج									
الرابعة	٣٢	١	٢- فلج دارس / فلج الملكي / فلج الميسر . (يكتفى بواحد)										
الرابعة	٣٢	١	٣- المياه الجوفية عند سفوح الجبال.										

(٣)

[تابع / نموذج إجابة امتحان الصف الثامن لمادة الدراسات الاجتماعية]
العام الدراسي ٢٠١٥ / ٢٠١٦ م الفصل الدراسي الثاني- الدور الثاني

إجابة السؤال الرابع : ٨ درجات

الوحدة	الصفحة	الدرجة	الإجابة	الجزئية
الخامسة	٦٢-٦١	٢	١- كثرة السكان فيها وارتفاع عدد المفكرين والعلماء وتوافر الايدي العاملة / توافر المواد الخام والمواد الطبيعية لا سيما الحديد /بعدها عن الحروب والتوترات السياسية / وفرة رؤوس الاموال ووجود نظام مصرفي متكامل / إسهام الموانئ والسفن في توفير المواد الخام والايدي العاملة . (يكتفى بواحد)	أ
الخامسة	٤٧	٢	٢- كان لها تأثير واضح في حياة أوروبا ومجتمعاتها حيث وسعت معرفة الناس بالأقاليم الأخرى / وإثبات كروية الأرض / واكتشاف العالم الجديد . (يكتفى بواحد)	
الرابعة	١٠	١	١- قال الله تعالى (وجعلنا من الماء كل شيء حي) أو اي اية من القرآن الكريم تدل على اهمية المياه ويشترط كتابتها بشكل صحيح .	ب
السادسة	١١٣	١	٢- بسبب الرياح الموسمية الجنوبية الغربية.	
الرابعة	٢١	٢	يتم احتجاز المياه خلف السدود / ومن ثم إطلاقها لتحرك توربينات كبيرة تولد الكهرباء. (يراعى اسلوب الطالب في التعبير)	ج

مجموع الدرجات ٤٠ درجة

انتهى نموذج الاجابة