



امتحان الصف السابع
للعام الدراسي ١٤٣٦/١٤٣٧ هـ - ٢٠١٥/٢٠١٦ م
الفصل الدراسي الثاني- الدور الأول

- المادة: الدراسات الاجتماعية
- زمن الإجابة: ساعة ونصف الساعة
- عدد صفحات أسئلة الامتحان: (٤ صفحات)
- الإجابة في الورقة نفسها.

اسم الطالب	
المدرسة	
الصف	


السؤال	الدرجة بالأرقام (بالأحمر)		الدرجة بالحد روف (بالأحمر)	(التوقيع بالاسم)	
	أحاد	عشرات		المصحح (بالأحمر)	المدقق (بالأخضر)
١					
٢					
٣					
٤					
المجموع			جمعه (بالأحمر)	مراجعة الجمع والتشطيب (بالأزرق)	
المجموع الكلّي					

أجب عن جميع الأسئلة التالية

السؤال الأول: ضع دائرة حول رمز الإجابة الصحيحة لكل مفردة من المفردات الآتية: ١٦ درجة

١- كثرة الحاصلات الزراعية وتنوعها ظهر في مرحلة:

- أ- الجمع والالتقاط ب- الصيد والرعي ج- الزراعة د- التجارة



٢- توضح الصورة المقابلة إحدى المشكلات التي تعاني منها المدن:

- أ- الازدحام والاختناقات المرورية ب- ضعف مستوى الخدمات
ج- الإسكان د- تلوث المياه

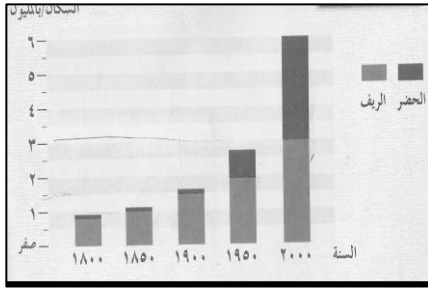
٣- يقصد بها توسط الخدمات وتركزها في وسط المدينة:

- أ- التوسط والمركزية ب- التراجع الحضري
ج- الريف د- التنمية الريفية

٤- السنة التي يتساوى أو يتقارب فيها نمو سكان الريف والحضر في

العالم هي:

- أ- ١٨٠٠ ب- ١٨٥٠
ج- ١٩٠٠ د- ٢٠٠٠



٥- المحافظة المشار إليها بالرقم ٢ في الخريطة عقدت فيها ندوة عام

٢٠٠٢م لحل أحد مشكلات الريف في الدول النامية وهي مشكلة:

- أ- الهجرة ب- التصحر
ج- الزحف الحضري د- نقص المياه



٦- أول أمة بحرية في التاريخ هي:

- أ- الفينيقية ب- الفرعونية ج- السومرية د- الآرامية

٧- الترتيب الصحيح لأسماء ملوك مصر في عهد الدولة الحديثة حسب

أسبقية حكمهم لمصر (من الأقدم إلى الأحدث) هو:

- أ- (١-٢-٣) ب- (١-٣-٢) ج- (١-٢-٣) د- (٢-٣-١)

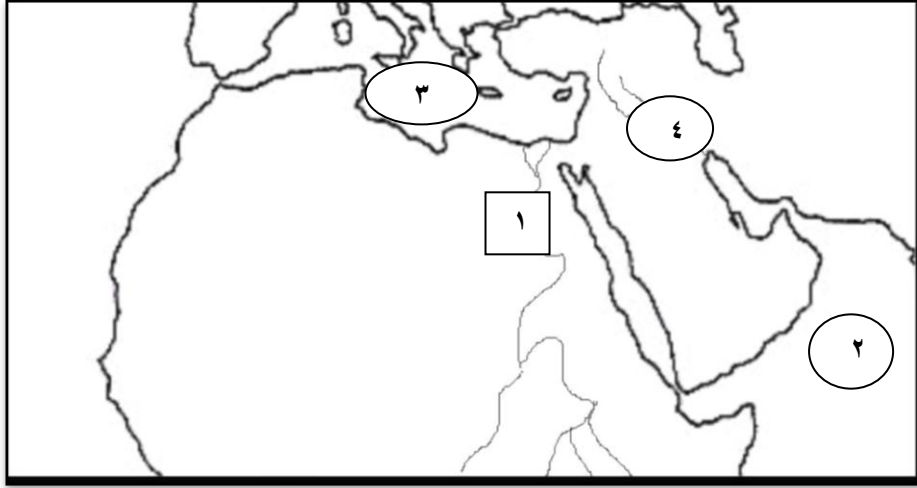
١	احمس
٢	امنحوتب الرابع (اخناتون)
٣	حتشبسوت

٨- تعرضت الدولة البابلية الثانية للغزو الفارسي سنة ٥٣٩ ق.م بسبب:
أ- عظم امتدادها ب- ظهور دويلات مستقلة ج- ضعف ملوكها د- موقعها الجغرافي

٨ درجات

السؤال الثاني: أجب عن الأسئلة الآتية:

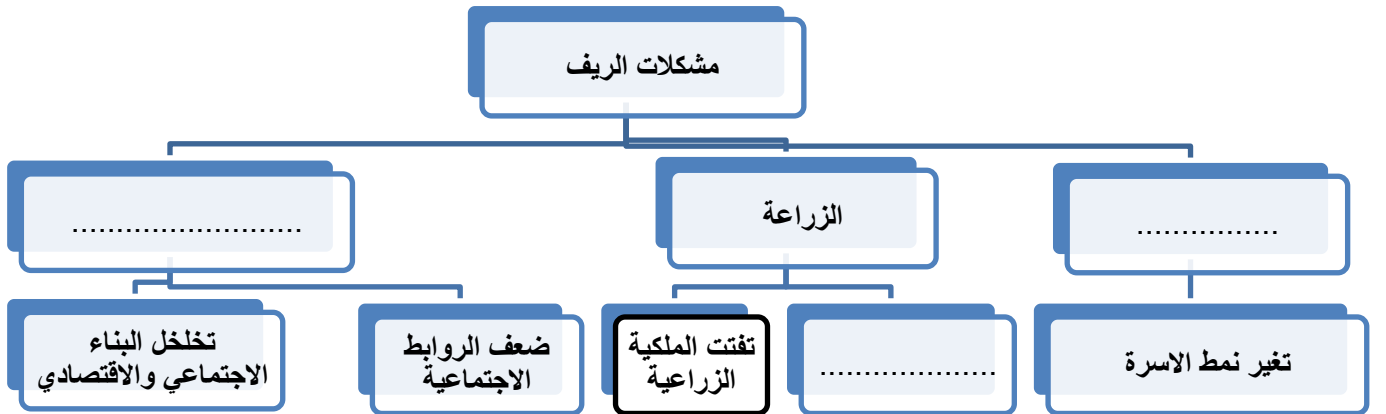
١- امامك خريطة الحضارات ادرسها جيدا ثم اجب عن الاسئلة التي تليها:



الظاهرة	موقع حضارات بلاد الرافدين	البحر الذي اجتازه الفينيقيين للوصول الى شاطئ افريقيا الشمالي
أ-		
الرقم الذي يشير اليه		

ب- ما اسم النهر المشار اليه بالرقم (١) في الخريطة.....

٢- اكمل المخطط التالي والذي يمثل الريف ومشكلاته :



٣- "اثرت الظروف البيئية في الانسان القديم فجعلته ينتقل من منطقة الى اخرى سعيا وراء الماء والغذاء"

في ضوء هذه العبارة اجب عن الاتي:

أ- ما العامل الذي ساعد الانسان على الاستقرار في تجمعات بشرية؟

.....

ب- صنف اشهر ملوك مصر وانجازاتهم حسب معطيات الجدول التالي (تحتسب الثالث- خفرع):

الملك	انجازاته
.....	تمثال ابو الهول
.....	انتصر في معركة مجدو في فلسطين

السؤال الثالث: اجب عن الأسئلة الآتية:

٨ درجات

١- قارن بين مشكلات المدن في الدول النامية حسب معطيات الجدول التالي:-

المقارنة	مشكلة الازدحام والاختناقات المرورية	التلوث والصحة
الاسباب	*	*
النتائج	*	*

٢- القوانين الموجودة في الشكل الذي امامك تنسب الى.....

قوانين:

*القصاص والتعويضات.

*عقود الزراعة وشروط القروض

٣- فسر العبارات التالية:

أ-زيادة الهجرة من الريف الى الحضر(المدينة).

.....

.....

ب- تعد الطرق من الوسائل الضرورية للإنسان والدولة

.....

ج- تعد اهرامات الجيزة احدى عجائب الدنيا.....

٨ درجات

السؤال الرابع: أجب عن الأسئلة الآتية:

١- اذكر دليلاً واحداً على صحة العبارات التالية:

أ- اهتمام الملكة حتشبسوت بالتجارة

ب- كان للفينيقيين منجزات حضارية متعددة.....

٢- اذكر نتيجة واحدة ترتبت على :-

أ - تطور الآلة الزراعية في الدول المتقدمة.....

ب- تأثر الهكسوس بالحضارة المصرية القديمة.....

ج- مشكلة عدم توفر المأوى (المسكن) للمهاجرين في المدن الضخمة في الدول النامية.

٣- انسب العواصم التالية الى الحضارات التي تنتمي اليها بالاستعانة بما بين القوسين
(الامورية-المصرية-الاشورية):-

أ- (.....) ماري.

ب- (.....) نينوى.

ج- (.....) طيبة.

انتهت الأسئلة، مع تمنياتنا لكم بالتوفيق والنجاح.



"نموذج إجابة "

امتحان الصف السابع

للعام الدراسي ١٤٣٦/١٤٣٧ هـ - ٢٠١٥/٢٠١٦ م

الفصل الدراسي الثاني - الدور الأول

المادة: الدراسات الاجتماعية

إجابة السؤال الأول (١٦ درجة)

رقم السؤال	١	٢	٣	٤	٥	٦	٧	٨
رقم الإجابة	د	ج	أ	د	ب	ا	د	ج
رقم صفحة	١٢	٢٧	١٥	٢٤	٢٢	٦٦	٤٦-٤٨	٥٩
الدرجة	٢	٢	٢	٢	٢	٢	٢	٢

إجابة السؤال الثاني (٨ درجات)

رقم السؤال	الجزئية	الإجابة	الدرجة	الصفحة
١	أ- ب-	<p>الظاهرة</p> <p>موقع حضارات بلاد الرافدين</p> <p>البحر الذي اجتازه الفينيقيين للوصول الى شاطئ افريقيا الشمالي</p> <p>الرقم الذي يشير اليه</p> <p>نهر النيل.</p>	٣ درجات لكل مفردة درجة	٥١ ٦٦-٦٨ ٣٨
-٢		<p>مشكلات الريف</p> <p>مشكلة الهجرة</p> <p>الزراعة</p> <p>تفتت الملكية الزراعية</p> <p>التصحر</p> <p>تغير نمط الاسرة</p> <p>المشكلات الاجتماعية</p> <p>تخلخل البناء الاجتماعي والاقتصادي</p> <p>ضعف الروابط الاجتماعية</p>	٣ درجات لكل مفردة درجة	٢١-١٨

(اي مشكلة من مشكلات الزراعة ووردت في الكتاب المدرسي وكتبها الطالب تعتبر اجابته صحيحة)

رقم السؤال	الجزئية	الإجابة	الدرجة	الصفحة						
٣-	أ- ب-	*الزراعة. <table border="1"> <tr> <td>الملك</td> <td>انجازاته</td> </tr> <tr> <td>خفرع</td> <td>تمثال ابو الهول</td> </tr> <tr> <td>تحتمس الثالث</td> <td>انتصر في معركة مجدو في فلسطين</td> </tr> </table>	الملك	انجازاته	خفرع	تمثال ابو الهول	تحتمس الثالث	انتصر في معركة مجدو في فلسطين	١	١٢
الملك	انجازاته									
خفرع	تمثال ابو الهول									
تحتمس الثالث	انتصر في معركة مجدو في فلسطين									
المجموع			٨ درجات	٤٨،٤٤						

إجابة السؤال الثالث (٨ درجات)

رقم السؤال	الجزئية	الإجابة	الدرجة	الصفحة									
١-		<table border="1"> <tr> <td>المقارنة</td> <td>مشكلة الازدحام والاختناقات المرورية</td> <td>التلوث والصحة</td> </tr> <tr> <td>الاسباب</td> <td>*تزايد عدد السكان وزيادة اعداد السيارات-عدم وجود نظام النقل العام.</td> <td>*النمو السريع للمدن.</td> </tr> <tr> <td>النتائج</td> <td>*الضغط على الطرق- زيادة الحوادث المرورية والوفيات- ضياع ساعات العمل-تأخر نقل البضائع.(يكتفى بواحد)</td> <td>*تلوث الهواء -تلوث المياه- ظهور الامراض.(يكتفى بواحد)</td> </tr> </table>	المقارنة	مشكلة الازدحام والاختناقات المرورية	التلوث والصحة	الاسباب	*تزايد عدد السكان وزيادة اعداد السيارات-عدم وجود نظام النقل العام.	*النمو السريع للمدن.	النتائج	*الضغط على الطرق- زيادة الحوادث المرورية والوفيات- ضياع ساعات العمل-تأخر نقل البضائع.(يكتفى بواحد)	*تلوث الهواء -تلوث المياه- ظهور الامراض.(يكتفى بواحد)	٤ درجات لكل جزئية درجة واحدة	٢٧-٢٩
المقارنة	مشكلة الازدحام والاختناقات المرورية	التلوث والصحة											
الاسباب	*تزايد عدد السكان وزيادة اعداد السيارات-عدم وجود نظام النقل العام.	*النمو السريع للمدن.											
النتائج	*الضغط على الطرق- زيادة الحوادث المرورية والوفيات- ضياع ساعات العمل-تأخر نقل البضائع.(يكتفى بواحد)	*تلوث الهواء -تلوث المياه- ظهور الامراض.(يكتفى بواحد)											
٢		*حمورابي	١	٥٦									
٣	أ	تركز الخدمات والصناعات في المدن-توافر فرص العمل- ارتفاع الدخل. (يكتفى بواحد)	١	١٨									
	ب	تربط بين التجمعات السكانية بالمدن-تربط مواقع الانتاج بأسواق الاستهلاك-تعد مؤشرا على التحضر في الدولة-ربط الدولة بالدول المجاورة. (يكتفى بواحد)(اي تعبير صحيح تعطى الدرجة كاملة)	١	٣٥									
	ج	لضخامة بنائها ومنظرها-براعة تصميمها. (يكتفى بواحد)	١	٤٣									
المجموع			٨ درجات										

إجابة السؤال الرابع

رقم السؤال	الجزئية	الإجابة	الدرجة	الصفحة
١	أ-	*ارسلت بعثة تجارية الى بلاد بونت (الصومال) واطراف الجزيرة العربية وعادت بالبضائع والسلع كالذهب واللبن وغيرها .	١	٤٧
	ب-	*تقدم علم الجغرافيا- الفلك- عرفوا الطرق البحرية- اكتشاف النجم القطبي- شيّدوا القلاع والابراج والمعابد-اقاموا مدنهم على المرتفعات- اهتموا بالصناعة والزراعة.	١	٦٧
٢	أ-	*قلل من عدد الايدي العاملة في الزراعة-هجرة سكان الريف الى المدن المجاورة بحثا عن العمل.	١	٢٣
	ب-	* قلدوا الفراعنة في اسمائهم وازيائهم وتقاليدهم -تكلّموا اللغة المصرية- اعتنقوا معتقداتهم الدينية.	١	٤٦
	ج-	*استنّجار غرفة واحدة-بناء مدن الاكواخ(بناء مساكن متواضعة بمواد غير ثابتة)-العيش والنوم على ارضة الشوارع والساحات العامة.	١	٢٧
٣	أ-	الامورية.	١	٦٢
	ب-	الاشورية.	١	٥٧
	ج-	المصرية.	١	٤٥
المجموع				٨ درجات

" انتهى نموذج الإجابة "