



امتحان الصف السادس
للعام الدراسي ١٤٣٦/١٤٣٧ هـ - ٢٠١٥/٢٠١٦ م
الفصل الدراسي الأول - الدور الثاني

- المادة: الدراسات الاجتماعية
- زمن الإجابة: ساعة ونصف
- عدد صفحات أسئلة الامتحان: (٤ صفحات).
- الإجابة في الورقة نفسها.

اسم الطالب	
المدرسة	
الصف	

(التوقيع بالاسم)	الدرجة بالحروف (بالأحمر)	الدرجة بالأرقام (بالأحمر)		السؤال
		عشرات	آحاد	
المصحح (بالأحمر)				١
المدقق (بالأخضر)				٢
				٣
				٤
	مراجعة الجمع والتشطيب (بالأزرق)	جمعه (بالأحمر)		المجموع
				المجموع الكلي

اجب عن جميع الأسئلة الآتية

السؤال الأول: (٦ درجات): ضع دائرة حول رمز الإجابة الصحيحة لكل مفردة من المفردات الآتية:

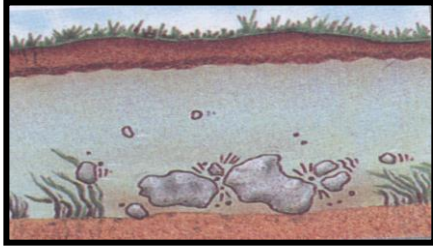
١-الصخور المكونة للقشرة الأرضية، مفهوم يطلق على الغلاف:

(أ)الغازي (ب)الصخري (ج)المائي (د)الحيوي

٢- تقع جبال الهملايا في قارة:

(أ)أوروبا (ب)أفريقيا (ج)أستراليا (د)آسيا

٣-العملية التي يقوم بها التيار المائي، والتي تظهر في الشكل المقابل، هي.....



(أ) النقل (ب) النحت
(ج) الإرساب (د)النقل والإرساب

٤- مؤسس الإمامة الأولى في عمان، عام ١٣٢ هـ، هو.....

(أ)الوارث بن كعب (ب)محمد بن أبي عفان (ج) الجلندي بن مسعود (د)عزان بن تميم




٥-يعتبر الجامع الأزهر من المعالم الحضارية للدولة

(أ) الفاطمية (ب) الرستمية (ج)الأموية (د)العباسية

٦-الغاز الذي يمثل أعلى نسبة في الغلاف الجوي هو:

(أ)الأكسجين (ب) الأرجون (ج)ثاني أكسيد الكربون (د) النيتروجين

٧- أي من الأشكال الآتية تشير إلى الرمز المستخدم في النشرة الجوية لتوضيح أمطار رعدية :



(د)

(ج)

(ب)

(أ)

تابع السؤال الأول:

٨- تعرضت السلطنة لإعصار جونو، في عام:

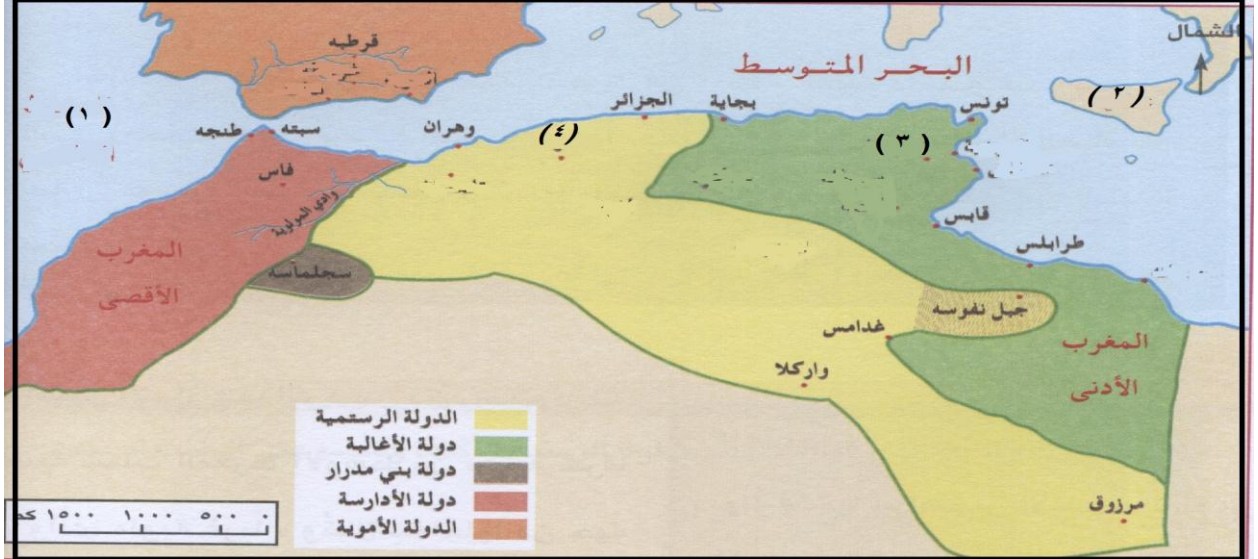
- (أ) ٢٠٠٥م (ب) ٢٠٠٦م (ج) ٢٠٠٧م (د) ٢٠٠٨م

السؤال الثاني: أجب عن الأسئلة التالية: (٨ درجات)

أولاً: أكتب اسم المصطلح الدال على كل عبارة من العبارات التالية، بين القوسين:

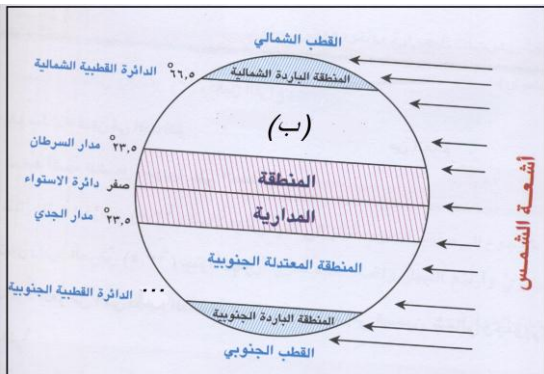
- ١- (.....) هزات أرضية قصيرة سريعة متتالية تضرب سطح الأرض.
- ٢- (.....) إندفاع المادة المنصهرة والمفتتات الصخرية والرماد و الغازات الحارة من باطن الأرض عبر شقوق في القشرة الأرضية.
- ٣- (.....) المكان الذي يبدأ عنده النهر ويقع في منطقة جبلية مرتفعة.

ثانياً: انظر إلى الخارطة التي أمامك، ثم أجب عن الأسئلة التي تليها:



- ١- ما الرقم الذي يشير الى موقع مدينة تاهرت عاصمة الدولة الرستمية؟.....
- ٢- ما الرقم الذي يشير الى الجزيرة التي فتحها الأغالبة في البحر المتوسط؟.....
- ٣- أكتب على الخريطة اسم عاصمة دولة الأغالبة والمشار إليها بالرقم (٣)
- ٤- أذكر أسم المسطح المائي المشار اليه بالرقم (١)؟.....

ثالثاً: أنظر للشكل الذي يوضح المناطق الحرارية في العالم ثم أجب عن الأسئلة التي تليها:



- ١- المنطقة الحرارية المشار إليها بالرمز (ب)، تعرف باسم.....
- ٢- درجة دائرة العرض التي تقع عندها المنطقة القطبية الجنوبية، هي..... جنوباً
- ٣- نوع الأشعة الساقطة على مدينة مسقط في فصل الصيف: (مائلة --- عمودية) اختر الإجابة الصحيحة

السؤال الثالث: (٨ درجات) أجب عن الأسئلة التالية:
أولاً: صنف الأشكال التالية إلى أشكال نحت وإشكال إرساب:
(اللسان الرملي- القنطرة – الموائد الصحراوية- السهل الفيضي)


أشكال نحت	أشكال إرساب

ب- أذكر عملا واحدا لكل من الشخصيات الآتية:

- ١- جابر بن زيد.....
- ٢- سلمة بن سعد.....
- ٣- محمد بن نور.....

ثالثا: ١- سمي الأشكال التي أمامك:

- أ-.....
- ب-.....



٢- ما أهميتها بالنسبة لمحطات الرصد الجوي؟

.....

٣- كيف يؤثر الطقس على حياتك اليومية في فصل الصيف؟

.....

السؤال الرابع:

أولاً:


أدرس الصورة التي أمامك ثم أجب عن الأسئلة

التي تليها:

١- ما المشكلة الموضحة في الصورة؟.....

٢- اذكر الحلول التي قامت بها السلطنة لمواجهة

هذه المشكلة؟.....



شاطئ الخابورة

ثانياً:

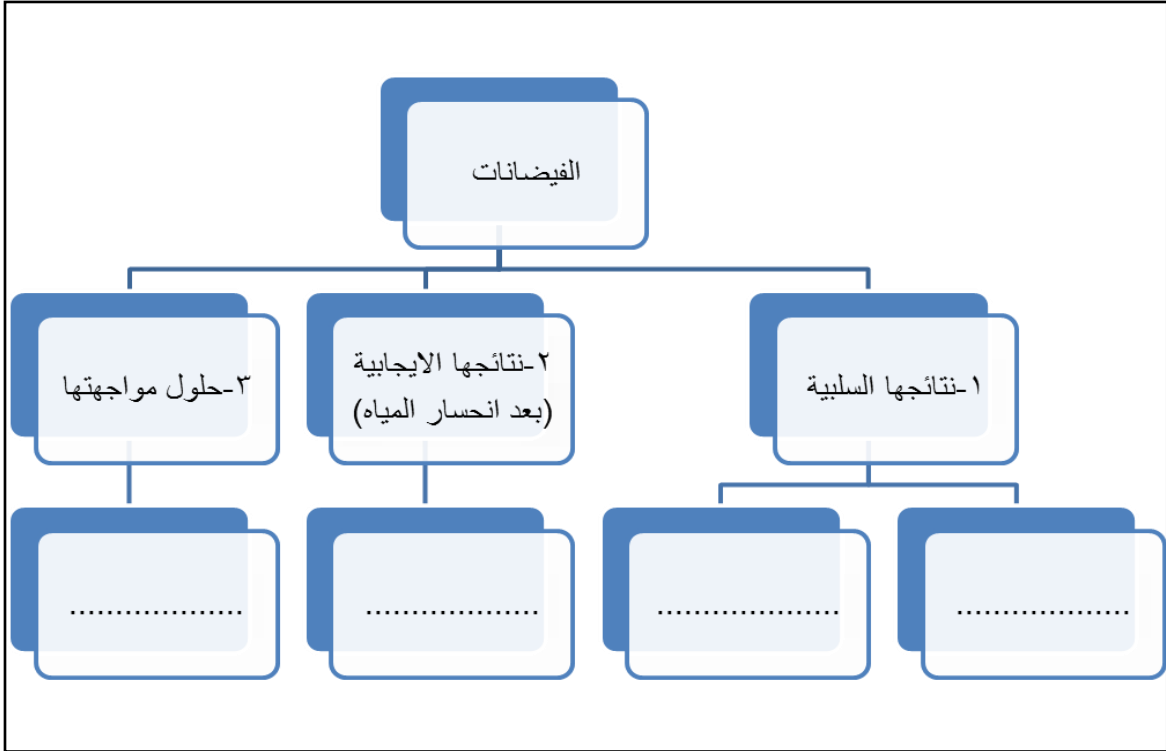
(١) أذكر سبب واحد لكل من:

أ- استمرار وجود دول الطواف في الاندلس لمدة زمنية طويلة؟

ب -ضعف الإمامة في عمان في عهد عزان بن تميم؟

(٢) اذكر نتيجة الاستقرار والازدهار الاقتصادي في عهد الدولة الرستمية:

ثالثاً: من خلال دراستك للفيضانات أكمل المخطط التالي:



انتهت الأسئلة، مع تمنياتنا لكم بالتوفيق والنجاح.



المديرية العامة للتربية والتعليم

بمحافظة الشرقية جنوب

نموذج إجابة الامتحان النهائي لمادة الدراسات الاجتماعية للصف السادس

للعام الدراسي ١٤٣٦/١٤٣٧ هـ - ٢٠١٥/٢٠١٦ م

الدور الثاني

- الفصل الدراسي الأول

• الدرجة الكلية ٤٠ درجة

• المادة: الدراسات الاجتماعية

• تنبيه: الإجابة في (٤) صفحات.

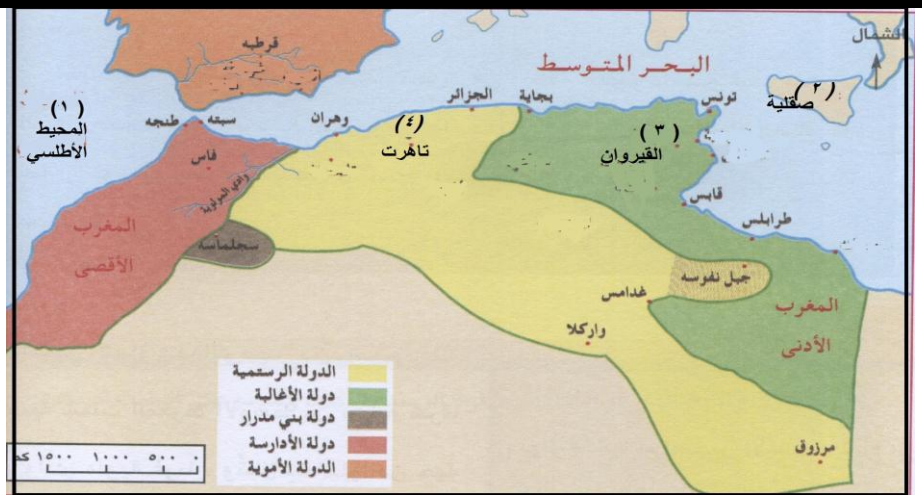
أولاً: - إجابة السؤال الموضوعي

الدرجة الكلية ١٦ درجة		إجابة السؤال الأول لكل مفردة درجتان	
الصفحة	الدرجة	البديل الصحيح	المفردة
١٥	درجتان	(ب) الصخري	١
٢٥	درجتان	(د) آسيا	٢
٣٢	درجتان	(ب) النحت	٣
٦٦	درجتان	(ج) الجلندی بن مسعود	٤
٨٦	درجتان	(أ) الفاطمية	٥
٩٤	درجتان	(د) النيتروجين	٦
١٢٥	درجتان	 (ب)	٧
١٢٠	درجتان	(ج) ٢٠٠٧	٨

مجموع الدرجات ٢ × ٨ = ١٦ درجة

يتبع ص ٢

الدرجة الكلية ٨ درجات			إجابة السؤال الثاني		
١٦	٣ درجات		١- الزلازل	أ	أولا
٢١	لكل مفردة		٢- البراكين		
٣٠	درجة		٣- المنبع		
٧٦	٢ لكل مفردة نصف درجة		١- رقم ٤ مدينة تاهرت ٢- رقم ٢ جزيرة صقلية ٣- القيروان ٤- المحيط الأطلسي		ثانيا



١٠٣	٣ درجات لكل مفردة درجة	المعتدلة الشمالية	-١	ثالثا
		٦٦,٥	-٢	
		عمودية	-٣	

الدرجة الكلية ٨ درجات		إجابة السؤال الثالث		
الصفحة	الدرجة	الإجابة الصحيحة	المفردة	الجري
٤٦-٤١	درجتان لكل جزئية	أشكال النحت: القنطرة، الموائد الصحراوية	١-	أولا
٣٨-٤٢	نصف درجة	إشكال الإرساب: اللسان الرملي، السهل الفيضي		
٦٣	٣ درجات لكل	١- مؤسس المذهب الإباضي	١	ثانيا
٧١	مفردة درجة	٢- نشر المذهب الإباضي في المغرب		
٨٦		٣- دخل نزوى وأكثر من القتل والإفساد أو أعاد عمان لسيطرة الدولة العباسية		
١٢٣	درجة واحدة لكل جزئية نصف درجه	الأقمار الاصطناعية	أ-	ثالثا (١)
		البالونات	ب-	
١٢٣	درجة واحدة	تجميع بيانات الطقس	-	(٢)
١٢١	درجة واحدة	يلبس الناس الملابس الخفيفة / وترتفع نفقات الكهرباء بسبب تشغيل أجهزة التكييف والتبريد في المنازل والمكاتب والمحلات والمصانع	-	(٣)

الدرجة الكلية ٨ درجات		إجابة السؤال الرابع		
الصفحة	الدرجة	الإجابة الصحيحة	المفردة	الجريئة
٤٣	درجة واحدة	تآكل الشواطئ	أ-	أولا
٤٣	درجة واحدة	إنشاء كواسر الأمواج أو السدود	ب-	
٥٩	درجة	بفضل المساعدة التي قدمها المرابطون ثم الموحدون الذين قدموا من المغرب ودخلوا الأندلس، وانزلوا بالاسبان هزائم متعددة.	أ-	ثانيا (١)
٧٠	درجة	نتيجة لاختلاف القبائل العمانية فيما بينها، فطلب بعضها معونة من الدولة العباسية.	ب-	
٨١	درجة	تطور الحضارة الإسلامية/ انتشار التعريب بين قبائل البربر/ انتشار العلم/ أقبال الناس على تشييد القصور والمباني الفخمة/ انتشار الإسلام في أقاليم المغرب والسودان. (يكتفى بذكر نتيجة واحدة)	-	(٢)
١٣٦-	درجة لكل	النتائج السلبية: تدمير القرى والمدن/ قطع طرق المواصلات/ تدمير الثروة الحيوانية / خسائر في الارواح / تلف المحاصيل.(يكتفى بذكر اثنان)	١-	ثالثا
١٤٠	جزئية نصف درجة	النتائج الإيجابية : تجديد خصوبة التربة أو تكوين طبقة من الطمي	٢-	
	درجة	بناء السدود	٣-	
	درجة			

انتهت الإجابة

