

بِسْمِ اللَّهِ الرَّحْمَنِ الرَّحِيمِ
" رَبِّ اجْعَلْ لِي صَدْرِي وَيَسِّرْ لِي أَمْرِي "



المديرية العامة للتربية والتعليم لمحافظة الظاهرة
دائرة التقويم التربوي


امتحان نهاية الفصل الدراسي الأول - الدور الثاني - العام الدراسي ٢٠١٥ / ٢٠١٦ م

الصف : الخامس	المادة : الدراسات الاجتماعية	الزمن : ساعة ونصف	الدرجة : ٤٠
---------------	------------------------------	-------------------	-------------

تثبيته :

- الأسئلة في (٥) صفحات .
- الإجابة في نفس الورقة .

رقم السؤال	الدرجة بالأرقام	الدرجة بالحروف	اسم المصحح	توقيعه
الأول				
الثاني				
الثالث				
الرابع				
المجموع الكلي				



اسم الطالب /

الصف / الشعبة ()

المدرسة /

السؤال الأول (١٦ درجة) : ضع دائرة حول الرمز الدال على الإجابة الصحيحة من بين البدائل

المعطاة :-



١- يمثل الشكل أحد الكثران الرملية هو الكثيرب:

(أ) الطولي (ب) الهالي

(ج) النجمي (د) العكسي

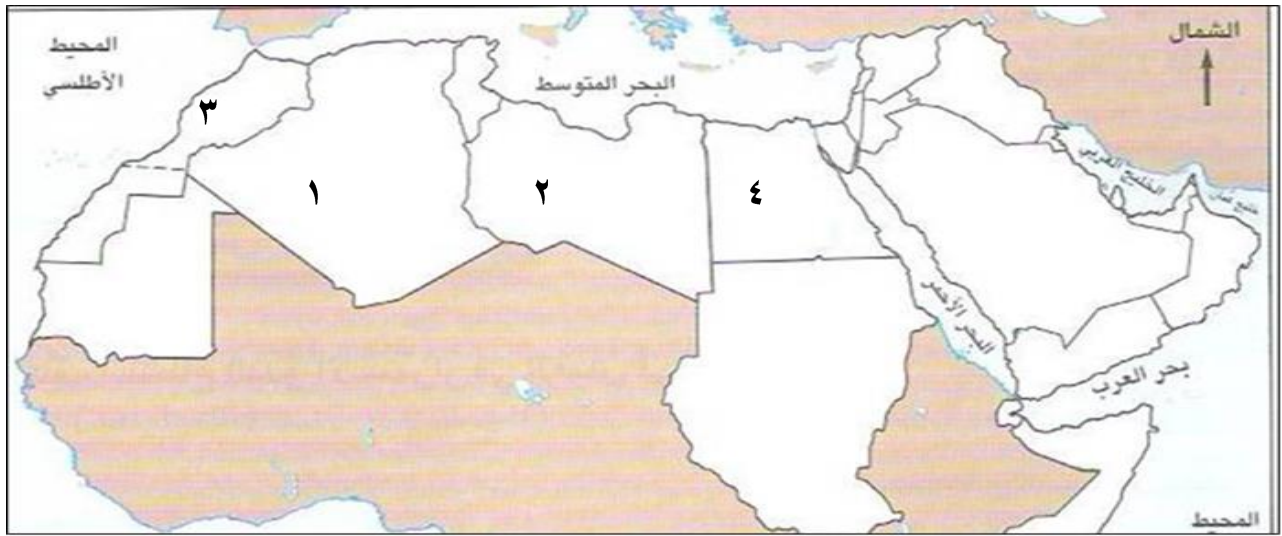
٢- كانت الديانة السائدة بين العرب قبل الإسلام:

(أ) اليهودية (ب) النصرانية (ج) الوثنية (د) الحنيفية

٣- أعلى قمة جبلية في الوطن العربي قمة جبل:

(أ) الأسود (ب) الأخضر (ج) مرة (د) طبقال

٤- الرقم الذي يشير الى ليبيا في الخريطة:



(أ) ١ (ب) ٢ (ج) ٣ (د) ٤

٥- صلح الحديبية بين المسلمين والمشركون كان عام:

(أ) ٣ هـ (ب) ٤ هـ (ج) ٥ هـ (د) ٦ هـ

٦- يطلق على الأراضي المنبسطة قليلة الانحدار التي ترتفع عما يجاورها من أراضي:

(أ) السهول (ب) الهضاب (ج) الجبال (د) الوديان

تابع السؤال الأول:

٧- المشكلة التي تتعرض لها النباتات الطبيعية في الصورة

المقابلة:



- (أ) الرعي الجائر
(ب) الحرائق
(ج) قطع الأشجار
(د) الزراعة غير المنتظمة

٨ - تبلغ مساحة الوطن العربي حوالي:

- (أ) ١٢ ملايين كيلومتر مربع
(ب) ١٣ ملايين كيلومتر مربع
(ج) ١٤ ملايين كيلومتر مربع
(د) ١٥ ملايين كيلومتر مربع

السؤال الثاني : أجب عن الأسئلة التالية (٨ درجات):

١- ضع الدول التالية حسب الامبراطوريات التي كانت تسيطر عليها :

(شمالى أفريقيا - مصر - العراق - الشام)

الامبراطورية الرومانية	الامبراطورية الفارسية

٢- ضع المصطلحات التالية في أماكنها الصحيحة:

(الجروف الصخرية - السلسلة الجبلية - الدلتا)

(أ) الجبال المتصلة ببعضها البعض

(ب) أراضي رسوبية عند مصبات الأودية

(ج) الحافة الصخرية التي تواجه البحر مباشرة

تابع السؤال الثاني:

٣) أ - أذكر اثنين لكل من:

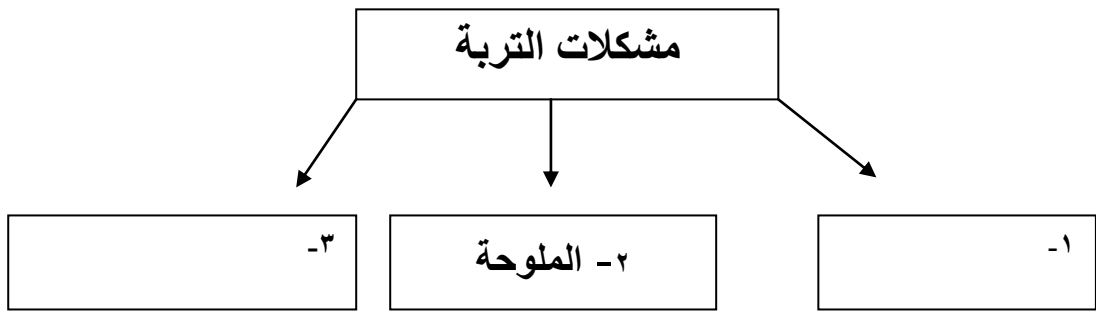
١) أهم السلع التي كان يتاجر بها الأحباش ؟

.....

٢) أهمية المسجد بالنسبة للمسلمين ؟

.....

ب - أكمل المخطط التالي:

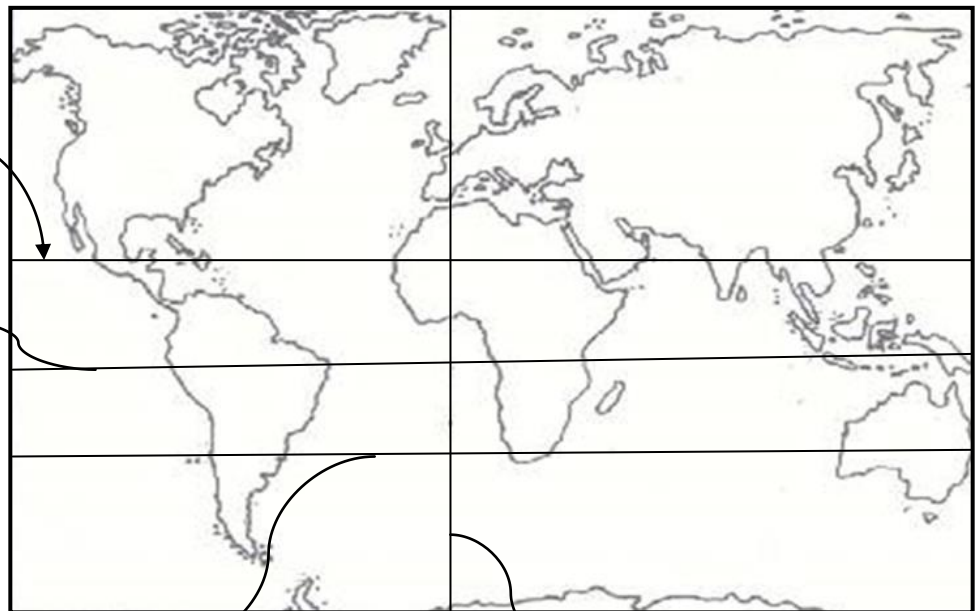


السؤال الثالث : أجب عن الأسئلة التالية (٨ درجات) :

١) أمامك خريطة العالم أكتب عليها أسماء دوائر العرض وخط الطول في أماكنها الصحيحة.

(دائرة الاستواء) - (مدار الجدي) - (خط غرينتش) - (مدار السرطان) .

.....

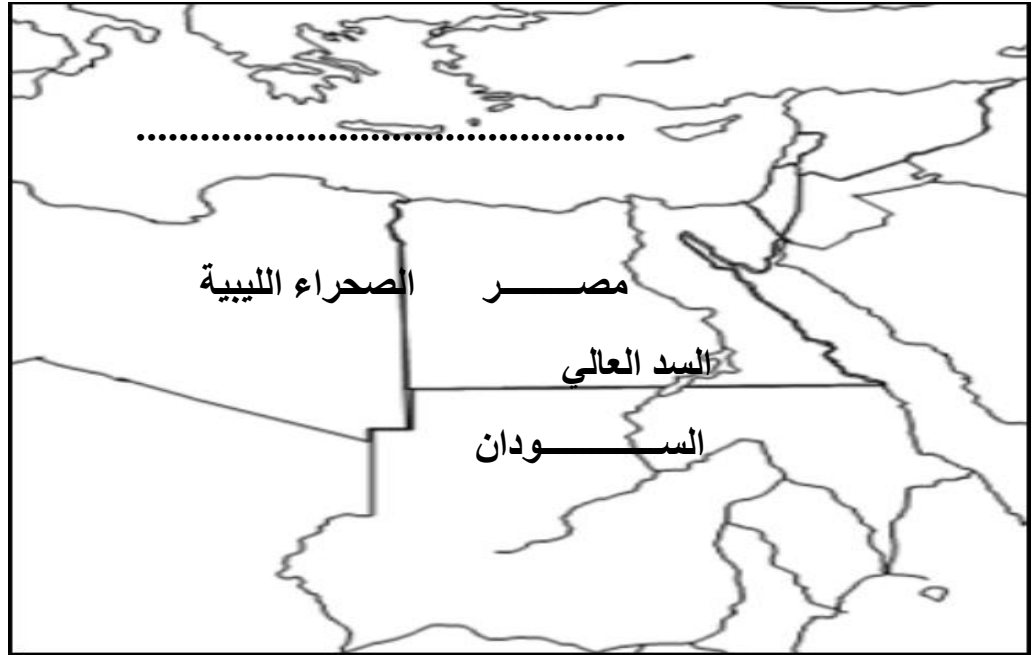


.....

.....

.....

٢) أمامك خريطة لجمهورية مصر العربية ادرسها جيد ثم أجب عما يلي:



أ) استخراج من الخريطة ما يلي:

١) دولة تقع جنوب مصر؟

٢) صحراء تقع غرب مصر؟

ب) اكتب على الخريطة اسم مصب نهر النيل .

ج) وضح أهمية إقامة السد العالي على نهر النيل ؟

.....

.....

٣) تألف مجتمع المدينة عند هجرة الرسول صلى الله عليه وسلم إليها من مجموعة من الطوائف.

منهم المسلمون يتألفون من طائفتين اذكرهما ؟

أ -

ب -

تابع امتحان نهاية الفصل الدراسي الأول - الدور الثاني - الدراسات الاجتماعية - الصف الخامس - العام الدراسي ٢٠١٥ / ٢٠١٦ م

السؤال الرابع : أجب عن الأسئلة التالية (٨ درجات)

(١) أ - اشتهرت مكة قبل الإسلام بأنها مدينة تجارية مهمة وكان لها رحلتان مشهورتان أذكرهما ؟

.....(١).....(٢).....

ب (فسر:

(١) تسمية العام الذي ولد فيه الرسول صلى الله عليه وسلم بعام الفيل ؟

.....
.....

(٢) يسود المناخ الموسمي في محافظة ظفار ؟

.....
.....

(٢) تمثل الصورة التي أمامك طبيعة الحياة البدوية. تأملها جيدا ثم أجب عما يلي :



(أ) حدد نوع المسكن الذي يعيش فيه البدو؟

.....

(ب) استنتج المهنة الذي اشتغل عرب البادية فيها ؟

.....

.....

(٣) فرق بين الطقس والمناخ ؟

.....

.....

،، انتهت الأسئلة مع تمنياتنا للجميع بالتوفيق والنجاح ،،

سلطنة عمان
وزارة التربية والتعليم
المديرية العامة للتربية والتعليم لمحافظة الظاهرة
دائرة التقويم التربوي

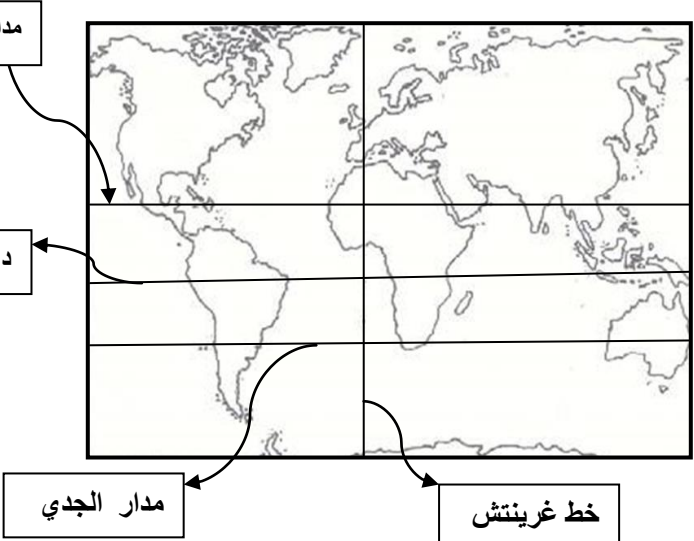

{ نموذج الإجابة لامتحان الدراسات الاجتماعية للصف الخامس ٢٠١٥ / ٢٠١٦ م }

السؤال الأول : اختيار من متعدد ١٦ درجة (لكل مفردة درجتان)

رقم المفردة	الرمز الصحيح	الكلمة الصحيحة	رقم الصفحة	الدرجة
١	ب	الهالي	٣٧	٢
٢	ج	الوثنية	٧٣	٢
٣	د	طبقال	٢٧	٢
٤	ب	٢	١٣	٢
٥	د	٥٦هـ	٨٩	٢
٦	ب	الهضاب	٣١	٢
٧	أ	الرعي الجائر	٦٣	٢
٨	ج	١٤ مليون	١٤	٢

الدرجة	الصفحة	الاجابة									
درجتان لكل مفردة نصف درجة واحدة	٧٩ - ٧٥	-١									
		<table border="1" style="width: 100%;"> <tr> <td style="width: 50%; text-align: center;">الامبراطورية الرومانية</td> <td style="width: 50%; text-align: center;">الامبراطورية الفارسية</td> </tr> <tr> <td style="text-align: center;">مصر</td> <td style="text-align: center;">العراق</td> </tr> <tr> <td style="text-align: center;">الشام</td> <td style="text-align: center;">_____</td> </tr> <tr> <td style="text-align: center;">شمالي أفريقيا</td> <td style="text-align: center;">_____</td> </tr> </table>	الامبراطورية الرومانية	الامبراطورية الفارسية	مصر	العراق	الشام	_____	شمالي أفريقيا	_____	
		الامبراطورية الرومانية	الامبراطورية الفارسية								
		مصر	العراق								
الشام	_____										
شمالي أفريقيا	_____										
٣ درجات لكل	٢٧	٢- أ) السلسلة الجبلية. ب) الدلتا. ج) الجروف الصخرية.									
مفردة درجة	٢٣										
واحدة	٢٠										
درجة واحدة	٨٢	٣- أ) ١- الذهب والعاج والمر والبخور والعبيد (يكتفي باثنين فقط).									
درجة واحدة	٨٧	٢- العبادة وتعليم القراءة والكتابة وتفسير القرآن والاستماع لأحاديث رسول الله (يكتفي باثنين فقط) .									
درجة واحدة لكل مفردة نصف درجة	٦١	(ب)									
		<table border="1" style="margin: auto;"> <tr> <td colspan="3" style="text-align: center;">مشكلات التربة</td> </tr> <tr> <td style="text-align: center;">↓</td> <td style="text-align: center;">↓</td> <td style="text-align: center;">↓</td> </tr> <tr> <td style="text-align: center;">تدهور خصوبة التربة</td> <td style="text-align: center;">_____</td> <td style="text-align: center;">الانجراف</td> </tr> </table>	مشكلات التربة			↓	↓	↓	تدهور خصوبة التربة	_____	الانجراف
مشكلات التربة											
↓	↓	↓									
تدهور خصوبة التربة	_____	الانجراف									

يتبع ،،

الدرجة	الصفحة	الاجابة
درجتان لكل مفردة نص درجة واحدة	١١	<p>(١)</p>  <p>١ - السودان . ٢ - الصحراء الليبية.</p>
درجة واحدة	١٣	
درجة واحدة	٢٦	
درجة واحدة	٢٦ - ٢٣	<p>(ج)</p> 
درجة واحدة	٢٦	<p>(د) أهمية السودان للأغراض الزراعية والصناعية والمدن (يكتفى بواحدة).</p>
درجتان لكل مفردة درجة واحدة	٨٦	<p>٣ - أ) المهاجرين . ب) الأنصار</p>

نموذج اجابة السؤال الرابع (٨ درجات)

الدرجة	الصفحة	الاجابة
درجتان لكل مفردة درجة واحدة	٧٠	١- أ) ١- رحلة الصيف الى بلاد الشام . ٢- رحلة الشتاء الى بلاد اليمن.
درجة واحدة	٨٣	ب) ١- سبب حملة أبرهة الحبشي لغزو مكة وهدم الكعبة والسيطرة على على تجارة مكة وتحويل حج العرب الى كنيسة القليس التي بناها في صنعاء ولكن اللهأفشل هذه الحملة كما وردت في سورة الفيل وفي عام الحملة ولد رسول الله لذلك يقال ولد في عام الفيل (أو ما يفيد المعنى). ٢) بسبب الرياح الموسمية الجنوبية الغربية في فصل الصيف.
درجة واحدة	٥١	
درجة واحدة	٦٨	٢ - أ) الخيام أوبيوت من الشعر .
درجة واحدة	٦٨	ب) رعي الجمال والأغنام واقتنوا الخيل واعتنوا بها.
درجتان لكل مفردة درجة واحدة	٤١	٣) الطقس:حالة الجو لفترة زمنية قصيرة لاتتجاوز عدة أيام فقط وهو ما نلاحظه من مطر أو سحب أو ما نحس به من برودة أو حرارة أوريح. المناخ: متوسط حالة الجو لفترة زمنية طويلة قد تكون شهرا أو فصلا أو سنة أو أكثر.

نهاية النموذج