



امتحان الصف الحادي عشر  
للعام الدراسي ١٤٣٧/١٤٣٨ هـ - ٢٠١٦/٢٠١٧ م  
الدور الأول - الفصل الدراسي الثاني

- المادة: الحاسوب في الاتصالات والأعمال التجارية
- زمن الإجابة: ساعتان
- عدد صفحات اسئلة الامتحان: (٦).
- الإجابة في الورقة نفسها.

اسم الطالب	
المدرسة	
الصف	

(التوقيع بالاسم)		الدرجة بالحروف (بالأحمر)	الدرجة بالأرقام (بالأحمر)		السؤال
المدقق (بالأخضر)	المصحح (بالأحمر)		عشرات	آحاد	
					١
					٢
					٣
					٤
					٥
					٦
مراجعة الجمع والتشطيب (بالأزرق)	جمعه (بالأحمر)				المجموع
				٣٠	المجموع الكلّي

(١)  
امتحان الصف الحادي عشر  
للعام الدراسي ١٤٣٧/١٤٣٨ هـ - ٢٠١٦/٢٠١٧ م  
الدور الأول - الفصل الدراسي الثاني  
المادة: الحاسوب في الاتصالات والأعمال التجارية

أجب عن جميع الأسئلة الآتية

٨

السؤال الأول: ضع دائرة حول رمز الإجابة الصحيحة لكل مفردة من المفردات الآتية:

(١) تطبيقات تستخدم في طباعة الوثائق المختلفة كالرسائل والتقارير وتمكنك من دمج المراسلات والتدقيق الإملائي واللغوي ومن البحث والاستدلال هي :

(أ) معالجة النصوص Word Processing.

(ب) الرسوم الجرافيكية Graphic Applications.

(ج) الجداول الحسابية Spreadsheet.

(د) تطبيقات المشاركة Groupware.

(٢) تعتبر الواجهة التي يتعامل ويتفاعل معها المستخدم في قواعد البيانات، ويستخدمها في إدخال البيانات وعرضها بصورة منظمة ومنسقة :

(أ) الجداول . (ب) النماذج . (ج) الاستعلامات . (د) التقارير.

(٣) وظيفة كاتب سجلات طبية بالمستشفى من الوظائف المرتبطة بقواعد البيانات ويصنف على أنه:

(أ) محلل النظم. (ب) مصمم قاعدة البيانات.

(ج) مدير قاعدة البيانات. (د) المستخدمون.

(٤) من خطوات التخطيط للمشروع، ويتضمن تحديد الطرق التي يمكن بها تنفيذ المشروع هو :

(أ) التعريف بالمشروع. (ب) تعريف مهام المشروع.

(ج) تحديد موارد المشروع. (د) تحديد ميزانية المشروع.

(٥) الأداة التي يمكنك من خلالها تحديد جهة التفاف النص بالنسبة للكائن في المستند تسمى :

(أ) Clip Art (ب) Position

(ج) Text Wrapping (د) Arrange

( ٢ )

تابع امتحان الصف الحادي عشر  
للعام الدراسي ١٤٣٧/١٤٣٨ هـ - ٢٠١٦/٢٠١٧ م  
الدور الأول - الفصل الدراسي الثاني  
المادة: الحاسوب في الاتصالات والأعمال التجارية

تابع السؤال الأول:

(٦) مرحلة من مراحل إنتاج عرض الوسائط المتعددة يتم فيها " وضع تصور نهائي للمنتج " هي مرحلة :

(أ) بناء الخطة . (ب) البدء في الإنتاج . (ج) تجربة المنتج . (د) المراجعة الأخيرة .

(٧) من المنظمات التخطيطية التي تستخدم الأشكال الهندسية لتوضيح المهام المتتابعة للوصول إلى منتج معين سواء أسلعة كان أو خدمة هي :

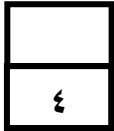
(أ) مخططات المقارنة . (ب) الخرائط الذهنية .

(ج) المنظمات التخطيطية الهرمية . (د) خرائط التدفق .

(٨) رسالة رسمية يتم إرفاقها مع السيرة الذاتية وتهدف إلى إظهار الشخصية الإيجابية للمتقدم وحماسته للوظيفة تسمى :

(أ) رسالة توصية . (ب) رسالة التغطية .

(ج) رسالة شكر . (د) الملف المهني .



السؤال الثاني: أكمل العبارات الآتية بالكلمات المناسبة:

(١) سلسلة من النشاطات والفعاليات المعقدة والمتصلة لها هدف معين ويتوجب إنجازه خلال فترة

زمنية محددة هو.....

(٢) يعتبر مفتاح النجاح في إدارة الوقت ويساعد في التركيز على الأمور الأكثر أهمية مما يترك

متسعا للإبداع هو.....

(٣) عبارة عن مواقع ويب تتيح إمكانية مشاركة أي زائر للموقع في كتابة وتحرير مستندات

ومقالات وعادة ما يكون ذلك بدون قيود هي.....

(٤) جانب من الجوانب الرئيسية التي يجب مراعاتها عند تصميم المنتج ويهدف لجذب المستهدفين

هو.....

( ٣ )

تابع امتحان الصف الحادي عشر  
للعام الدراسي ١٤٣٧/١٤٣٨ هـ - ٢٠١٦/٢٠١٧ م  
الدور الأول - الفصل الدراسي الثاني  
المادة: الحاسوب في الاتصالات والأعمال التجارية

السؤال الثالث:

٤

محمد صاحب مطعم المؤكلات العربية، حيث يقدم الوجبات الرئيسية الثلاثة لزبائنه بنظام البوفيه ( فطور - غداء - عشاء )، قام بتصميم نموذج للحجز باستخدام برنامج MS-Excel ليساعده في تسهيل أعماله.  
ادرس الشكل المقابل لاستكمال منطقة الحسابات وذلك بكتابة الصيغ المناسبة في الخلايا الآتية :

E	D	C	B	A	
نموذج فاتورة مطعم المؤكلات العربية					1
					2
				التاريخ:	3
				عدد الزبائن:	4
					5
		السعر بالريال للزبون	نوع البوفيه		6
		5	بوفيه إفطار		7
		10	بوفيه غداء		8
		12	بوفيه عشاء		9
					10
		السعر بالريال	الطلبات الإضافية		11
		2	عصير طازج		12
		0.4	مشروب غازي		13
		0.2	مياه معدنية		14
					15
منطقة الحسابات ( العمليات الحسابية )					16
		التكلفة للزبون	حساب الطلبات الإضافية	حساب نوع البوفيه	17
	عدد الزبائن	التكلفة الاجمالية			18

( ١ ) D18 لإظهار عدد الزبائن: .....

( ٢ ) A18 لإظهار حساب نوع البوفيه (معتمدا على رمز \* لاختيار نوع البوفيه):  
.....

( ٣ ) C18 لحساب التكلفة للزبون الواحد: .....

( ٤ ) E18 لحساب التكلفة الإجمالية لأكثر من زبون بنفس الطلب: .....

( ٤ )

تابع امتحان الصف الحادي عشر  
للعام الدراسي ١٤٣٧/١٤٣٨ هـ - ٢٠١٦/٢٠١٧ م  
الدور الأول - الفصل الدراسي الثاني  
المادة: الحاسوب في الاتصالات والأعمال التجارية

٥

السؤال الرابع:

(١) عبدالله مهندس يعمل في شركة استشارات هندسية، تم تكليفه بتصميم عرض بياني يوضح الخط الزمني لمشروع بناء منزل والذي سيبدأ العمل به بداية شهر ٦/٢٠١٧م، من خلال دراستك لموضوع إدارة المشاريع استعن بالشكل التالي ثم أجب عما يلي:

الخط الزمني لمشروع بناء منزل

المهمة	6/2017	7/2017	8/2017	9/2017	10/2017	11/2017	12/2017
المهمة 6							
المهمة 5							
المهمة 4							
المهمة 3							
المهمة 2							
المهمة 1							

أ- اذكر مثالا على أحد التطبيقات المستخدمة في إدارة المشاريع.

.....

ب- ما هي المدة الزمنية التي استغرقها إنجاز المشروع.

.....

ج- ما المهمتان اللتان بدأتا في نفس الفترة.

.....

(٢) اذكر أربعة من مميزات استخدام أنظمة إدارة قواعد البيانات.

.....

.....

.....

.....

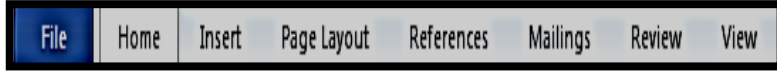
( ٥ )

تابع امتحان الصف الحادي عشر  
للعام الدراسي ١٤٣٧/١٤٣٨ هـ - ٢٠١٦/٢٠١٧ م  
الدور الأول - الفصل الدراسي الثاني  
المادة: الحاسوب في الاتصالات والأعمال التجارية

٥

السؤال الخامس:

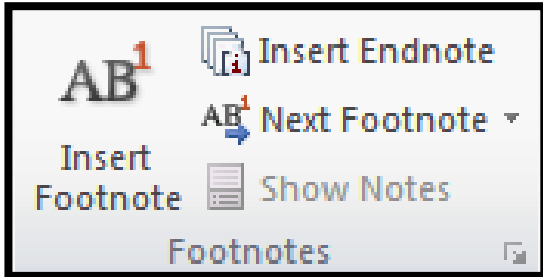
يوفر برنامج word عدة خصائص على النصوص الواردة في المستند، استعن بالأشكال  
الموضحة للإجابة عن الأسئلة الآتية :



(١) في أي علامة من علامات  
التبويب تظهر ( إدراج  
التعليقات أو حذفها ).

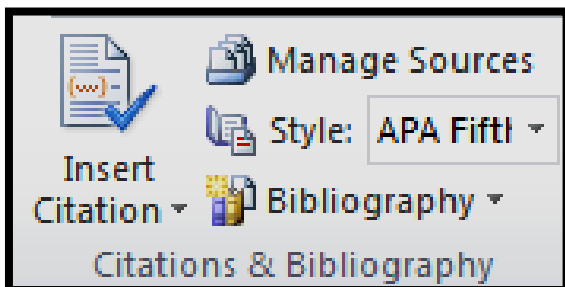
.....  
.....

(٢) عند العمل في المستند، اذكر خاصيتين يمكنك من إظهارها المجموعة المبينة في الشكل  
المقابل.



.....  
.....  
.....  
.....  
.....

(٣) من خلال الشكل الآتي اذكر خطوات عمل قائمة مراجع في مستند word .



.....  
.....  
.....  
.....  
.....

(٦)

تابع امتحان الصف الحادي عشر  
للعام الدراسي ١٤٣٧/١٤٣٨ هـ - ٢٠١٦/٢٠١٧ م  
الدور الأول - الفصل الدراسي الثاني  
المادة: الحاسوب في الاتصالات والأعمال التجارية

السؤال السادس:

٤

إن نجاح المؤسسات وقدرتها على المنافسة في سوق متنام يرجعان إلى مجموعة من العوامل منها تنظيم موقع العمل، والتعاون بين الموظفين، والمشاركة فيما بينهم في تنفيذ المهام، وتطبيق تطبيقات المشاركة تسهيل العمل الجماعي.

من خلال دراستك لموضوع العمل في مؤسسات الأعمال وتطبيقات المشاركة أجب عن الأسئلة الآتية:

(١) ما المقصود بمصطلح العمل بالقطعة .

.....  
.....

(٢) تعتبر مهارة الإقناع من المهارات التي ينبغي أن يمتلكها أعضاء فريق العمل، وضح ذلك.

.....  
.....

(٣) قارن بين كل من المنتديات ومجموعات الأخبار والقوائم البريدية، من حيث المفهوم والبرامج المستخدمة لكل منهما مستعينا بالجدول الآتي:

وجه المقارنة	المنتديات	مجموعات الأخبار والقوائم البريدية
المفهوم	..... ..... .....	..... ..... .....
البرامج المستخدمة	..... ..... .....	..... ..... .....

انتهت الأسئلة، مع تمنياتنا لكم بالتوفيق والنجاح.



نموذج إجابة امتحان الصف الحادي عشر  
للعام الدراسي ١٤٣٧/١٤٣٨ هـ - ٢٠١٦/٢٠١٧ م  
الدور الأول - الفصل الدراسي الثاني

المادة: الحاسوب في الاتصالات والاعمال التجارية الدرجة الكلية: ( ٣٠ ) درجة  
تبنيه: نموذج الإجابة في (٤) صفحات

أولاً: إجابة السؤال الموضوعي:-

الدرجة: ( ٨ ) درجات			إجابة السؤال الأول		
المخرج التعليمي	الصفحة	الدرجة	الإجابة	البديل الصحيح	المفردة
١/٣	٩٥	١	معالجة النصوص Word Processing	أ	١
١/٣	١١١	١	النماذج.	ب	٢
٤/٣	١٢٦	١	المستخدمون.	د	٣
١/٣	١٤٤	١	التعريف المشروع.	أ	٤
٥/٤	١٦٣	١	Text Wrapping	ج	٥
٢/٤	١٥٤	١	بناء الخطة.	أ	٦
٢/٤	١٧٨	١	خرائط التدفق.	د	٧
٢/٤	١٨٨	١	رسالة التغطية.	ب	٨
٨ درجات			المجموع		



(٢)

تابع نموذج إجابة امتحان الصف الحادي عشر  
للعام الدراسي ١٤٣٧/١٤٣٨ هـ - ٢٠١٦/٢٠١٧ م  
الدور الأول - الفصل الدراسي الثاني  
المادة: الحاسوب في الاتصالات والاعمال التجارية

إجابة السؤال الثاني				الدرجة الكلية : ( ٤ ) درجات
المفردة	الإجابة الصحيحة	الدرجة	الصفحة	المخرج التعليمي
١	المشروع.	١	١٤٤	١/٣
٢	التخطيط.	١	١٤٩	٤/٣
٣	الويكي Wikis	١	١٨٥	٦/٤
٤	التصميم الجمالي.	١	١٥٥	٣/٤
المجموع			٤ درجات	

ثانياً: إجابة الأسئلة المقالية:-

إجابة السؤال الثالث				الدرجة الكلية : (٤) درجات
الجزئية	الإجابة الصحيحة	الدرجة	الصفحة	المخرج التعليمي
١	=B4	١	٩٩	٥/٣
٢	=IF(B7="*",C7,IF(B8="*",C8,IF(B9="*",C9,0)))	١	١٠٠	٦/٣
٣	=A18+B18	١	١٠٠	٥/٣
٤	=C18*D18 أو =(A18+B18)*D18	١	١٠٠	٥/٣
المجموع			٤ درجات	

(٣)

تابع نموذج إجابة امتحان الصف الحادي عشر  
للعام الدراسي ١٤٣٧/١٤٣٨ هـ - ٢٠١٦/٢٠١٧ م  
الدور الأول - الفصل الدراسي الثاني  
المادة: الحاسوب في الاتصالات والاعمال التجارية

الدرجة الكلية : (٥) درجات			إجابة السؤال الرابع		
المخرج التعليمي	الصفحة	الدرجة	الإجابة الصحيحة	المفردة	الجزئية
١/٣	١٤٧	١	برنامج Ms Project	أ	١
٢/٣	١٤٥	١	سبعة أشهر.	ب	
٢/٣	١٤٥	١	المهمة ٤ والمهمة ٥.	ج	
٣/٣	١٢٥	٢	<ul style="list-style-type: none"> <li>- مشاركة البيانات.</li> <li>- التقليل من تكرار البيانات.</li> <li>- توافق وتجانس البيانات.</li> <li>- سهولة الصيانة والتطوير.</li> <li>- النسخ الاحتياطية.</li> <li>- الأمان والسرية.</li> </ul>	٢	
٥ درجات			المجموع		

الدرجة الكلية : (٥) درجات			إجابة السؤال الخامس		
المخرج التعليمي	الصفحة	الدرجة	الإجابة الصحيحة		الجزئية
١٠/٤	١٦٨	١	تبويب مراجعة Review		١
٧/٤	١٦٥	٢	حاشية سفلية Insert Footnote تعليق ختامي Insert Endnote		٢
٩/٤	١٦٨	٢	<ul style="list-style-type: none"> <li>- ضع المؤشر في نهاية المستند، ثم انقر على Bibliography.</li> <li>- اختر الأمر Insert Bibliography.</li> </ul>		٣
٥ درجات			المجموع		

(٤)

تابع نموذج إجابة امتحان الصف الحادي عشر  
للعام الدراسي ١٤٣٧/١٤٣٨ هـ - ٢٠١٦/٢٠١٧ م  
الدور الأول - الفصل الدراسي الثاني  
المادة: الحاسوب في الاتصالات والاعمال التجارية

إجابة السؤال السادس				الدرجة الكلية : (٤) درجات	
الجزئية	الإجابة الصحيحة	الدرجة	الصفحة	المخرج التعليمي	
١	العمل بالقطعة: هو نظام إنتاجي يقوم فيه أصحاب المؤسسة بالدفع للعمال حسب الكمية المنجزة ،حيث يعطى جميع العمال نفس معدل الأجر على قطع العمل التي أنتجوها بغض النظر عن مستوى المهارة.	١	١٨٢	١/٤	
٢	تعتبر مهارة الإقناع من المهارات التي ينبغي أن يمتلكها أعضاء فريق العمل فمن المهم أن يكون كل عضو قادرا على تبرير أفكاره ومقترحاته والدفاع عنها ، وتحليل ونقد ومناقشة أفكار الآخرين.	١	١٨٣	٣/٤	
٣	وجه المقارنة	المنتديات	مجموعات الأخبار والقوائم البريدية		
	المفهوم	تقنية تعمل على الويب، وتتتيح للأعضاء طرح مواضيعهم والتعليق على مواضيع الآخرين.	تقنية تتم بين مجموعة كبيرة من المشتركين بدلا من الاتصال من واحد إلى واحد ، حيث إن الرسالة التي أرسلها طرف معين يتم إرسالها إلى جميع المشتركين في القائمة البريدية ، ويستطيع قراءتها جميع المشتركين في مجموعة الأخبار.	٢	١٨٥
	البرامج المستخدمة	متصفح الإنترنت.	متصفح الإنترنت وقارئ الأخبار Newsreader.	٦/٤	
المجموع				٤ درجات	

نهاية نموذج الإجابة