



امتحان الصف الخامس  
للعام الدراسي ١٤٣٨/١٤٣٩ هـ - ٢٠١٧/٢٠١٨ م  
الدور الأول - الفصل الدراسي الأول

- المادة: الدراسات الاجتماعية.
- زمن الإجابة: ساعة ونصف.
- عدد صفحات أسئلة الامتحان: ( ٧ ) صفحات.
- الإجابة في الورقة نفسها.

		اسم الطالب
الصف		المدرسة

التوقيع بالاسم		الدرجة		السؤال
المصحح الثاني	المصحح الأول	بالحروف	بالأرقام	
				١
				٢
				٣
				٤
مراجعة الجمع	جمعه			المجموع
				المجموع الكلي

(١)

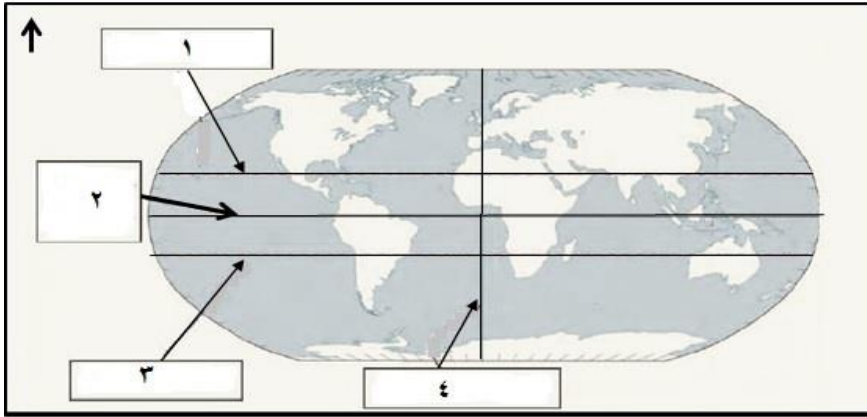
المادة: الدراسات الاجتماعية- الصف: الخامس- الدور الأول - الفصل الدراسي الأول -  
العام الدراسي ٢٠١٧/٢٠١٨ م

### أجب عن جميع الأسئلة الآتية

السؤال الأول: ضع دائرة حول رمز الإجابة الصحيحة لكل مفردة من المفردات الآتية:

١- الوزارة التي يتبعها معهد عمر بن الخطاب للمكفوفين بولاية السيب:  
( أ) التعليم العالي. ( ب) التربية والتعليم. ( ج) الصحة. ( د) الاسكان.

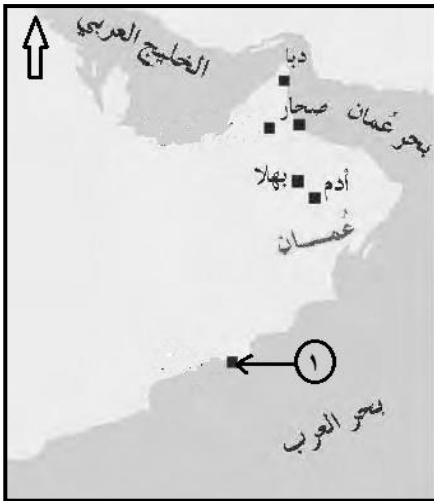
٢- الرقم الذي يشير إلى دائرة الاستواء في الخريطة الآتية:



- ( أ) ١  
( ب) ٢  
( ج) ٣  
( د) ٤

٣- المدينة التي نشأ فيها التابعي كعب بن سور الأزدي :  
( أ) دبا. ( ب) صحار. ( ج) مرباط. ( ج) البريمي.

٤- التجارة التي كانت تنشط في فترة ظهور الاسلام بالميناء المشار اليه  
بالرقم (١) على الخريطة الآتية:




- ( أ) الزيتون.  
( ب) العاج.  
( ج) الخيول.  
( د) الذهب.

(٢)

المادة: الدراسات الاجتماعية- الصف: الخامس- الدور الأول - الفصل الدراسي الأول -  
العام الدراسي ٢٠١٧/٢٠١٨ م

تابع السؤال الأول:

٥- الترتيب الصحيح لارتفاع الجبال تنازلياً كما هو واضح في الشكل التالي:



- (أ) مرة- تاهرت- طبقال- شمس.  
(ب) طبقال - مرة- شمس- تاهرت.  
(ج) تاهرت- شمس- مرة- طبقال.  
(د) طبقال- شمس- مرة- تاهرت.

٦- تعدّ من الأشجار الضارة بالبيئة العُمانية:

- (أ) السدر. (ب) السمر. (ج) المسكيت. (د) الغاف.

٧- خطيب عماني عاش قبيل الإسلام، واشتهر بالفصاحة والبلاغة:

- أ- زهير بن قرظم المهري.  
ب- مصقلة بن رقة.  
ج- المهلب بن أبي صفرة.  
د- كعب بن برشة الطاحي.

٨- يرمز الشعار الذي في الصورة الموضحة إلى جائزة السلطان قابوس في مجال:



- (أ) الثقافة والعلوم.  
(ب) حماية البيئة.  
(ج) العمل التطوعي.  
(د) الإجابة الحرفية.

(٣)

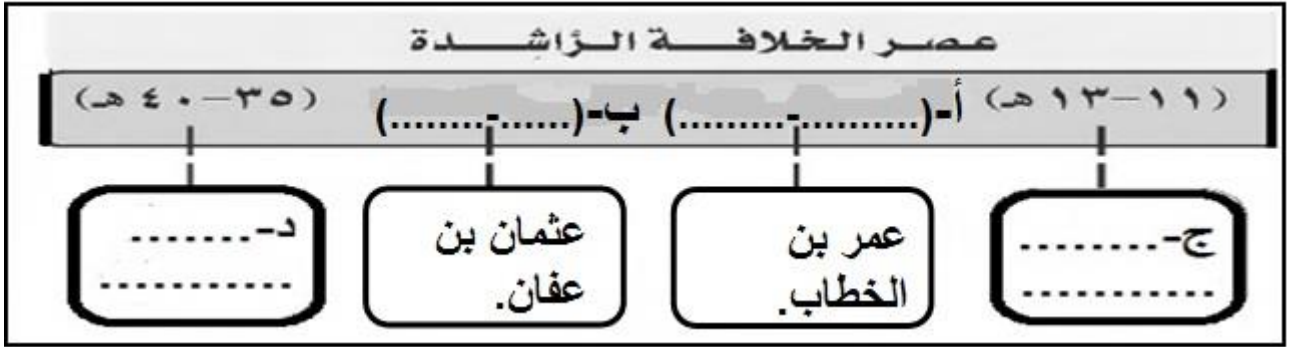
المادة: الدراسات الاجتماعية- الصف: الخامس- الدور الأول - الفصل الدراسي الأول -  
العام الدراسي ٢٠١٧/٢٠١٨ م

السؤال الثاني: أجب عن الأسئلة الآتية:

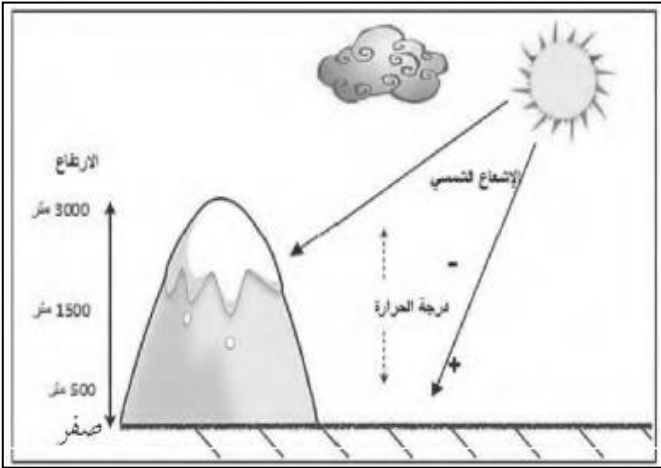
أولاً: - أكتب بين القوسين المصطلح الصحيح لكل عبارة مما يأتي :-  
أ- (.....) الفرد الذي يشعر بانتمائه لوطنه ويسهم في خدمته.

ب- (.....) إحدى مكونات التربة، ويرجع أصلها إلى بقايا نباتية أو حيوانية.

ثانياً: أكمل بيانات المسطرة الزمنية التي تبين فترات حكم الخلفاء الراشدين:



ثالثاً : استنتج من خلال الشكل المقابل العلاقة بين درجات الحرارة والارتفاع عن مستوى سطح البحر.



.....  
.....  
.....  
.....

(٤)

المادة: الدراسات الاجتماعية- الصف: الخامس- الدور الأول - الفصل الدراسي الأول -  
العام الدراسي ٢٠١٧/٢٠١٨م

السؤال الثالث: أجب عن الأسئلة الآتية:

أولاً: - اذكر اثنين لكل من :  
أ- الأسس التي تقوم عليها الأسرة في الإسلام.

ب- المشكلات التي تواجه النباتات الطبيعية في الوطن العربي.

ثانياً: أدرس الخريطة التي توضح مجرى نهر النيل، ثم أكمل البيانات في  
الجدول التالي:



الدول العربية التي يجري فيها	المصب	النهر
السودان. .....(ب)	(أ) .....	النيل.

(٥)

المادة: الدراسات الاجتماعية- الصف: الخامس- الدور الأول - الفصل الدراسي الأول -  
العام الدراسي ٢٠١٧/٢٠١٨ م

تابع السؤال الثالث:-

ثالثاً : أكتب نوع السهل للأمثلة في الجدول الآتي:

نوع السهل	الأمثلة
أ-	دلتا نهر النيل.
ب-	سهل الباطنة.

السؤال الرابع: أجب عن الأسئلة الآتية:

أولاً: أ- "يعدّ موسم الجداد من مظاهر العمل الاجتماعي في المجتمع العماني " وضح هذه العبارة.

ب- "يعاني الوطن العربي من مشكلة نقص المياه" في ضوء هذه العبارة اقترح حلاً لمعالجة تلك المشكلة.

(٦)

المادة: الدراسات الاجتماعية- الصف: الخامس- الدور الأول - الفصل الدراسي الأول -  
العام الدراسي ٢٠١٧/٢٠١٨ م

تابع السؤال الرابع:

ثانيًا: انظر إلى الصورتين، ثم قارن في الجدول ادناه بين الحياة البدوية والحياة الحضرية:



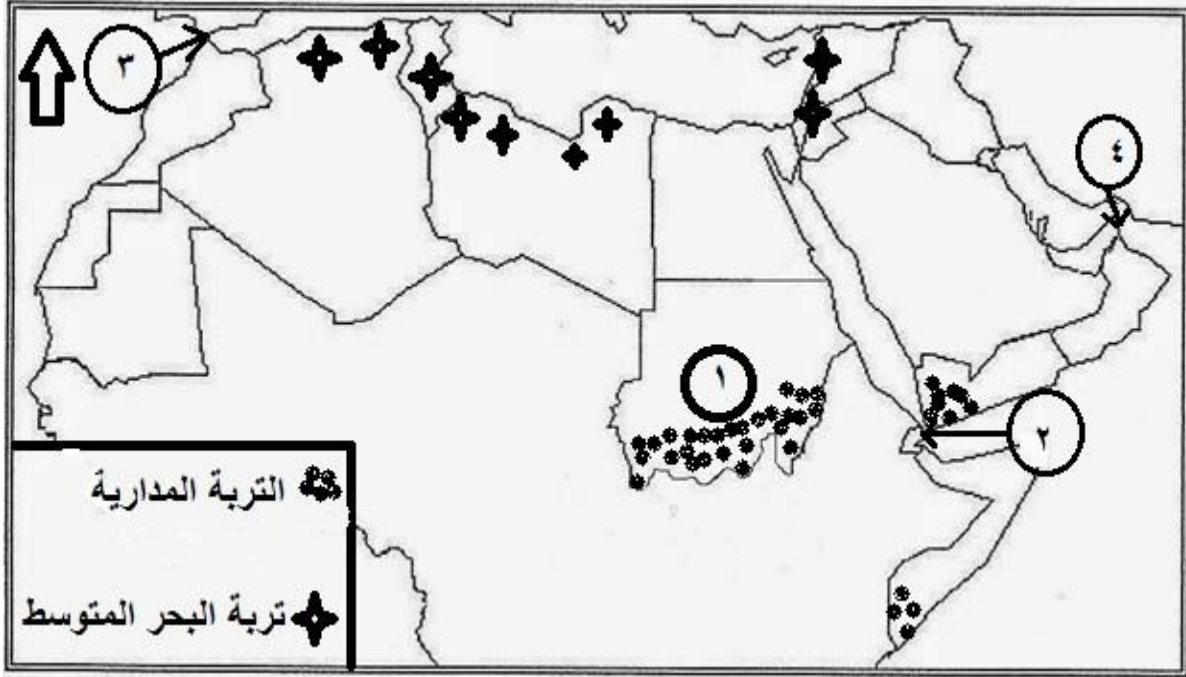
أوجه المقارنة	الحياة البدوية	الحياة الحضرية
المسكن	أ- ..... .....	ب- ..... .....
النشاط الاقتصادي	ج- ..... .....	د- ..... .....

(٧)

المادة: الدراسات الاجتماعية- الصف: الخامس- الدور الأول - الفصل الدراسي الأول -  
العام الدراسي ٢٠١٧/٢٠١٨ م

تابع السؤال الرابع:

ثالثاً: أدرس خريطة الوطن العربي ثم أجب عن الأسئلة التي تليها:



أ- سمّ نوع التربة التي تتركز في الدولة المشار إليها بالرقم (١).

ب- ظلل على الخريطة مناطق تواجد التربة الفيضية في الوطن العربي.

ج- ما الرقم الذي يشير إلى مضيق هرمز؟

انتهت الأسئلة مع الدعاء للجميع بالتوفيق والنجاح.





امتحان الصف الخامس  
للعام الدراسي ١٤٣٨/١٤٣٩ هـ - ٢٠١٧/٢٠١٨ م  
الدور الأول - الفصل الدراسي الأول

- المادة: الدراسات الاجتماعية.
- زمن الإجابة: ساعة ونصف.
- عدد صفحات أسئلة الامتحان: ( ٧ ) صفحات.
- الإجابة في الورقة نفسها.

		اسم الطالب
الصف		المدرسة

التوقيع بالاسم		الدرجة		السؤال
المصحح الثاني	المصحح الأول	بالحروف	بالأرقام	
				١
				٢
				٣
				٤
مراجعة الجمع	جمعه			المجموع
				المجموع الكلي

(١)

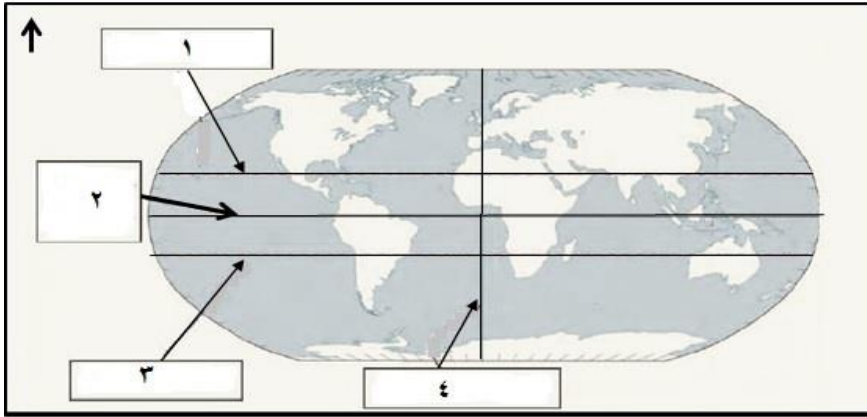
المادة: الدراسات الاجتماعية- الصف: الخامس- الدور الأول - الفصل الدراسي الأول -  
العام الدراسي ٢٠١٧/٢٠١٨ م

### أجب عن جميع الأسئلة الآتية

السؤال الأول: ضع دائرة حول رمز الإجابة الصحيحة لكل مفردة من المفردات الآتية:

١- الوزارة التي يتبعها معهد عمر بن الخطاب للمكفوفين بولاية السيب:  
( أ) التعليم العالي. ( ب) التربية والتعليم. ( ج) الصحة. ( د) الاسكان.

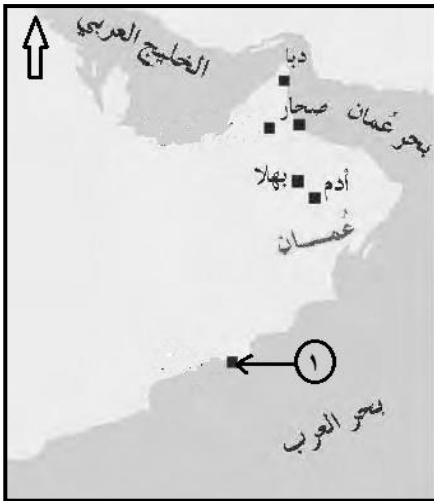
٢- الرقم الذي يشير إلى دائرة الاستواء في الخريطة الآتية:



- ( أ) ١  
( ب) ٢  
( ج) ٣  
( د) ٤

٣- المدينة التي نشأ فيها التابعي كعب بن سور الأزدي :  
( أ) دبا. ( ب) صحار. ( ج) مرباط. ( ج) البريمي.

٤- التجارة التي كانت تنشط في فترة ظهور الاسلام بالميناء المشار اليه



بالرقم (١) على الخريطة الآتية:


- ( أ) الزيتون.  
( ب) العاج.  
( ج) الخيول.  
( د) الذهب.

(٢)

المادة: الدراسات الاجتماعية- الصف: الخامس- الدور الأول - الفصل الدراسي الأول -  
العام الدراسي ٢٠١٧/٢٠١٨ م

تابع السؤال الأول:

٥- الترتيب الصحيح لارتفاع الجبال تنازلياً كما هو واضح في الشكل التالي:



- (أ) مرة- تاهرت- طبقال- شمس.  
(ب) طبقال - مرة- شمس- تاهرت.  
(ج) تاهرت- شمس- مرة- طبقال.  
(د) طبقال- شمس- مرة- تاهرت.

٦- تعدّ من الأشجار الضارة بالبيئة العُمانية:

- (أ) السدر. (ب) السمر. (ج) المسكيت. (د) الغاف.

٧- خطيب عماني عاش قبيل الإسلام، واشتهر بالفصاحة والبلاغة:

- أ- زهير بن قرظم المهري.  
ب- مصقلة بن رقة.  
ج- المهلب بن أبي صفرة.  
د- كعب بن برشة الطاحي.

٨- يرمز الشعار الذي في الصورة الموضحة إلى جائزة السلطان قابوس في مجال:



- (أ) الثقافة والعلوم.  
(ب) حماية البيئة.  
(ج) العمل التطوعي.  
(د) الإجابة الحرفية.

(٣)

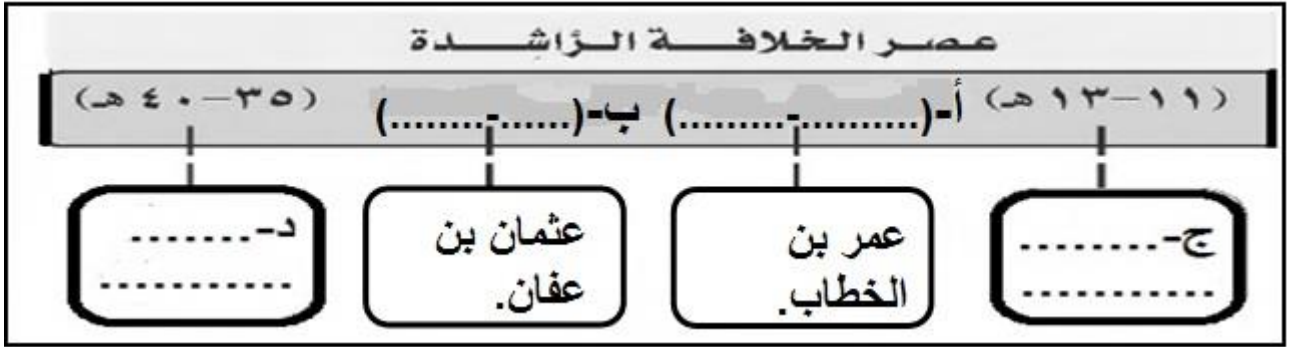
المادة: الدراسات الاجتماعية- الصف: الخامس- الدور الأول - الفصل الدراسي الأول -  
العام الدراسي ٢٠١٧/٢٠١٨ م

السؤال الثاني: أجب عن الأسئلة الآتية:

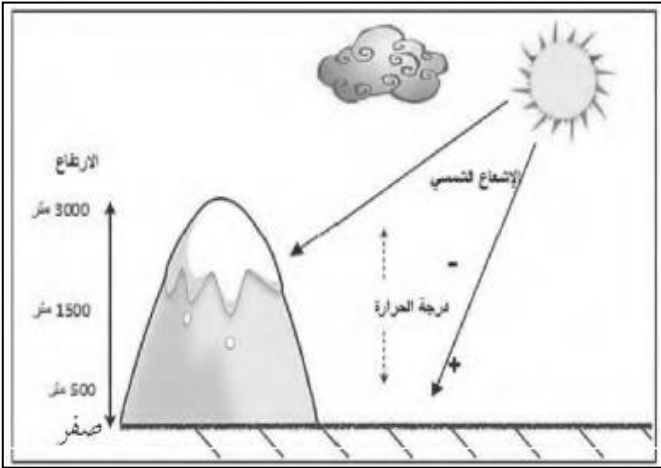
أولاً: - أكتب بين القوسين المصطلح الصحيح لكل عبارة مما يأتي :-  
أ- (.....) الفرد الذي يشعر بانتمائه لوطنه ويسهم في خدمته.

ب- (.....) إحدى مكونات التربة، ويرجع أصلها إلى بقايا نباتية أو حيوانية.

ثانياً: أكمل بيانات المسطرة الزمنية التي تبين فترات حكم الخلفاء الراشدين:



ثالثاً : استنتج من خلال الشكل المقابل العلاقة بين درجات الحرارة والارتفاع عن مستوى سطح البحر.



.....  
.....  
.....  
.....

(٤)

المادة: الدراسات الاجتماعية- الصف: الخامس- الدور الأول - الفصل الدراسي الأول -  
العام الدراسي ٢٠١٧/٢٠١٨م

السؤال الثالث: أجب عن الأسئلة الآتية:

أولاً: - اذكر اثنين لكل من :  
أ- الأسس التي تقوم عليها الأسرة في الإسلام.

ب- المشكلات التي تواجه النباتات الطبيعية في الوطن العربي.

ثانياً: أدرس الخريطة التي توضح مجرى نهر النيل، ثم أكمل البيانات في  
الجدول التالي:



الدول العربية التي يجري فيها	المصب	النهر
السودان. .....(ب)	(أ) .....	النيل.

(٥)

المادة: الدراسات الاجتماعية- الصف: الخامس- الدور الأول - الفصل الدراسي الأول -  
العام الدراسي ٢٠١٧/٢٠١٨ م

تابع السؤال الثالث:-

ثالثاً : أكتب نوع السهل للأمثلة في الجدول الآتي:

نوع السهل	الأمثلة
أ-	دلتا نهر النيل.
ب-	سهل الباطنة.

السؤال الرابع: أجب عن الأسئلة الآتية:

أولاً: أ- "يعدّ موسم الجداد من مظاهر العمل الاجتماعي في المجتمع العماني " وضح هذه العبارة.

ب- "يعاني الوطن العربي من مشكلة نقص المياه" في ضوء هذه العبارة اقترح حلاً لمعالجة تلك المشكلة.

(٦)

المادة: الدراسات الاجتماعية- الصف: الخامس- الدور الأول - الفصل الدراسي الأول -  
العام الدراسي ٢٠١٧/٢٠١٨ م

تابع السؤال الرابع:

ثانيًا: انظر إلى الصورتين، ثم قارن في الجدول ادناه بين الحياة البدوية والحياة الحضرية:



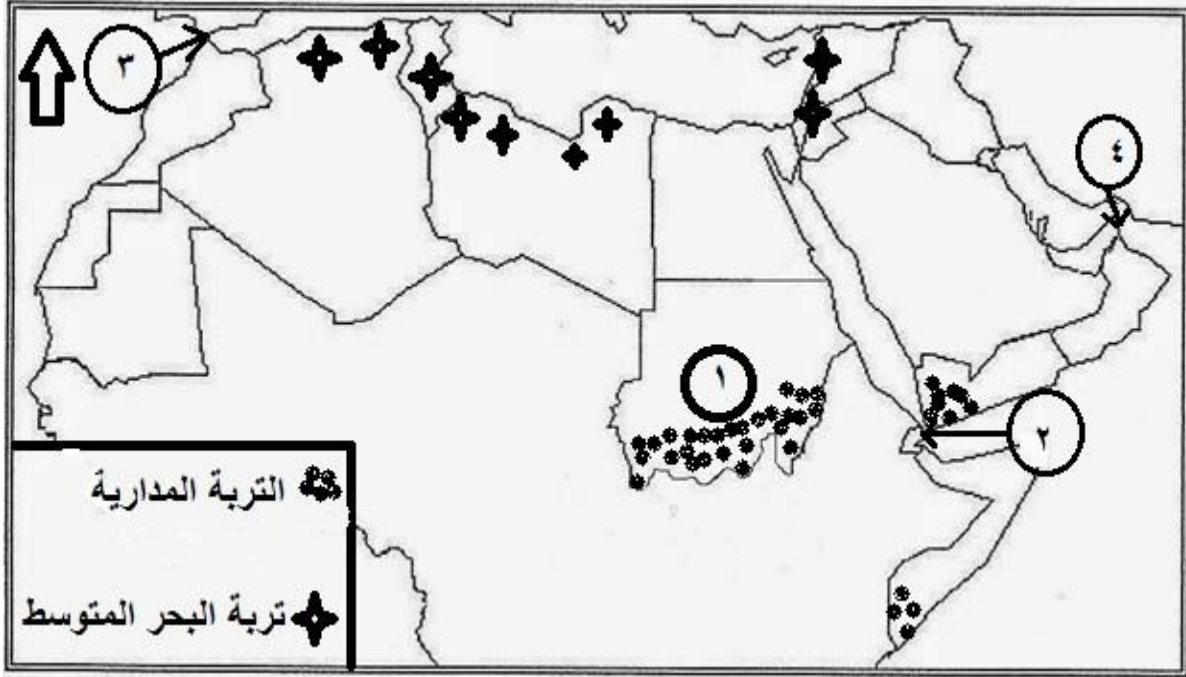
أوجه المقارنة	الحياة البدوية	الحياة الحضرية
المسكن	أ- ..... .....	ب- ..... .....
النشاط الاقتصادي	ج- ..... .....	د- ..... .....

(٧)

المادة: الدراسات الاجتماعية- الصف: الخامس- الدور الأول - الفصل الدراسي الأول -  
العام الدراسي ٢٠١٧/٢٠١٨ م

تابع السؤال الرابع:

ثالثاً: أدرس خريطة الوطن العربي ثم أجب عن الأسئلة التي تليها:



أ- سمّ نوع التربة التي تتركز في الدولة المشار إليها بالرقم (١).

ب- ظلل على الخريطة مناطق تواجد التربة الفيضية في الوطن العربي.

ج- ما الرقم الذي يشير إلى مضيق هرمز؟

انتهت الأسئلة مع الدعاء للجميع بالتوفيق والنجاح.