

الامتحان الأولي لشهادة دبلوم التعليم العام
للعام الدراسي ١٤٣٠/١٤٣١ هـ — ٢٠٠٩/٢٠١٠ م

- المادة: (الدراسات الاجتماعية) هذا وطني
• الإجابة في نفس الورقة
• الامتحان في (٣) صفحات
• زمن الإجابة: ساعة واحدة

أجب عن جميع الأسئلة الآتية

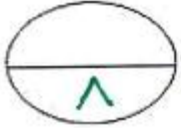
السؤال الأول: ضع دائرة على الحرف الدال على الإجابة الصحيحة من بين البدائل المعطاة:

- ١- كان يحكم عمان أثناء وصول رسالة الرسول صلى الله عليه وسلم:
أ - مالك بن فهم
ب - عبد وجيفر ابنا الجلندي
ج - سعيد وسليمان ابنا الجلندي
د - الجلندي بن مسعود
- ٢- يعتبر تطور نمط الأبنية العمانية أحد النتائج المنعكسة من تطور النشاط:
أ - الإداري
ب - الإقتصادي
ج - العسكري
د - السياسي
- ٣- تصنف معظم أفلاج السلطنة على أنها من النوع:
أ - الداودي
ب - العيني
ج - الغيلي
د - العدّي
- ٤- من خلال دراسة تقديرات الوضع المائي في سلطنة عمان بين العرض والطلب للفترة ١٩٩٠-٢٠٢٠ م نستنتج:
أ - زيادة الطلب على العرض
ب - تناسب العرض مع الطلب
ج - قلة الطلب على العرض
د - زيادة العرض على الطلب
- ٥- تغذي محطة تحلية مياه بركاء ولايات منطقتي:
أ - جنوب الباطنة والظاهرة
ب - جنوب الباطنة والداخلية
ج - شمال الباطنة والظاهرة
د - شمال الباطنة والداخلية
- ٦- حكم عمان خلال الفترة (١٨٨٨ - ١٩١٣ م) السيد:
أ - سلطان بن أحمد
ب - سعيد بن سلطان
ج - تركي بن سعيد
د - فيصل بن تركي
- ٧- يوجد مسجد سعال الذي بني سنة ٨ هـ في ولاية:
أ - نزوى
ب - بهلا
ج - سمائل
د - آدم

(٢)
الامتحان الأولي لشهادة دبلوم التعليم العام
للعام الدراسي ١٤٣٠/١٤٣١ هـ — ٢٠٠٩/٢٠١٠ م
مادة: (الدراسات الاجتماعية) هذا وطني

تابع السؤال الأول:

٨- انتهى حكم السيد سعيد بن سلطان بوفاته وكان ذلك في العام الميلادي:
أ - ١٨٥٥ ب - ١٨٥٦ ج - ١٨٥٧ د - ١٨٥٨



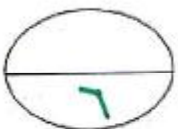
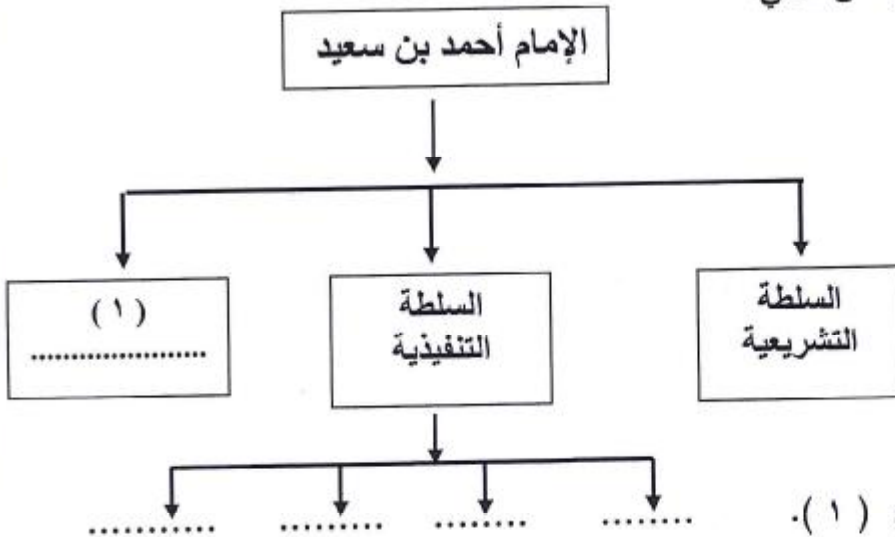
الدرجة

السؤال الثاني: أجب عن الأسئلة الآتية:

١ - عرف ما يلي:
أ - التنوع الأحيائي

ب - الميد

٢ - ادرس المخطط الذي أمامك ثم أجب عن الآتي:



الدرجة

يتبع/٣

(٣)

الامتحان الأولي لشهادة دبلوم التعليم العام
للعام الدراسي ١٤٣٠/١٤٣١ هـ — ٢٠٠٩ / ٢٠١٠ م
مادة: (الدراسات الاجتماعية) هذا وطني

السؤال الثالث: أجب عن الأسئلة الآتية:

١ - علل ما يلي:
أ - تنوع البيئات الطبيعية في عمان.

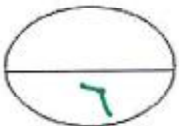
ب - تمثل إدارة المناطق الساحلية وحماية البيئة البحرية أهمية كبيرة بالنسبة للسلطنة.

٢ - دلل على الانجازات الحضارية لعمان في العصر الإسلامي في كل من:

التنظيم الإداري	الناحية الاقتصادية

٣ - اشرح العبارة التالية: " يعد إسلام أهل عمان نقطة تحول في تاريخ عمان ومنطقة المحيط الهندي ".

٤ - أعط سببين لاختيار السيد سعيد بن سلطان زنجبار عاصمة ثانية لعمان.



الدرجة

انتهت الأسئلة مع تمنياتنا لكم بالتوفيق والنجاح

نموذج
الإجابة



نموذج إجابة الامتحان الأولي لشهادة دبلوم التعليم العام
للعام الدراسي ١٤٣٠/١٤٣١ هـ — ٢٠٠٩/٢٠١٠ م

الدرجة الكلية: ٢٠ درجة

المادة: (الدراسات الاجتماعية) هذا وطني
تنبيهه: نموذج الإجابة في (٣) صفحات

أولاً : إجابة السؤال الموضوعي:

إجابة السؤال الأول	لكل مفردة درجة	الدرجة الكلية: ٨ درجات
المفردة	البديل الصحيح	الدرجة
١	ب - عبد وجيفر ابنا الجندي	١
٢	ب - الاقتصادي	١
٣	ج - الغيلي	١
٤	أ - زيادة الطلب على العرض	١
٥	ب- جنوب الباطنة والداخلية	١
٦	د - فيصل بن تركي	١
٧	أ - نزوى	١
٨	ب - ١٨٥٦	١

(٢)
 نموذج إجابة الامتحان الأولي لشهادة دبلوم التعليم العام
 للعام الدراسي ١٤٣٠/١٤٣١ هـ — ٢٠٠٩ / ٢٠١٠ م
 مادة : (الدراسات الاجتماعية) هذا وطني



الدرجة الكلية : ٦ درجات		إجابة السؤال الثاني		
الصفحة	الدرجة	الإجابة الصحيحة	المفردة	الجزئية
٥٦	١	يعني تعدد أنواع الكائنات الحية وكثرتها، وتباينها، سواء كانت هذه الأنواع في النظم البيئية البرية أم البحرية أم الجوية.	أ	
١٩	١	الميد: هم قراصنة شديدي البأس، كانوا يسكنون السند، وينتشرون بسفنهم في مياه الساحل الغربي للهند والسند، ويشكلون خطراً على السفن التجارية فكانوا ينهبونها، ولذا كان البحارة يتجنبون المرور بهذه المنطقة أو يحملون معهم جنوداً لحماية سفنهم.	ب	١
٢٧	١	التنظيمات الإدارية زمن الامام احمد بن سعيد.	أ	٢
	١	السلطة القضائية.	ب	
	٢	(الولاة، بيت المال، جباة الضرائب، الشرطة، الحرس، الجيش، الأسطول) يكتفى بذكر أربعة لكل نصف درجة	ج	



(٣)

نموذج إجابة الامتحان الأولي لشهادة دبلوم التعليم العام
للعام الدراسي ١٤٣٠/١٤٣١ هـ — ٢٠٠٩/٢٠١٠ م
مادة : (الدراسات الاجتماعية) هذا وطني

الدرجة الكلية : ٦ درجات		إجابة السؤال الثالث						
الصفحة	الدرجة	الإجابة الصحيحة	المفردة	الجزئية				
٥٥	١	يعود تنوع البيئات الطبيعية في عمان بسبب الامتداد الطولي على دوائر العرض، والتنوع التضاريسي وتباين درجات الحرارة والتنوع المناخي.	أ-	١				
٦٣	١	نظرا لطول سواحلها وامتلاكها العديد من الجزر البحرية وكبر مجالها البحري	ب-					
١٩	٢	<table border="1"> <thead> <tr> <th>الناحية الاقتصادية</th> <th>التنظيم الإداري</th> </tr> </thead> <tbody> <tr> <td>انتعشت الزراعة، وظهرت الصناعة، وانتعشت التجارة، وبرز دور المرأة التجاري.</td> <td>ظهور عدد من المناصب الإدارية: كهيئة الحل والعقد والقضاة والولاة ووظيفة المعدل والمعدى</td> </tr> </tbody> </table>	الناحية الاقتصادية	التنظيم الإداري	انتعشت الزراعة، وظهرت الصناعة، وانتعشت التجارة، وبرز دور المرأة التجاري.	ظهور عدد من المناصب الإدارية: كهيئة الحل والعقد والقضاة والولاة ووظيفة المعدل والمعدى		٢
الناحية الاقتصادية	التنظيم الإداري							
انتعشت الزراعة، وظهرت الصناعة، وانتعشت التجارة، وبرز دور المرأة التجاري.	ظهور عدد من المناصب الإدارية: كهيئة الحل والعقد والقضاة والولاة ووظيفة المعدل والمعدى							
١٥	١	يعد إسلام أهل عمان نقطة تحول في تاريخ عمان ومنطقة المحيط الهندي لأنه وحد عمان وساعد في ازدهار حركة التجارة والملاحة بمنطقة المحيط الهندي كما ساعد في سيادة الأمن والرخاء.		٣				
٣٢	١	اختار السيد سعيد بن سلطان زنجبار عاصمة ثانية لعمان لموقعها المتوسط، وطقسها المعتدل، وخصوبة أرضها، وعدوبة مياهها، وكبر مينائها.		٤				

نهاية نموذج الإجابة