



امتحان مادة هذا وطني للصف الحادي عشر
الفصل الدراسي الثاني - الدور الأول
للعام الدراسي ٢٠١١/٢٠١٢م

- الإجابة في نفس الورقة
- عدد الصفحات : (٦) صفحات
- زمن الإجابة : ساعتان

		اسم الطالب
الصف		المدرسة

(التوقيع بالاسم)	الدرجة بالحروف (بالأحمر)	الدرجة بالأرقام (بالأحمر)		السؤال
		عشرات	أحاد	
المدقق (بالأخضر)	المصحح (بالأحمر)			١
				٢
				٣
				٤
مراجعة الجمع والتشطيب (بالأزرق)	جمعه (بالأحمر)			المجموع
			٦٠	المجموع الكلي



الامتحان النهائي للصف الحادي عشر
للعام الدراسي ١٤٣٢هـ / ١٤٣٣هـ — ٢٠١١م / ٢٠١٢م
الفصل الدراسي الثاني - الدور الأول

- المادة: الدراسات الاجتماعية (هذا وطني)
- تنبيه: الأسئلة في (٦) صفحات

أجب عن جميع الأسئلة الآتية

السؤال الأول: ضع دائرة حول رمز الإجابة الصحيحة لكل مفردة من المفردات الآتية:

- ١- قمة الهرم القضائي في السلطنة تمثلها:
أ- المحكمة العليا ب- المجلس الأعلى للقضاء ج- الإدعاء العام د- محكمة القضاء الإداري
- ٢- العامل المؤثر في انفتاح الدولة على البحار والمحيطات والنشاط التجاري:
أ- المناخ ب- الموقع ج- الجيولوجيا د- الديموغرافيا
- ٣- أقدم إمارة عمانية على الساحل الشرقي لأفريقيا:
أ- زنجبار ب- مالندي ج- ممباسا د- لامو
- ٤- زيادة مساهمة المنتجات والخدمات غير النفطية للنتاج المحلي الإجمالي، يقصد به:
أ- النمو الاقتصادي ب- الإنفاق الجاري ج- الدخل القومي د- التنويع الاقتصادي
- ٥- يعتبر محور السلطة التنفيذية في الدولة مجلس:
أ- الدفاع ب- الخدمة المدنية ج- الوزراء د- الأمن الوطني
- ٦- الصورة التي أمامك تشير إلى أحد الكتب العمانية مؤلفه:
أ- سرحان الأزكوي ب- أحمد بن عبدالله الكندي
ج- سلمة بن مسلم العوتبي د- الربيع بن حبيب



(٢)

الامتحان النهائي للصف الحادي عشر
للعام الدراسي ١٤٣٢هـ / ١٤٣٣هـ — ٢٠١١م / ٢٠١٢م
الفصل الدراسي الثاني - الدور الأول
المادة/ الدراسات الاجتماعية (هذا وطني)

تابع السؤال الأول:

٧- أسس الإمام جابر بن زيد العماني مدرسة للعلم في مدينة البصرة في القرن الهجري:

أ- الأول ب- الثاني ج- الثالث د- الرابع

٨- أول وثيقة قانونية متكاملة في التاريخ العماني صدرت عام:

أ- ١٩٩٣م ب- ١٩٩٤م ج- ١٩٩٥م د- ١٩٩٦م

٩- المدينة العمانية التي سميت ببيضة الإسلام:

أ- عبري ب- الرستاق ج- نزوى د- صحار

١٠- الحضارة التي استوردت النحاس من عمان في الألف الخامس (ق. م):

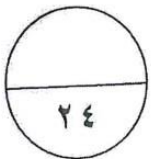
أ- السومرية ب- البابلية ج- الآشورية د- الكلدانية

١١- تشريع تصدره السلطة ليسير عليه الناس في حياتهم وينظم أنشطتهم في المجتمع:

أ- المرسوم السلطاني ب- الدستور ج- القانون د- النظام الأساسي

١٢- المسجد الذي أنشأه مازن بن غضوبة في سمائل:

أ- الشجبي ب- الشواذنة ج- الوكيل د- المضمار



(٣)

الامتحان النهائي للصف الحادي عشر
للعام الدراسي ١٤٣٢هـ / ١٤٣٣هـ — ٢٠١١م / ٢٠١٢م
الفصل الدراسي الثاني - الدور الأول
المادة/ الدراسات الاجتماعية (هذا وطني)

السؤال الثاني: أجب عن جميع الأسئلة الآتية:

أ- " ازدهرت عمان قديما وحديثا بالتأليف في مختلف مجالات العلوم، الأمر الذي استدعى إنشاء المكتبات، بنوعها العام والخاص " في ضوء ما سبق أكمل الجدول الآتي:

موقع المكتبة	اسم المكتبة	نوع المكتبة
.....	مكتبة السيد محمد بن أحمد البوسعيدي
جبرين/ بهلا
.....	مكتبة الشيخ خلف بن سنان
صحار

ب- اعط مثلا واحدا لكل من المؤثرات الثقافية لعمان مع حضارات العصور القديمة، على النحو الآتي:

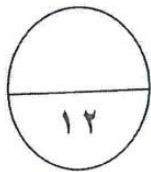
- ١- دينية:
- ٢- فنية:

ج- " لا يزال التأثير العماني في شرقي أفريقيا موجودا حتى الوقت الحاضر " في ضوء العبارة السابقة، اذكر نتيجة ثقافية وفكرية ترتبت على:

- ١- امتزاج العرب العمانيين مع الأفارقة.

- ٢- نقل العمانيون معهم فنونهم المعمارية إلى شرقي أفريقيا.

٣- تأسيس أول جمعية عربية في زنجبار.



(٤)

الامتحان النهائي للصف الحادي عشر
للعام الدراسي ١٤٣٢هـ / ١٤٣٣هـ — ٢٠١١م / ٢٠١٢م
الفصل الدراسي الثاني — الدور الأول
المادة/ الدراسات الاجتماعية (هذا وطني)

السؤال الثالث :

أ- اعط تفسيري لكل مما يأتي:

١- خلو واجهات بعض مباني العمارة العمانية الإسلامية من النوافذ، ووجود باب واحد لها فقط .

.....

.....

٢- توجه الاقتصاد العماني نحو التقليل من الاعتماد على القطاع النفطي في الناتج المحلي الإجمالي.

.....

.....

ب- الجدول الآتي يوضح الناتج المحلي الإجمالي ونسبة مساهمة القطاعات الرئيسية. ادرسه، ثم أجب عن الأسئلة التي تليه:

٢٠٠٥م	٢٠٠٠م	١٩٩٠م	١٩٨٠م	١٩٧٠م	
٧٨٤٤,٤	٧٦٣٩,٢	٤٤٩٣	٢١٨٥	١٠٤,٧	الناتج المحلي الإجمالي
%٣٢,٧	%٤٨,٧	%٤٧,٧	%٦٠,٥	%٦٨,٤	القطاع النفطي
%١٥,٦	%١٠,٥	%٩	%٩,١	%٢٤,٣	القطاع السلعي
%٥١,٧	%٤٢,٩	%٤٣,٣	%٣٠,٤	%٧,٤	قطاع الخدمات

١- رتب تنازليا مساهمة القطاعات الاقتصادية في الناتج المحلي الإجمالي لعام ٢٠٠٠م.

.....

.....

٢- في أي عام احتل قطاع الخدمات المرتبة الأولى في نسبة مساهمته للناتج المحلي الإجمالي؟

.....

.....

٣- احسب كم ضعفا ارتفع الناتج المحلي الإجمالي من عام ١٩٧٠م — ١٩٨٠م .

.....

.....

(٥)

الامتحان النهائي للصف الحادي عشر
للعام الدراسي ١٤٣٢هـ / ١٤٣٣هـ — ٢٠١١م / ٢٠١٢م
الفصل الدراسي الثاني - الدور الأول
المادة/ الدراسات الاجتماعية (هذا وطني)

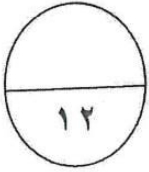
تابع السؤال الثالث:

ج- "تسهم الهيئات الآتية في إدارة الاقتصاد الوطني" وضح طبيعة المهمة التي تقوم بها كل من:

.....-غرفة تجارة وصناعة عمان.....

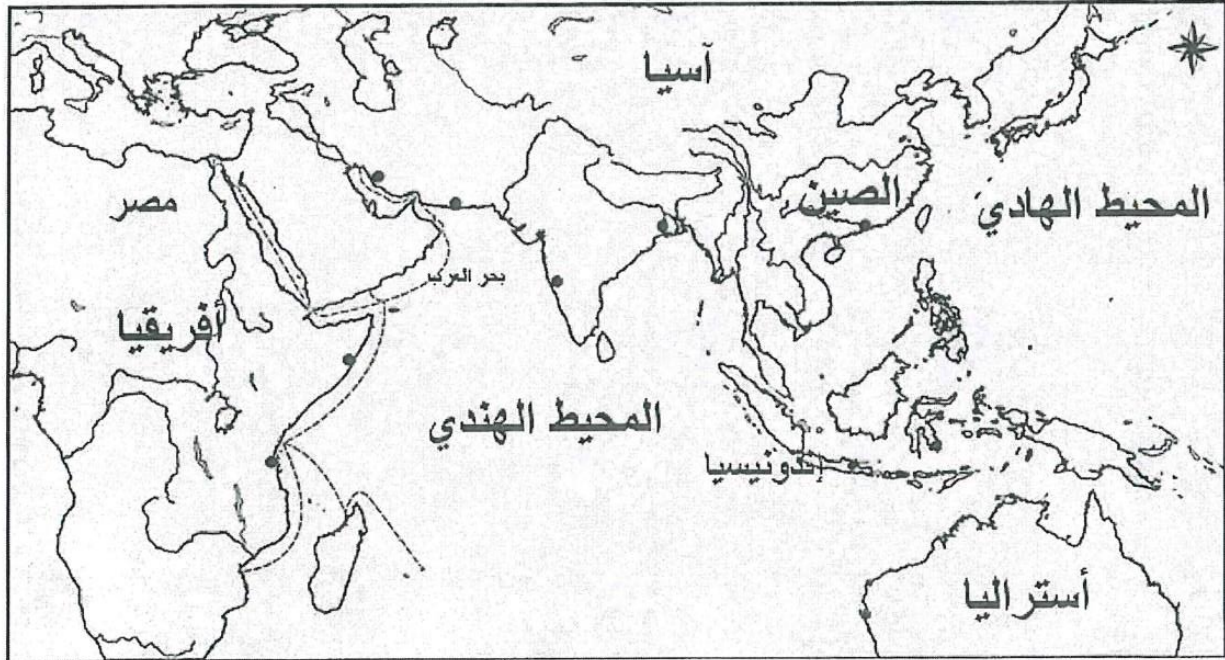
.....-الهيئة العامة للصناعات الحرفية.....

.....-هيئة تقنية المعلومات.....



السؤال الرابع: أجب عن جميع الأسئلة الآتية:

أ- أمامك خريطة توضح اتساع عمان في عهد دولتي اليعاربة والبوسعيد. ادرسها، ثم أجب عن الأسئلة التي تليها.



..... طرق التجارة البحرية العمانية

• مراكز التجارة العمانية

(٦)

الامتحان النهائي للصف الحادي عشر
للعام الدراسي ١٤٣٢هـ / ١٤٣٣هـ — ٢٠١١م / ٢٠١٢م
الفصل الدراسي الثاني - الدور الأول
المادة/ الدراسات الاجتماعية (هذا وطني)

تابع السؤال الرابع:

- ١- ظل على الخريطة امتداد الأراضي العمانية زمن دولتي اليعاربة والبوسعيد .
٢ - تتبع بالرسم على الخريطة خط الطريق التجاري البحري بين عمان وكانتون.

٣- حدد على الخريطة المواقع الآتية:

- أ- مقديشو
ب- كلكتا
ج- كلوة
د- جواهر

ب- " يعد النظام الأساسي للدولة حجر الزاوية لبناء المجتمع العماني والدولة العمانية الحديثة" في ضوء ذلك أجب عن الأسئلة الآتية:

١- اذكر أربعة من الأبواب التي يتكون منها النظام الأساسي للدولة.

-
.....
.....
.....
.....
٢- وضح العلاقة التكاملية بين النظام الأساسي للدولة والقوانين.

-
.....
.....
.....

ج- ناقش : أثر غياب التشريعات والقوانين العصرية على خطط التنمية.

-
.....
.....

انتهت الأسئلة مع تمنياتنا لكم بالتوفيق والنجاح



سلطنة عُمان

وزارة التربية والتعليم

نموذج إجابة امتحان الصف الحادي عشر
للعام الدراسي ١٤٣٢/١٤٣٣ هـ — ٢٠١١/٢٠١٢ م
الفصل الدراسي الثاني - الدور الأول



تنبيه: الإجابة في (٥) صفحات
المادة: الدراسات الاجتماعية (هذا وطني)
الدرجة الكلية: ٦٠ درجة

إجابة : السؤال الأول (٢٤ درجة) لكل مفردة درجتان

رقم المفردة	الرمز الصحيح	الإجابة الصحيحة	الصفحة
١	أ	المحكمة العليا	١٥٣
٢	ب	الموقع	٨٨
٣	د	لامو	١٣٠
٤	د	التنوع الاقتصادي	٩٧
٥	ج	الوزراء	١٤٥
٦	ج	سلمة بن مسلم العوتبي	١٢٠
٧	أ	الأول	١١٦
٨	د	١٩٩٦	١٤٢
٩	ج	نزوى	١٢٠
١٠	أ	السومرية	٩٠
١١	ج	القانون	١٤٣
١٢	د	المضمار	١١٣

(٢)

تابع: نموذج إجابة امتحان الصف الحادي عشر
للعام الدراسي ١٤٣٢/١٤٣٣ هـ — ٢٠١١/٢٠١٢ م
الفصل الدراسي الثاني - الدور الأول
المادة: الدراسات الاجتماعية (هذا وطني)



إجابة السؤال الثاني (٢ درجة) :

الصفحة	الدرجة	الإجابة			الجزئية	المفردة
١١٨	٤ درجات	موقع المكتبة	اسم المكتبة	نوع المكتبة		أ
		<u>السيب</u>	السيد محمد بن احمد البوسعيدي	<u>خاصة</u>		
		جبرين/ بهلا	<u>مكتبة قصر جبرين</u>	<u>عامة</u>		
		<u>الرستاق</u>	مكتبة الشيخ خلف بن سنان	<u>خاصة</u>		
		صحار	<u>مكتبة آل الرحيل</u>	<u>خاصة</u>		
		<u>لكل إجابة نصف درجة</u>				
١١٢	درجتان	<p>أ- <u>دينية</u>: الاستفادة من ثقافة (جمدة نصر) في استخدام الأواني الفخارية وخرز العقيق الأحمر كأثاث جنازي للميت كما يتضح من مدافن جبل حقيت.</p> <p>ب- <u>فنية</u>: تأثيرات من قادمة من جنوب شرقي اسيا ظهرت فيها زخارف تمثل غزلان أو حيوانات كالطيور أو الماعز نقشت على هيئة أشرطة على رقاب الجرار أو منتصف أسطحها.</p>			١ ٢	ب
		<u>لكل مفردة درجة</u>				
١٣١- ١٣٢	٦ درجات	<p>- نشأت لغة جديدة على ساحل شرقي أفريقيا، عرفت باللغة السواحيلية / انتشار الأزياء العمانية / تقارب العادات و التقاليد والقيم الإسلامية . <u>أي مما سبق صحيح، يكفي بذكر مفردة واحدة .</u></p> <p>- ظهرت مباني ومنازل تحمل ملامح الأبنية العمانية نفسها .</p> <p>- ظهور الكثير من الصحف العمانية .</p>			١ ٢ ٣	ج
		<u>لكل مفردة درجتان</u>				

(٣)

تابع: نموذج إجابة امتحان الصف الحادي عشر
٢٠١٢/٢٠١١ م — ١٤٣٣/١٤٣٢ هـ

الفصل الدراسي الثاني - الدور الأول

المادة: الدراسات الاجتماعية (هذا وطني)

إجابة السؤال الثالث (٢ درجة) :

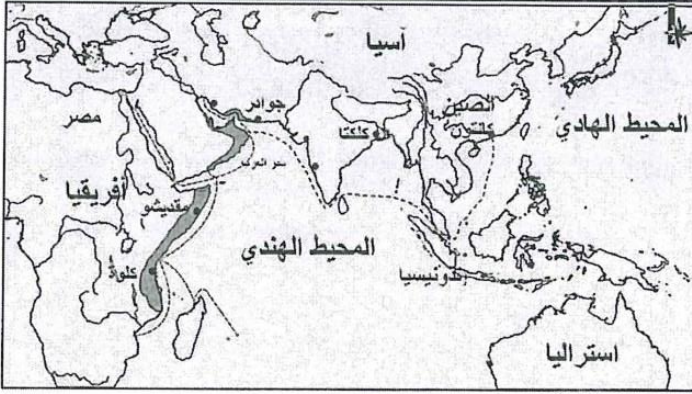
الصفحة	الدرجة	الإجابة	الجزئية	المفردة
١٢٥	درجتان	١- أسباب دفاعية. ٢- العزلة التقليدية . ٣- الوقاية من هبوب الرمال في المناطق الصحراوية . <u>يكتفى</u> <u>بأثنين لكل مفردة درجة</u> .	١	أ
٩٧	درجتان	لأن النمو الاقتصادي في السلطنة يتأثر بشكل مباشر أو غير مباشر بالتطورات التي تحدث في هذا القطاع / لأن أسعار النفط تتحدد في أسواق النفط العالمية / ليس للدولة قدرة على التحكم في أسعار النفط / لأن الاقتصاد العماني يتأثر كثيرا بالتقلبات التي تحدث في أسعار النفط / لأن ثروة النفط يمكن ان تنضب . (أى من التعبيرات <u>السابقة تعتبر صحيحة ، يكتفى بأثنين لكل مفردة درجة</u>)	٢	
٩٦	ثلاث درجات	١- قطاع النفطي ٢- قطاع الخدمات ٣- القطاع السلي . <u>لكل جزئية درجة</u>	١	
٩٦	١	٢٠٠٥م	٢	ب
٩٦	١	٢١ ضعفا أو ٢٠,٨ <u>(كلا الإجابتين صحيحتين)</u> .	٣	
١٠١	درجة واحدة	غرفة تجارة وصناعة عمان : تنمية القطاع الخاص/ تمثيل رجال الأعمال / التعبير عنهم في اللجان الحكومية / توفير اليد العاملة / إيجاد فرص عمل. الهيئة العامة للصناعات الحرفية: العناية بكل ما يتصل بالصناعات الحرفية ويحافظ على استمرارها وتطويرها وجعلها صناعات إنتاجية قادرة على جذب العاملين / تسهيل حصولها على المواد اللازمة وترويج منتجاتها.		ج
١٠٢	درجة واحدة	- هيئة تقنية المعلومات : تعمل على الإشراف على تنمية وتطوير قطاع تقنية المعلومات / الاستفادة منه في مختلف المجالات/ جعل السلطنة مواكبة للتطور التقني وذلك لتنمية الموارد البشرية في إتقان المهارات التي تتطلبها التكنولوجيا الحديثة. <u>(يكتفى بذكر مهمة واحدة لكل هيئة)</u>		
١٠٢	درجة واحدة			

(٤)

تابع: نموذج إجابة امتحان الصف الحادي عشر
وزارة التعليم الدراسي
الأولى والثانية والثالثة والرابعة والخامسة
السادسة والسابعة والثامنة والتاسعة
عشر
١٤٣٢/١٤٣٣ هـ — ٢٠١١/٢٠١٢ م

المادة: الدراسات الاجتماعية (هذا وطني)
القصل الدراسي الثاني - الدور الأول

إجابة السؤال الرابع (١٢ درجة) :

المفردة	الجزئية	الإجابة	الدرجة	الصفحة
أ		 <p><u>ملاحظة:</u> تظليل امتداد الأراضي العمانية في الجزء الآسيوي (درجة) تظليل امتداد الأراضي العمانية في الساحل الشرقي لأفريقيا (درجة) رسم الطريق التجاري البحري بين عمان وكتانتون (درجتان) تحديد المواقع (درجتان) لكل موقع نصف درجة.</p>	٦ درجات	١٣١

(٥)

تابع نموذج إجابة امتحان الصف الحادي عشر
 للعام الدراسي ١٤٣٣/١٤٣٢ هـ — ٢٠١١/٢٠١٢ م
 الفصل الدراسي الثاني - الدور الأول
 مادة: الدراسات الاجتماعية (هذا وطني)
 إجابة السؤال الرابع (٢ درجة) :

الصفحة	الدرجة	الإجابة	الجزئية	المفردة
١٤٢	٢	- الدولة ونظام الحكم - المبادئ الموجهة لسياسة الدولة - الحقوق والواجبات . - رئيس الدولة - مجلس عمان - القضاء - أحكام عامة <u>(يكتفى بأربعة لكل نصف درجة)</u>	١	ب
١٤٣	٢	- (ان النظام الأساسي يمثل الأحكام العامة التي تحدد شكل الدولة ونظام الحكم فيها والتي تبنى منها القوانين بحيث لا يخرج القانون عن نطاق النظام الأساسي ولا يتعارض معه. وتحتل مواد النظام الأساسي مرتبة أعلى من القوانين لأنها الأساس الذي تبنى منه .)	٢	
١٤٣	٢	- عائق في طريق الإصلاح . - ليس بإمكان الدولة أن تؤدي وظائفها الطبيعية . - صعوبة تنفيذ المشاريع التنموية . <u>(أو ما يفيد المعنى فيما ذكر)</u> <u>(ملاحظة: يكتفى بذكر اثنين لكل مفردة درجة)</u>		ج

نهاية نموذج الإجابة