

سلطنة عمان

وزارة التربية والتعليم

المديرية العامة للتربية والتعليم بمحافظة جنوب الشرقية
امتحان نهاية العام الدراسي لمادة الدراسات الاجتماعية للصف

الثامن ١٤٣٣/١٤٣٤ هـ - ٢٠١٢/٢٠١٣ م

المادة: دراسات اجتماعية زمن الإجابة: ساعة ونصف الدرجة: ٤٠ تنبيه:
الأسئلة في (٤) صفحات.

السؤال الأول: اختر الإجابة الصحيحة بوضع علامة على الرمز الصحيح للبدائل المعطاة للأسئلة التالية: (١٦ درجة)



شكل (٢٨)

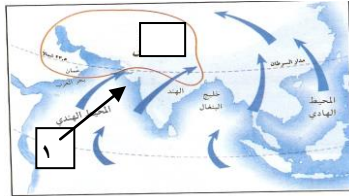
١- تشير الصورة التي أمامك إلى الجهاز المستخدم لقياس :
 أ- الضغط ب- الرطوبة ج- المطر د- الرياح

٢- تم نقل العاصمة إلى مسقط على يد :
 أ- أحمد بن سعيد ب- سلطان بن أحمد ج- هلال بن عطية د- حمد بن سعيد

٣- حينما يشير السهم إلى الشرق في جهاز دوارة الرياح فإن الرياح قادمة من :-
 أ- الشرق ب- الغرب ج- الشمال د- الجنوب

٤- بالنظر لعنوان الخريطة نوع الضغط السائد في المنطقة المشار

إليها بالرقم ١ :



شكل (٢٤ ب)
 الرياح الموسمية الصيفية في قارة آسيا

أ- منخفض ب- مرتفع

ج- متساوي د- معدوم

٥ - نظام الحكم في سلطنة عمان :

أ- سلطاني ب- أميري ج- جمهوري د- ملكي

٦ - من القصور التي شيدت في عهد دولة البوسعيد في مسقط :

أ- المتونى ب- بيت العلم ج- العجائب د- بيت الفلج

تابع / ص ٢

تابع امتحان نهاية الفصل الدراسي الأول لمادة الدراسات الاجتماعية للصف الثامن

للعام الدراسي ١٤٣٢/١٤٣٣ هـ — ٢٠١١ / ٢٠١٢ م

الفصل الدراسي الأول- الدور الأول

تابع السؤال الأول :

٧- قام بتشييد حصن البريمي الإمام:

أ- سلطان بن سيف ب- سيف بن سلطان ج- سعيد بن سلطان د- أحمد بن سلطان

٨- العام الميلادي الذي صدر فيه النظام الأساسي للدولة:

د- ١٩٩٧

ج- ١٩٩٦

ب- ١٩٩٥

أ- ١٩٩٤

السؤال الثاني : أجب عن الأسئلة التالية

(٨) درجات

علل : أ - ارتفاع درجة حرارة محافظة مسقط صيفا

ب- ١ - صنف المنجزات الحضارية لدولة البوسعيد في الجدول التالي:

(إدخال زراعة القرنفل والبن والسمسم ، توحيد الشعب العماني ، انتشار مدارس تعليم القرآن ، تطوير صناعة الزيوت)

.....	المجال السياسي
.....	المجال الاقتصادي
.....	المجال الثقافي

٢ - عرف مفهوم التيارات البحرية وحدد مسار حركتها

ج -) فسر كثافة الغطاء النباتي في الإقليم الاستوائي.

.....تابع /ص ٣

تابع امتحان نهاية الفصل الدراسي الأول لمادة الدراسات الاجتماعية للصف الثامن

للعام الدراسي ١٤٣٣/١٤٣٤ هـ — ٢٠١٢ / ٢٠١٣ م

الفصل الدراسي الأول- الدور الأول

(٨) درجات

السؤال الثالث : اجب عن ما يلي

١ (أ) - عدد ابرز العوامل المؤثرة في الطقس والمناخ . (يكتفي بذكر اثنين)

.....

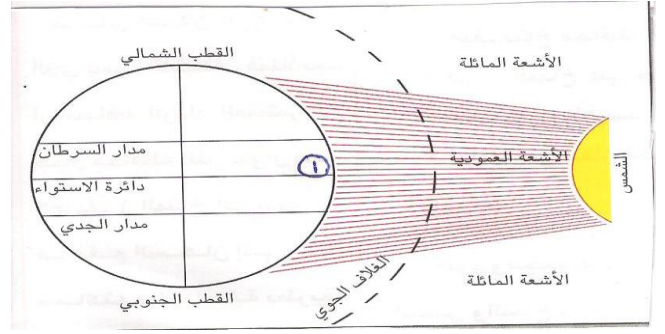
٢ - دلل على عمق التأثيرات الحضارية العمانية في شرق إفريقيا في عصر الدولة البوسعيدية (يكتفي بذكر اثنين)

.....

ب / تأمل الشكل الذي أمامك ثم اجب عن الأسئلة التي تليه .

١ - تسقط أشعة الشمس على المنطقة (١) بزواياة.....

٢- ما أقصى مكان تتعامد عليه أشعة الشمس جنوباً



تابع ص/٤

تابع امتحان نهاية الفصل الدراسي الأول لمادة الدراسات الاجتماعية للصف الثامن

للعام الدراسي ١٤٣٣/١٤٣٤ هـ — ٢٠١٢ / ٢٠١٣ م

الفصل الدراسي الأول - الدور الأول

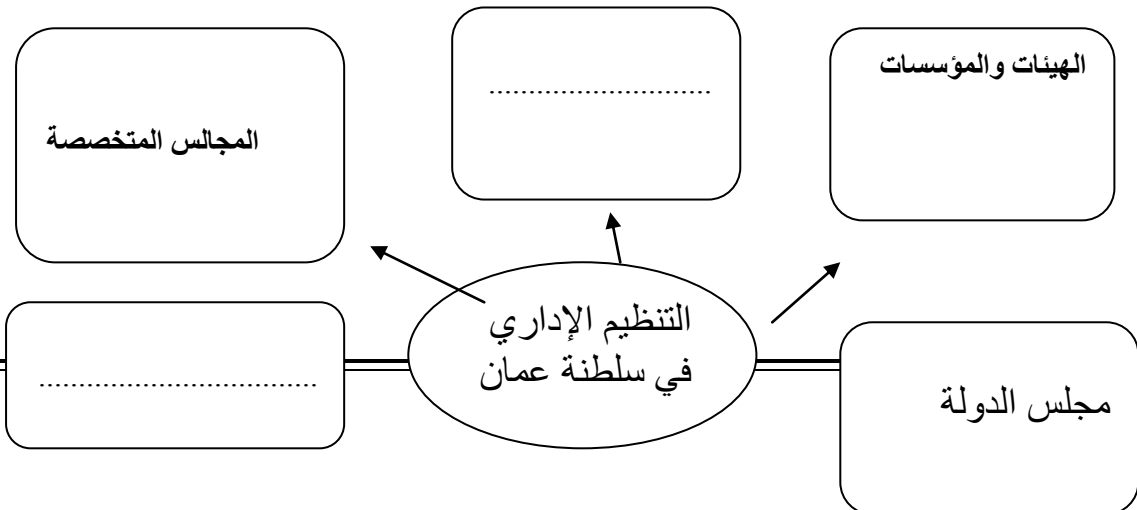
ج) قارن بين مجلس الشورى ومجلس الدولة من حيث
سنة التأسيس - طريقة العضوية

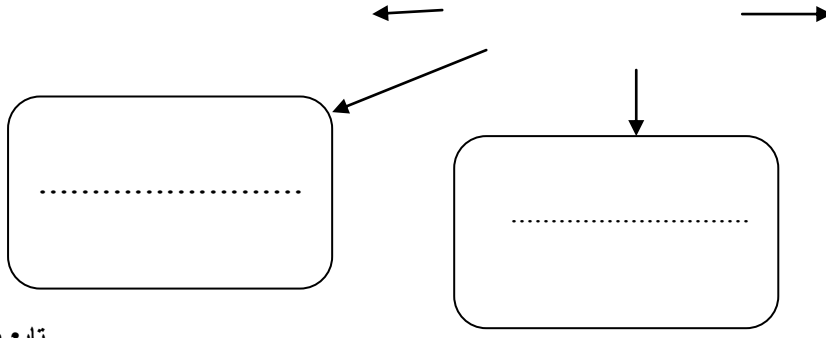
المجلس	مجلس الشورى	مجلس الدولة
سنة التأسيس
طريقة العضوية

السؤال الرابع : أجب عن ما يلي

(٨) درجات

أ) ١ - أكمل الخريطة الذهنية التالية والتي توضح التنظيم الإداري في السلطنة:

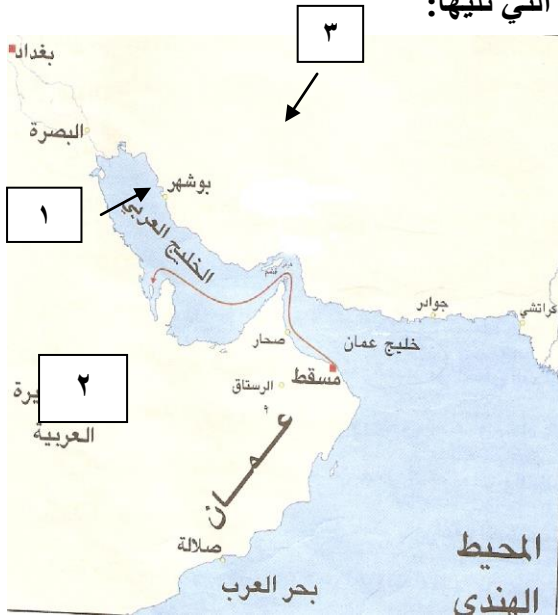




تابع ص / ٥

تابع امتحان نهاية الفصل الدراسي الأول لمادة الدراسات الاجتماعية للصف الثامن
للعام الدراسي ١٤٣٣/١٤٣٤ هـ — ٢٠١٢ / ٢٠١٣ م
الفصل الدراسي الأول- الدور الأول

أ) أدرس الخريطة التي أمامك جيدا ثم أجيب عن الأسئلة التي تليها:



أ- الدولة التي استنجد أهلها بالسيد سلطان بن احمد
والمشار إليها بالرقم.....

ب- الميناء الذي استأجرته حكومة السيد سعيد بن
سلطان

والمشار إليه بالرقم (٣).....

ج- حلل الجدول التالي الموضح لدرجات
الحرارة في مدينة الجبل الأخضر ثم اجب ما
يلي :

الأشهر	يناير	فبراير	مارس	ابريل	مايو	يونيو	يوليو	أغسطس	سبتمبر	أكتوبر	نوفمبر	ديسمبر
	٩	١١	١٤	١٧	٢٢	٢٥	٢٦	٢٤	٢٣	١٩	١٤	١١

١ - اوجد المدى الحراري لهذه المدينة خلال سنة .

.....

٢ - وضح المقصود بالرياح المحلية .

.....

انتهت الأسئلة مع أجمل المنى بالنجاح والتوفيق



المديرية العامة للتربية والتعليم
بمحافظة الشرقية جنوب

نموذج إجابة الامتحان النهائي لمادة الدراسات الاجتماعية للصف الثامن
للعام الدراسي ١٤٣٣/١٤٣٤ هـ — ٢٠١٢ / ٢٠١٣ م
الدور الأول- الفصل الدراسي الأول

- المادة: الدراسات الاجتماعية
- الدرجة الكلية ٤٠ درجة
- تنبيه: الإجابة في (٤) صفحات.

أولاً:- إجابة السؤال الموضوعي

إجابة السؤال الأول لكل مفردة درجتان الدرجة الكلية ١٦ درجة			
المفردة	البديل الصحيح	الدرجة	الصفحة
١	ب	درجتان	٣٧
٢	د	درجتان	٥٧
٣	ب	درجتان	٣١
٤	أ	درجتان	٣٣
٥	أ	درجتان	٨٦
٦	ب	درجتان	٦٩
٧	ج	درجتان	٦٨
٨	ج	درجتان	٨٢

مجموع الدرجات ٢ × ٨ = ١٦ درجة

يتبع ص ٢

الدرجة الكلية ٨ درجات		إجابة السؤال الثاني		
الصفحة	الدرجة	الإجابة الصحيحة	المفردة	الجزئية
٤١	درجتان	بسبب تعامد أشعة الشمس على مدارا لسرطان صيفا على المحافظة		أ
٦٩.٦٢	٣ درجات لكل مفردة درجة	المجال السياسي: توحيد الشعب العماني المجال الاقتصادي: إدخال زراعة القرنفل والبن والسمسم المجال الثقافي: انتشار مدارس تعليم القرآن	١	ب
١٦	درجتين لكل مفردة درجة	حركة المياه السطحية للبحار والمحيطات الناتجة عن دفع الرياح لها - مسار حركتها دائري مستمر	٢	
	درجة	بسبب غزارة الأمطار		ج

يتبع ص / ٣

إجابة السؤال الثالث

السؤال الثالث		الدرجة الكلية ٨ درجات											
الجريئة	المفردة	الإجابة الصحيحة	الدرجة	الصفحة									
أ	١	. موقع المكان بالنسبة لدوائر العرض . الغطاء النباتي . التيارات البحرية . القرب والبعد عن البحر . التضاريس (يكتفي بذكر اثنين)	درجتان	١٣									
	٢	. انتشار الإسلام . تأثير اللغة السواحلية بالكثير من المفردات العربية. انتشار بعض العادات والتقاليد الاجتماعية العمانية في مجال الزي والمجالس (يكتفي بذكر اثنين)	درجتان	٧٥.٧٤									
ب		١ . عمودية ٢ . مدار الجدي	درجة درجة	١٤									
ج		<table border="1"> <thead> <tr> <th>المجلس</th> <th>مجلس الشورى</th> <th>مجلس الدولة</th> </tr> </thead> <tbody> <tr> <td>سنة التأسيس</td> <td>١٩٩١ م</td> <td>١٩٩٧ م</td> </tr> <tr> <td>طريقة العضوية</td> <td>يتم اختيارهم عن طريق الانتخابات</td> <td>يتم تعيينهم بمرسوم سلطاني</td> </tr> </tbody> </table>	المجلس	مجلس الشورى	مجلس الدولة	سنة التأسيس	١٩٩١ م	١٩٩٧ م	طريقة العضوية	يتم اختيارهم عن طريق الانتخابات	يتم تعيينهم بمرسوم سلطاني	درجتان لكل جزئية نصف درجة	٩٦
المجلس	مجلس الشورى	مجلس الدولة											
سنة التأسيس	١٩٩١ م	١٩٩٧ م											
طريقة العضوية	يتم اختيارهم عن طريق الانتخابات	يتم تعيينهم بمرسوم سلطاني											

السؤال الرابع

السؤال الرابع		الدرجة الكلية ٨ درجات	
الجريئة	المفردة	الإجابة الصحيحة	الدرجة
أ	١	. السلطان . مجلس الوزراء . الشؤون المالية . السلطة القضائية . (لا يشترط الترتيب)	أربع درجات لكل مفردة درجة
ب	أ	الرقم (١)	درجة
ب	٢	بندر عباس	درجة
ج	١	الفرق بين أعلى درجة حرارة واقل درجة حرارة $٢٦ - ٩ = ١٧$ درجة (في حالة ذكر القانون نصف درجة)	درجة
	٢	هي الرياح التي تهب خلال فترات متفرقة ولمدة قصيرة من الزمن لا تتعدى الأسبوع ، وتنشأ بسبب الفروقات المحلية في درجات الحرارة والضغط الجوي ، ويقتصر ، ويقتصر أثرها على مناطق محدودة (بما يفيد المعنى)	درجة
			٣٣

انتهت الإجابة

نتمنى التوفيق لأبنائنا الطلاب