

سلطنة عمان

وزارة التربية والتعليم

المديرية العامة للتربية والتعليم لمحافظة جنوب الباطنة

الامتحان التجريبي لمادة الدراسات الاجتماعية للصف الثامن - الفصل الدراسي الثاني - الدور الأول

للعام الدراسي ٢٠١٣ / ٢٠١٤ م

٤٠

\* تنبيه الأسئلة في ( هـ ) ورقات \* زمن الإجابة: ساعة ونصف \* اسم الطالب : .....

السؤال الأول: ضع دائرة حول رمز الإجابة الصحيحة من بين البدائل المعطاة لكل عبارة من العبارات الآتية:

١ - السفينة العمانية التي شاركت بها السلطنة في مشروع طريق الحرير:

أ - شباب عمان      ب - فلك السلامة      ج - صحر      د - سلطانه

٢ - المكتشف الذي دار حول الارض:

أ - بارثليمو دياز      ب - أميركو فيسبوتشي      ج - ماجلان      د - جون كابوت

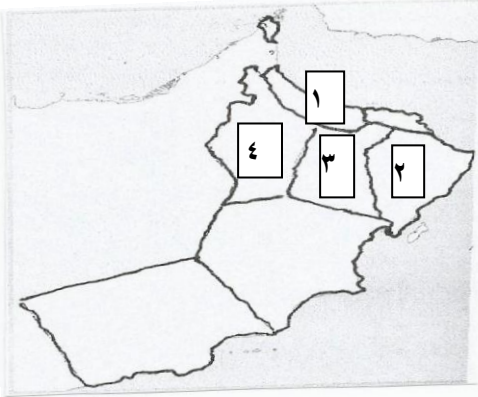
٣ - المحافظة التي احتلت الرتبة الأولى من حيث أعداد الافلاج بالسلطنة:

أ - ( ١ )

ب - ( ٢ )

ج - ( ٣ )

د - ( ٤ )



٤ - الرقم الذي يشير إلى الدولة الأوروبية التي بدأت بها

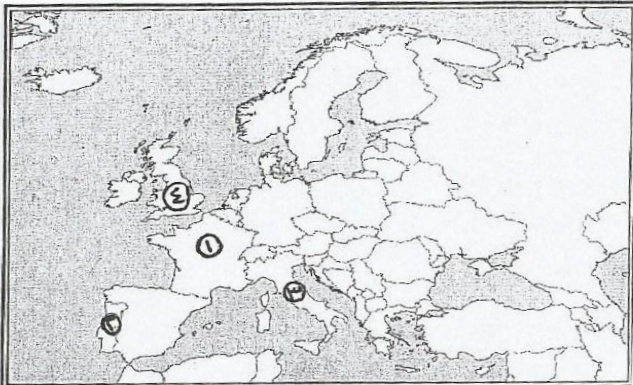
الثورة الصناعية من خلال الخريطة المقابلة:

أ - ( ١ )

ب - ( ٢ )

ج - ( ٣ )

د - ( ٤ )



٦ - الحالة التي لا توجد عليها المياه في الطبيعة :

أ - الصلبة      ب - السائلة      ج - المائية      د - الغازية

٧ - الشكل الذي يمثل المعالم الأثرية والسياحية بولاية نزوى :

أ - تنوف الجبل الأخضر فلج دارس قلعة الشهباء	ب - حديقة اليوبيل المغسيل جامع البيضاء الجبل الأخضر	ج - قلعة الجلاي فلج دارس حصن الحزم عين أرزات	د - تنوف عين الكسفة البليد فلج دارس
--	--	---	--

٨ - العامل العلمي الذي أسهم في قيام النهضة الأوروبية :

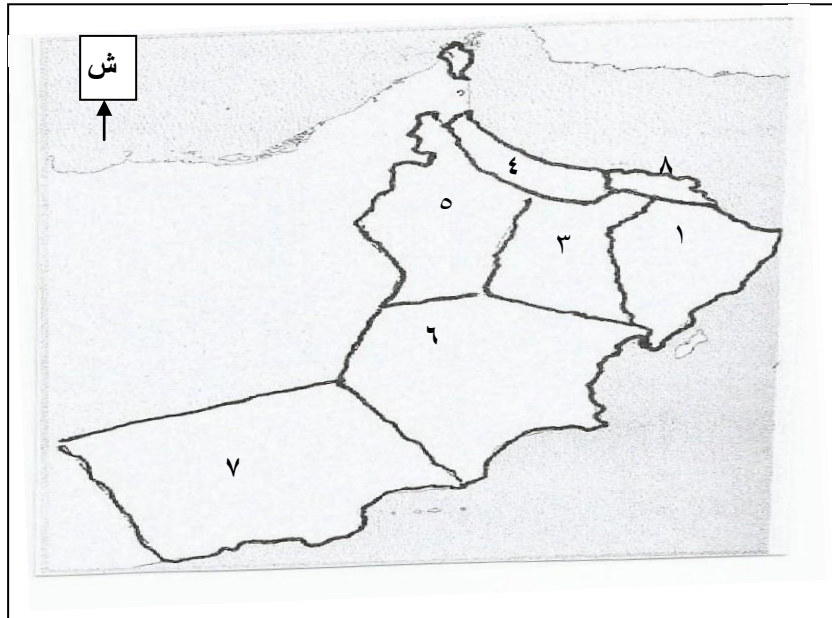
أ - ظهور المدن وازدهارها      ب - ظهور طبقة الاقطاعيين  
ج - اختراع الطباعة      د - ظهور مجتمعات جديدة ومتطورة

٣ - القلعة التي يوجد فيها البرج الأحمر :

أ - نزوى      ب - الحزم      ج - صحار      د - الرستاق

السؤال الثاني :

أولا - أمامك خريطة عمان الصماء . ادرسها ثم أجب على الأسئلة التي تليها :

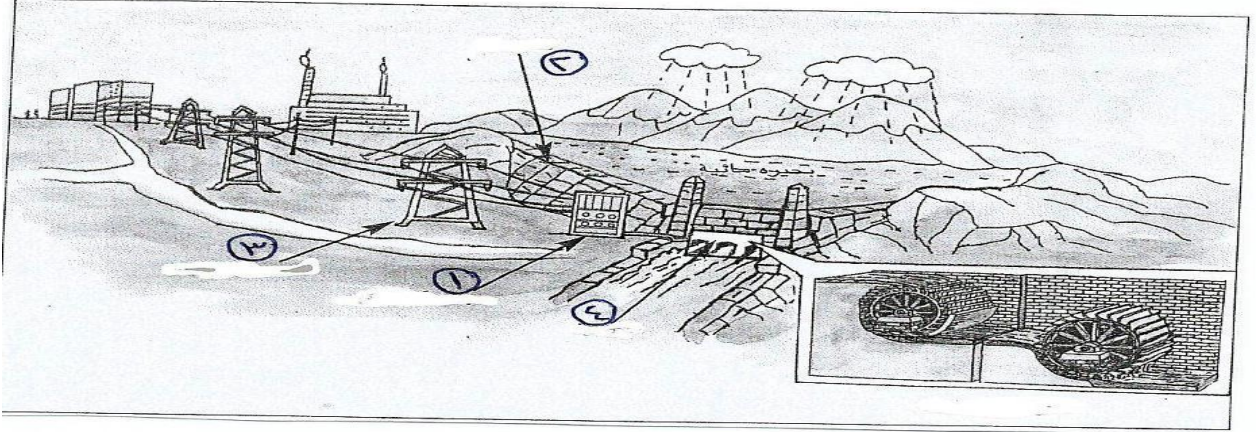


١ - رقم المحافظة التي تقع فيها ولاية مسقط ( )

٢ - ظلل المحافظة التي تحدها محافظة الداخلية من جهة الغرب

٣ - وقع على الخريطة البيانات التالية : (( بحر عمان , محافظة الوسطى ))

ثانيا : حل الصورة الآتية ثم أجب عن الأسئلة التي تليه :



أ\_ سم الأقسام المشار إليها بالأرقام بالصورة ( ٣ و ٤ )

٣ - .....

٤ - .....

ب\_ ما أهمية الأجزاء المشار إليها بالأرقام ( ١ و ٢ )

١ - .....

٢ - .....

ج\_ استنتج العامل الطبيعي في إنتاج الطاقة الكهربائية من خلال الصورة .

ثالثا: صنف الأفلاج التالية إلى أنواعها الثلاثة المرفقة بالجدول :

فلاج عين الحمام ، فلاج دارس ، فلاج المزارع ، فلاج الملكي

الأفلاج الداوودية	الأفلاج العينية	الأفلاج الغيلية

السؤال الثالث :

أولا :

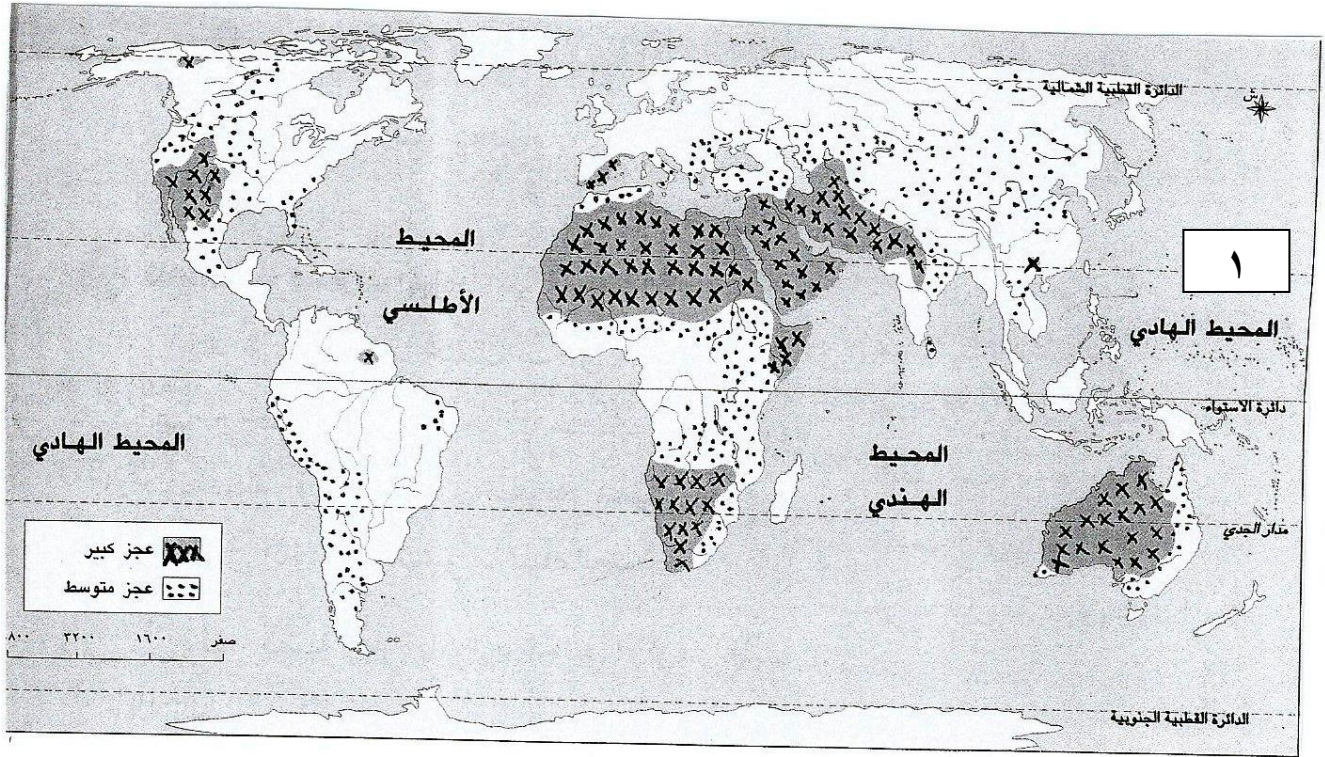
١\_ اذكر اثنين من الآثار الايجابية للثورة الصناعية على دول الخليج العربي .

.....

.....

٢\_ علل : إحاطة مسقط بالأسوار قديما .....

ثانيا : انظر إلى خريطة العالم ثم أجب على الأسئلة التي تليها :



١- أي العبارات التالية تعتبر صحيحة مع التعليل:

أ - تعاني قارة أوروبا من عجز مائي كبير (( ))

ب - تعاني قارة أفريقيا من عجز مائي كبير (( ))

.....

٢ - ما نوع العجز المائي الذي تعاني منه السلطنة ؟

.....

.....

٣ - وضح العلاقة بين العجز المائي في المنطقة العربية ودائرة العرض المشار إليها بالرقم ( ١ )

.....

.....



ثالثا : أذكر بعض المعالم السياحية والأثرية التي يمكن للسائح أن يزورها في ولاية الرستاق ؟

.....

.....

السؤال الرابع :

أولا : أكمل بيانات الجدول التالي

		<b>أوجسب المغاربة</b>
		الملاح صاحب الصورة
		الدولة التي انطلق منها
		أهم النتائج التي حققتها رحلته



ثانيا : ادرس الصورة المقابلة:

\_ استنتج المشكلة التي توضحها الصورة المقابلة

.....

٢ \_ نوع المشكلة بين تملح المياه والمشكلة التي توضحها الصورة .

.....

ثالثا \_

١ - علل : نشاط الحركة السياحية بمحافظة ظفار دون غيرها

من محافظات السلطنة في فصل الصيف .

.....

٢ - بين سبب البحث عن طريق تجاري يربط أوروبا بالهند .

.....

**استنتج الأسئلة مع التسميات الموضحة بالرموز والصور**