



امتحان مادة الدراسات الاجتماعية الصف الخامس

الفصل الدراسي الأول / الدور الأول

للعام الدراسي ١٤٣٤/١٤٣٥ هـ - ٢٠١٣/٢٠١٤ م

اسم الطالب : الصف :

الزمن : ساعة ونصف

المادة : الدراسات الاجتماعية

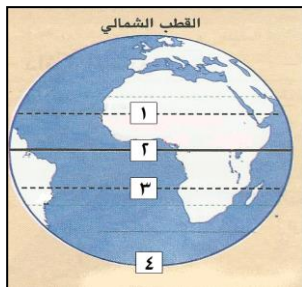
تنبيه : الأسئلة في اربع صفحات

(الإجابة في نفس الورقة)

أجب عن جميع الأسئلة الآتية :

السؤال الأول : ضع دائرة حول رمز الإجابة الصحيحة من بين البدائل المعطاه :-

- (١) تبلغ مساحة شبه الجزيرة العربية بالمليون كيلومتر مربع حوالي :
(أ) ٢ (ب) ٣ (ج) ٤ (د) ٥
- (٢) يختص بتحديد ما يؤخذ على الأراضي الزراعية التي أصبحت تحت سيطرة المسلمين ديوان :
(أ) الخراج (ب) البريد (ج) الجند (د) الخاتم
- (٣) يُطلق على الجبال الصخرية العالية القريبة من البحر أو الملاصقة له اسم :
(أ) القنطرة البحرية (ب) المسلة البحرية (ج) الجروف الصخرية (د) الأقواس البحرية
- (٤) يزيد ارتفاع الجبال العربية فوق مستوى سطح البحر بالمتري عن:
(أ) ٢٠٠٠ (ب) ٣٠٠٠ (ج) ٤٠٠٠ (د) ٥٠٠٠
- (٥) يقع نهر أم الربيع في:
(أ) المغرب (ب) العراق (ج) سوريا (د) لبنان
- (٦) تظهر الواحات الزراعية في الهضاب الصحراوية عند وجود :
(أ) الأنهار (ب) الشلالات (ج) الأودية (د) الينابيع
- (٧) يحكم الإمبراطورية الرومانية الشرقية إمبراطور يُلقب بـ :
(أ) الخليفة (ب) السلطان (ج) القيصر (د) المرزبان



(٨) الرقم الذي يشير الى دائرة الاستواء في الشكل المقابل:

- (أ) ١ (ب) ٢
(ج) ٣ (د) ٤

السؤال الثاني :

أ) عرف ما يلي :
١- السلسلة الجبلية .

٢- الطقس .

ب) ١- فسر سبب تسمية النباتات الطبيعية بهذا الاسم .

٢- رتب الأحداث التاريخية التالية من الأقدم إلى الأحدث باستخدام الأرقام التالية (١ ، ٢ ، ٣ ، ٤) :
() أصلح الرسول صلى الله عليه وسلم بين الأوس والخزرج
() غزوة بدر
() اشترى الرسول صلى الله عليه وسلم أرضاً لبناء المسجد
() غزوة الأحزاب

ج) صنف في الجدول الآتي القبائل العربية التالية الى عرب الجنوب (القحطانيون) وعرب الشمال (العدنانيون) :
(قريش – الأزدي – تميم – الغساسنة)

عرب الشمال (العدنانيون)	عرب الجنوب (القحطانيون)

السؤال الثالث :

أ) اعطِ مثالين على :

١- المواد التي يصنع منها البدو الرُّحْلَ مساكنهم :

٢- المشكلات التي تعاني منها التربة في الوطن العربي .

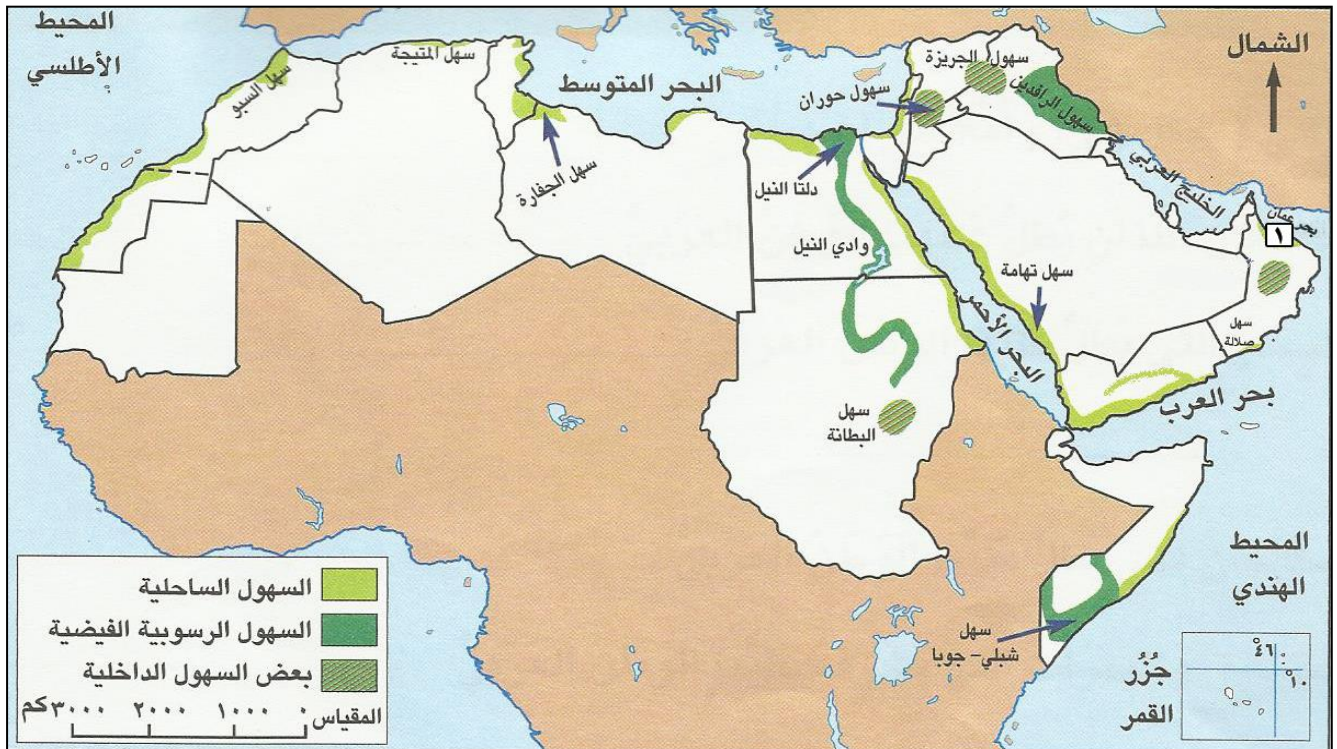
تابع السؤال الثالث :

(ب) - " شهدت خلافة أبي بكر الصديق حدثين مهمين كان لهما دور في توحيد المسلمين وتوسيع الدولة الإسلامية " في ضوء هذه العبارة استنتج هذين الحدثين .

١ -

٢ -

(ج) أمامك خريطة للسهول في الوطن العربي ادرسها جيدا ثم أجب عن الأسئلة التي تليها :

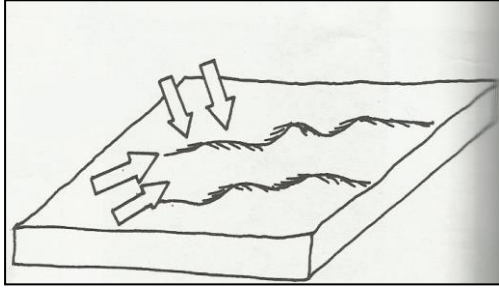


١ - سمّ السهل المشار إليه بالرقم (١) في الخريطة .

٢ - استخراج اسم السهل الموجود في المملكة المغربية .

السؤال الرابع :

(أ) أمامك شكل توضيحي لأحد أنواع الكثبان الرملية ادرسه جيدا ثم أجب عن الأسئلة التي تليه :



- ١- حدد نوع الكثبان الرملية في الشكل المقابل .
- ٢- استنتج العامل المؤثر في تكوين هذا النوع من الكثبان .

(ب)

١ - دال بمثالين على فوائد إقامة السدود على الأنهار الكبرى في الوطن العربي .

٢- في ضوء دراستك لموضوع " أصل العرب وموطنهم " استخلص اثنتين من العادات الحسنة التي اتصف بها العرب منذ القدم .

(ج) أمامك خريطة طرق التجارة في شبه الجزيرة العربية قديما ادرسها جيدا ثم أجب عن الأسئلة التي تليها :



- ١ - الرقم الذي يشير إلى رحلة الشتاء عند العرب قديما () .
- ٢ - الرقم الذي يشير إلى رحلة الصيف عند العرب قديما () .

انتهت الأسئلة مع تمنياتنا لكم بالنجاح والتوفيق،،،



نموذج الإجابة امتحان الصف الخامس للعام الدراسي ٢٠١٣/٢٠١٤م

الدور الأول - الفصل الدراسي الأول

المادة الدراسات الاجتماعية - الدرجة الكلية ٤٠ درجة

إجابة السؤال الأول : (٦ درجة) لكل مفردة درجتان عدد أوراق الإجابة (٢)

رقم المفردة	١	٢	٣	٤	٥	٦	٧	٨
رمز الإجابة	ب	أ	ج	ب	أ	د	ج	ب
الإجابة	٣ مليون	الخراج	الجروف الصخرية	٣٠٠٠	المغرب	الينابيع	القيصر	٢
الصفحة	١٣	١٠٤	٢٤	٣١	٥٨	٣٥	٨٢	١٥
الدرجة	٢	٢	٢	٢	٢	٢	٢	٢

إجابة السؤال الثاني (٨ درجات)

المفردة	الإجابة	الدرجة	الصفحة
أ	١- السلسلة الجبلية : الجبال المتصلة مع بعضها البعض	١	٣١
	٢- الطقس: الأحوال الجوية لفترة قصيرة لا تزيد عن ٢٤ ساعة (يوم)	١	٤٤
ب	١- لأنها تنمو من تلقاء نفسها .	٢	٦٥
	٢- الترتيب : - (٢) أصلح الرسول صلى الله عليه وسلم بين الأوس والخزرج - (٣) غزوة بدر - (١) اشترى الرسول صلى الله عليه وسلم أرضا لبناء المسجد - (٤) غزوة الأحزاب	٢	٩٢-٩٣
ج	ج -	٢	١١
	عرب الشمال (العدنانيون) عرب الجنوب (القحطانيون) الأزد تميم الغساسنة	٢	١١

إجابة السؤال الثالث (٨ درجات)

المفردة	الإجابة	الدرجة	الصفحة
أ	١- شعر الماعز - صوف الاغنام - وبر الجمال - سعف النخيل. يكتفى باثنين لكل درجة	٢	٥٢
	٢- الانجراف - الملوحة - تدهور أو فقدان خصوبة التربة. يكتفى باثنين لكل درجة	٢	٦٤
ب	ب- ١- القضاء على حروب الردة. ٢- بدء الفتوحات الاسلامية. لكل درجة	٢	١٠٠
ج	١- الباطنة. ٢- السيو.	١ ١	٢٢

إجابة السؤال الرابع (٨ درجات)

المفردة	الإجابة	الدرجة	الصفحة
أ	١ - الكتبان الطولية. ١- الرياح. لكل درجة	١ ١	٤١
ب	١- ضبط الفيضان - حجز المياه وتوفيرها في فترات الجفاف للري - تزويد المدن بماء الشرب - استخدامها في التوسع الصناعي .	٢	٥٨
	٢- اكرام الضيف - حماية المستجير بهم - الصدق - الأمانة في التعامل مع الآخرين . يكتفى باثنين لكل درجة	٢	١٢
ج	١ - ١ ٢ - ٢ لكل درجة	٢	٧٤-٧٣

نهاية نموذج الإجابة ،،