



سلطنة عمان

وزارة التربية والتعليم

المديرية العامة للتربية والتعليم بمحافظة ظفار

٤٠

الامتحان النهائي للصف الخامس (الأساسي/العام)
للعام الدراسي ١٤٣٣هـ/١٤٣٤هـ - ٢٠١٢م/٢٠١٣م
الفصل الدراسي الأول-الدور الأول

الزمن: ساعة ونصف

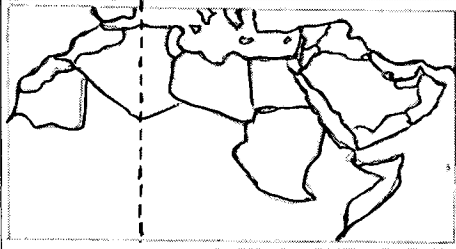
(الدرجة الكلية للامتحان: ٤٠ درجة)

المادة: الدراسات الاجتماعية

تنبيه: الأسئلة في ٤ صفحات الاسم: الصف:

١٦

السؤال الأول : ضع دائرة حول الرمز الدال على الإجابة الصحيحة من بين البدائل المعطاة:-



١- النشاط الاقتصادي الأكثر ممارسة في السهول الساحلية منذ القدم هو :-

أ- الصناعة ب- الزراعة ج- الرعي د- التجار

٢- الدولة العربية التي يمر بها خط غرينتش:

أ- الجزائر ب- ليبيا ج- مصر د- السودان

٣- نستفيد من محطة الخبرة الواضحة في الصورة في :-

أ- تحلية المياه ب- تصفية النفط ج- توليد الكهرباء د- ضخ المياه

٤- يعيش سالم في مدينة هيماء فيتوقع أن يكون الجو ليلا في فصل الشتاء :-

أ- حارا ب- بارد ج- معتدل د- رطب

٥- ظهر العجز المائي في الوطن العربي بسبب :-

أ- قلة الأمطار ب- قلة الأنهار ج- تسرب المياه د- قلة العيون

٦- المنطقة التي تنمو فيها النباتات بشكل قليل ومتفرق هي:-

أ- الساحلية ب- السهلية ج- الصحراوية د- الهضاب

٧- الدولة العربية التي كانت تسيطر عليها الدولة الفارسية قديما هي:-

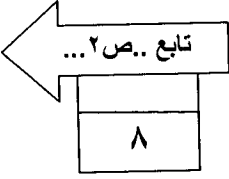
أ- مصر ب- سوريا ج- المغرب د- العراق

٨- أول مواجهة عسكرية يقوم بها المسلمون خارج حدود شبه الجزيرة العربية مع الروم غزوة:-

أ- خيبر ب- مؤتة ج- الخندق د- أحد

السؤال الثاني

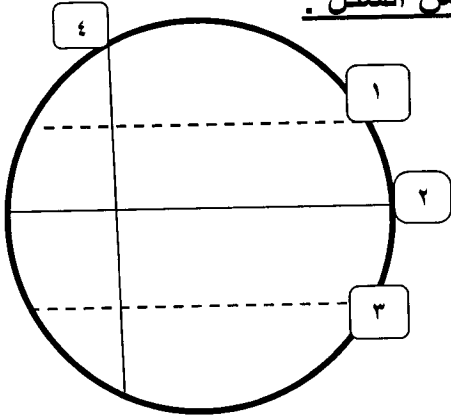
أولاً:



أ- اذكر اثنين من الصفات التي يجب أن تتوافر في شيخ القبيلة؟

ب - فسر: تنقل البدو في الصحراء من مكان لآخر؟

ثانياً (أنظر إلى الشكل المقابل ثم ضع أمام كل عبارة الرقم المناسب لها من الشكل):



- الرقم الذي يشير إلى خط غرنتش (.....)
- الرقم الذي يشير إلى مدار السرطان (.....)
- الرقم الذي يشير إلى مدار الجدي (.....)
- الرقم الذي يشير إلى دائرة الاستواء (.....)

ب - ما أهمية موقع الوطن العربي؟ (يكتفي بذكر سبب واحد فقط)

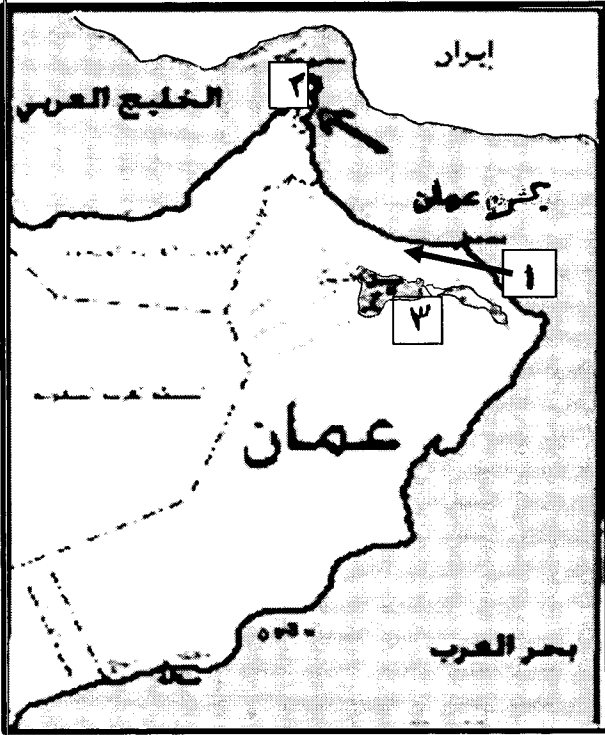
ثالثاً:- علل لما يأتي :-

أ - يفضل السكان العيش في هضبة اليمن؟

ب - بناء السدود على الأنهار الرئيسية والأودية؟ (يكتفي بذكر اثنتان فقط).

السؤال الثالث:-

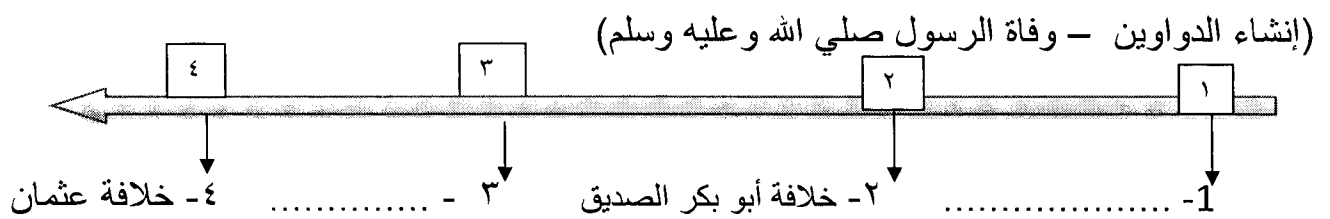
أولاً: انظر إلى خريطة سلطنة عمان ثم اجب عن الأسئلة التالية:



- أ- السهل المشار إليه بالرقم (١)
- ب- الظاهرة الطبيعية الموجودة في المحافظة (٢) والتي تظهر عند اختفاء السهول الساحلية
- ج- المنطقة الجبلية المشار إليها بالرقم (٣)
- د- استخرج البحر الذي تطل عليه جبال ظفار

ثانياً

أ- اعد ترتيب الأحداث التاريخية من الأقدم إلى الأحدث على المسطرة الزمنية.



ثالثاً:-

أ - ينقسم العرب حسب أصولهم إلي فرعين رئيسيين هما.

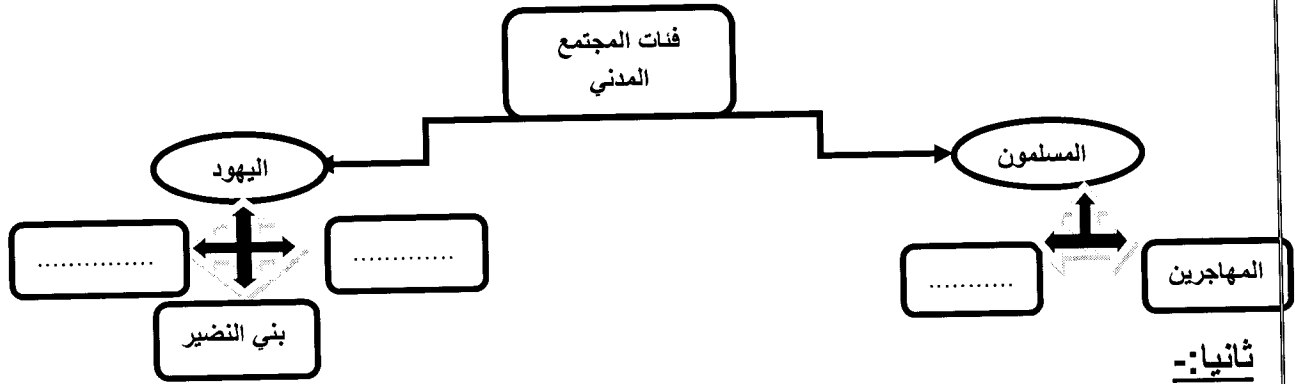
ب- ما السبب وراء هجرة العرب من جنوب شبه الجزيرة العربية قبيل الإسلام ؟ (يكتفي بسبب واحد)

السؤال الرابع:-

أولاً: أ- ما المقصود بالطقس؟:-

٨
تابع..ص...؛

ب- أكمل مخطط فئات المجتمع المدني في عهد الرسول صلي الله و عليه وسلم .



ثانياً:-

أ- قارن بين الموارد المائية السطحية والجوفية من حيث فترة الجريان وأمثلة عليهما كما هو في الجدول:-

الموارد المائية الجوفية	الموارد المائية السطحية	وجه المقارنة
.....	فترة الجريان
.....	الأمثلة عليها

ثالثاً:-

أ- ظهرت في الدولة الفارسية العديد من المناصب الإدارية، صنف في الجدول التالي المهام التي يقوم بها الحاكم والأخرى التي يقوم بها الكاتب(إرسال التقارير إلى العاصمة - تنظيم أمور الدولة)

الكاتب	الحاكم

انتهت الأسئلة مع تمنياتي لكم بالتوفيق والنجاح

نموذج الإجابة لمادة الدراسات الاجتماعية للصف الخامس الدور الأول للفصل الدراسي الأول
للعام الدراسي ٢٠١٢/٢٠١٣م

أولاً: الأسئلة الموضوعية (الاختيار من متعدد)

إجابة السؤال الأول				
المفردة	البديل الصحيح	الرمز	الدرجة	الصفحة
١	الزراعة	ب	٢	٢٥
٢	الجزائر	أ	٢	١٧
٣	محطة تحلية المياه	أ	٢	٦٠
٤	باردا	ب	٢	٤٩
٥	قلة الأمطار	أ	٢	٥٩
٦	الصحراوية	ج	٢	٦٥
٧	العراق	د	٢	٧٩
٨	موته	ب	٢	٩٥
المجموع			١٦ درجة	

ثانياً: الأسئلة المقالية.

إجابة السؤال الثاني

الجزئية	المفردة	الإجابة الصحيحة	الدرجة	الصفحة
أولاً	أ	- قوة الشخصية - الشجاعة - الكرم	درجة لكل إجابة نصف درجة	٧٠
	ب	- طلبا للعشب والماء	درجة	٥٢
ثانياً	أ	خط غرينتش رقم ٤ مدار السرطان رقم ١ مدار الجدي رقم ٣ دائرة الاستواء رقم ٢	درجتان لكل إجابة نصف درجة	١٦
	ب	(يكتفى بذكر سبب واحد فقط) - توسطه قارات العالم القديم (أفريقيا، آسيا، أوروبا) - يشرف على البحار والمحيطات - التواصل الحضاري - اكتشاف النفط	درجه	١٩
ثالثاً	أ	بسبب تساقط كميات كبيرة من الأمطار وممارسة السكان لحرفة للزراعة والرعي	درجة	٣٥
	ب	يكتفى بذكر اثنين - لضبط الفيضانات - لحجز المياه وتوفيرها في وقت الجفاف - تزويد المدن بماء الشرب - للتوسع الصناعي	درجتان لكل إجابة درجة	٥٨
المجموع			٨ درجات	

إجابة السؤال الثالث

الصفحة	الدرجة	الإجابة الصحيحة	المفردة	الجزئية
٢٢	درجة	سهل الباطنة	أ	أولا
٢٤	درجة	الجروف الصخرية	ب	
٣١	درجة	جبال الحجر	ج	
٣١	درجة	بحر العرب	د	
١٠٠- ١٠٣	درجتان لكل إجابة درجة	١- وفاة الرسول صلى الله عليه وسلم ٤- إنشاء الدواوين	أ	ثانيا
١١	درجة لكل اجابة نصف درجة	عرب الشمال (العدنانيون) - عرب الجنوب (القحطانيون)	أ	ثالثا
١٢	درجة	- يكتفي بذكر سبب واحد فقط - تزايد عدد السكان - طلبا للعشب والماء - انهيار سد مأرب في اليمن	ب	
٨ درجات		المجموع		

إجابة السؤال الرابع

الصفحة	الدرجة	الإجابة الصحيحة	المفردة	الجزئية									
٤٤	درجة	- الأحوال الجوية لفترة قصيرة من الزمن لا تزيد عن ٢٤ ساعة (يوم) وهو ما نلاحظه من مطر أو سحب، أو ما نحس به من برودة أو حرارة أو رياح.	أ	أولا									
٩١	ثلاث درجات لكل إجابة درجة	المسلمون (الأنصار) - (اليهود) (بني قينقاع- بني قريظة)	ب										
٥٩-٥٨	درجتان لكل إجابة نصف درجة	<table border="1"> <tr> <td>وجه المقارنة</td> <td>الموارد المائية السطحية</td> <td>الموارد المائية الجوفية</td> </tr> <tr> <td>فترة الجريان</td> <td>مؤقتة</td> <td>دائمة الجريان</td> </tr> <tr> <td>الأمثلة</td> <td>الأنهار - الأودية</td> <td>الآبار- الأفلاج- العيون</td> </tr> </table>	وجه المقارنة	الموارد المائية السطحية	الموارد المائية الجوفية	فترة الجريان	مؤقتة	دائمة الجريان	الأمثلة	الأنهار - الأودية	الآبار- الأفلاج- العيون	أ	ثانيا
وجه المقارنة	الموارد المائية السطحية	الموارد المائية الجوفية											
فترة الجريان	مؤقتة	دائمة الجريان											
الأمثلة	الأنهار - الأودية	الآبار- الأفلاج- العيون											
٧٩	درجتان لكل إجابة درجة	<table border="1"> <tr> <td>الحاكم</td> <td>الكاتب</td> </tr> <tr> <td>تنظيم أمور الدولة</td> <td>إرسال التقارير إلى العاصمة</td> </tr> </table>	الحاكم	الكاتب	تنظيم أمور الدولة	إرسال التقارير إلى العاصمة	أ-	ثالثا					
الحاكم	الكاتب												
تنظيم أمور الدولة	إرسال التقارير إلى العاصمة												
٨ درجات		المجموع											

انتهى نموذج الإجابة